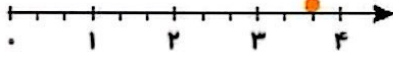




۱ درست  و نادرستی  هر عبارت را مشخص کن.

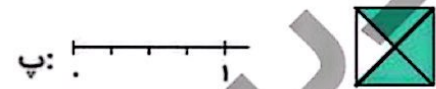
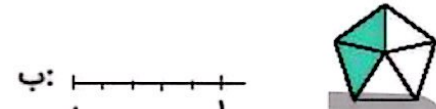
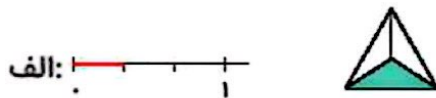
الف: با توجه به محور، نقطه‌ی مشخص شده ۳ واحد و ۲ قسمت از ۳ قسمت مساوی است.



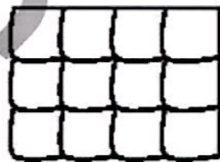
ب: با توجه به شکل زیر ۲ قسمت از ۴ قسمت مساوی رنگ شده است.



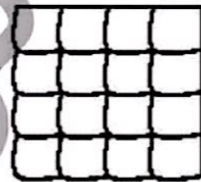
۲ با توجه به واحدها و قسمت‌های رنگ شده از هر شکل، از محور کنار آن رنگ کن. (مانند نمونه)



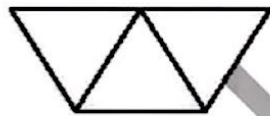
۲ با توجه به قسمت‌های خواسته شده شکل را رنگ کن.



ب: ۸ قسمت از ۱۲ قسمت مساوی رنگ شده.



الف: ۱۲ قسمت از ۱۶ قسمت مساوی رنگ شده.



ت: ۱ قسمت از ۳ قسمت مساوی رنگ شده.



پ: ۲ قسمت از ۳ قسمت مساوی رنگ شده.

