



## کار در کلاس

۱- از آموزگار تعداد دانش آموزان کلاس های مدرسه ی خودتان را بپرسید و جدول را کامل کنید.

سپس تعداد تقریبی هر کلاس را پیدا کنید.

کلاس	اول	دوم	سوم	چهارم	پنجم	ششم
تعداد دانش آموزان						
تعداد تقریبی						

با در نظر گرفتن یک  برای هر ۱۰ دانش آموز، نمودار را کامل کنید.



۲- تعداد خانه ها در چند خیابان در جدول زیر مشخص شده است. اگر هر ۱۰ خانه را با نشان دهیم، جدول را کامل کنید.

نام خیابان	تعداد خانه ها	نمودار تصویری
انقلاب	۴۰	
آزادی	۶۰	
استقلال		
امام رضا		






کار در  
کلاس





۱- از آموزگار تعداد دانش‌آموزان کلاس‌های مدرسه‌ی خودتان را پرسید و جدول را کامل کنید.  
سپس تعداد تقریبی هر کلاس را پیدا کنید.

کلاس	اول	دوم	سوم	چهارم	پنجم	ششم
تعداد دانش‌آموزان	78	93	67	54	76	45
تعداد تقریبی	80	90	70	50	80	50

با در نظر گرفتن یک  برای هر ۱۰ دانش‌آموز، نمودار را کامل کنید.




۲- تعداد خانه‌ها در چند خیابان در جدول زیر مشخص شده است. اگر هر ۱۰ خانه را با  نشان دهیم، جدول را کامل کنید.

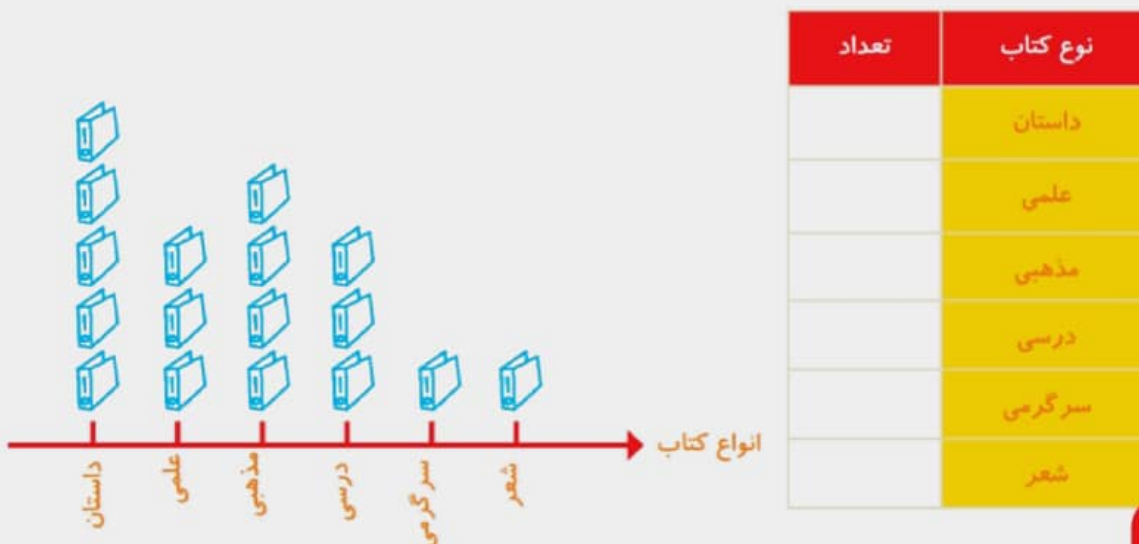
نمودار تصویری	تعداد خانه‌ها	نام خیابان
	۴۰	انقلاب
	۶۰	آزادی
	۵۰	استقلال
	۳۵	امام رضا



۱- تعداد درخت‌های سرو در چند خیابان شهر سروستان شمرده شده است. این عددها به صورت تقریبی نوشته شده‌اند. اگر هر ۱۰ درخت را با  نشان دهیم، جدول را کامل کنید.

نام خیابان	تعداد درخت‌ها	نمودار تصویری
سعدی	۵۰	
حافظ	۴۰	
مولوی	۶۵	


۲- تعداد کتاب‌های کتابخانه‌ی دبستان شهید فهمیده در موضوعات مختلف با عدد تقریبی در جدول زیر مشخص شده است. اگر هر ۱۰۰ کتاب را با  نشان دهیم، با توجه به نمودار جدول را کامل کنید.






**کامل کن**

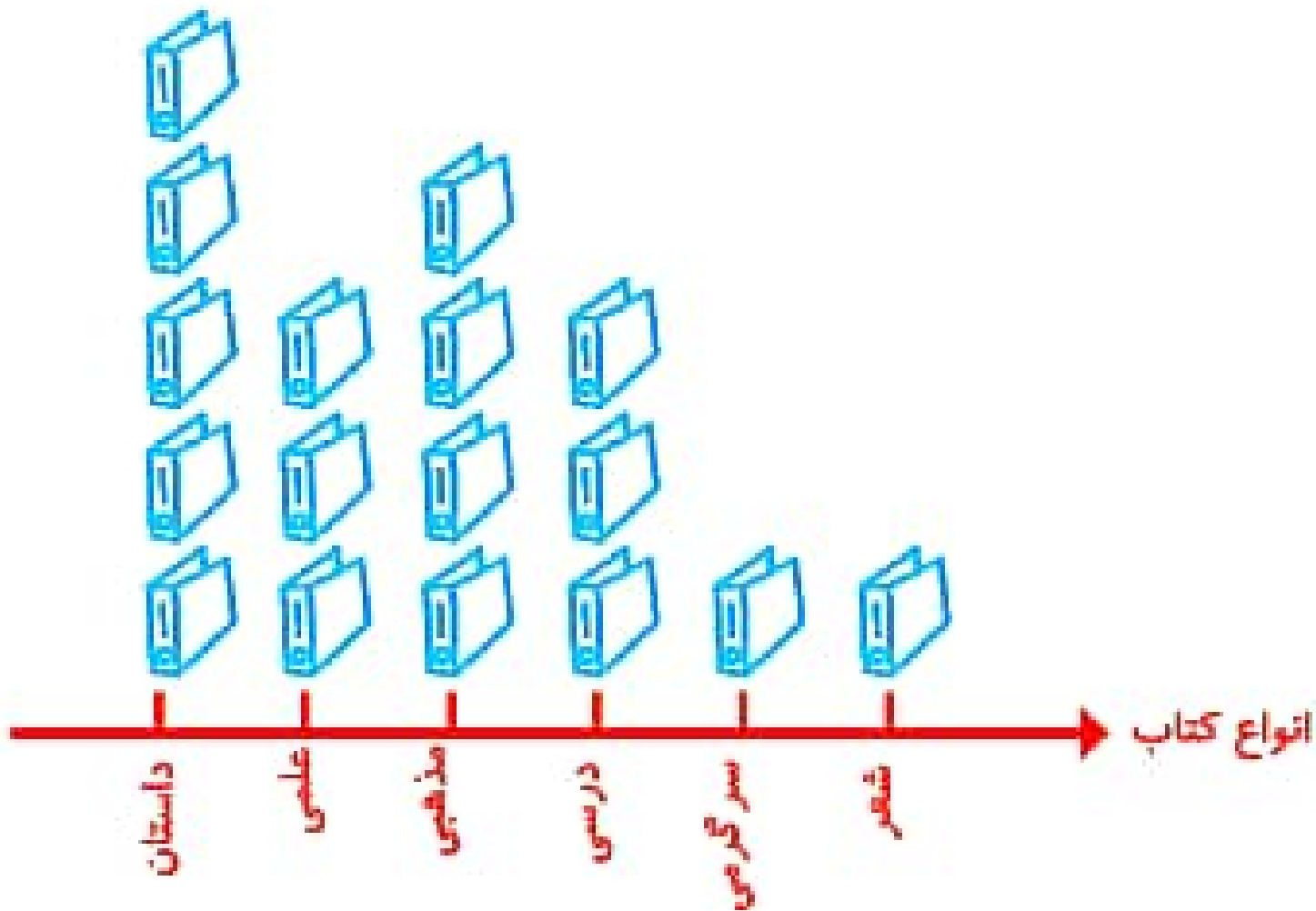
جاهای خالی را کامل کنید.

۱۴	➔ +۳		➔ -۵	
۱۹				
		۲۹		
				۱۵

۱- تعداد درخت‌های سرو در چند خیابان شهر سروستان شمرده شده است. این عددها به صورت تقریبی نوشته شده‌اند. اگر هر ۱۰ درخت را با  نشان دهیم، جدول را کامل کنید.



نمودار تصویری	تعداد درخت‌ها	نام خیابان
	۵۰	سعدی
	۴۰	حافظ
	۶۵	مولوی



تعداد	نوع کتاب
۵۰۰	داستان
۳۰۰	علمی
۶۰۰	مذهبی
۳۰۰	درسی
۱۰۰	سرگرمی
۱۰۰	شعر

17

19

۲۹

۱۷



۲۰

۲۲

۲۹

۲۰



۱۵

۱۷

۲۲

۱۵