

— کدام رنگ را دانش آموزان این کلاس بیشتر از همه دوست دارند؟ **آبی**


— کدام رنگ را دانش آموزان این کلاس کمتر از همه دوست دارند؟ **زرد**

— اگر قرار باشد برای دانش آموزان این کلاس لباس ورزشی تهیه شود، بهتر است چه رنگی انتخاب شود؟ چرا؟

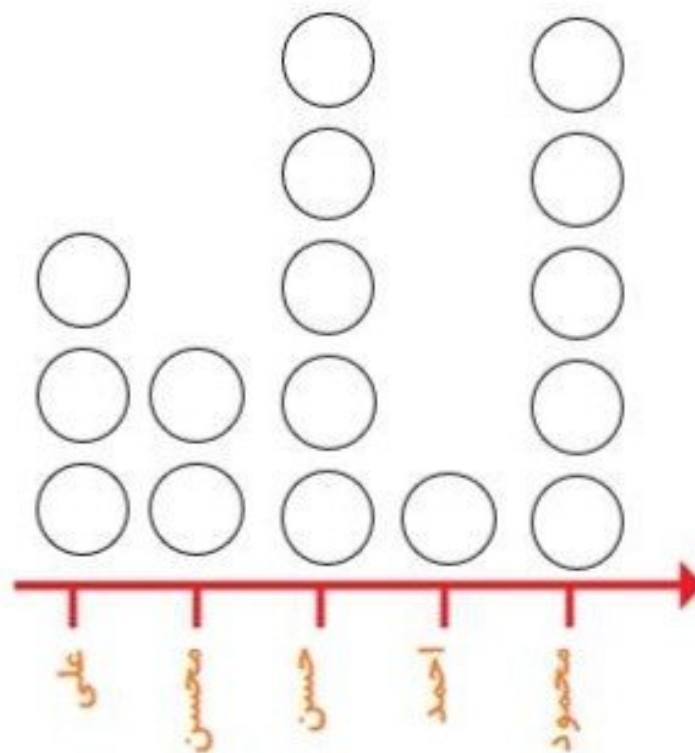
— **آبی ، چون تعداد دانش آموزان علاقه مند به رنگ آبی از همه بیشتر است .**

— این کلاس چند دانش آموز دارد؟ **۲۶ نفر** $9 + 8 + 5 + 4 = 26$

۲- در یک روستا ۵ دانش آموز تعداد گوسفندان خود را شمردند و در کلاس اعلام کردند. آموزگار جدول زیر را درست کرد. با کامل کردن آن، نمودار تصویری تعداد گوسفندان را رسم کنید. برای هر ۱۰ گوسفند یک بکشید.



نام دانش آموز	علی	محسن	حسن	احمد	محمود
تعداد گوسفندان	۳۱	۱۹	۴۷	۱۲	۵۲
تعداد تقریبی	۳۰	۲۰	۵۰	۱۰	۵۰



۳- از ساعت ۷ صبح تا ۷ شب چه کارهایی انجام دادید؟ برای هر کار چند ساعت وقت گذاشتید؟ جدول را کامل کنید. برای هر ساعت یک قسمت از شکل را به رنگ داده شده رنگ آمیزی کنید.



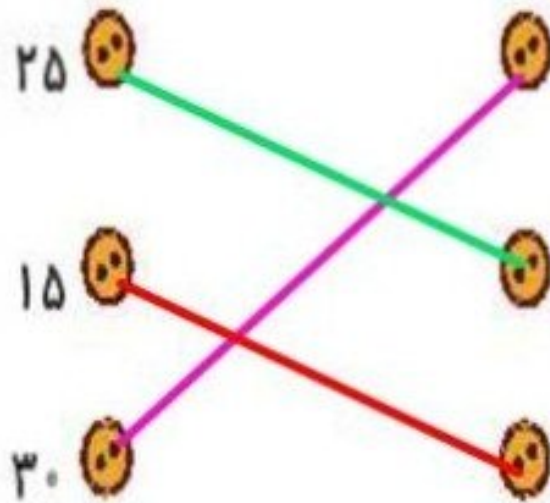
سبز	آبی	قرمز	زرد	
مدرسه رفتن	درس و تکلیف	تلویزیون دیدن	سایر کارها	کارهای انجام شده
۸	۱	۱	۲	ساعت



تمرین



۱ اگر هر نشان دهنده ی ۱۰ و هر نشان دهنده ی ۵ باشد، هر عبارت را به پاسخ صحیح آن وصل کن.



<input type="text"/>	<input type="text"/>	<input type="text"/>
<input type="text"/>	<input type="text"/>	<input type="text"/>
<input type="text"/>	<input type="text"/>	<input type="text"/>

۲ درست  و نادرست  هر عبارت را مشخص کن.

الف: یک ساختمان ۳ طبقه دارد و تعداد واحدهای آن ۲۴ نامی شود. این ساختمان در هر طبقه ۷ واحد دارد. 

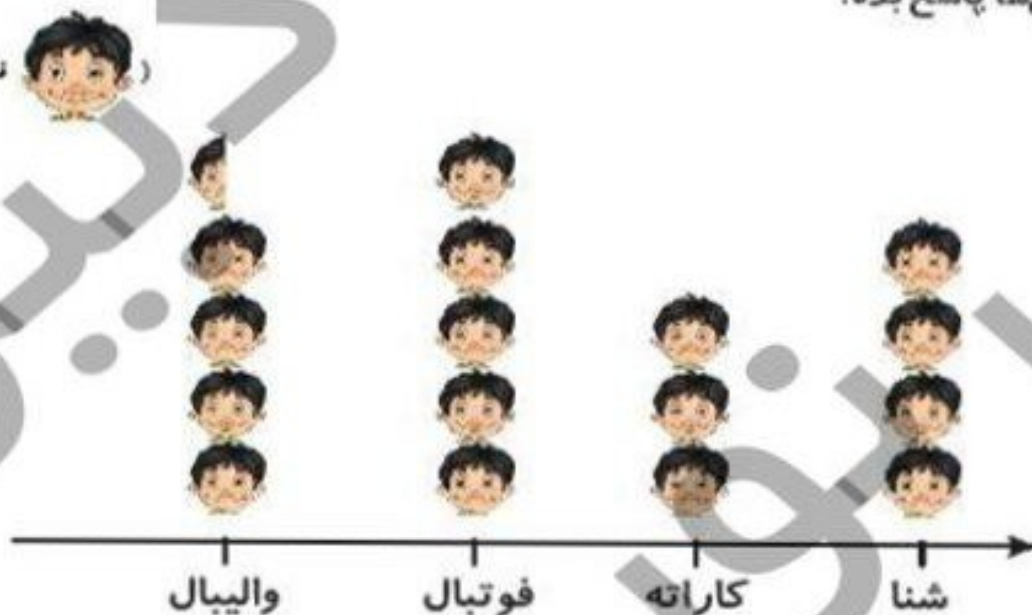
ب: اگر  برابر با ۱۰۰ باشد حاصل شکل  برابر با ۴۰۰ است. 

صفحه ی ۱۹۸ کتاب کار ریاضی

۲ برنا در بین کلاس دومی‌های علوی، برای چهار رشته‌ی ورزشی، آمار علاقه‌مندی را به شکل نمودار تصویری کشیده است.

با توجه به نمودار به پرسش‌ها پاسخ بده.

(نشانه‌ی ۱ نفر علاقه‌مند است.)



الف: کدام ورزش بیش‌ترین علاقه‌مند را دارد؟ ... **فوتبال**

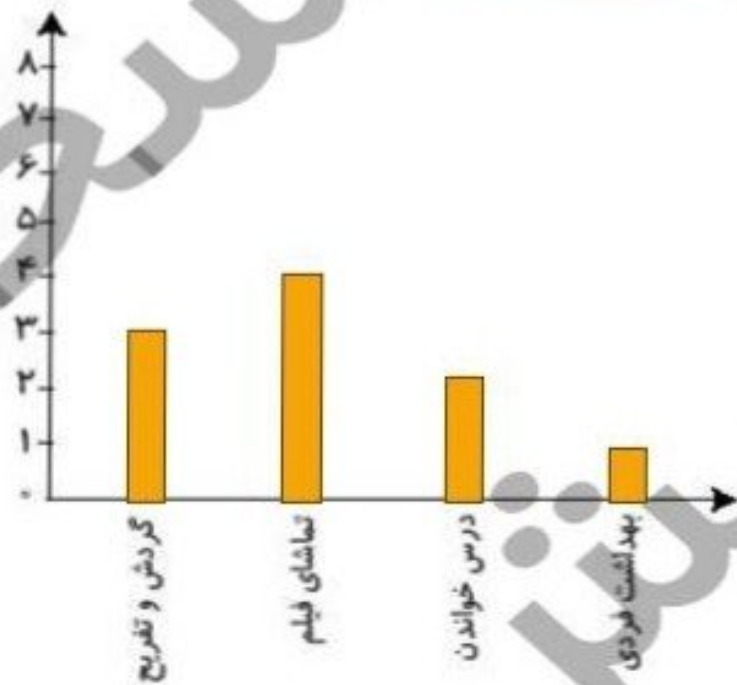
ب: چند نفر به ورزش والیبال علاقه دارند؟ ... **۴۵ نفر**

پ: علاقه‌مندان به کدام ورزش کم‌ترین تعداد را دارند؟ ... **کاراته**



۱ بعضی از کارهایی که برنا در یک روز انجام داده، در جدول زیر نوشته شده است. برای هر ساعت یک قسمت از شکل داده شده را رنگ آمیزی کن سپس نمودار ستونی را برای آن رسم کن.

بهداشت فردی	گردش و تفریح	تماشای فیلم	درس خواندن	کارهای انجام داده
۱	۳	۴	۲	ساعت



صفحه ی ۲۰۴ کتاب کار ریاضی

در یک باغ وحش تعدادی حیوان نگه داری می شوند، پس از کامل کردن جدول، نمودار تصویری را رسم کن.

۲



نام حیوان	میمون	فیل	پرنده	شیر
تعداد	۱۸	۳۷	۲۵	۱۲
تعداد تقریبی	۲۰	۴۰	۳۰	۱۰

(هر ۱۰ حیوان را با \triangle نشان بده.)

