



موضوع:

تاریخ:

نام و نام خانوادگی:

هدف:

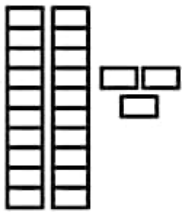
۶- مانند نمونه کامل کن و به سؤال های زیر پاسخ بده.



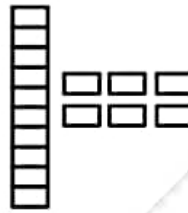
۸ فرد (زوج)



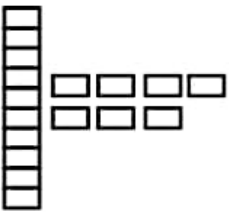
.....
زوج فرد



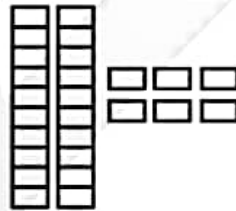
.....
زوج فرد



.....
زوج فرد



.....
زوج فرد



.....
زوج فرد

اولین عدد فرد بعد از عدد ۹ چه عددی است ؟

اولین عدد زوج بعد از عدد ۲۰ چه عددی است ؟


فکر می کنی عدد ۵۸۲ زوج است یا فرد ؟

۷- در هر دسته دور اعداد فرد ، خط بسته بکش .



۸- در هر قسمت عددهای خواسته شده را بنویس

عددهای زوج بین ۲۰ تا ۴۰ را بنویس .





موضوع:

تاریخ:

نام و نام خانوادگی:

هدف:

۲۶ - امید و نوید می خواستند نمودار دانش آموزان مدرسه ی خودشان را رسم کنند . تعداد دانش آموزان هر پایه به شرح زیر است :

پایه ی چهارم ← ۸۹ نفر

پایه ی اول ← ۱۲۶ نفر

پایه ی پنجم ← ۱۱۸ نفر

پایه ی دوم ← ۹۳ نفر

پایه ی ششم ← ۹۱ نفر

پایه ی سوم ← ۱۲۱ نفر

امید و نوید برای اینکه بتوانند این تعداد را به راحتی روی نمودار را نشان دهند . هر ۱۰ دانش آموز را با یک نشان دادند .

با توجه به اطلاعات داده شده و تصمیم امید و نوید ، جدول و نمودار را کامل کن .

پایه	تعداد	تعداد تقریبی	نمودار تصویری
اول	۱۲۶	۱۳۰	<input type="checkbox"/> <input type="checkbox"/> <input type="checkbox"/> <input type="checkbox"/> <input type="checkbox"/> <input type="checkbox"/> <input type="checkbox"/> <input type="checkbox"/> <input type="checkbox"/> <input type="checkbox"/> <input type="checkbox"/> <input type="checkbox"/> <input type="checkbox"/> <input type="checkbox"/> <input type="checkbox"/> <input type="checkbox"/>
دوم	۹۳	۹۰	<input type="checkbox"/> <input type="checkbox"/> <input type="checkbox"/> <input type="checkbox"/> <input type="checkbox"/> <input type="checkbox"/> <input type="checkbox"/> <input type="checkbox"/> <input type="checkbox"/>
سوم	۱۲۱		
چهارم			
پنجم			
ششم			



ششم پنجم چهارم سوم دوم اول

تعداد دانش آموزان کدام پایه از همه بیش تر است ؟

کدام پایه کم ترین تعداد دانش آموز را دارد ؟

مجموع پایه های چهارم و پنجم و ششم چند نفر است ؟