



شماره‌ی

۲۰

# ارمغان هفته - دوم دبستان

نام و نام خانوادگی: ..... تاریخ: ..... نام آموزگار: .....

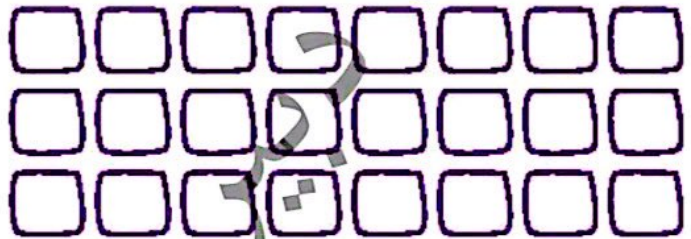

ریاضی < فصل ۸ آمار و نمودار: حل مسئله - روش‌های نمادین - نمودار تصویری

علوم < درس ۱۴: از گذشته تا آینده (نان) (۲)

فارسی < درس ۱۷: مثل دانشمندان (۱)

## ریاضی

با استفاده از تصاویر جاهای خالی را کامل کنید.



دسته‌ی ..... تایی می‌شود

دسته‌ی ..... تایی می‌شود

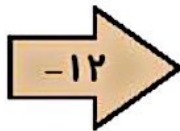
دسته‌ی ..... تایی می‌شود

دسته‌ی ..... تایی می‌شود


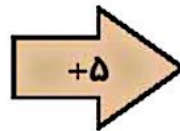
جاهای خالی را کامل کنید.

۱۵

۱۸





۲۹



۳ سرشماری یک شبکه‌ی تلویزیونی در ارتباط با برنامه‌های مختلف به صورت زیر است.

برنامه	اخبار	مستند	فیلم سینمایی	کمدی	کارتون	سریال
تعداد	۷۹	۴۵	۱۱	۹۲	۸۸	۲۳
تقریب						

با توجه به این اطلاعات: ابتدا اعداد تقریبی را بنویسید. سپس نمودار تصویری زیر را کامل کنید. (هر  نشان دهنده‌ی ۱۰ نفر است.)



نسخه

دبیر


۴ عددی را پیدا کنید که اگر با ۳۴ جمع کنیم حاصل آن ۷۶ شود.

+ ۳۴ = ۷۶

کار

علوم

۱ با توجه به تصاویر کدام روش برای پخت نان مناسبتر است؟ چرا؟



تور سنتی



تور مکانیزه

.....


.....

.....

با استفاده از کلمات داخل کمانک جمله‌های زیر را کامل کنید.

- الف) برای تهیه خمیر به آرد ..... و ..... اضافه می‌کنند. (آبلیمو - شکر / آب - خمیرمایه)  
ب) در گذشته بیش‌تر مردم در ..... نان مورد نیازشان را می‌پختند. (فر - تنور)  
پ) به کسی که نان را می‌پزد ..... می‌گویند. (قناد - نانوا)  
ت) به قسمت‌هایی از نان که خوب پخت نشود ..... می‌گویند. (خمیر - برشته)


برچسب تصویر هر کدام از آسیاب‌ها را پیدا کنید و در جای مناسب بچسبانید.



آسیاب بادی



آسیاب آبی



آسیاب دستی



آسیاب برقی

مراحل پخت نان را از ابتدا تا انتها به دلخواه رسم کنید یا توضیح دهید.

### فارسی

جاهای خالی را با کلمات داده شده کامل کنید. (یک کلمه اضافه است.)

بخش خش - پیچ پیچ - تیک تیک - قوقولی قوقو،

- الف) صدای ..... ساعت به گوشم می‌رسد.  
ب) ..... کردن دلتش آموزان در کلاس را شنیدم.  
پ) هنگام صبح با صدای ..... خروس از خواب بیدار شدم.

۲ با توجه به متن درس جاهای خالی را با حروف مناسب کامل کنید.

الف) ..... و ر با ..... ه

ب) نجا ..... ک


پ) ..... خ

ت) طب ..... ست

۳ در خصوص تصویر مقابل سه سطر بنویسید.



۴ هر کلمه را در نمودار مخصوص به خود قرار بدهید.



ماهها	رنگها	گلها

- ◀ پخت نان
- ◀ انواع آسیاب
- ◀ ارتباط معنایی
- ◀ ساخت کلمه
- ◀ تصویر خوانی

- ◀ دسته بندی (ضرب)
- ◀ تکمیل جاهای خالی - روش نمادین
- ◀ رسم نمودار
- ◀ تقریب
- ◀ انواع تنوع

شاخصها

- خیلی خوب
- خوب
- قابل قبول
- نیاز به تلاش بیشتر