

۱- عدد ۲۳ به ۲۰ نزدیک تر است یا ۳۰؟ ۲۰

عدد ۴۷ به ۴۰ نزدیک تر است یا ۵۰؟ ۵۰

عددهای زیر را به نزدیک ترین ده تایی به صورت تقریبی بنویسید.

$$۳۶ \rightarrow ۴۰$$

$$۵۲ \rightarrow ۵۰ \quad ۲۱ \rightarrow ۲۰ \quad ۱۹ \rightarrow ۲۰$$

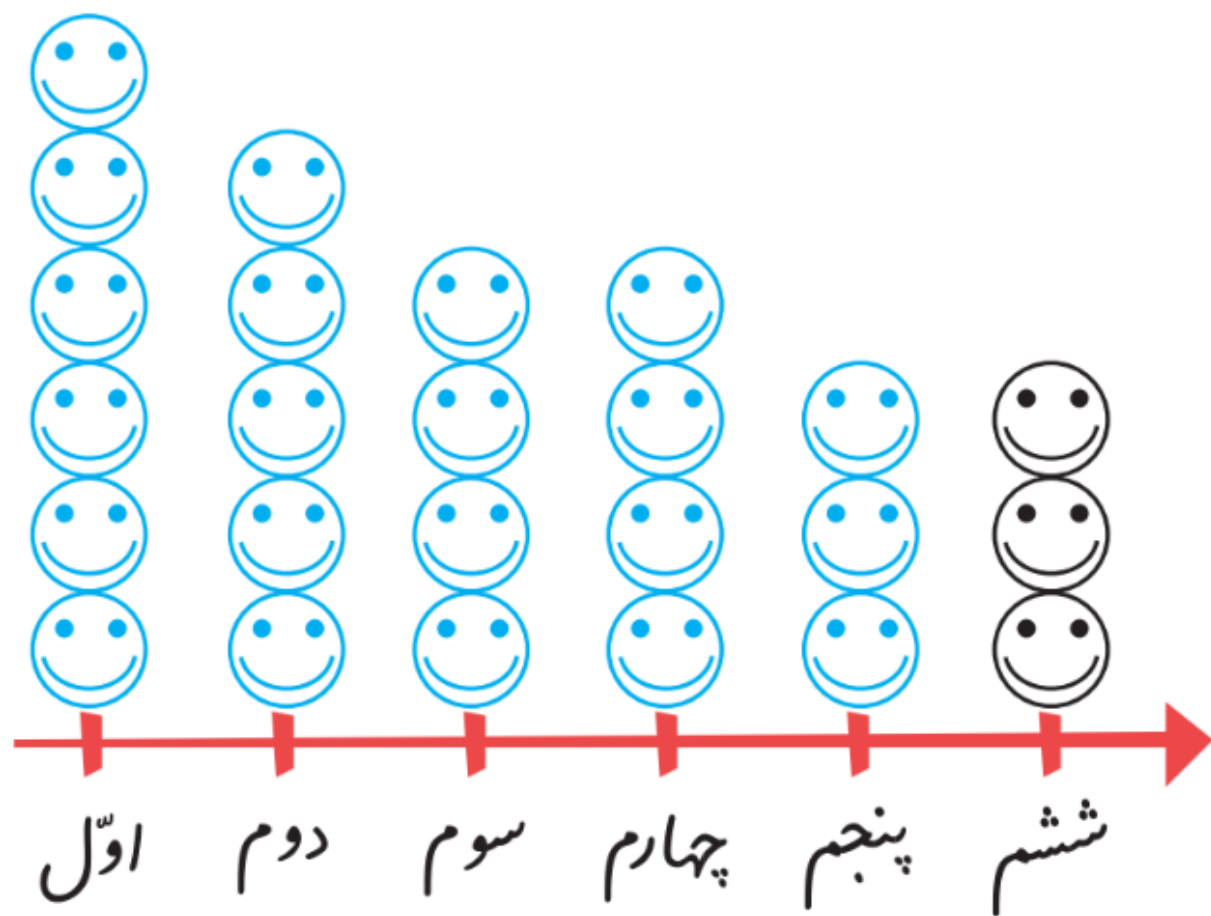
۲- در یک دبستان تعداد دانش آموزان کلاس های اول تا ششم به صورت زیر است:

ششم	پنجم	چهارم	سوم	دوم	اول	کلاس
۳۱	۲۸	۳۹	۴۴	۴۸	۶۱	تعداد دانش آموزان
۳۰	۳۰	۴۰	۴۰	۵۰	۶۰	تعداد تقریبی

ابتدا تعداد تقریبی دانش آموزان در کلاس را مانند سؤال اول بنویسید و جدول را کامل کنید.

اگر هر ۱۰ دانش آموز را با 😊 نشان دهیم، نمودار زیر را مانند نمونه کامل کنید.

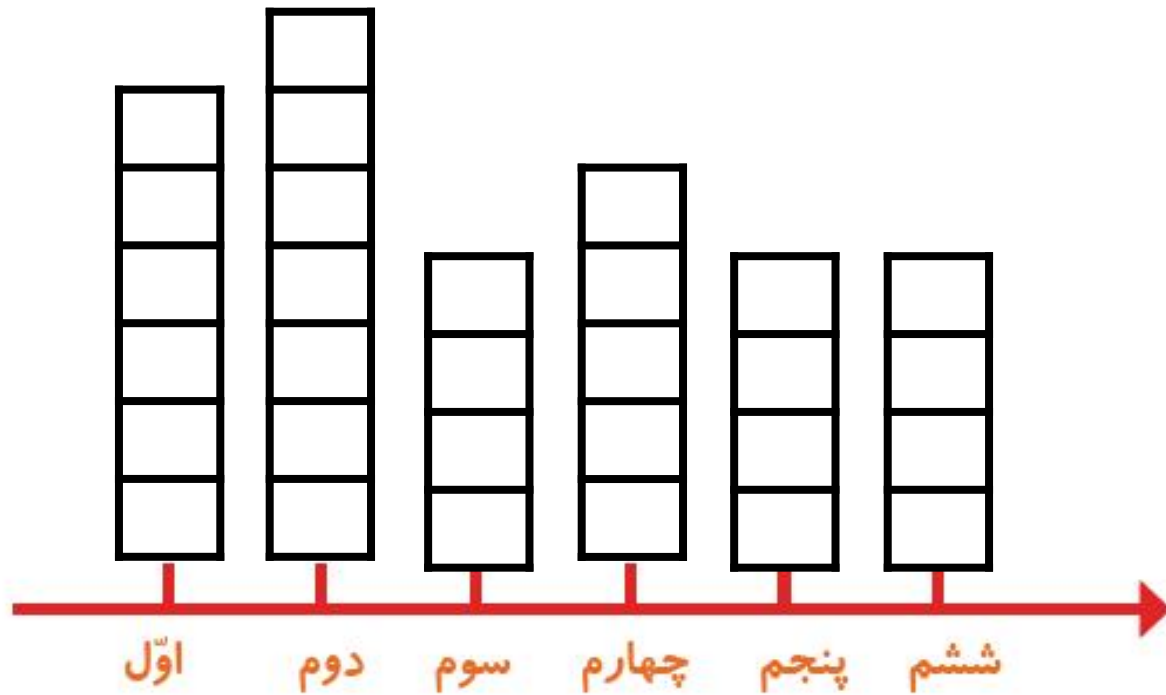
اگر هر ۱۰ دانش آموز را با 😊 نشان دهیم، نمودار زیر را مانند نمونه کامل کنید.








۱- از آموزگار تعداد دانش‌آموزان کلاس‌های مدرسه‌ی خودتان را پرسید و جدول را کامل کنید.
سپس تعداد تقریبی هر کلاس را پیدا کنید.

کلاس	اول	دوم	سوم	چهارم	پنجم	ششم
تعداد دانش‌آموزان	۶۲	۶۵	۴۳	۴۷	۳۶	۴۲
تعداد تقریبی	۶۰	۷۰	۴۰	۵۰	۴۰	۴۰

با در نظر گرفتن یک برای هر ۱۰ دانش آموز، نمودار را کامل کنید.




۲- تعداد خانه‌ها در چند خیابان در جدول زیر مشخص شده است. اگر هر ۱۰ خانه را با  نشان دهیم، جدول را کامل کنید.

نمودار تصویری	تعداد خانه‌ها	نام خیابان
	۴۰	انقلاب
	۶۰	آزادی
	۵۰	استقلال
	۳۵	امام رضا


تکلیف

صفحه 179

برای هر عبارت شکل مناسب بکش و جمله‌ها را کامل کن.



الف: ۲ دسته‌ی ۵ تایی می‌شود تا



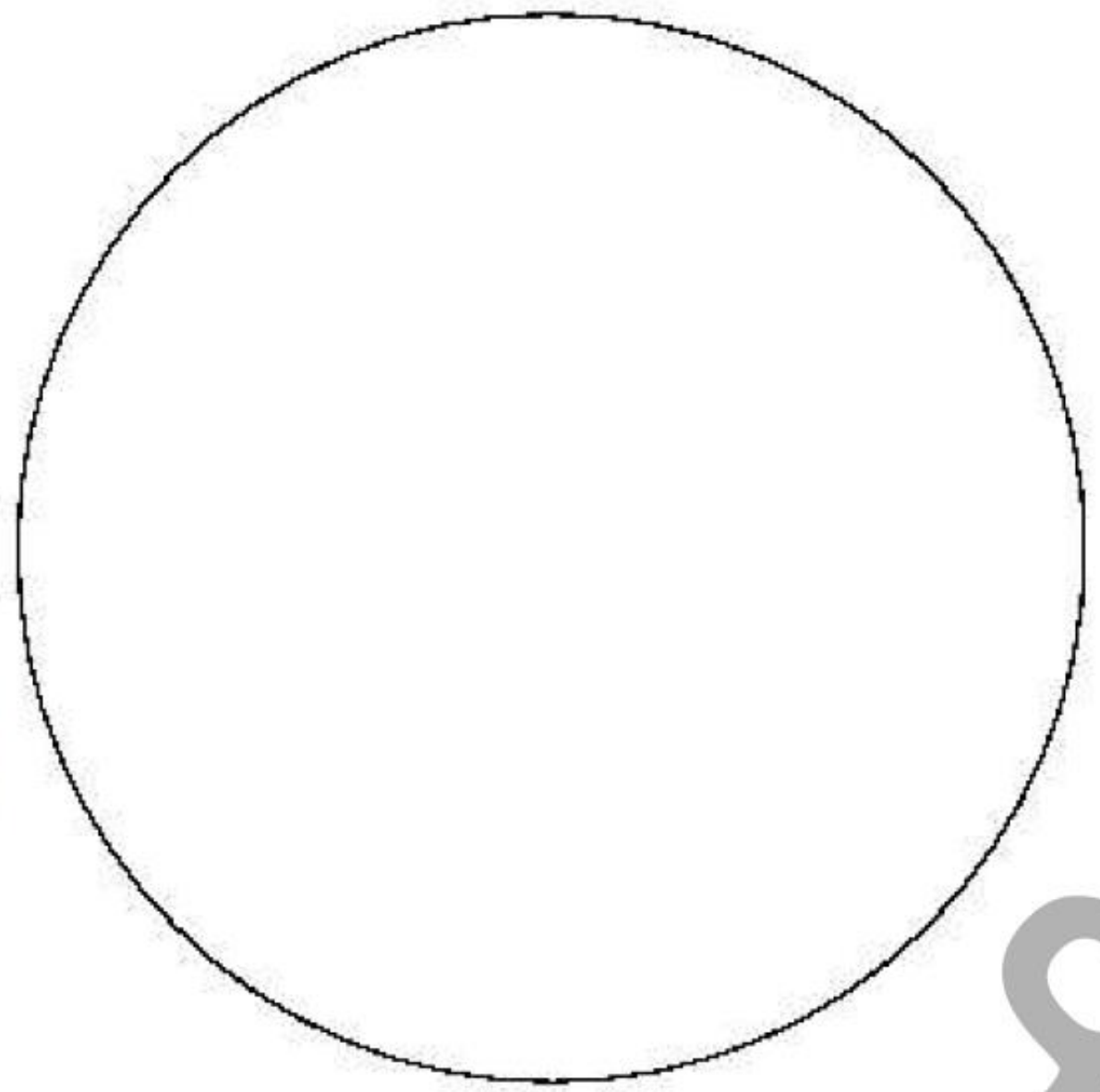
ب: ۳ دسته‌ی ۲ تایی می‌شود تا

برش‌های پیتزا را از انتهای کتاب کار علوی جدا کن. مانند مقدارهای خواسته شده رنگ کن و در دایره‌ی زیر بچسبان.

۱ قسمت از ۸ قسمت قرمز

۴ قسمت از ۸ قسمت سبز

۲ قسمت از ۸ قسمت زرد



پیتزاه

با توجه به سوالات داده شده، گزینه‌ی صحیح را انتخاب کن.

الف: با توجه به گردونه‌ی زیر، پس از هر بار چرخش گردونه، احتمال ایستادن عقربه روی کدام رنگ از همه بیش‌تر

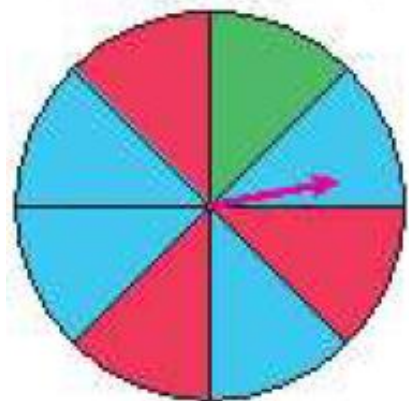
است؟

(۱) قرمز

(۳) زرد

(۲) آبی

(۴) سبز



ب: چه عددی هم داخل مستطیل هستند و هم داخل دایره، اما بیرون مثلث؟

(۱) ۱۱.۵

(۲) ۱۰.۱

(۳) ۱۲

(۴) ۴.۷.۶

