

شماره‌ی

۲۴

ارمغان هفته - دوم دبستان

نام و نام خانوادگی: تاریخ: نام آموزگار:

ریاضی < فصل ۷: کسر و احتمال

علوم < درس ۱۲: برای جشن آماده شویم (۲)

فارسی < درس ۱۵: نوروز (۱)

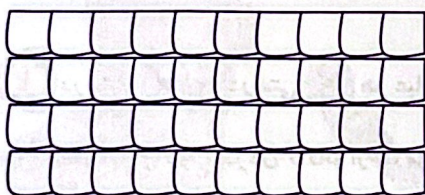
ریاضی

به تعداد عدد نوشته شده کنار هر شکل از آن رنگ کنید، سپس کسر مقدار رنگ شده از هر شکل را بنویسید.



۷ تا

الف) قسمت از ۱۰ قسمت مساوی رنگ شده است.



۳۴ تا

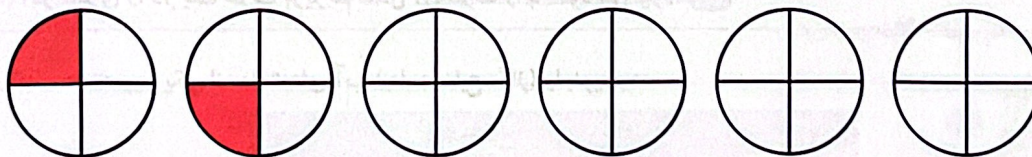
ب) ده‌تایی و قسمت از قسمت مساوی رنگ شده است.

یا قسمت از ۴۰ قسمت مساوی رنگ شده است.


الگوهای زیر را ادامه دهید.



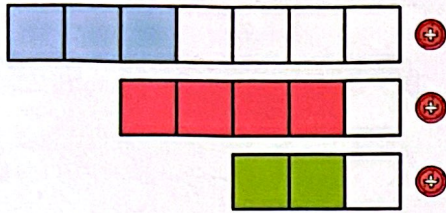
الف)



ب)



۳ کدام عبارت قسمت‌های رنگ شده‌ی شکل را بیان می‌کند؟ وصل کنید.




۴ قسمت از ۵ قسمت مساوی

۳ قسمت از ۳ قسمت مساوی

۷ قسمت از ۳ قسمت مساوی

۴ با توجه به شکل جاهای خالی را کامل کنید.

اندازه خط سانتی‌متر و قسمت از ۱۰ قسمت مساوی است.



۵ یک کیک به ۸ قسمت مساوی تقسیم و سه قسمت آن خورده شد. چه کسری از کیک خورده شده است؟ (با رسم شکل)

علوم

۱ درستی و نادرستی هر عبارت را مشخص کنید.


الف) برای ذوب کردن کاکائو از سرما استفاده می‌کنیم.

ب) شکر، قند و سیب جامد هستند.

پ) مایع‌ها شکل ظرف را به خود می‌گیرند.



ت) اگر سبزی را در یک ظرف بریزیم شکل آن ظرف را به خود می‌گیرد.

۲ در کنار هر تصویر یکی از حالت‌های آب (جامد، مایع، گاز) را بنویسید.



ب)

در کلاس شما کدام یک از اشیای زیر کم تری می گیرد؟



جمله های مرتبط را به یکدیگر وصل کنید.

گرما و سرما

آب

دوغ

مهم ترین ماده ی مایع

شکل معینی ندارد

دلیل تغییر حالت مواد

شباهت و تفاوت شکل های زیر را بنویسید.



شباهت:

.....

تفاوت:

.....

فارسی

با حروف در هم ریخته کلمه بسازید.


ق - م - ا - س

ل - ح - و - ی - ت

د - ی - ع

و - ر - ن - و - ز

۲ دو نشانه از آمدن فصل بهار را علامت بزنید.



۳ کلمات زیر را مرتب کرده و جمله را بازنویسی کنید.

دماه‌های بهار - بهار - فصل - و - خرداد - اردیبهشت - طبیعت - شدن - زنده - فصل - است - فروردین - ، - که - هستند،

۴ به جای نقطه‌چین کلماتی بگذارید که با ترکیب کار، کلمه‌ی جدید ساخته شود و معنی آن را بنویسید.

.....	یعنی:	←
.....	یعنی:	← کار +
.....	یعنی:	←

۵ هنگام نوروز روی سفره‌ی هفت سین چه چیزهایی می‌چینیم؟

مقایسه‌ی اجسام	مفهوم کسر	شاخص‌ها خیلی خوب خوب قابل قبول نیاز به تلاش بیشتر
ساخت کلمه	الگویابی	
مرتب کردن کلمات و ساخت جمله	ارتباط واحد اندازه‌گیری و کسر	
ساخت کلمه با دکاره	تغییر حالات آب در چرخه‌ی آب	
آشنایی با نشانه‌های فصل بهار	مشخصات مواد	

مرور فصل

فرهنگ نوشتن

چگونه می توانیم یک کاغذ را با تا کردن به ۴ قسمت مساوی تقسیم کنیم؟ مراحل کار را بنویسید.

حالا نوشته‌ی خود را برای یک نفر بخوانید. او فقط تمام کارهایی را که شما نوشته‌اید، انجام دهد. آیا کاغذ به ۴ قسمت مساوی تقسیم شد؟



تمرین

۱- با خط کش اندازه گیری و جملات را کامل کنید.




اندازه‌ی طول خودکار: _____ سانتی متر و _____ قسمت از ۱۰ قسمت مساوی است.



اندازه‌ی خط: _____ سانتی متر و _____ قسمت از ۱۰ قسمت مساوی است.

۲- برای هر شکل جملات را کامل کنید.



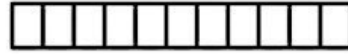
_____ قسمت از _____ قسمت دایره رنگ شده است _____ قسمت از _____ قسمت دایره رنگ شده است _____ قسمت از _____ قسمت دایره رنگ شده است



۳- به اندازه‌ای که در هر جمله نوشته شده، از شکل‌ها رنگ کنید.




۱ قسمت از ۴ قسمت مساوی




۵ قسمت از ۱۱ قسمت مساوی

۴- در هر جعبه ۶ گوی مثل هم به رنگ‌های مختلف وجود دارد. اگر بدون نگاه کردن به آن یک گوی برداریم، شانس کدام رنگ بیشتر است؟ با **X** مشخص کنید.



۵- در هر هدف، احتمال خوردن تیر به کدام رنگ بیشتر است؟ چرا؟

هدف اول



هدف دوم

