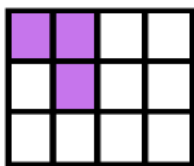
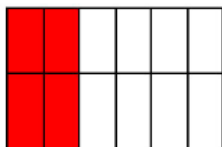




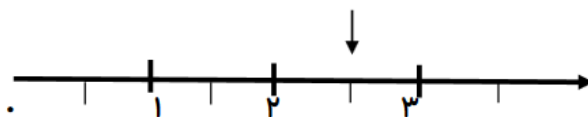
۱- به شکل‌ها نگاه کن و جاهای خالی را کامل کن.
.....قسمت از قسمت مساوی رنگ شده است.
.....قسمت از قسمت مساوی رنگ نشده است.



.....قسمت از قسمت مساوی رنگ شده است.
.....قسمت از قسمت مساوی رنگ نشده است.



.....قسمت از قسمت مساوی رنگ شده است.
.....قسمت از قسمت مساوی رنگ نشده است.



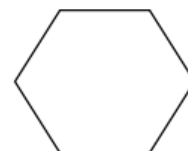
۲- با توجه به نقطه‌ی مشخص شده محور را کامل کن.

نقطه‌ی مشخص شده واحد و قسمت از قسمت مساوی است.

۳- با توجه به جمله‌های نوشته شده هر شکل را کامل کن.



۲ قسمت از ۴ قسمت مساوی



۳ قسمت از ۶ قسمت مساوی





نام و نام خانوادگی: _____ تاریخ: _____ موضوع: _____ هدف: _____


۴- در داخل یک کیسه ۵ مهره ی قرمز ، ۳ مهره ی زرد و ۲ مهره ی سبز است . جمله های زیر را کامل کن .

الف:.....مهره ازمهره قرمز است .

ب:مهره ازمهره سبز است .

ج:مهره ازمهره زرد است .

۵- با توجه به شکل جمله ها را کامل کن .




.....دسته ی تایی می شود



.....دسته ی تایی می شود

۶- با توجه به جمله ، شکل مناسب رسم کن .



۷- هر یک از شکل های زیر به چند قسمت مساوی تقسیم شده است؟ زیر آن بنویس .

