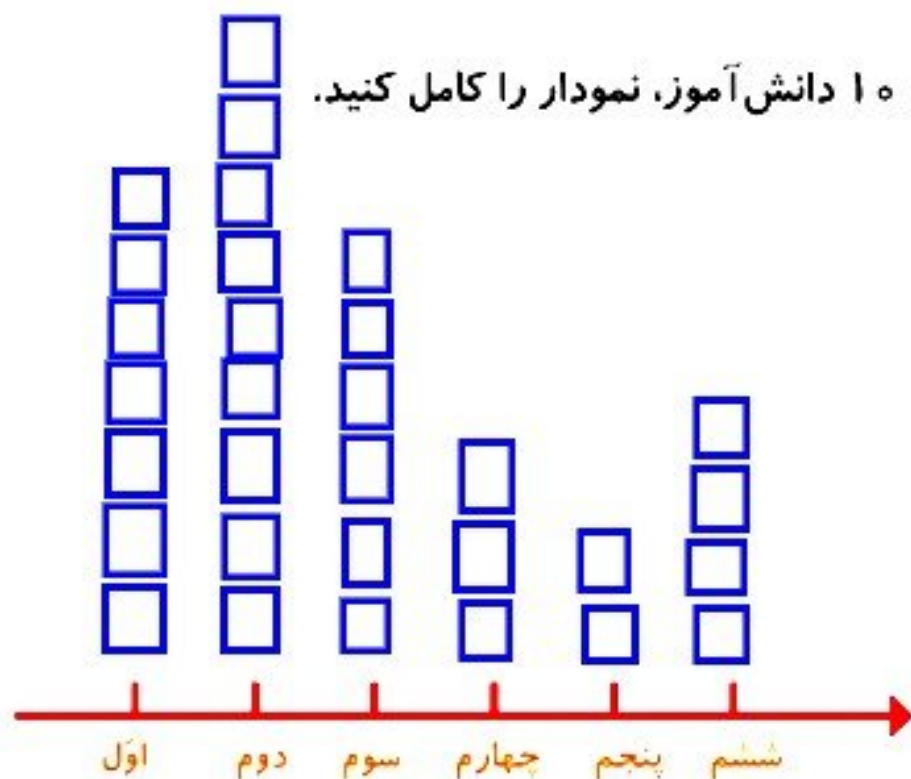


۱- از آموزگار تعداد دانش آموزان کلاس های مدرسه ی خودتان را بپرسید و جدول را کامل کنید.
 سپس تعداد تقریبی هر کلاس را پیدا کنید.

کتاب ریاضی درسی صفحه ی 137

ششم	پنجم	چهارم	سوم	دوم	اول	کلاس
35	17	28	55	86	65	تعداد دانش آموزان
40	20	30	60	90	70	تعداد تقریبی

با در نظر گرفتن یک برای هر ۱۰ دانش آموز، نمودار را کامل کنید.




۲- تعداد خانه‌ها در چند خیابان در جدول زیر مشخص شده است. اگر هر ۱۰ خانه را با  نشان دهیم، جدول را کامل کنید.

نمودار تصویری	تعداد خانه‌ها	نام خیابان
	۴۰	انقلاب
	۶۰	آزادی
	50	استقلال
	35	امام رضا



1 در جدول زیر میزان تصادفات تهران در هفته ی گذشته نشان داده شده است. نمودار تصویری مربوط به جدول را رسم کرده. سپس به پرسش های زیر پاسخ بده.

روزهای هفته	شنبه	یکشنبه	دوشنبه	سه شنبه	چهارشنبه	پنجشنبه	جمعه
تعداد تصادفات	29	13	15	5	49	34	18
تعداد تقریبی	30	10	20	10	50	30	20



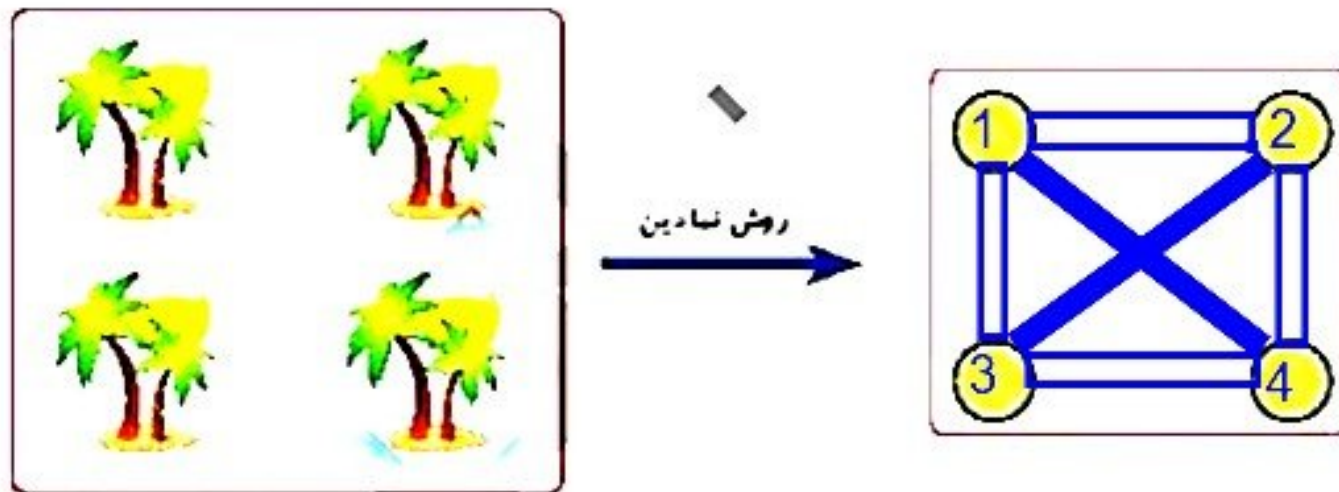
الف: بیشترین آمار تصادف در کدام روز هفته بوده است؟

چهارشنبه

ب: کمترین آمار تصادف در کدام روز هفته بوده است؟

یکشنبه - سه شنبه

۲ در شکل زیر ۴ جزیره دیده می‌شود. اگر بخواهیم بین همه‌ی آن‌ها پل بسازیم، چند پل باید ساخته شود؟ 6 پل



۲ مجموع سن درنا و مادرش ۶۷ سال است. اگر درنا ۱۹ ساله باشد، سن مادرش چقدر است؟

$$\begin{array}{r} 5.17 \\ \cancel{6}7 \\ - 19 \\ \hline 48 \end{array}$$

سن مادرش ۴۸ است