

فصل هشتم

نمودار تصویری

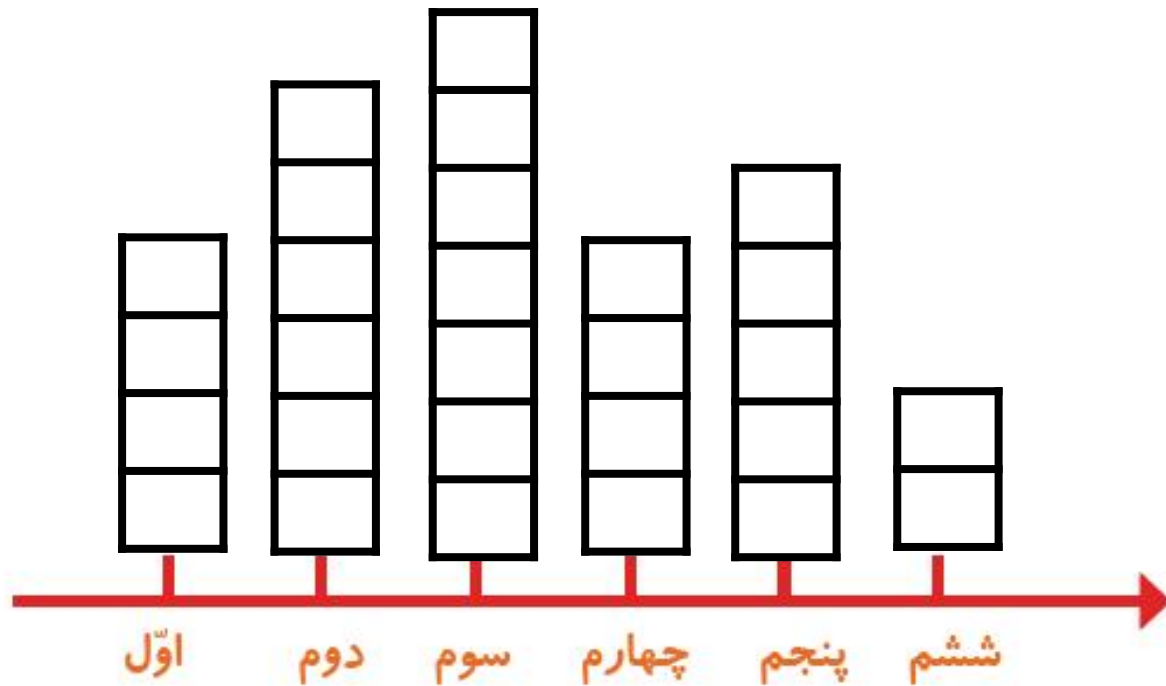



۱- از آموزگار تعداد دانش‌آموزان کلاس‌های مدرسه‌ی خودتان را پرسید و جدول را کامل کنید.
سپس تعداد تقریبی هر کلاس را پیدا کنید.





کلاس	اول	دوم	سوم	چهارم	پنجم	ششم
تعداد دانش‌آموزان	۳۸	۵۸	۶۵	۴۲	۴۵	۲۱
تعداد تقریبی	۴۰	۶۰	۷۰	۴۰	۵۰	۲۰

با در نظر گرفتن یک برای هر ۱۰ دانش آموز، نمودار را کامل کنید.

ششم	پنجم	چهارم	سوم	دوم	اول	کلاس
۲۱	۴۵	۴۲	۶۵	۵۸	۳۸	تعداد دانش آموزان
۲۰	۵۰	۴۰	۷۰	۶۰	۴۰	تعداد تقریبی




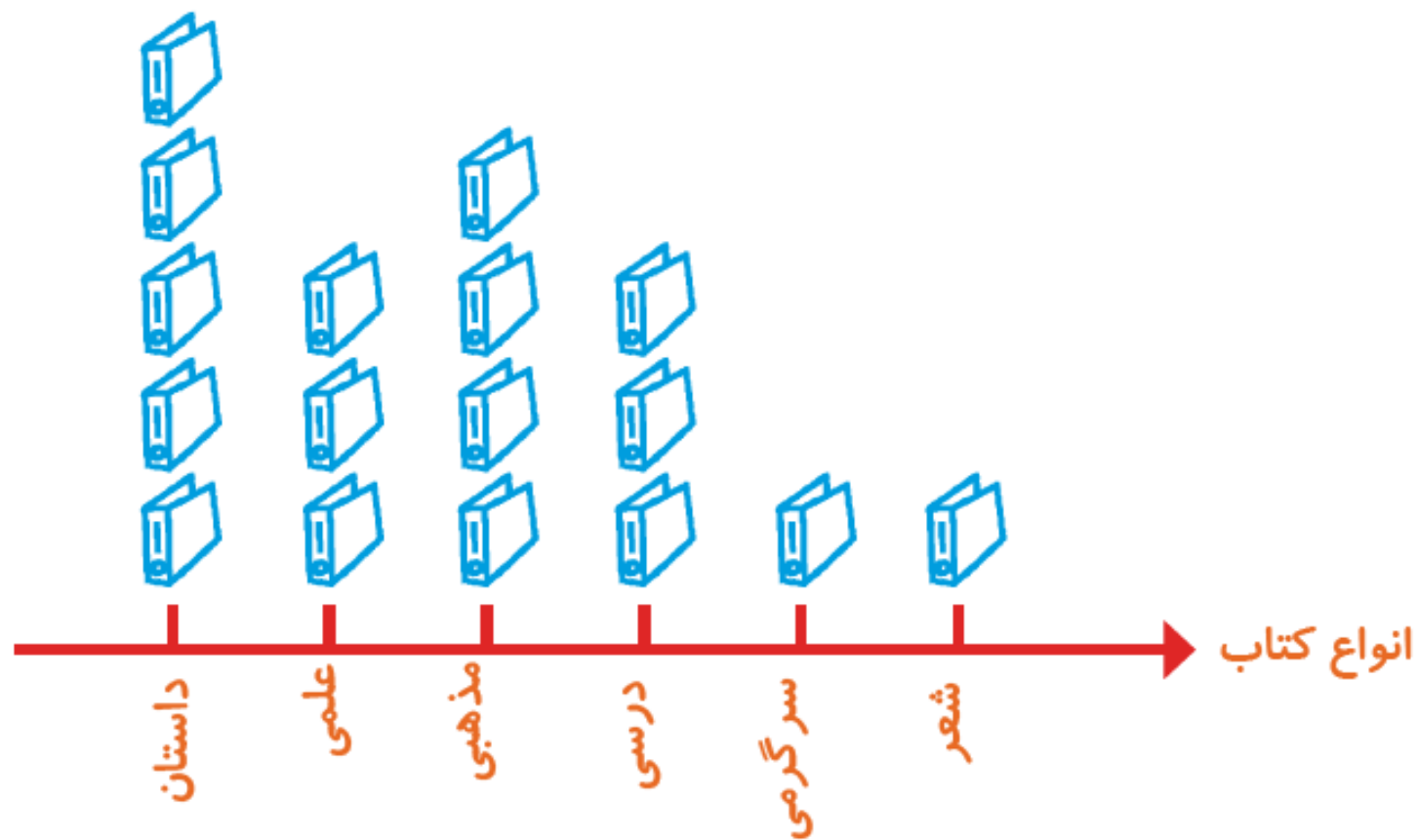
۲- تعداد خانه‌ها در چند خیابان در جدول زیر مشخص شده است. اگر هر ۱۰ خانه را با  نشان دهیم، جدول را کامل کنید.

نمودار تصویری	تعداد خانه‌ها	نام خیابان
	۴۰	انقلاب
	۶۰	آزادی
	۵۰	استقلال
	۳۵	امام رضا

۱- تعداد درخت‌های سرو در چند خیابان شهر سروستان شمرده شده است. این عددها به صورت تقریبی نوشته شده‌اند. اگر هر ۱۰ درخت را با  نشان دهیم، جدول را کامل کنید.

نمودار تصویری	تعداد درخت‌ها	نام خیابان
	۵۰	سعدی
	۴۰	حافظ
	۶۵	مولوی

۲- تعداد کتاب‌های کتابخانه‌ی دبستان شهید فهمیده در موضوعات مختلف با عدد تقریبی در جدول زیر مشخص شده است. اگر هر ۱۰۰ کتاب را با  نشان دهیم، با توجه به نمودار جدول را کامل کنید.



تعداد	نوع کتاب
۵۰	داستان
۳۰	علمی
۴۰	مذهبی
۳۰	درسی
۱۰	سرگرمی
۱۰	شعر