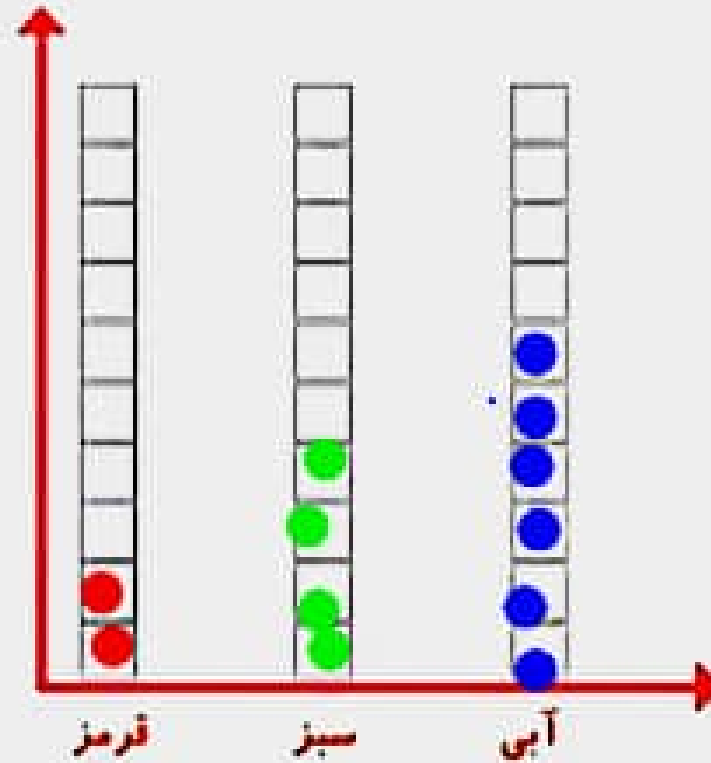


شکل
(به ترتیب)



نمودار ستونی

چه زمانی از شکل و چه موقع از نمودار ستونی استفاده می کنید؟

اگر ترتیب مهم باشد = شکل

اگر دیدن سریع تعداد و مقایسه کمترین و بیشترین مهم باشد = نمودار ستونی

الگویابی کن

T
Aa
[Blue square]
↻
🗑️
👉
📄

چه زمانی از شکل و چه موقع از نمودار ستونی استفاده می کنید؟

**اگر ترتیب اتفاق افتادن فعالیت مهم باشد=شکل
اگر بخواهیم با سرعت مقدار اطلاعات را بفهمیم و مقایسه کنیم=نمودار ستونی**

الگویابی کن

الگوهای عدد را ادامه دهید.

۱۲۴, ۱۲۶, ۱۲۸, ۱۳۰, ۱۳۲, ۱۳۴, ۱۳۶, ۱۳۸, ۱۴۰, ۱۴۲, ۱۴۴, ۱۴۶

۱۲۱, ۱۲۳, ۱۲۵, ۱۲۷, ۱۲۹, ۱۳۱, ۱۳۳, ۱۳۵, ۱۳۷, ۱۳۹, ۱۴۱

تمام عددهای الگوی اول زوج هستند. عددهای زوج چه ویژگی‌هایی دارند؟

یکان عدد های زوج یکی از رقم های ۰، ۲، ۴، ۶، ۸ است.

تمام عددهای الگوی دوم فرد هستند. عددهای فرد چه ویژگی‌هایی دارند؟

یکان عدد های فرد یکی از رقم های ۱، ۳، ۵، ۷، ۹ است.





۱- در برنامه‌ی هفتگی یک مدرسه در یک هفته دانش‌آموزان ۵ ساعت ریاضی، ۳ ساعت علوم، ۳ ساعت قرآن و ۲ ساعت ورزش داشتند. شکل را با توجه به جدول رنگ، کامل کنید.

رنگ	درس
	ریاضی
	علوم
	قرآن
	ورزش

ریاضی علوم قرآن ورزش

۲- نمودار کارهای روزانه‌ی فاطمه (دانش‌آموز دبستان) و نمودار کارهای روزانه‌ی علی (دانش‌آموز دبیرستان) به صورت زیر رسم شده است. با توجه به آن به سؤال‌ها جواب دهید.

کدام یک بیشتر درس می‌خواند؟

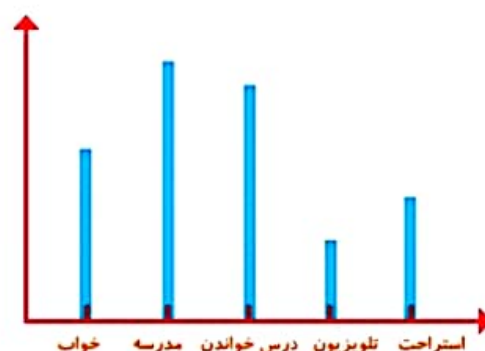
چه شخصی بیشتر در مدرسه است؟

چه شخصی بیشتر تلویزیون می‌بیند؟

مجموع مدرسه رفتن و درس خواندن چه کسی بیشتر است؟ دلیل آن را بنویسید.



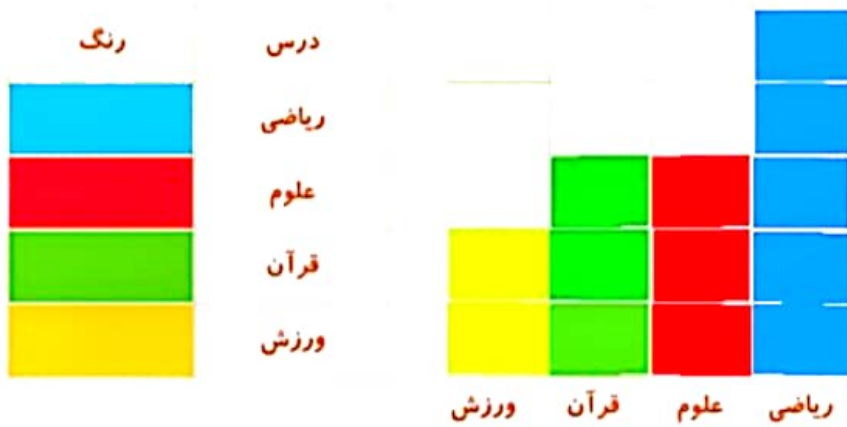
فاطمه



علی



۱- در برنامه‌ی هفتگی یک مدرسه در یک هفته دانش‌آموزان ۵ ساعت ریاضی، ۳ ساعت علوم، ۳ ساعت قرآن، ۲ ساعت ورزش داشتند. شکل را با توجه به جدول رنگ، کامل کنید.



۲- نمودار کارهای روزانه‌ی فاطمه (دانش‌آموز دبستان) و نمودار کارهای روزانه‌ی علی (دانش‌آموز دبیرستان) به صورت زیر رسم شده است. با توجه به آن به سؤال‌ها جواب دهید.

برای پاسخ دادن به این سوال ابتدا باید نمودار

کدام یک بیشتر درس می‌خواند؟ **علی** به خوبی نگاه کنیم و با

چه شخصی بیشتر در مدرسه است؟ **علی** یکدیگر مقایسه کنیم

چه شخصی بیشتر تلویزیون می‌بیند؟ **فاطمه** مجموع مدرسه رفتن و درس خواندن چه کسی بیشتر است؟ دلیل آن را بنویسید.

علی . چون ستون مدرسه و درس خواندن علی از فاطمه بیشتر است

