



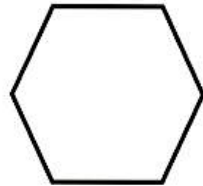
موضوع:

تاریخ:

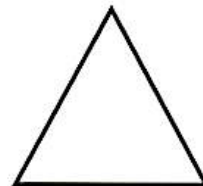
نام و نام خانوادگی:

هدف:

با توجه به جمله های نوشته شده هر شکل را کامل کن.




۳ قسمت از ۶ قسمت مساوی



۱ قسمت از ۲ قسمت مساوی

ساعت چند است؟



الف: ۲۰ دقیقه بعد ساعت چند است؟ مقدار حرکت عقربه‌ی بزرگ را رنگ کن.

ب: مقدار رنگ شده قسمت از قسمت مساوی است.

در داخل یک کیسه ۵ مهره‌ی قرمز، ۳ مهره‌ی زرد و ۲ مهره‌ی سبز

است. جمله‌های زیر را کامل کن.


الف: مهره از مهره قرمز است.

ب: مهره از مهره سبز است.

ج: مهره از مهره زرد است.

اگر یک مهره از کیسه برداریم، شانس کدام رنگ بیشتر است؟ چرا؟

با توجه به شکل جمله‌ها را کامل کن.



..... دسته‌ی تایی می‌شود

..... دسته‌ی تایی می‌شود