



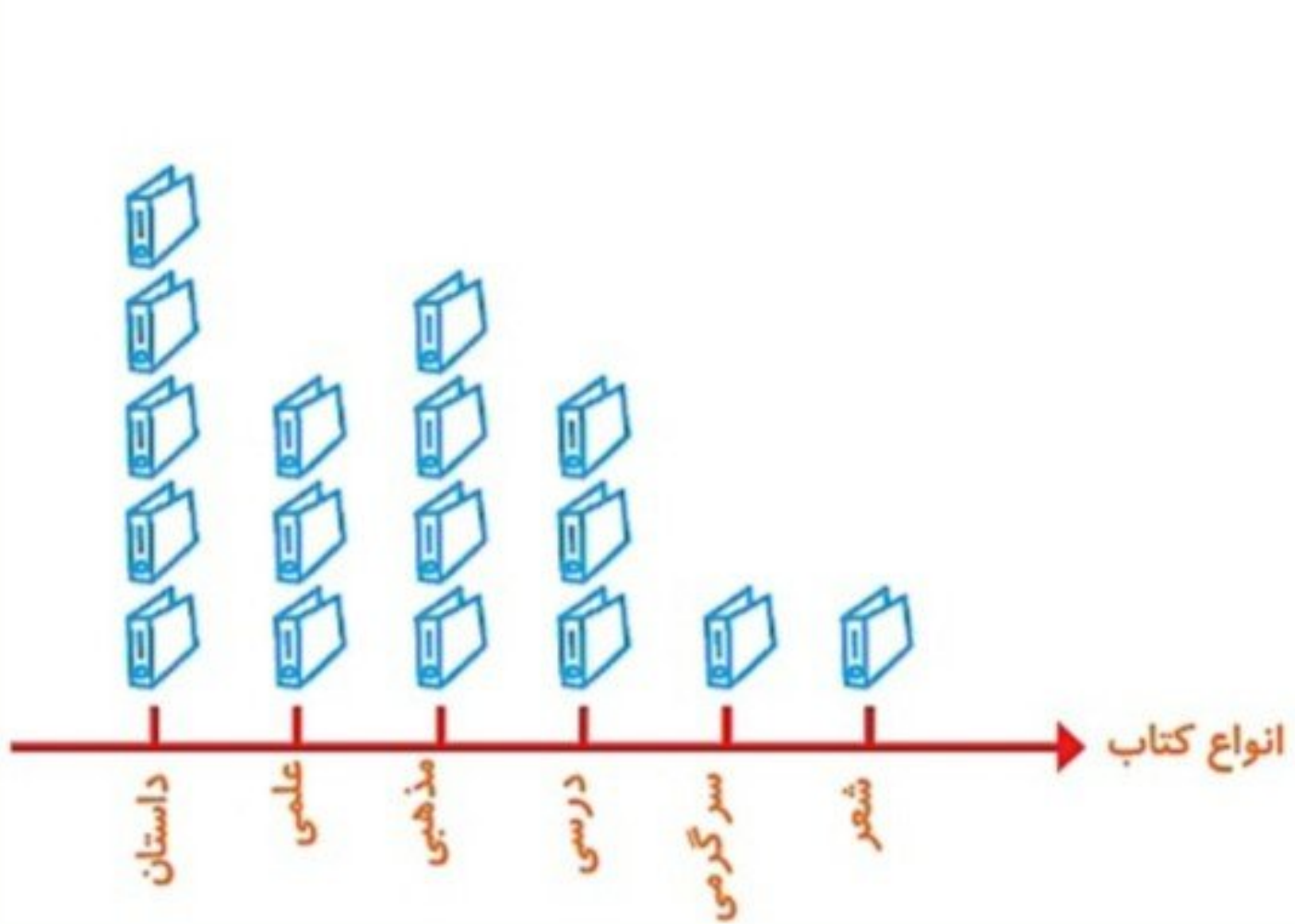


کتاب ریاضی درسی صفحه ی 138

۱- تعداد درخت های سرو در چند خیابان شهر سروستان شمرده شده است. این عددها به صورت تقریبی نوشته شده اند. اگر هر ۱۰ درخت را با  نشان دهیم، جدول را کامل کنید.

نمودار تصویری	تعداد درخت ها	نام خیابان
	۵۰	سعدی
	۴۰	حافظ
	۶۵	مولوی

۲- تعداد کتاب‌های کتابخانه‌ی دبستان شهید فهمیده در موضوعات مختلف با عدد تقریبی در جدول زیر مشخص شده است. اگر هر ۱۰۰ کتاب را با  نشان دهیم، با توجه به نمودار جدول را کامل کنید.



تعداد	نوع کتاب
500	داستان
300	علمی
400	مذهبی
300	درسی
100	سرگرمی
100	شعر

جاهای خالی را کامل کنید.

۱۴

۱۹

26

17

+۳

17

22

۲۹

20

-۵

12

17

24

۱۵

انتخاب نمودار ✓

سعید کارهای یک روز تعطیل خود را از ۸ صبح تا ۸ بعد از ظهر یادداشت کرد. صبحانه خوردن و جمع آوری آن ۱ ساعت طول کشید. سپس ۳ ساعت درس خواند و ۱ ساعت برای ناهار خوردن و جمع آوری آن وقت گذاشت. پس از ناهار ۲ ساعت تلویزیون نگاه کرد و ۲ ساعت دیگر درس خواند و ۳ ساعت رفتن و برگشتن از مهمانی طول کشید. کارهای مختلف سعید را روی شکل زیر با رنگ کردن نشان دهید. برای هر ۱ ساعت، یک خانه را رنگ کنید.



همین اطلاعات را در نمودار ستونی زیر با رنگ کردن مربع‌ها نشان دهید.

