



۱ در جدول زیر میزان تصادفات تهران در هفته‌ی گذشته نشان داده شده است. نمودار تصویری مربوط به جدول را رسم کرده، سپس به پرسش‌های زیر پاسخ بده.

روزهای هفته	شنبه	یکشنبه	دوشنبه	سه شنبه	چهارشنبه	پنجشنبه	جمعه
تعداد تصادفات	۲۹	۱۳	۱۵	۵	۴۹	۳۴	۱۸
تعداد تقریبی							

(هر نشان دهنده‌ی ۱۰ تصادف باشد)

شنبه یکشنبه دوشنبه سه‌شنبه چهارشنبه پنج‌شنبه جمعه

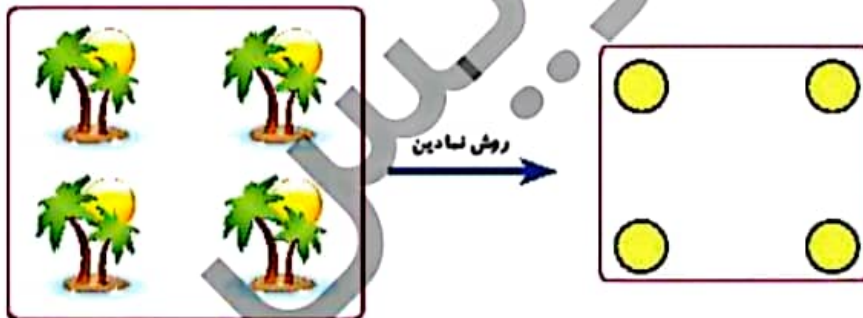
الف: بیش‌ترین آمار تصادف در کدام روز هفته بوده است؟

.....

ب: کم‌ترین آمار تصادف در کدام روز هفته بوده است؟

.....

۲ در شکل زیر ۴ جزیره دیده می‌شود. اگر بخواهیم بین همه‌ی آن‌ها پل بسازیم، چند پل باید ساخته شود؟



۳ مجموع سن درنا و مادرش ۶۷ سال است. اگر درنا ۱۹ ساله باشد، سن مادرش چقدر است؟

.....





۱ اگر هر را نشان دهنده‌ی ۱۰ و هر نشان دهنده‌ی ۵ باشد، هر عبارت را به پاسخ صحیح آن وصل کن.

۲۵ ☹️

☹️

۱۵ ☹️

☹️

۳۰ ☹️

☹️

۲ درستی ✓ و نادرستی ✗ هر عبارت را مشخص کن.

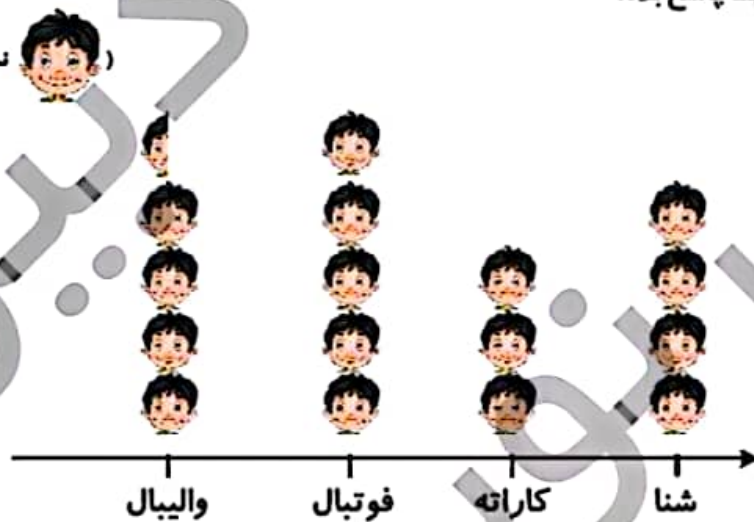
الف: یک ساختمان ۲ طبقه دارد و تعداد واحدهای آن ۲۴ تا می‌شود. این ساختمان در هر طبقه ۷ واحد دارد.

ب: اگر برابری با ۱۰۰ باشد حاصل شکل برابری با ۴۰۰ است.

۲ برنا در بین کلاس دومی‌های علوی، برای چهار رشته‌ی ورزشی، آمار علاقه‌مندی را به شکل نمودار تصویری کشیده است.

با توجه به نمودار به پرسش‌ها پاسخ بده.

(نشانی ۱۰ نفر علاقه‌مند است.)



الف: کدام ورزش بیش‌ترین علاقه‌مند را دارد؟

ب: چند نفر به ورزش والیبال علاقه دارند؟

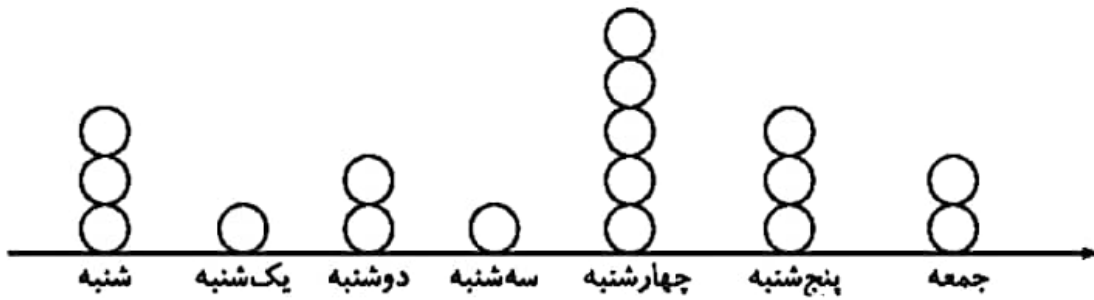
پ: علاقه‌مندان به کدام ورزش کم‌ترین تعداد را دارند؟



فعالیت کلاسی صفحه ۱۹۲:

۱.

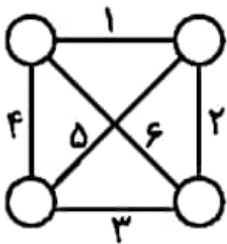
روزهای هفته	شنبه	یکشنبه	دوشنبه	سه‌شنبه	چهارشنبه	پنج‌شنبه	جمعه
تعداد تصادفات	۲۹	۱۳	۱۵	۵	۴۹	۳۴	۱۸
تعداد تقریبی	۳۰	۱۰	۲۰	۱۰	۵۰	۳۰	۲۰



الف) چهارشنبه

ب) یکشنبه و سه‌شنبه

۲. ۶ پل



۳. مادرش ۴۸ سال دارد.

$$۱۹ + \square = ۶۷$$

حدس اول	$۱۹ + ۵۰ = ۶۹$	✗
حدس دوم	$۱۹ + ۴۸ = ۶۷$	✓

تمرین درس سوم صفحه ۱۹۸:

۱. شکل اول ← ۳۰

شکل دوم ← ۲۵

شکل سوم ← ۱۵

۲. الف) نادرست

۳. الف) فوتبال

ب) ۴۵ دانش آموز

پ) کاراته

ب) نادرست