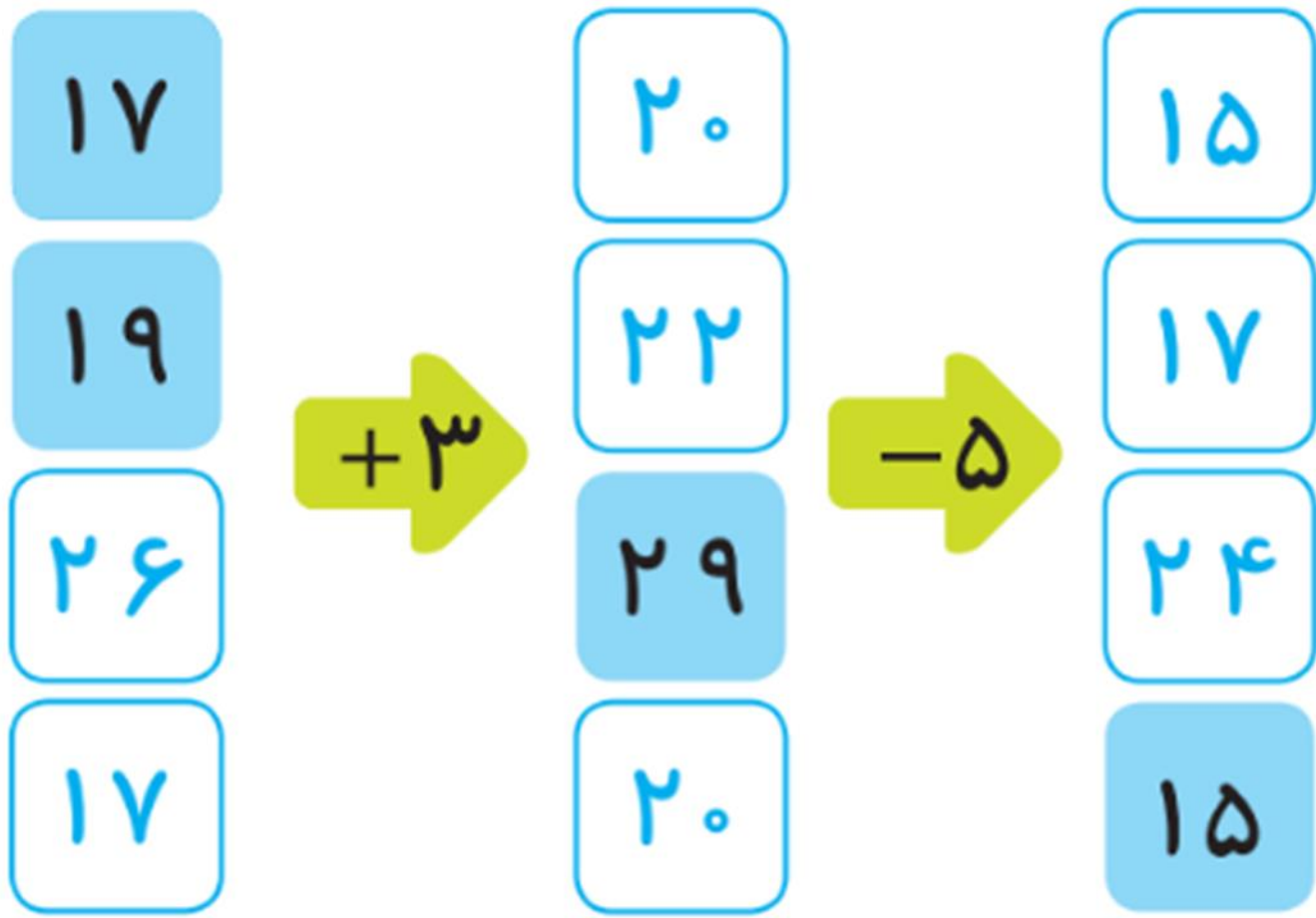


فصل هشتم

نمودار تصویری



جاهای خالی را کامل کنید.

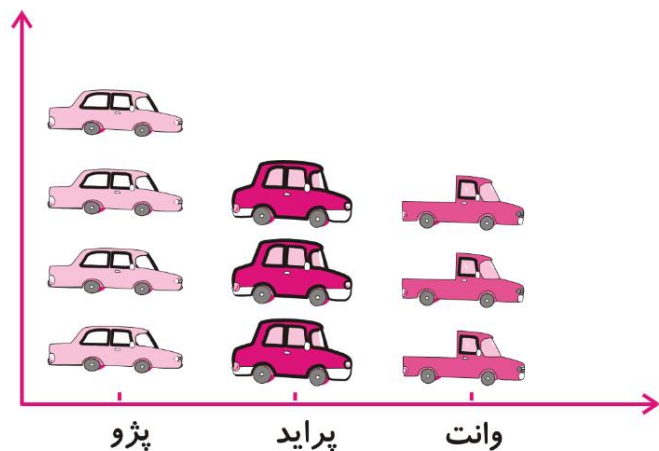


فصل هشتم

انتخاب نمودار



انواع نمودار

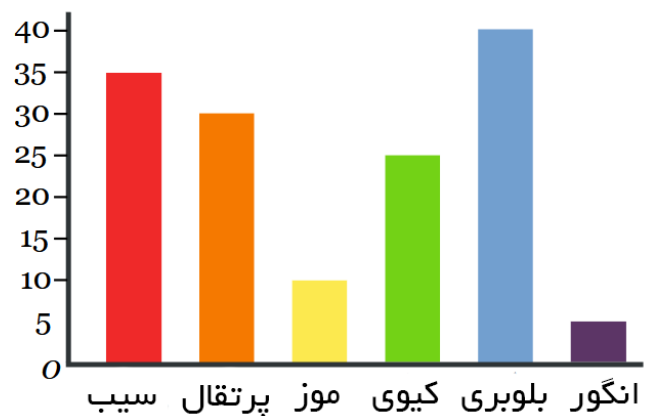


- انتخاب نمودار بستگی به موارد زیر دارد:

- اطلاعات مسئله

- عدد های داده شده

- استفاده کردن بهتر از اطلاعات



سعید کارهای یک روز تعطیل خود را از ۸ صبح تا ۸ بعدازظهر یادداشت کرد. صبحانه خوردن و جمع‌آوری آن ۱ ساعت طول کشید. سپس ۳ ساعت درس خواند و ۱ ساعت برای ناهار خوردن و جمع‌آوری آن وقت گذاشت. پس از ناهار ۲ ساعت تلویزیون نگاه کرد و ۲ ساعت دیگر درس خواند و ۳ ساعت رفتن و برگشتن از مهمانی طول کشید. کارهای مختلف سعید را روی شکل زیر با رنگ کردن نشان دهید. برای هر ۱ ساعت، یک خانه را رنگ کنید.



همین اطلاعات را در نمودار ستونی زیر با رنگ کردن مربع‌ها نشان دهید.

توضیح دهید از روی شکل بهتر متوجه ترتیب کارهای سعید می شوید یا از روی نمودار ستونی؟

چرا؟ شکل، زیرا در نمودار ستونی ترتیب کارها رعایت نمی شود اما در شکل

کارها به ترتیب است.

از نمودار ستونی چه چیزی را بهتر متوجه می شوید که از روی شکل دیده نمی شود؟