

موضوع: تمرینات دوره ای

تاریخ

نام و نام خانوادگی

هدف: مرور آموخته ها

ریاضی :

۱- در یک کیسه ۶ مهره ی سبز و ۴ مهره ی قرمز است. اگر بدون نگاه کردن یک مهره از کیسه درآوریم شانس اینکه سبز باشد بیشتر است یا قرمز ؟ چرا ؟

..... مهره از مهره سبز است.

..... مهره از مهره قرمز است.

۲- اگر به عدد ۴۷۱ یک بسته ی ده تایی اضافه شود، حاصل آن می شود.....

فارسی :

۱- سه کلمه بنویسید که (ی) در پایان آن صدای (آ) داشته باشد. (مثال : حتّی)

۲- مخالف کلمات زیر را بنویسید.

سیراب : بلند :

علوم :

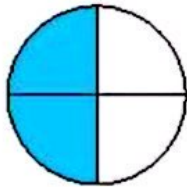
۱- دو مورد از استفاده ی انسان ها از باد را بنویسید.



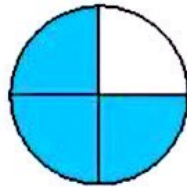
فعالیت کلاسی



۱ در کدام هدف، تیر با شانس بیش‌تری به رنگ آبی برخورد می‌کند؟ چرا؟



(ب)



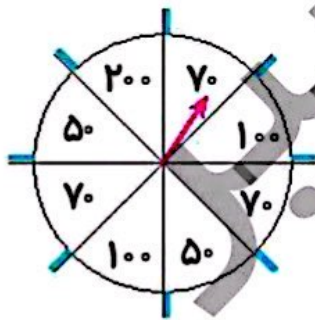
(الف)

.....

۲ در گردونه‌ی جایزه‌ها به جای نام آن‌ها، امتیاز آن‌ها را نوشته‌ایم و هر دانش‌آموز کلاس دوم باید خودش گردونه را

بچرخاند، تا پیکان نشانه، امتیاز او را نشان دهد.

الف: شانس کدام امتیاز را بیش‌تر می‌دانی؟ چرا؟



ب: شانس کدام امتیازها با هم برابر است؟ و

پ: شانس کدام امتیاز از همه کم‌تر است؟


۳ درنا و برنا هر کدام دو کیسه در دست دارند که در کیسه‌ی درنا ۱۰۰ مهره‌ی سفید و در کیسه‌ی برنا ۲۰۰ مهره‌ی سفید

وجود دارد. اگر ۱ مهره‌ی قرمز به کیسه‌ی درنا و یک مهره‌ی قرمز به کیسه‌ی برنا اضافه کنیم. بدون نگاه کردن ۱ مهره از هر

کیسه بیرون بیاوریم. شانس برداشتن مهره‌ی قرمز از کدام کیسه بیش‌تر است؟

.....

۴ با توجه به شکل جمله‌ها را کامل کن.



..... دسته تایی می‌شود

..... دسته تایی می‌شود

