


فصل هشتم




درس سوم
نمودار تصویری

نمودار تصویری زیر تعداد علاقه‌مندان به میوه‌های موز، توت فرنگی و گوجه سبز را در یک مدرسه نشان می‌دهد. تعداد

علاقه‌مندان به هر میوه را بنویس.



۱ نفر =



تعداد	علاقه‌مندان
	موز
	توت فرنگی
	گوجه سبز

نمودار تصویری زیر تعداد علاقه‌مندان به میوه‌های موز، توت فرنگی و گوجه سبز را در یک مدرسه نشان می‌دهد. تعداد

علاقه‌مندان به هر میوه را بنویس.

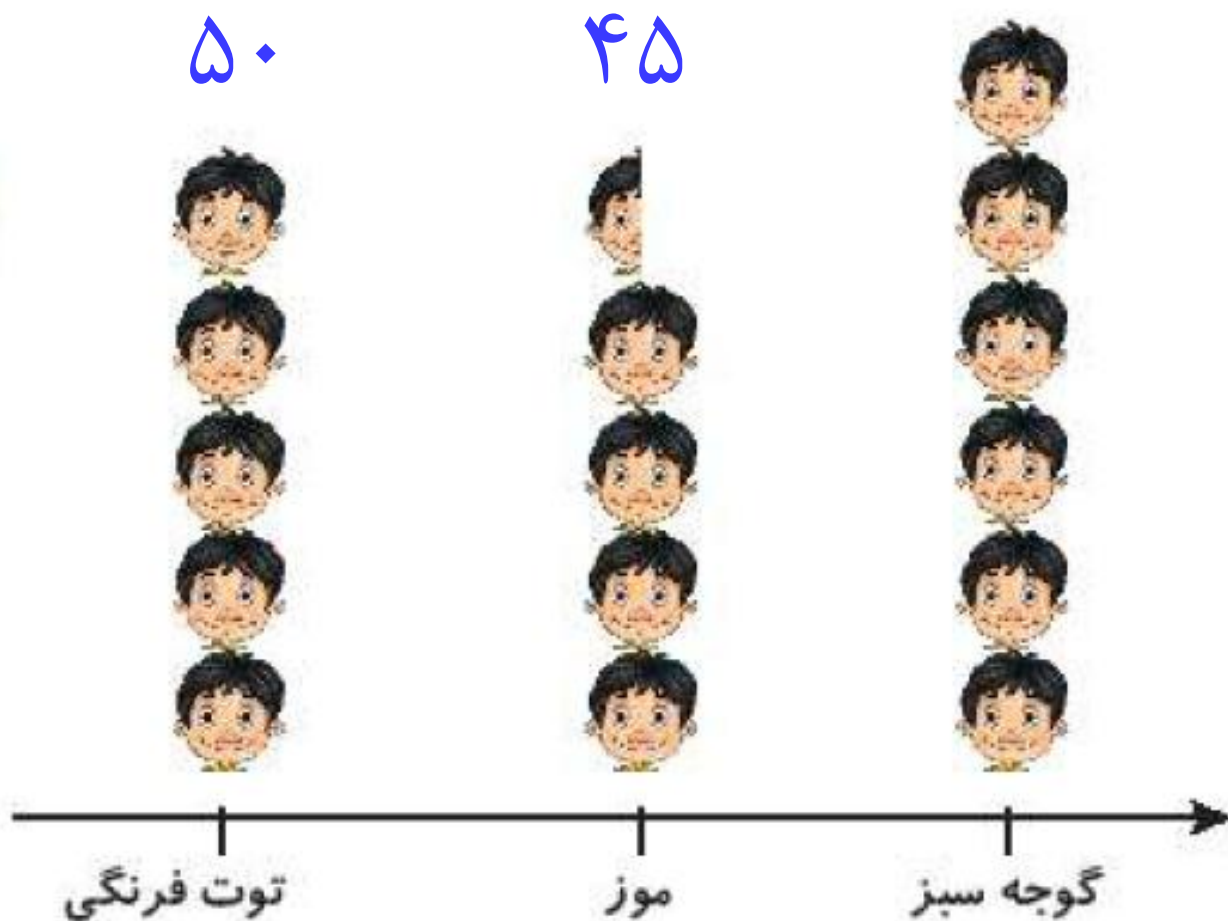


۱ نفر =

۶۰

۴۵

۵۰



تعداد	علاقه‌مندان
۴۵	موز
۵۰	توت فرنگی
۶۰	گوجه سبز

۵ درنا یک دفتر و یک پاک‌کن خرید و ۷۸ ریال پول داد. اگر قیمت دفتر ۵۲ ریال باشد، قیمت پاک‌کن چقدر است؟

۶ تعداد دانش‌آموزان کلاس اول تا چهارم در مدرسه‌ای در جدول زیر آمده است. نمودار تصویری را برای آن رسم کن.

کلاس	اول	دوم	سوم	چهارم
تعداد دانش‌آموزان	۱۶	۳۱	۲۲	۱۴
تعداد تقریبی دانش‌آموزان				

(هر نشان دهنده‌ی ۵ دانش‌آموز می‌باشد.)

اول دوم سوم چهارم

۵ درنا یک دفتر و یک پاک کن خرید و ۷۸ ریال پول داد. اگر قیمت دفتر ۵۳ ریال باشد، قیمت پاک کن چقدر است؟

$$\begin{array}{r} 78 \\ -53 \\ \hline \end{array}$$

قیمت پاک کن ۲۵

قیمت پاک کن ۲۵ ریال است.

۶ تعداد دانش آموزان کلاس اول تا چهارم در مدرسه‌ای در جدول زیر آمده است نمودار تصویری را برای آن رسم کن.

کلاس	اول	دوم	سوم	چهارم
تعداد دانش آموزان	۱۶	۳۱	۲۲	۱۴
تعداد تقریبی دانش آموزان				

(هر نشان دهنده‌ی ۵ دانش آموز می باشد.)

اول دوم سوم چهارم

۵

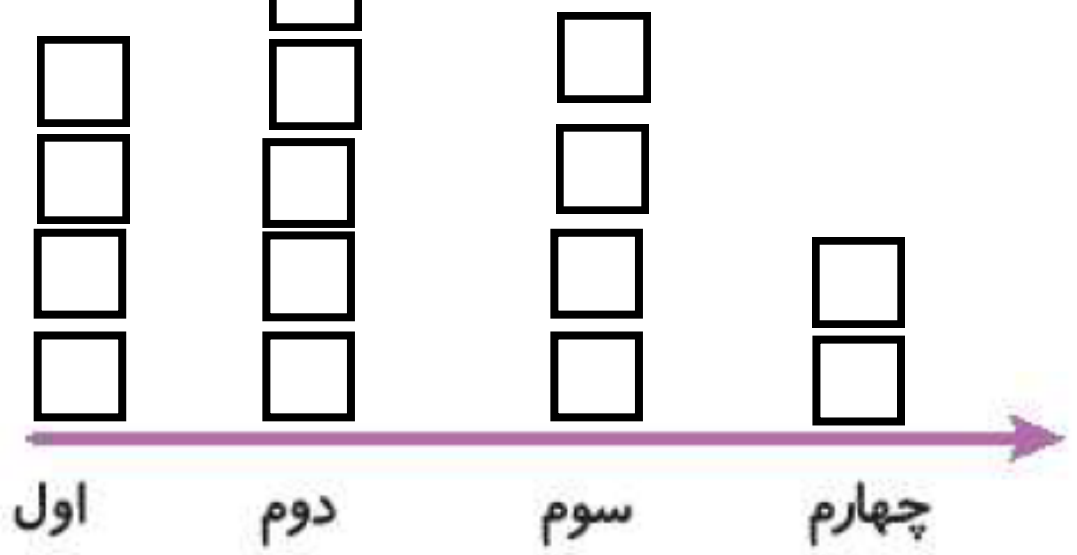
درنا یک دفتر و یک پاک کن خرید و ۷۸ ریال پول داد. اگر قیمت دفتر ۵۳ ریال باشد، قیمت پاک کن چقدر است؟

$$\begin{array}{r}
 78 \\
 -53 \\
 \hline
 25
 \end{array}$$

قیمت پاک کن ۲۵ ریال است.

۶

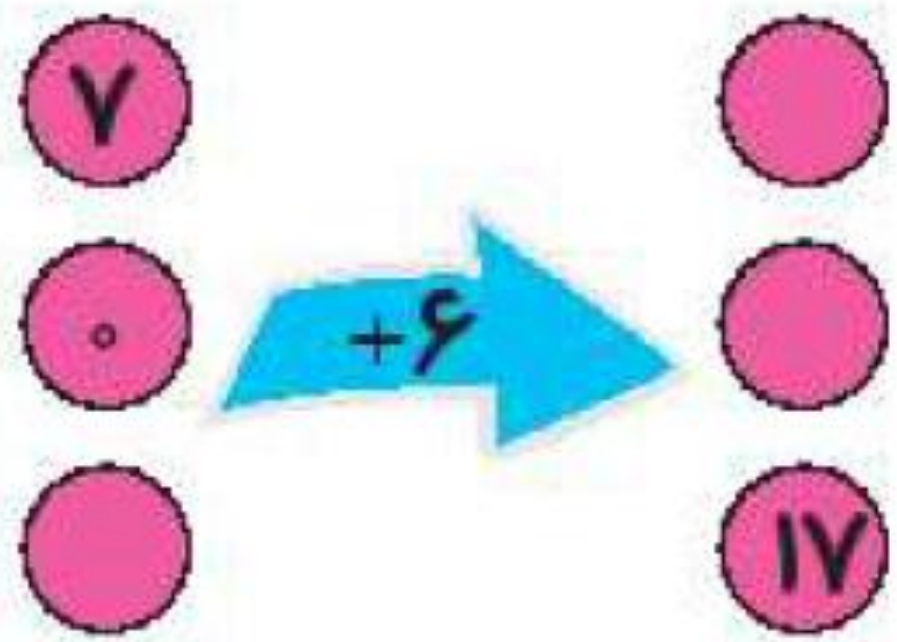
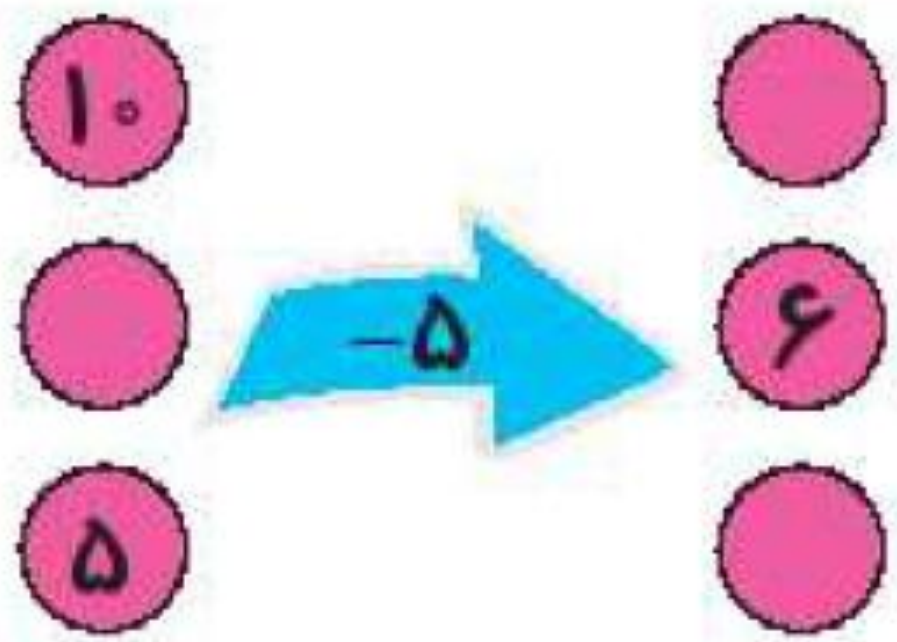
تعداد دانش آموزان کلاس اول تا چهارم در مدرسه‌ای در جدول زیر آمده است نمودار تصویری را بر رسم کن.



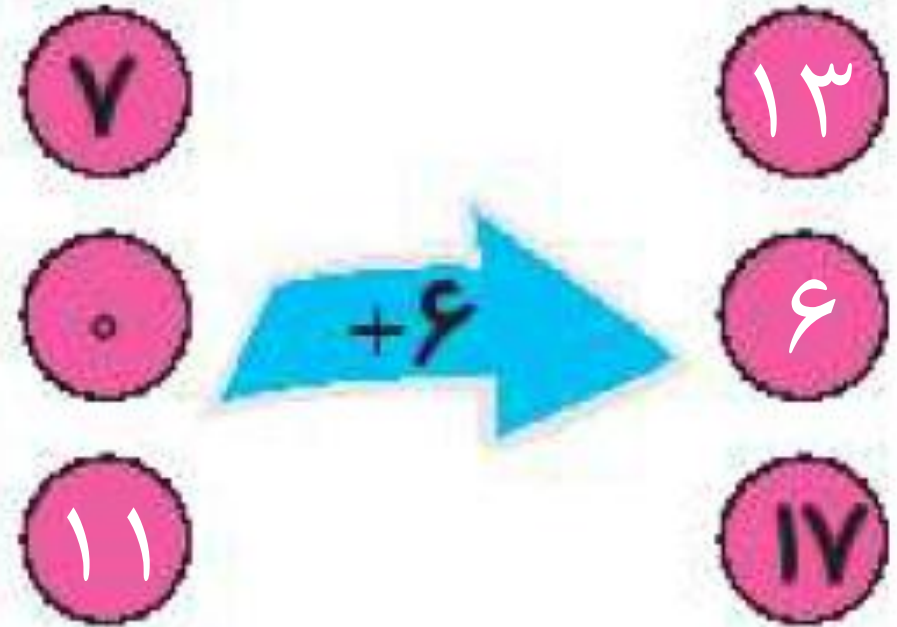
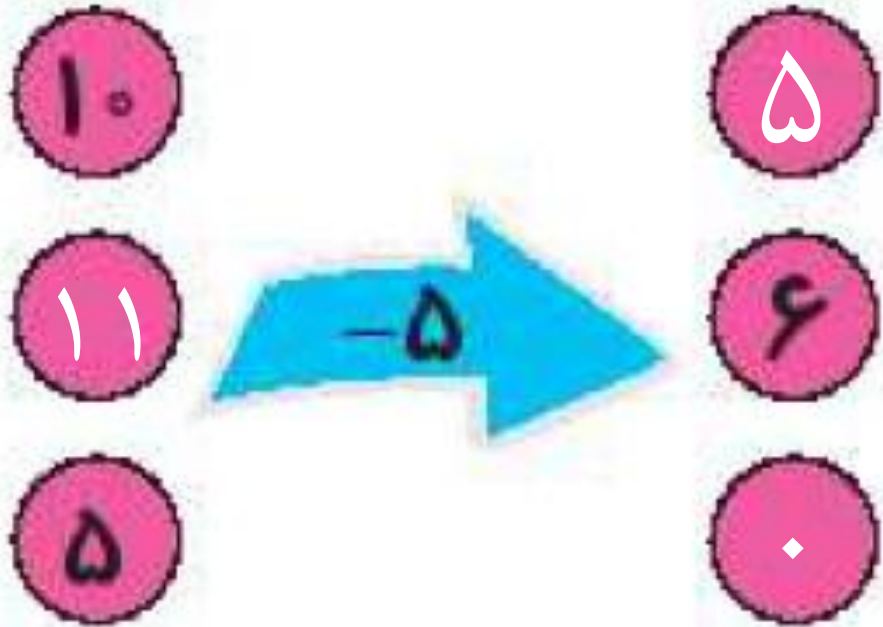
کلاس	اول	دوم	سوم	چهارم
تعداد دانش آموزان	۱۶	۳۱	۲۲	۱۴
تعداد تقریبی دانش آموزان	۲۰	۳۰	۲۰	۱۰

(هر نشان دهنده ۵ دانش آموز می باشد.)

۷ جاهای خالی را پر کن.




جاهای خالی را پر کن. ۷




جدول سمت چپ نشان می‌دهد که دانش‌آموزان کلاس دوم مدرسه ی علوی به چه فصل‌هایی علاقه‌مند می‌باشند. جدول سمت راست را کامل کن.





فصل‌ها	تعداد دانش‌آموزان
بهار	
تابستان	
پاییز	
زمستان	

فصل‌ها	تعداد دانش‌آموزان
بهار	
تابستان	
پاییز	
زمستان	

 دو دانش‌آموز

 یک دانش‌آموز

جدول سمت چپ نشان می‌دهد که دانش‌آموزان کلاس دوم مدرسه ی علوی به چه فصل‌هایی علاقه‌مند می‌باشند. جدول سمت راست را کامل کن.

فصل‌ها	تعداد دانش‌آموزان
بهار	
تابستان	
پاییز	
زمستان	

فصل‌ها	تعداد دانش‌آموزان
بهار	
تابستان	
پاییز	
زمستان	



دو دانش‌آموز



یک دانش‌آموز

با توجه به جدول بالا به سؤالات زیر پاسخ بده و گزینه‌ی صحیح را انتخاب کن.

الف: تعداد دانش آموزان در کدام فصل سال پیش‌تر است؟

(۱) بهار

(۲) تابستان

(۳) پاییز

(۴) زمستان

ب: در کدام فصل سال اختلاف تعداد دانش‌آموزان ۵ تا است؟

(۱) بهار و تابستان

(۲) تابستان و پاییز

(۳) پاییز و زمستان

(۴) بهار و زمستان

پ: مجموع تمام تعداد دانش‌آموزان کلاس دوم علوی چند نفر است؟

(۱) ۳۲

(۲) ۳۱

(۳) ۳۳

(۴) ۳۵

با توجه به جدول بالا به سوالات زیر پاسخ بده و گزینه‌ی صحیح را انتخاب کن.

الف: تعداد دانش آموزان در کدام فصل سال پیش‌تر است؟

زمستان (۴)

پاییز (۳)

تابستان (۲)

بهار (۱)

ب: در کدام فصل سال اختلاف تعداد دانش‌آموزان ۵ تا است؟

بهار و زمستان (۴)

پاییز و زمستان (۳)

تابستان و پاییز (۲)

بهار و تابستان (۱)

پ: مجموع تمام تعداد دانش‌آموزان کلاس دوم علوی چند نفر است؟

۳۵ (۴)

۳۳ (۳)

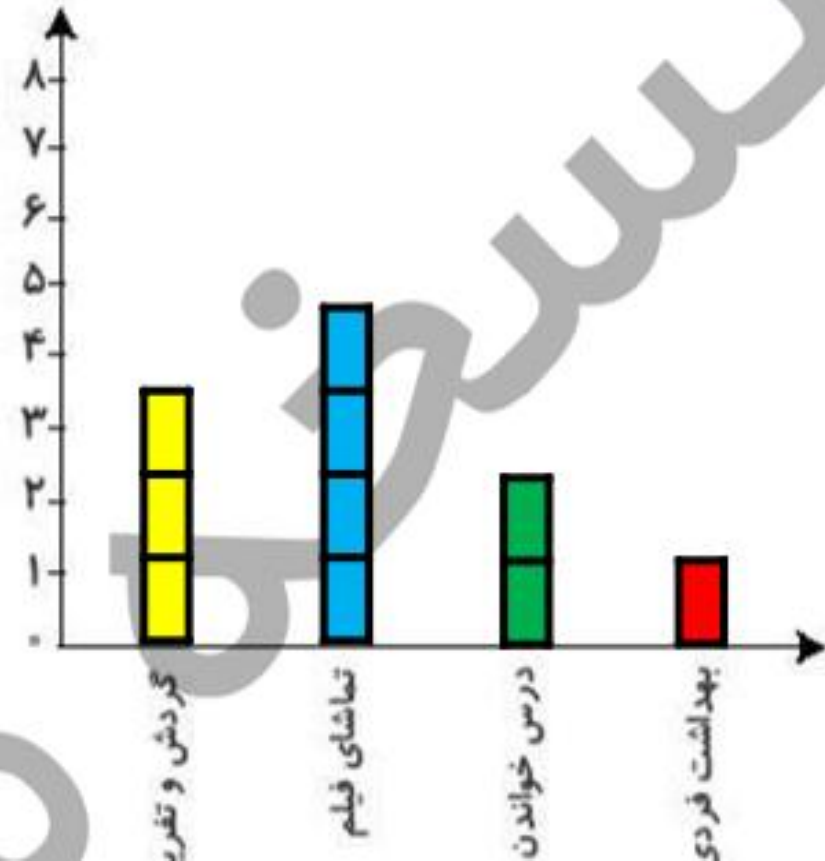
۳۱ (۲)

۳۲ (۱)

۱ بعضی از کارهایی که برنا در یک روز انجام داده، در جدول زیر نوشته شده است. برای هر ساعت یک قسمت از شکل

داده شده را رنگ آمیزی کن سپس نمودار ستونی را برای آن رسم کن.

کارهای انجام داده	درس خواندن	تماشای فیلم	گردش و تفریح	بهداشت فردی
ساعت	۲	۴	۳	۱



در یک باغ وحش تعدادی حیوان نگه داری می شوند، پس از کمال کردن جدول، نمودار تصویری را رسم کن.



نام حیوان	میمون	فیل	پرنده	شیر
تعداد	۱۸	۳۷	۲۵	۱۲
تعداد تقریبی	۲۰	۴۰	۳۰	۱۰

(هر ۱۰ حیوان را با \triangle نشان بده.)

