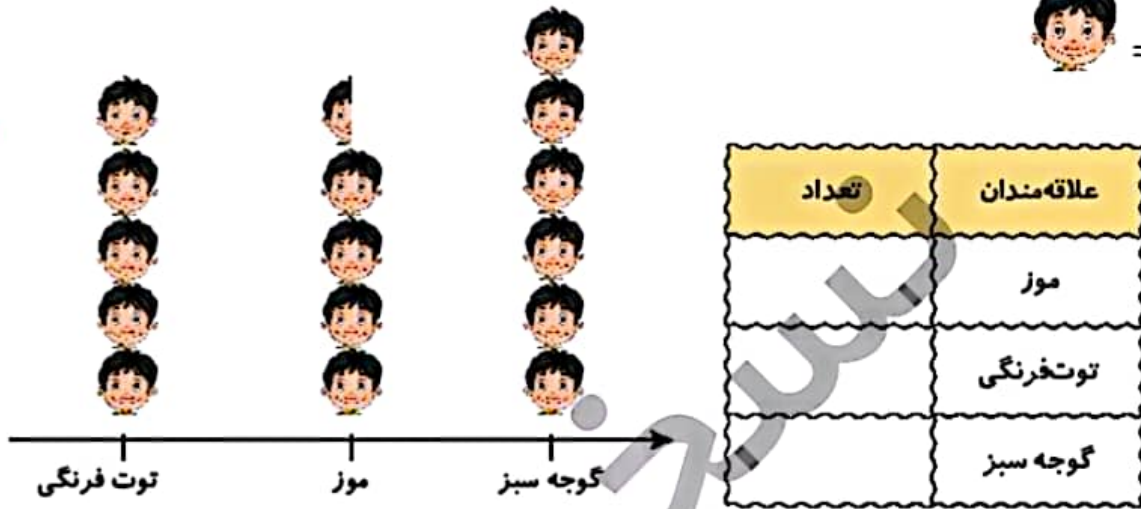


علوی

۴ نمودار تصویری زیر تعداد علاقه‌مندان به میوه‌های موز، توت‌فرنگی و گوجه‌سبز را در یک مدرسه نشان می‌دهد. تعداد علاقه‌مندان به هر میوه را بنویس.



۵ درنا یک دفتر و یک پاک‌کن خرید و ۷۸ ریال پول داد. اگر قیمت دفتر ۵۲ ریال باشد، قیمت پاک‌کن چقدر است؟


.....

.....

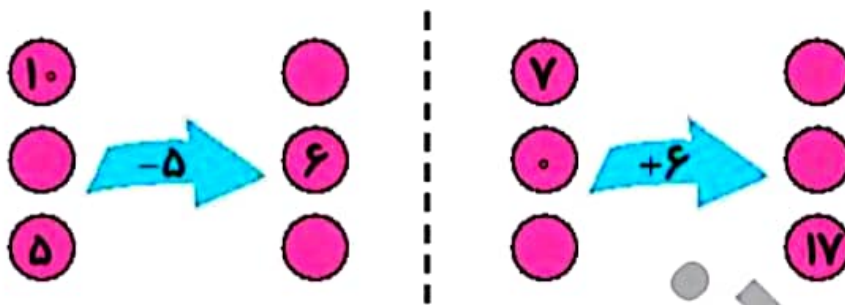
۶ تعداد دانش‌آموزان کلاس اول تا چهارم در مدرسه‌ای در جدول زیر آمده است نمودار تصویری را برای آن رسم کن.

کلاس	اول	دوم	سوم	چهارم
تعداد دانش‌آموزان	۱۶	۳۱	۲۲	۱۴
تعداد تقریبی دانش‌آموزان				

(هر نشان‌دهنده ۵ دانش‌آموز می‌باشد.)



7 جاهای خالی را پر کن.



8 جدول سمت چپ نشان می‌دهد که دانش‌آموزان کلاس دوم مدرسه‌ی علوی به چه فصل‌هایی علاقه‌مند می‌باشند. جدول سمت راست را کامل کن.

فصل‌ها	تعداد دانش‌آموزان	فصل‌ها	تعداد دانش‌آموزان
بهار		بهار	□ □ □ □ □ □ □ □
تابستان		تابستان	
پاییز		پاییز	
زمستان		زمستان	

□ یک دانش‌آموز دو دانش‌آموز

9 با توجه به جدول بالا به سؤالات زیر پاسخ بده و گزینه‌ی صحیح را انتخاب کن.

الف: تعداد دانش‌آموزان در کدام فصل سال پیش‌تر است؟

- (1) بهار (2) تابستان (3) پاییز (4) زمستان

ب: در کدام فصل سال اختلاف تعداد دانش‌آموزان 5 تا است؟

- (1) بهار و تابستان (2) تابستان و پاییز (3) پاییز و زمستان (4) بهار و زمستان

پ: مجموع تمام تعداد دانش‌آموزان کلاس دوم علوی چند نفر است؟

- (1) 22 (2) 21 (3) 22 (4) 25



.۴

تعداد	علاقه‌مندان
۴۵	موز
۵۰	توت فرنگی
۶۰	گوجه سبز

۵. قیمت پاک کن ۷۸ ریال است.

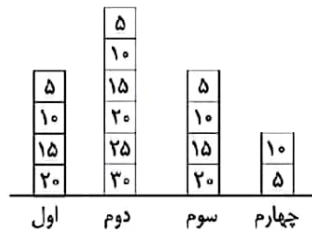
$$۵۳ + \square = ۷۸$$

حدس اول $۵۳ + ۲۰ = ۷۸$ ✗

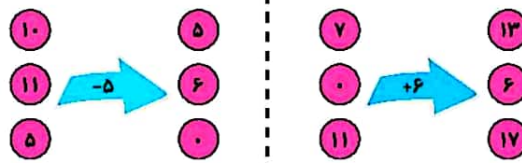
حدس دوم $۵۳ + ۲۵ = ۷۸$ ✓

۶.

کلاس	اول	دوم	سوم	چهارم
تعداد دانش آموزان	۱۶	۳۱	۲۲	۱۴
تعداد تقریبی	۲۰	۳۰	۲۰	۱۰



۷.



۱۳۹

۸.

فصلها	
بهار	۱۲
تابستان	۱۰
پاییز	۵
زمستان	۶

۹. الف) گزینه «۱»

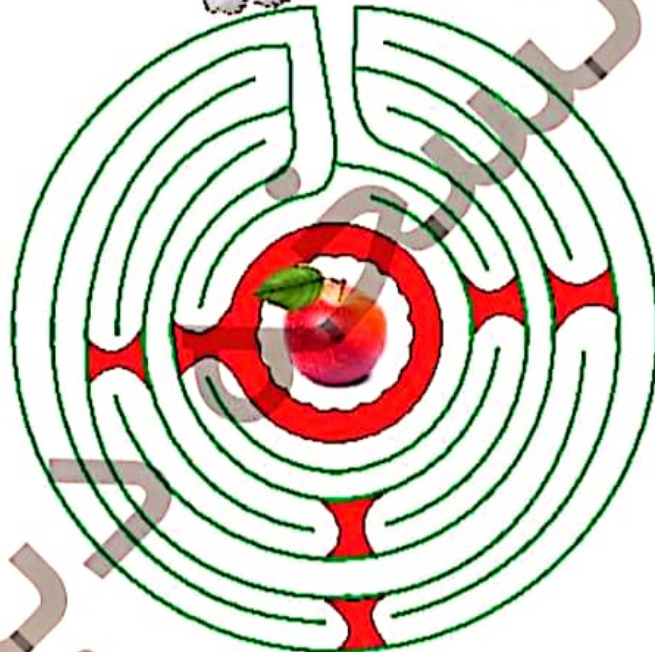
ب) گزینه «۲»

پ) گزینه «۳»

$$۱۲ + ۱۰ + ۵ + ۶ = ۳۳$$

زنگ تفریح

موش کوچولو را به غذایش برسان.



خودارزیابی

نیاز به تلاش قابل قبول خوب خیلی خوب

<input type="radio"/>	<input type="radio"/>	<input type="radio"/>	<input type="radio"/>
<input type="radio"/>	<input type="radio"/>	<input type="radio"/>	<input type="radio"/>
<input type="radio"/>	<input type="radio"/>	<input type="radio"/>	<input type="radio"/>
<input type="radio"/>	<input type="radio"/>	<input type="radio"/>	<input type="radio"/>



مهارت حل مسئله‌ها به صورت نمادین

نمایش نمودار تصویری

استفاده از ماشین جمع و تدریق

توانایی به نمایش در آوردن اطلاعات در نمودار تصویری



فعالیت عملکردی



عزیزم لوازم تحریر خود را با دقت بشمار و جدول داده شده را تکمیل کن. به جای هر دو وسیله‌ی انتخاب شده، یک 😊 در نظر بگیر. حال یک جدول بکش و جدول را با توجه به تعداد لوازم تحریر خود تکمیل کن و در آخر نمودار تصویری آن را رسم کن.

لوازم تحریر	تعداد	تعداد تقریبی	😊
			
			
			

