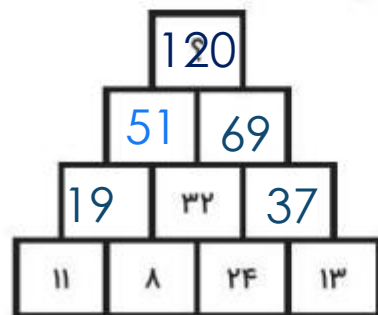


موضوع	شماره سوال	هفته آموزشی
هوش ریاضی	۱	پانزدهم
هوش کلامی	۲	
هوش فضایی	۳	
سرعت، دقت، تمرکز	۴	

۱. در چه عددی قرار می‌گیرد؟

با رقم‌های داخل چند عدد سه رقمی می‌توانی بنویسی؟ آن‌ها را بنویس.



120-210-102-201

۲. در متن زیر دور کلماتی که با یک‌دیگر واژه‌ی مشترک دارند، خط سبز رنگ بکش.



«خرگوش بازیگوش در جنگل زندگی می‌کرد. او هر روز برای پیدا کردن هویج در جنگل قدم می‌زد و به اطراف با دقت نگاه می‌کرد. یک روز گوشواره‌ی قشنگی را روی زمین دید، آن را برداشت تا صاحبش را پیدا کند. کمی جلوتر با دیدن دوستش که یک گوشواره در گوش داشت، متوجه شد که صاحب آن را پیدا کرده است.»

۳. با کنار هم قرار دادن این ۷ تکه شکل جدید بساز.



به عهده ی دانش آموز

۴. اگر شنل قرمزی بین ۶۰ تا ۷۰ امتیاز جمع کند، می‌تواند از درخت میوه بچیند. به او کمک کن تا بداند

باید از کدام درخت، سیب بچیند.



۶۳ امتیاز

موضوع	شماره سوال	هفته آموزشی
هوش ریاضی، جمع و تفریق	۱	شانزدهم
هوش کلامی	۲	
سرعت، دقت، تمرکز	۳	
هوش فضایی	۴	

۱. عبارتهای برابر را به هم وصل کن.

۴۲۰	$(500 - 200 + 100) + 20$	$100 + 200 + 15$	۳۱۵
۴۶۰	$(10 + 20 + 30) + (900 - 500)$	$100 + 200 + 300$	۶۰۰
۳۱۵	$(9-4) + (8-3) + (7-2) + 300$	$300 + 100 + 50 + 10$	۴۶۰
۶۰۰	$(100-1) + (100+1) + (200-1) + (200+1)$	$200 + 50 + 100 + 20 + 50$	۴۲۰
۲۵۰	$800 - 300 - 200 - 50$	$500 - 50 - 200$	۲۵۰

۲. بعضی‌ها خیلی عجیب و غریب‌اند. اگر سر درد بگیرند یا یک روز درس را نفهمند یا اگر یک بار در بازی ببازند، حسابی غمگین می‌شوند. هر کسی آن‌ها را ببیند، خیال می‌کند آن‌ها در یک دردسر بزرگ افتاده‌اند. مردم که به این جور آدم‌ها می‌رسند، شوخی می‌کنند و می‌گویند:

مگه کشتی‌هایت غرق شده است؟ ...!؟

یعنی به خاطر یک مشکل کوچک که نباید این قدر غمگین شوی.



علوی

















۳. با حذف یکان، تقریب درست را پیدا کن و دور آن خط بکش.

$$۱۴۸ \leftarrow (۲۰۰ - \underline{۱۴۰} - ۱۵۰ - ۱۰۰)$$

$$۵۷۳ \leftarrow (\underline{۵۷۰} - ۵۹۰ - ۵۰۰ - ۵۸۰)$$

$$۸۶۱ \leftarrow (\underline{۸۷۰} - ۸۶۰ - ۸۰۰ - ۹۶۰)$$

۴. اگر از بالا به شکل‌های سمت چپ نگاه کنیم، کدام تصویر سمت راست را می‌بینیم؟

	 []	 []	 []
	 []	 []	 []
	 []	 []	 []
	 []	 []	 []

موضوع	شماره سوال	هفته آموزشی
هوش ریاضی - ساخت اعداد	۱	هفدهم
هوش کلامی	۲	
هوش فضایی	۳	
سرعت، دقت، تمرکز	۴	

۱. یک عدد سه رقمی داریم که رقم یکان آن ۲ و رقم دهگان آن ۴ تا بزرگ‌تر از یکان و رقم صدگان آن ۳ تا کوچک‌تر از دهگان آن است. این عدد را با رقم و حروف بنویس.

۳۶۲

رقم:

حروف: سیصد و شصت و دو

۲. دور کلمه‌هایی که مربوط به آینده است، خط بکش.

بهنام و پدر و مادرش برای یک سفر جذاب برنامه‌ریزی کردند. آن‌ها فردا با قطار به سمت رشت حرکت خواهند کرد. بعد از رسیدن به این شهر، از میدان زیبای شهرداری دیدن خواهند کرد. آن‌ها تصمیم گرفته‌اند که از غذاهای محلی این شهر بخورند و به رستوران بزرگ آن‌جا خواهند رفت. آن‌ها مطمئن هستند که در این سفر به آن‌ها بسیار خوش خواهد گذشت.



علوی

۳. یگانه در مسابقه‌ای شرکت کرد و در مرحله‌ی اول ۵۷۰ امتیاز به دست آورد و در مرحله‌ی دوم ۲۰ امتیاز از دست داد و در مرحله‌ی سوم ۶۰ امتیاز دیگر به دست آورد. تعداد امتیازهای یگانه را روی چرتکه‌اش نشان بده.



۴. حاصل جمع اعداد کدام ماهی، با عدد روی قلاب ماهیگیری یکسان است؟



موضوع	شماره سوال	هفته آموزشی هجدهم
هوش ریاضی- اندازه گیری	۱	
هوش فضایی	۲	
هوش کلامی	۳	
سرعت، دقت، تمرکز	۴	

۱. پاک کن خود را یک واحد اندازه گیری در نظر بگیر و نام آن را «دانه» بگذار. مداد مشکی و قرمز خود را با این واحد اندازه گیری کرده و جاهای خالی را پر کن.

مداد مشکی دانه است.

مداد قرمز دانه است.

به عهده ی دانش آموز

۲. سعید، محمد و علی قد خود را اندازه گرفتند و متوجه شدند که سعید از علی کمی بلندتر و از محمد کمی کوتاهتر است. همچنین محمد از علی بلندتر است. حالا تو بگو:

- ◆ چه کسی از همه بلندتر است؟ محمد
- ◆ چه کسی از همه کوتاهتر است؟ علی
- ◆ جاهای خالی را با نوشتن اسم بچه‌ها، کامل کن.



علی



محمد



سعید



علوی

۳. امروز درنا و برنا در مدرسه با وسایل مختلف، مدادهایشان را اندازه گرفتند و متوجه شدند برای این که به جواب دقیق تری در اندازه گیری برسند، بهتر است همه از یک وسیله ی یکسان استفاده کنند.

♦ در متن بالا چند بار نشانه ی «س» را دیدی؟ ۷ بار

♦ در خط دوم چند بار نشانه ی «ن» را دیدی؟ ۵ بار

♦ اختلاف تعداد این دو نشانه چقدر است؟ ۴ بار

۴. هر قطعه در کدام جای خالی قرار می‌گیرد؟



موضوع	شماره سوال
هوش ریاضی، حدس و آزمایش	۱
هوش کلامی	۲
هوش فضایی	۳
سرعت، دقت، تمرکز	۴

هفته آموزشی

نوزدهم

۱. در یک پارکینگ ۴ موتور و ماشین وجود دارد. اگر ۱۴ چرخ در این پارکینگ باشد؛ چند موتور و چند ماشین در این پارکینگ است؟



سه ماشین و یک موتور

$$۴+۴+۴+۲=۱۴$$

۲. مریم و برادرش به پارک می‌رفتند که تصمیم گرفتند به صداهای اطراف خود به خوبی گوش دهند. آن‌ها صدای قارقار کلاغ‌ها، بوق ماشین‌ها، حرف زدن آدم‌ها و صدای دریلی که با آن آسفالت را تعمیر می‌کردند شنیدند. وقتی به پارک رسیدند، صدای اذان از مسجد کنار پارک و صدای هیاهوی بچه‌ها به گوششان رسید. به آن‌ها کمک کن تا بتوانند جدولی از صداهایی که آزارشان داده و صداهایی که برایشان دلنشین بوده را تهیه کنند.



صداهای دلنشین	صداهای آزاردهنده

۳. با سه تا لیوان بزرگ، یک پارچ پر می‌شود. با دو تا لیوان کوچک، یک لیوان بزرگ پر می‌شود. یک پارچ شیر و دو لیوان کوچک کاکائوی آب شده داریم و می‌خواهیم با آن‌ها شیر کاکائو درست کنیم.



چند لیوان بزرگ را می‌توانیم پر از شیر کاکائو کنیم؟ ۴ لیوان بزرگ

۴. جدول شگفت‌انگیز را کامل کن.

۴. جدول شگفت‌انگیز را کامل کن.

۳	۱	۶	۷	۴	۲	۹	۸	۵
۸	۴	۵	۳	۶	۹	۲	۷	۱
۹	۷	۲	۵	۱	۸	۶	۴	۳
۷	۳	۴	۶	۹	۵	۱	۲	۸
۶	۸	۹	۴	۲	۱	۳	۵	۷
۲	۵	۱	۸	۷	۳	۴	۹	۶
۵	۶	۸	۹	۳	۴	۷	۱	۲
۱	۷	۳	۲	۸	۷	۵	۶	۴
۴	۲	۷	۱	۵	۶	۸	۳	۹

موضوع	شماره سوال
هوش ریاضی- اندازه گیری	۱
هوش کلامی	۲
هوش فضایی	۳
سرعت، دقت، تمرکز	۴

هفته آموزشی

بیستم

۱. طول خطهای زیر را نخست به صورت تقریبی بر حسب سانتی متر حدس بزن و سپس آنها را اندازه گیری کرده و جاهای خالی را پر کن.

(راهنمایی می توانی از یک نخ برای اندازه گیری دقیق خطها استفاده کنی.)



..... حدس

بین و سانتی متر



..... حدس

بین و سانتی متر



..... حدس

بین و سانتی متر



۲. یکی از معروف‌ترین شاعران و نویسندگان ایرانی است. او حدود ۷۰۰ سال پیش در شیراز متولد شد. نام کوچک وی «مُصلِح» بود. او در ۱۲ سالگی پدر خود را از دست داد. سعدی برای تحصیلات به مدرسه‌ی نظامیه در بغداد رفت. سپس به شیراز بازگشت. آرامگاه سعدی معروف به «سعدیه» در شیراز قرار دارد. از مهم‌ترین آثار او بوستان و گلستان است.

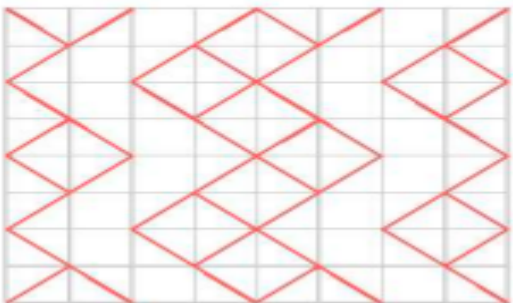
الف) سعدی در کجا تحصیل کرده است؟ مدرسه‌ی نظامیه در بغداد

ب) دو آثار مهم او را نام ببر. بوستان و گلستان

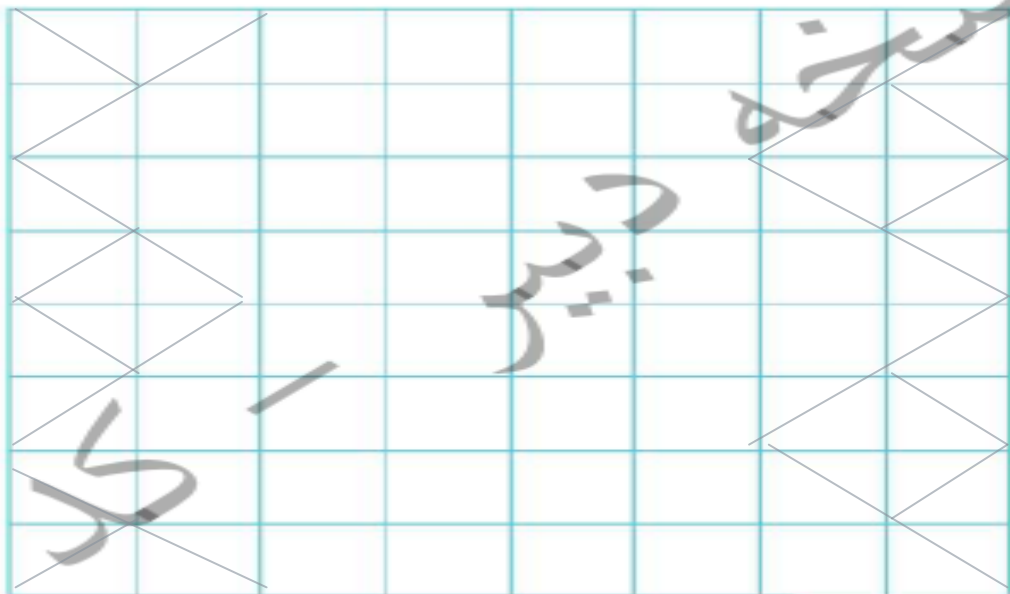
پ) نام کوچک او چیست؟ مصلح

ت) محل تولد و آرامگاه او در کدام شهر قرار دارد؟ شیراز

عـ و ی



۳. شکل سمت چپ را در جدول سمت راست با خطکش رسم کن.



نسخه

بگیر

کلی

۴. در یک مزرعه ۷ گاو و مرغ وجود دارد. اگر مجموع پاهای آن‌ها ۲۲ تا باشد، چند مرغ و چند گاو در این باغ است؟

(۱) ۲ مرغ و ۵ گاو

(۲) ۳ مرغ و ۴ گاو

(۳) ۵ مرغ و ۲ گاو

(۴) ۴ مرغ و ۳ گاو



موضوع	شماره سوال	هفته آموزشی
هوش ریاضی- اندازه گیری	۱	بیست و یکم
هوش کلامی	۲	
هوش قضایی	۳	
سرعت، دقت، تمرکز	۴	

۱. اندازه‌ی هر وسیله کدام یک می‌تواند باشد؟



۲. جمله‌های زیر با (از) و (در) کامل می‌شود. جاهای خالی را با این دو واژه کامل کن.

بندرعباس یکی از شهرهای زیبای جنوب ایران است و در فصل زمستان یکی از

بهترین مقصدها برای سفر است. چون هوای آن جا در این فصل بسیار دلپذیر است.

آیا تا به حال به این بندر زیبا سفر کرده‌ای؟



۳. در هر سبد تعدادی هندوانه، موز، سیب و خیار وجود دارد. اگر هر هندوانه نماد عدد ۱۰۰، هر موز نماد عدد ۱۰ و هر سیب نماد عدد ۵ و هر خیار نماد عدد ۱ باشد. هر سبد چه عددی را نشان می‌دهد؟



۱۸۳



۲۶۲

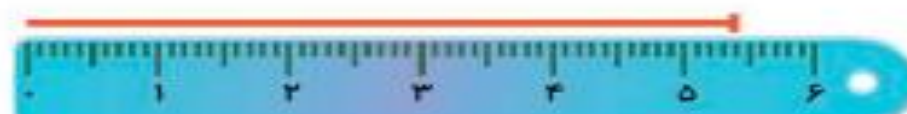
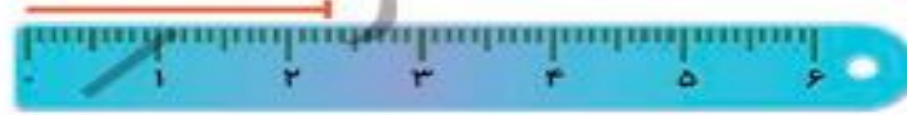
۴. اندازه‌های که هر خطکش نشان می‌دهد، به عدد آن وصل کن.

۵۴ میلی‌متر

۲۳ میلی‌متر

۴۵ میلی‌متر

۳۲ میلی‌متر



هفته آموزشی

بیست و دوم

شماره سوال	موضوع
۱	هوش ریاضی- جمع و تفریق اعداد سه رقمی
۲	هوش کلامی
۳	سرعت- دقت- تمرکز
۴	هوش فضایی

۱. شاهین ۲۶۰ ریال پول داشت. خواهرش ۳۲۰ ریال و پدرش ۳۰ ریال دیگر به او داد. روی جدول زیر، به ترتیب افزایش پول شاهین را مشخص کن و بنویس شاهین حالا چقدر پول دارد؟

۱۰	۲۰	۳۰	۴۰	۵۰	۶۰	۷۰	۸۰	۹۰	۱۰۰
۱۱۰	۱۲۰	۱۳۰	۱۴۰	۱۵۰	۱۶۰	۱۷۰	۱۸۰	۱۹۰	۲۰۰
۲۱۰	۲۲۰	۲۳۰	۲۴۰	۲۵۰	<u>۲۶۰</u>	۲۷۰	۲۸۰	۲۹۰	۳۰۰
۳۱۰	۳۲۰	۳۳۰	۳۴۰	۳۵۰	<u>۳۶۰</u>	۳۷۰	۳۸۰	۳۹۰	۴۰۰
۴۱۰	۴۲۰	۴۳۰	۴۴۰	۴۵۰	<u>۴۶۰</u>	۴۷۰	۴۸۰	۴۹۰	۵۰۰
۵۱۰	۵۲۰	۵۳۰	۵۴۰	۵۵۰	<u>۵۶۰</u>	<u>۵۷۰</u>	<u>۵۸۰</u>	<u>۵۹۰</u>	<u>۶۰۰</u>
<u>۶۱۰</u>	۶۲۰	۶۳۰	۶۴۰	۶۵۰	۶۶۰	۶۷۰	۶۸۰	۶۹۰	۷۰۰
۷۱۰	۷۲۰	۷۳۰	۷۴۰	۷۵۰	۷۶۰	۷۷۰	۷۸۰	۷۹۰	۸۰۰
۸۱۰	۸۲۰	۸۳۰	۸۴۰	۸۵۰	۸۶۰	۸۷۰	۸۸۰	۸۹۰	۹۰۰
۹۱۰	۹۲۰	۹۳۰	۹۴۰	۹۵۰	۹۶۰	۹۷۰	۹۸۰	۹۹۰	

۲. ساجده ۷ سال داشت که برادرش به دنیا آمد. حالا از آن زمان ۵ سال گذشته است و هر دو بزرگ

شده‌اند. حالا این خواهر و برادر روی هم چند سال دارند؟



۱۲ سال ساجده
۵ سال برادرش
 $۱۲+۵=۱۷$

چهارهوش دوم دبستان



علوی

۳. جمع و تفریق‌ها را به روش داده شده انجام بده. سپس آن بادکنکی را که جوابش بین ۵۰۰ تا ۶۰۰ است را قرمز کن.

$$\begin{array}{r} 125 \\ + 243 \\ \hline 325 \\ + 43 \\ \hline 368 \\ + 3 \\ \hline 371 \end{array}$$

$$\begin{array}{r} 523 \\ + 174 \\ \hline \end{array}$$

$$\begin{array}{r} 684 \\ + 302 \\ \hline \end{array}$$

$$\begin{array}{r} 746 \\ - 224 \\ \hline \end{array}$$

$$\begin{array}{r} 368 \\ - 104 \\ \hline \end{array}$$

دقیق

۴. در هر الگو، شکل بعدی را رسم کن.



۹



۹




۹



۹



۹



۹



