



نام و نام خانوادگی: _____ تاریخ: _____ موضوع: _____ هدف: _____

علی یک کتاب داستان جدید خریده است. او برای هر صفحه از کتاب که می‌خواند یک چوب‌خط کشیده است. صفحه‌هایی که علی در یک هفته خوانده است، در جدول زیر نشان داده شده است. جدول را کامل کن.

روز	چوب خط	تعداد
شنبه	//	
یکشنبه	/	
دوشنبه	////	
سه‌شنبه	//	
چهارشنبه	### /	
پنجشنبه	### ### ###	
جمعه	### ### //	
مجموع		



رضا تعداد ساعت‌های بازی خود در روزهای یک هفته را نوشته است.

روز	شنبه	یکشنبه	دوشنبه	سه‌شنبه	چهارشنبه	پنجشنبه	جمعه
ساعت	۱	۲	۲	۳	۲	۴	۳

در کدام روز، بیشتر بازی کرده است؟

 در کدام روز، کمتر بازی کرده است؟

 در این هفته چند ساعت بازی کرده است؟





نام و نام خانوادگی: _____ تاریخ: _____ موضوع: _____ هدف: _____

الگوها را ادامه بده.

عددهای زوج : ۲ ، ۴ ، ۶ ،
 عددهای فرد : ۱ ، ۳ ، ۵ ،
 ۲۵۱ ، ۲۵۳ ، ۲۵۵ ،

با کامل کردن جمله‌ها تعداد شکل‌های هر قسمت را مشخص کن.

..... تا تایی می‌شود

..... تا تایی می‌شود

..... تا تایی می‌شود

..... تا تایی می‌شود

..... تا تایی می‌شود





موضوع:

تاریخ

نام و نام خانوادگی

هدف:

علی ۳ مداد و یک دفتر را ۳۵۰ تومان خرید. قیمت هر مداد ۵۰ تومان بود.
قیمت دفتر را پیدا کن.



قدّ علی و رضا روی هم ۲۶۰ سانتی‌متر است. اگر قدّ علی ۱۴۰ سانتی‌متر باشد،
قدّ رضا را پیدا کن.



مینا ۲ شکلات و ۱ بستنی را ۵۳۰ تومان خرید. قیمت هر شکلات ۱۰۰ تومان بود.
قیمت بستنی را پیدا کن.





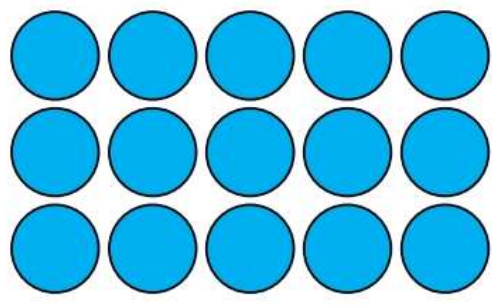
نام و نام خانوادگی: _____ تاریخ: _____ موضوع: _____ هدف: _____

جمله‌ها را کامل کن. برای هر شکل دو جمله بنویس.




..... تا تایی می شود.....

..... تا تایی می شود.....




..... تا تایی می شود.....

..... تا تایی می شود.....



..... تا تایی می شود.....

..... تا تایی می شود.....



..... تا تایی می شود.....

..... تا تایی می شود.....





نام و نام خانوادگی: _____ تاریخ: _____ موضوع: _____ هدف: _____

عددهای زیر را به نزدیکترین ده‌تایی به صورت تقریبی بنویس.

۱۲ → <input type="text"/>	۵۶ → <input type="text"/>	۳۷ → <input type="text"/>	۱۹ → <input type="text"/>
۲۲ → <input type="text"/>	۴۸ → <input type="text"/>	۶۹ → <input type="text"/>	۲۸ → <input type="text"/>
۱۷ → <input type="text"/>	۸۵ → <input type="text"/>	۳۳ → <input type="text"/>	۴۲ → <input type="text"/>
۷۴ → <input type="text"/>	۲۶ → <input type="text"/>	۴۴ → <input type="text"/>	۵۲ → <input type="text"/>

تعداد دانش‌آموزان کلاس‌های اول تا ششم، در یک دبستان به صورت زیر است:

ابتدا تعداد تقریبی دانش‌آموزان در کلاس را بنویس و جدول را کامل کن.


اگر هر ۱۰ دانش‌آموز را با 😊 نشان دهیم، نمودار زیر را کامل کن.

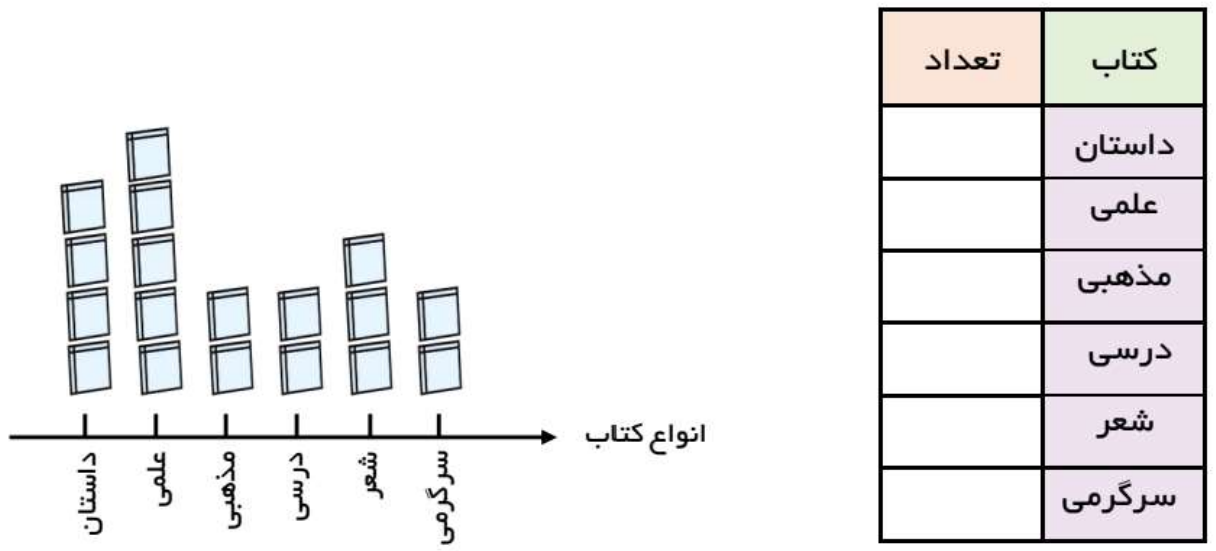
کلاس	اول	دوم	سوم	چهارم	پنجم	ششم
تعداد دانش‌آموزان	۵۲	۴۷	۳۸	۵۶	۶۲	۳۳
تعداد تقریبی						








نام و نام خانوادگی: _____ تاریخ: _____ موضوع: _____ هدف: _____

تعداد کتاب‌های کتابخانه‌ی یک دبستان به صورت تقریبی در جدول زیر مشخص شده است. اگر هر ۱۰۰ کتاب را با  نشان دهیم، با توجه به نمودار جدول را کامل کن.



کتاب	تعداد
داستان	
علمی	
مذهبی	
درسی	
شعر	
سرگرمی	

تعداد خانه‌های چند محله در جدول زیر آمده است. اگر هر ۱۰ خانه را با  نشان دهیم، جدول زیر را کامل کن.

نام محله	تعداد خانه	نمودار تصویری
دنا	۳۰	
سبلان	۴۰	
سهند		
دماوند		





نام و نام خانوادگی: _____ تاریخ: _____

موضوع: _____ هدف: _____

جاهای خالی را کامل کن.

۱۵		
	$+5$	
		-4
	۳۵	۱۰

		۲۰
۱۰	$+10$	
		-5
	۵۵	

		۲۷
	$+3$	
		$+2$
۱۸		۱۰

۱۴		
	$+7$	
		-2
	۳۷	۴۰

		۱۶
۱۳	$+3$	
		-4
		۳۰

		۵۶
۱۱	$+4$	
		$+6$
	۴۰	

		۱۹
	$+3$	
		-10
		۵۲
		۵۰

		۶۵
	-2	
		$+5$
		۲۸
		۲۰


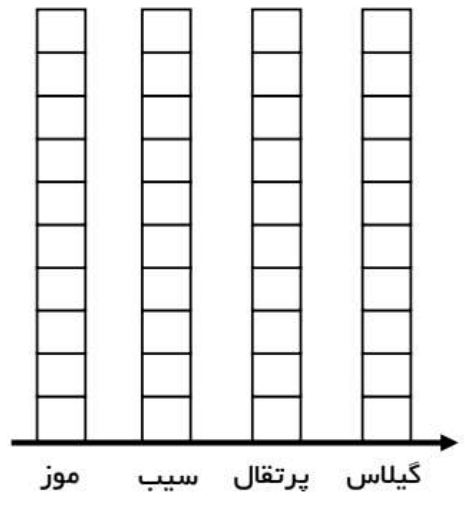




نام و نام خانوادگی: _____ تاریخ: _____ موضوع: _____ هدف: _____

مریم از بین سیب، گیلان، پرتقال و موز، میوه‌ی مورد علاقه‌ی هم کلاسی‌هایش را پرسید.
 پاسخ دوستانش به این ترتیب است:
 موز، موز، پرتقال، پرتقال، پرتقال، گیلان، موز، موز، پرتقال، سیب، موز، موز، موز، پرتقال،
 پرتقال، سیب، سیب، سیب، پرتقال، موز، موز، پرتقال، سیب، پرتقال، پرتقال.
 جدول و نمودار زیر را کامل کن.

تعداد	چوب‌خط	میوه
		موز
		سیب
		پرتقال
		گیلان



برای جمله‌های زیر شکل مناسب بکش و جمله‌ها را کامل کن.

۲ تا ۴ تایی می‌شود.....

۳ تا ۷ تایی می‌شود.....

