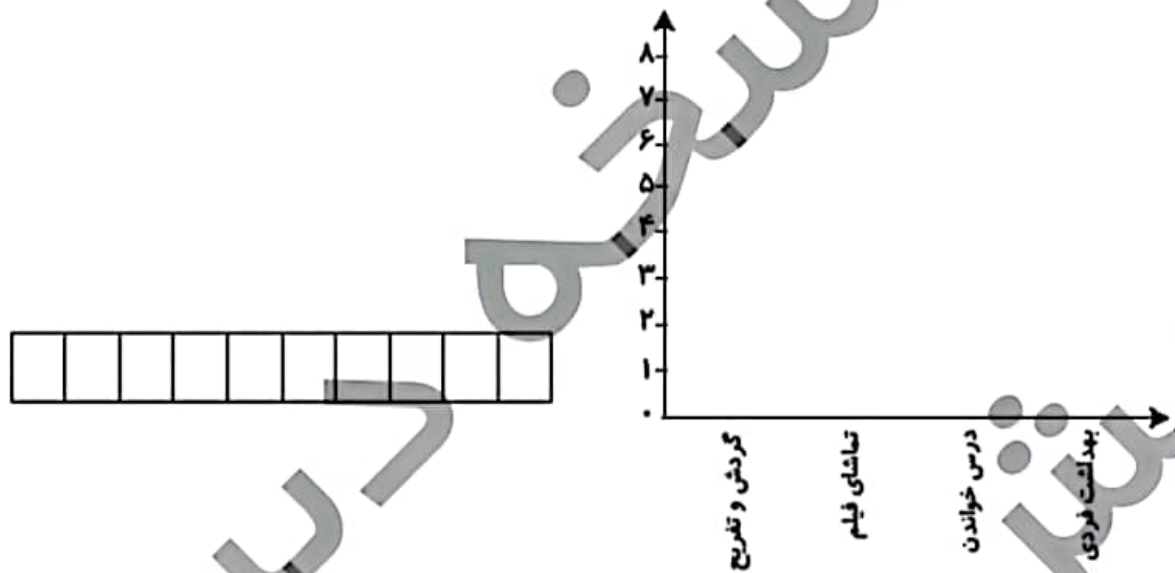


# فعالیت کلاسی



۱ بعضی از کارهایی که برنا در یک روز انجام داده، در جدول زیر نوشته شده است. برای هر ساعت یک قسمت از شکل داده شده را رنگ آمیزی کن سپس نمودار ستونی را برای آن رسم کن.

|             |              |             |            |                   |
|-------------|--------------|-------------|------------|-------------------|
| بهداشت فردی | گردش و تفریح | تماشای فیلم | درس خواندن | کارهای انجام داده |
| ۱           | ۳            | ۴           | ۲          | ساعت              |



۲ در یک باغ وحش تعدادی حیوان نگه داری می شوند، پس از کمال کردن جدول، نمودار تصویری را رسم کن.

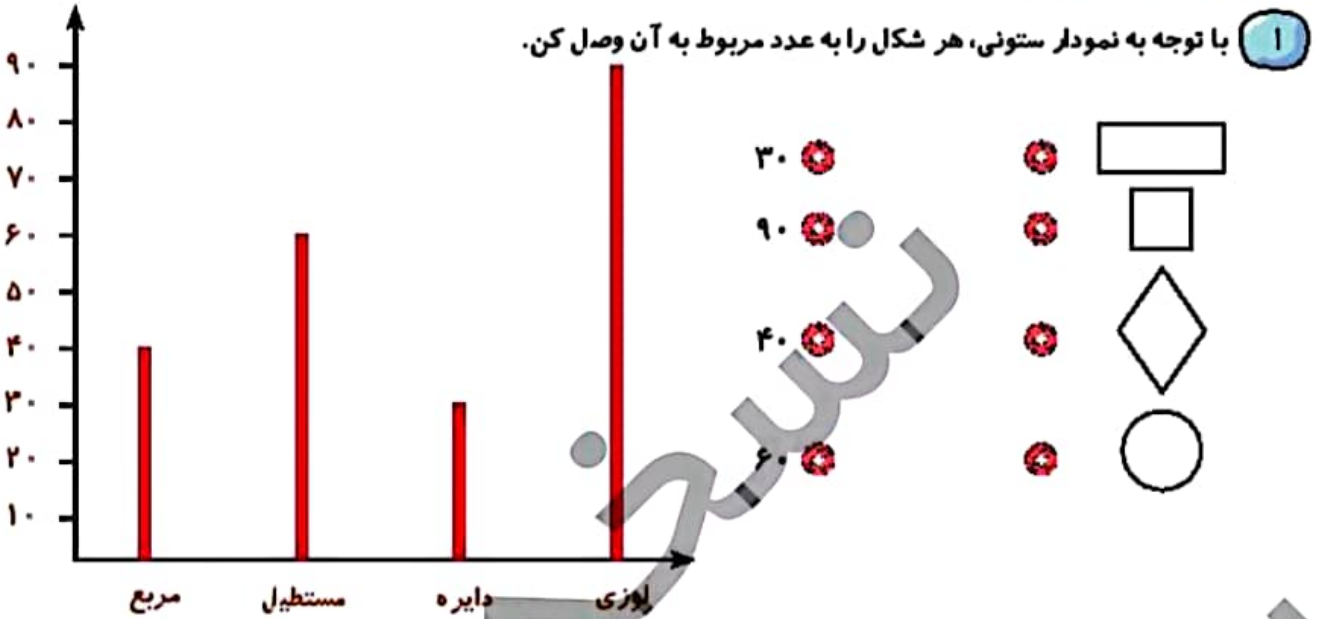


|     |       |     |       |              |
|-----|-------|-----|-------|--------------|
| شیر | پرنده | فیل | میمون | نام حیوان    |
| ۱۲  | ۲۵    | ۳۷  | ۱۸    | تعداد        |
|     |       |     |       | تعداد تقریبی |



(هر ۱۰ حیوان را با  $\triangle$  نشان بده.)

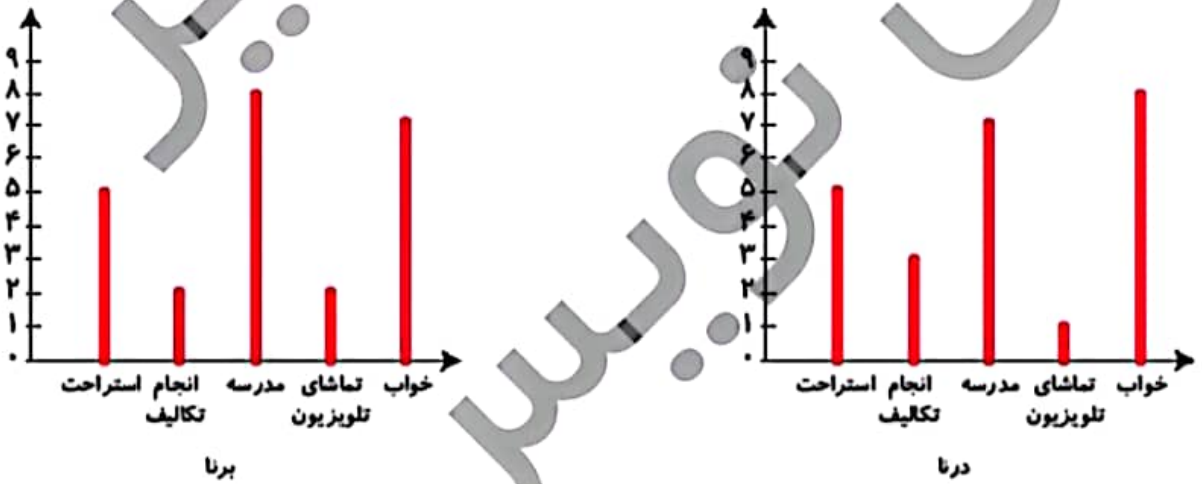




۲ درستی  و نادرستی  هر عبارت را مشخص کن.

- الف: نمودار ستونی برای نمایش اطلاعات بهتر از نمودار تصویری است.
- ب: یک سکه را ۲۰ بار پرتاب می‌کنیم. احتمال پشت یا رو آمدن سکه در پرتاب یکسان است.
- پ: اگر به عدد ۲۸ یک دسته‌ی ۱۰۰ تایی اضافه کنیم عدد بدست آمده یک عدد فرد است.

۳ نمودار کارهای روزانه‌ی درنا و برنا را در یک شبانه روز رسم کرده‌ایم. با توجه به نمودارها به پرسش‌های زیر پاسخ بده.

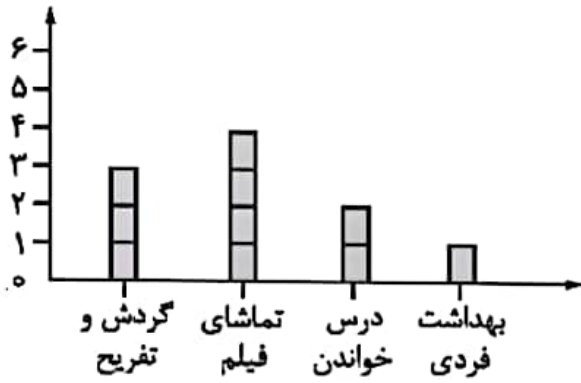


- الف: کدام یک مدت زمان بیشتری را برای انجام تکالیف خود اختصاص می‌دهند؟ .....
- ب: کدام یک بیشتر در مدرسه می‌ماند؟ .....
- پ: کدام یک مدت زمان بیشتری را صرف تماشای تلویزیون می‌کند؟ .....
- ت: مجموع استراحت و انجام تکالیف کدام یک کم‌تر است؟ .....



## فعالیت کلاسی صفحه ۲۰۴:

۱.



با توجه به کارهای برنا در یک روز به دلخواه رنگ شود.



۱۴۰

دوم دبستان

ریاضی

۲.

| نام حیوان    | میمون | فیل | پرنده | شیر |
|--------------|-------|-----|-------|-----|
| تعداد        | ۱۸    | ۳۷  | ۲۵    | ۱۲  |
| تعداد تقریبی | ۲۰    | ۴۰  | ۳۰    | ۱۰  |



## ریاضی

دوم دبستان

تمرین درس چهارم صفحه ۲۰۵:

۱. مستطیل ← ۶۰

مربع ← ۴۰

لوزی ← ۹۰

دایره ← ۳۰

۲. الف) درست

ب) درست

پ) نادرست

۳. الف) درنا

ب) برنا

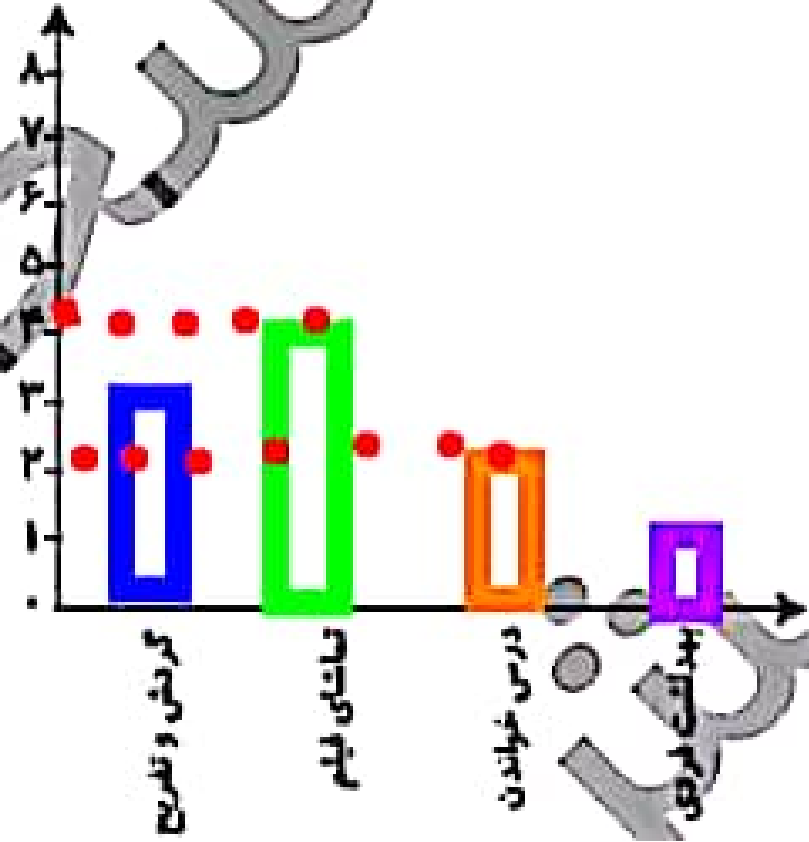

پ) برنا

ت) برنا

۱

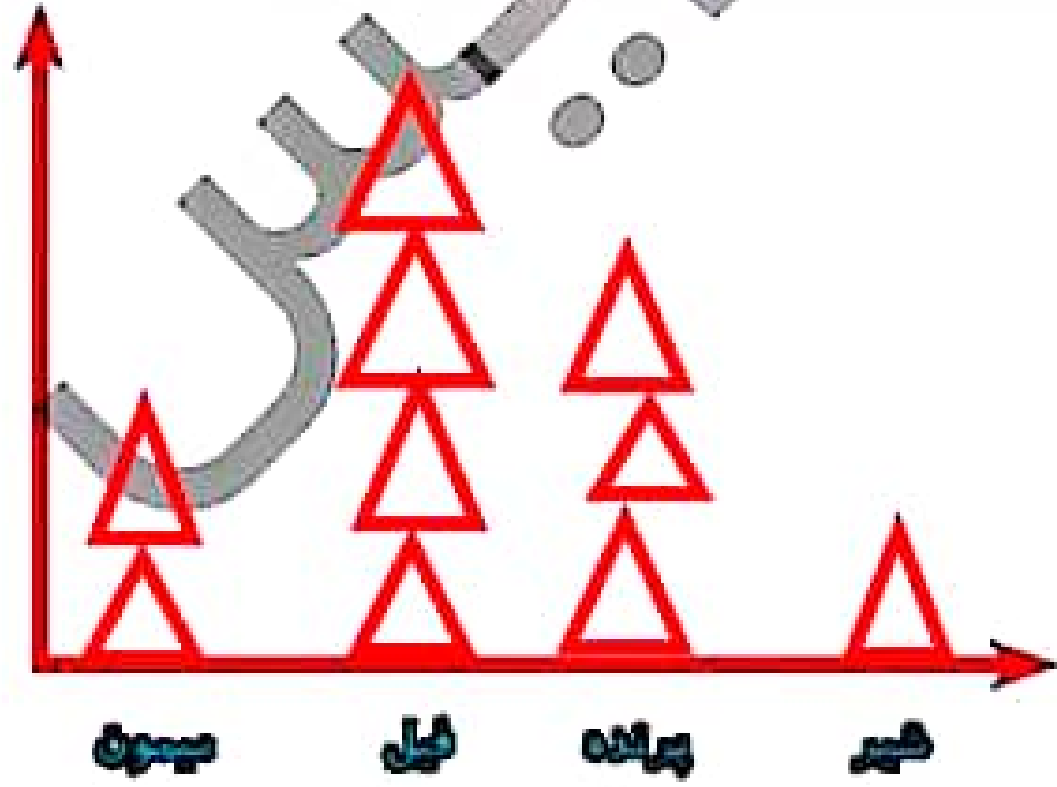
بعضی از کارهایی که برنا در یک روز انجام داده، در جدول زیر نوشته شده است. برای هر ساعت یک قسمت از شکل داده شده را رنگ آمیزی کن سپس نمودار ستونی را برای آن رسم کن.

|             |              |             |            |                   |
|-------------|--------------|-------------|------------|-------------------|
| بهداشت فردی | گردش و تفریح | تماشای فیلم | درس خواندن | کارهای انجام داده |
| ۱           | ۳            | ۴           | ۲          | ساعت              |



در یک باغ وحش تعدادی حیوان نگه داری می شوند، پس از کمال کردن جدول، نمودار تصویری را رسم کن.

|     |       |     |       |              |
|-----|-------|-----|-------|--------------|
| شیر | پرنده | فیل | میمون | نام حیوان    |
| ۱۲  | ۲۵    | ۳۷  | ۱۸    | تعداد        |
| 10  | 30    | 40  | 20    | تعداد تقریبی |



(هر ۱۰ حیوان را با  $\Delta$  نشان بده)

با توجه به نمودار ستونی، هر شکل را به عدد مربوط به آن وصل کن.

