




۱ بعضی از کارهایی که برنا در یک روز انجام داده، در جدول زیر نوشته شده است. برای هر ساعت یک قسمت از شکل داده شده را رنگ آمیزی کن سپس نمودار ستونی را برای آن رسم کن.

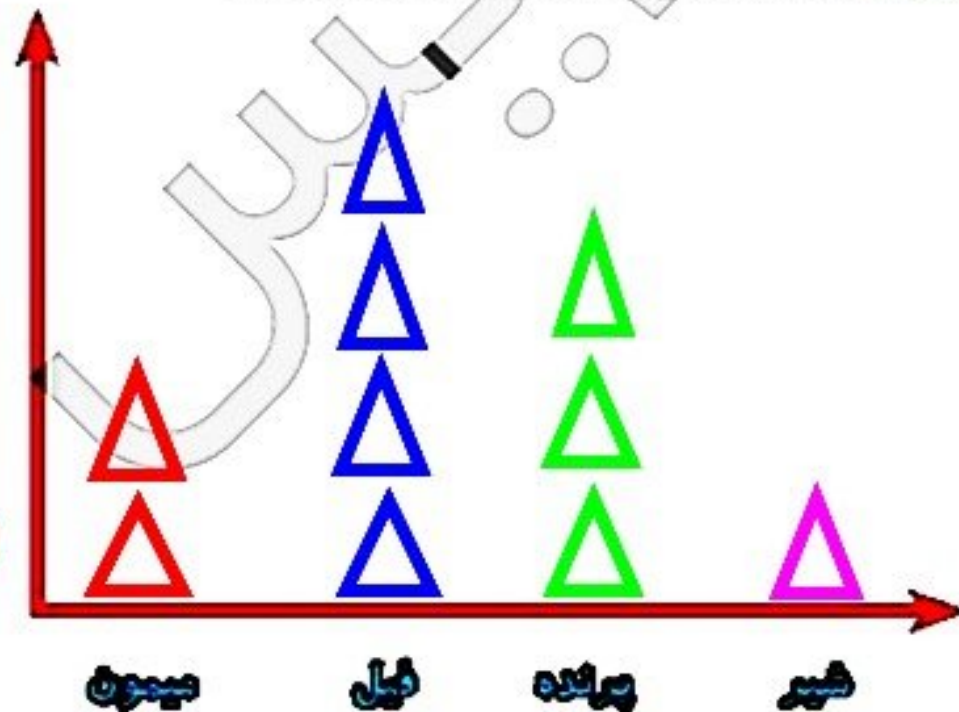
بهداشت فردی	گرددش و تفریح	تماشای فیلم	درس خواندن	کارهای انجام داده
۱	۳	۴	۲	ساعت



در یک باغ وحش تعدادی حیوان نگه داری می‌شوند. پس از کمال کردن جدول، نمودار تصویری را رسم کن.



نام حیوان	میمون	فیل	پرنده	شیر
تعداد	۱۸	۳۷	۲۵	۱۲
تعداد تقریبی	20	40	30	10


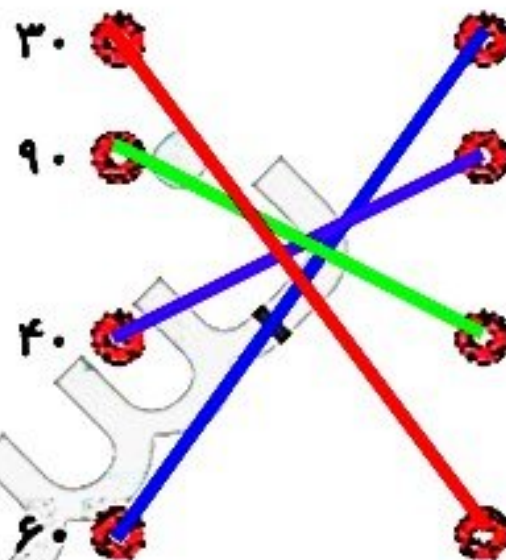
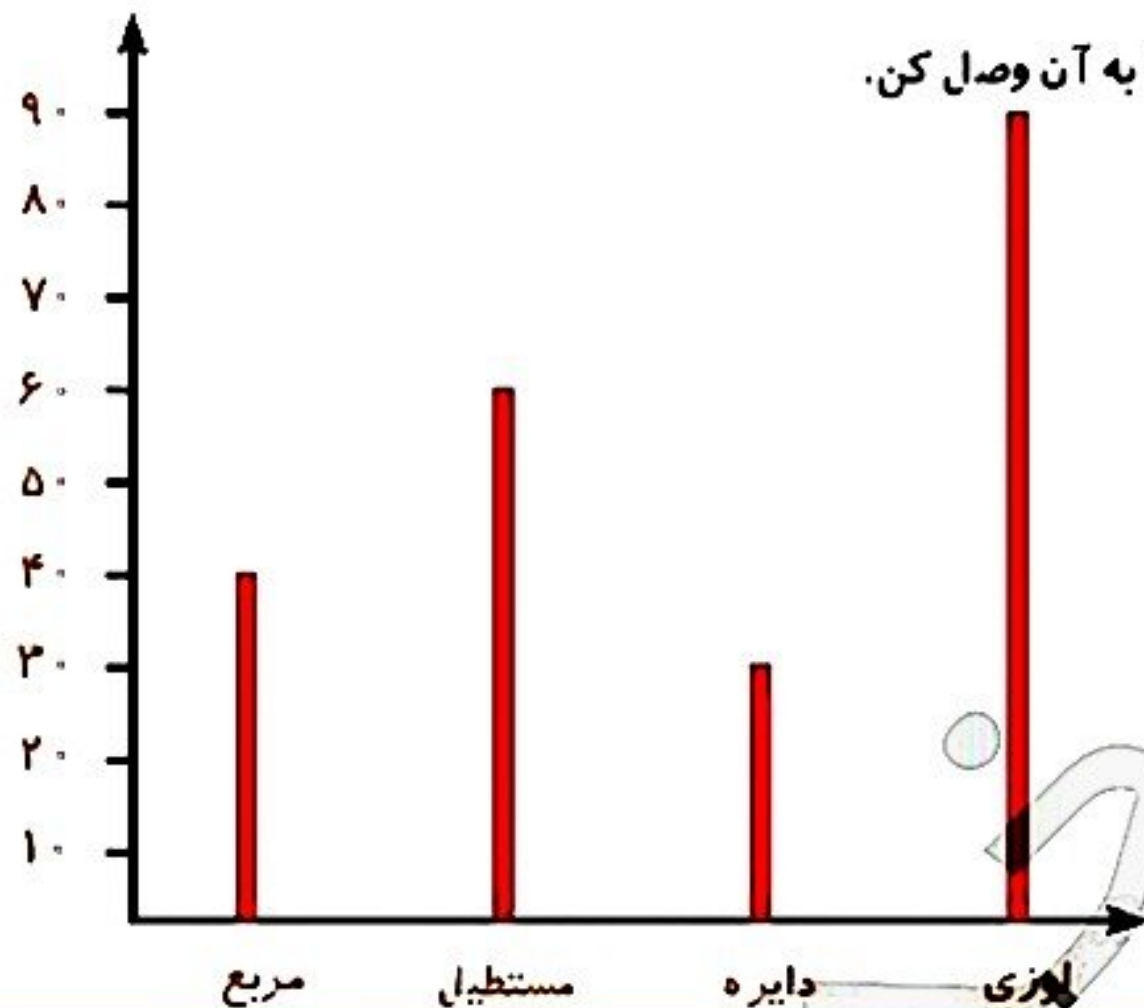


(هر ۱۰ حیوان را با \triangle نشان بده.)



با توجه به نمودار ستونی، هر شکل را به عدد مربوط به آن وصل کن.

۱



درستی و نادرستی هر عبارت را مشخص کن.

الف: نمودار ستونی برای نمایش اطلاعات بهتر از نمودار تصویری است.

ب: یک سکه را ۲۰ بار پرتاب می‌کنیم. احتمال پشت یا رو آمدن سکه در پرتاب یکسان است.

پ: اگر به عدد ۲۸ یک دسته ی ۱۰۰ تایی اضافه کنیم عدد بدست آمده یک عدد فرد است.