

ارمغان هفته - دوم دبستان

شماره‌ی

۲۵

نام و نام خانوادگی: تاریخ: نام آموزگار:

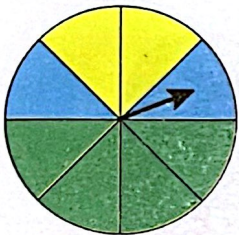
ریاضی < فصل ۷: کسر و احتمال - حل مسئله - مفهوم احتمال

علوم < درس ۱۳: بعد از جشن (۱)

فارسی < درس ۱۵: نوروز (۲)

ریاضی

۱ یک صفحه‌ی چرخنده به صورت زیر رنگ آمیزی شده است. احتمال ایستادن عقربه بر روی هر کدام از رنگ‌ها را مقایسه کرده و در جاهای خالی از کلمات (کم‌تر - بیش‌تر - مساوی) استفاده کنید.

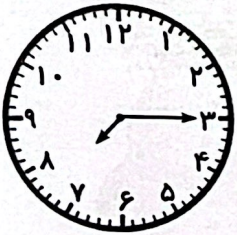


الف) احتمال ایستادن عقربه بر روی رنگ سبز از رنگ زرد است.

ب) احتمال ایستادن عقربه بر روی رنگ زرد با احتمال ایستادن عقربه بر روی رنگ آبی است.

پ) احتمال ایستادن عقربه بر روی رنگ آبی از رنگ سبز است.

۲ برنا ساعت ۷ از خانه بیرون آمد و ۱۵ دقیقه‌ی بعد به مدرسه رسید.



الف) او چند قسمت از یک ساعت را در راه بوده است؟

ب) مقدار چرخش را رنگ کنید.

پ) چند قسمت از یک ساعت مانده تا ساعت ۸ را شود؟

۳ پریسا ۱۲ سال و مادرش ۳۸ سال دارد. وقتی مادرش ۵۰ ساله شود، پریسا چند ساله می‌شود؟

۴ در یک کیسه ۲۰ مهره داریم. ۷ مهره‌ی سفید، ۵ مهره‌ی قرمز، ۴ مهره‌ی بنفش و ۴ مهره‌ی آبی.

الف) اگر یک مهره از کیسه بیرون بیاوریم، احتمال این‌که چه رنگی باشد بیش‌تر است؟

ب) مهره از مهره سفید است.


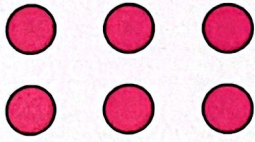
پ) مهره از مهره قرمز است.

ت) مهره از مهره بنفش است.

ث) مهره از مهره آبی است.



با توجه به شکل جمله‌ها را کامل کنید.




..... تایی می‌شود دسته (ب)

..... تایی می‌شود دسته (الف)

علوم

برچسب خوراکی‌هایی که در یخچال قرار می‌گیرند را داخل یخچال بچسبانید.



۲ درستي و نادرستي [✓] و [✗] هر عبارت را مشخص كنيد.

الف) از كاغذهاي باطله نمي توان دوباره استفاده كرد.

ب) ظرفهاي چرب را بايد با آب سرد شست تا بهتر تميز شوند.

پ) گوشت و مرغ را بايد در جاي سرد و خشك قرار داد.

۳ اگر بخواهيد زباله ها را تفكيك كنيد، برچسب هر زباله را در کدام قسمت مي چسبانيد؟

كاغذ	زباله هاي تر	زباله هاي خشك

۴ هر مورد را به مكان نگه داري مرتبط وصل كنيد.

نخود و لوبيا

جاي سرد و خشك

شير

شكر

جاي خشك

بستني

آجيل

فارسي

۱ با توجه به متن درس جمله ها را با كلمات مناسب كامل كنيد.

الف) روز فروردين را مردم مي گيرند و به اين روز مي گويند.

ب) پيش از شروع سال جديد همي مردم مي كنند و در جشن شركت مي كنند.

پ) اعضاي خانواده در لحظه ي تحويل سال مي كنند و از خداوند مي خواهند آن ها را خوب و كند.

۲ معني كلمات زير را بنويسيد.

الف) نخستين:

ب) كهن:

پ) در اين هنگام:

ت) اعضا:



کلمات داده شده را با (ان) جمع کنید و آن‌ها را مانند نمونه بنویسید.

پرنده	+ ان	←	پرندهگان
دیده	+ ان	←	
بنده	+ ان	←	
ستاره	+ ان	←	
جوینده	+ ان	←	



واژه‌های مناسب را انتخاب کرده و در جاهای خالی بنویسید.

الف) کسی است که به دیگران کمک می‌کند.

ب) کسی که ظلم و ستم می‌کند نام دارد.

پ) به کسی که کار نیک انجام می‌دهد می‌گویند.

مددکار
نیکوکار
ستم‌کار



مخالف هر کلمه را در جدول پیدا و رنگ کنید.

پایان	پیر	خاموش	روز
خراب	خواب	آغاز	آباد
اولین	کهنه	بیدار	جوان
شب	آخرین	روشن	نو

جستجوی کلمات	مفهوم احتمال روی چرخنده
معنی کلمات	حل مسئله
متضاد	دسته بندی (ضرب)
مفهوم کلمات ترکیبی با دکار،	طبقه بندی مواد و نگهداری آن‌ها
ترکیب جمع با دان،	بازیافت

شاخص‌ها

- خیلی خوب
- خوب
- قابل قبول
- نیاز به تلاش بیشتر



تمرین

۱ گزینه‌های مناسب را به هم وصل کن.

۹۹

۶۴

۱۵۸

۸ یکی و ۱۵ ده‌تایی

۵ ده‌تایی و ۱۴ یکی

۹ یکی و ۹ ده‌تایی

۲ درستی و نادرستی هر عبارت را مشخص کن.

الف: ۶ دسته‌ی صدتایی و ۱۴ یکی برابر است با ۶۱۴.

ب: ۵ صدتایی و ۹ ده‌تایی و ۰ یکی می‌شود ۵۹.

پ: اگر به عدد ۱۵۲ یک دسته‌ی ده‌تایی اضافه کنیم برابر است با ۶۵۲.

ت: در تفریق به روش تکنیکی اول از صدگان شروع می‌کنیم.

۳ جاهای خالی را با عدد مناسب پر کن.

الف:

$$\begin{array}{r} 948 \\ -5\boxed{3} \\ \hline 385 \end{array}$$

ب:

$$\begin{array}{r} 419 \\ -32\boxed{ } \\ \hline \boxed{ }95 \end{array}$$

پ:

$$\begin{array}{r} 856 \\ -40\boxed{ } \\ \hline \boxed{ }52 \end{array}$$

۴ کتاب برنا ۲۹۱ صفحه دارد. برنایک بار ۸۲ صفحه و بار دیگر ۷۵ صفحه از آن را خوانده است. چند صفحه از کتابش

باقی مانده است؟

.....

.....

۵ ۲۲ دسته‌ی ده‌تایی مداد در یک مغازه وجود دارد. ۱۹۷ مداد فروش رفت. چند مداد در مغازه باقی مانده است؟

.....

.....

۶ درنا ۲۱۰ ریال پول دارد. برادرش ۲۲۰ ریال بیش‌تر از او دارد. برادر درنا چند ریال دارد؟

.....

.....