

بہ نام خدا

مرور

ریاضی دوم دبستان

آموزگار: منیرہ صدیقی

# فصل ۱

## عدد و رقم

باخط کش عددهای مثل هم به یکدیگر وصل کنید.

9 3 8 1 4 5 2 6 7  
۸ ۷ ۲ ۴ ۵ ۶ ۹ ۱ ۳

۱

مانند نمونه به عدد یا حروف بنویسید.

۴۸		۵۱		۳۱		۶۳	
	دوازده		هشتاد و دو		پنجاه و چهار		نود و هفت

۲

با رقم های ۶ و ۸ چهار عدد دو رقمی بنویسید. (.....) ، (.....) ، (.....) ، (.....)

۳

جاهای خالی را به طور مناسب پر کنید.



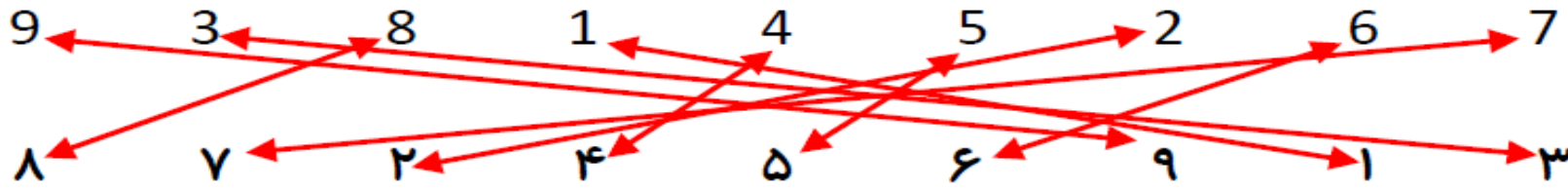
۴

ساعت به ..... مانده است.

ساعت از ..... گذشته است.

ساعت به ..... مانده است.

باخت کش عددهای مثل هم به یکدیگر وصل کنید.



مانند نمونه به عدد یا حروف بنویسید.

۴۸	۱۲	۵۱	۸۲	۳۱	۵۴	۶۳	۹۷
چهل و هشت	دوازده	پنجاه و یک	هشتاد و دو	سی و یک	پنجاه و چهار	شصت و سه	نود و هفت

(۶۶)، (۸۸)، (۶۸)، (۸۶)

با رقم های ۸ و ۶ چهار عدد دو رقمی بنویسید.

جاهای خالی را به طور مناسب پر کنید.



ساعت به ۱ مانده است.



ساعت از ۲ گذشته است.



ساعت به ۸ مانده است.



جدول ارزش مکانی را کامل کنید.

دهگان	یکان
۳	۷

۳۷

دهگان	یکان
۲	۹

۲۹

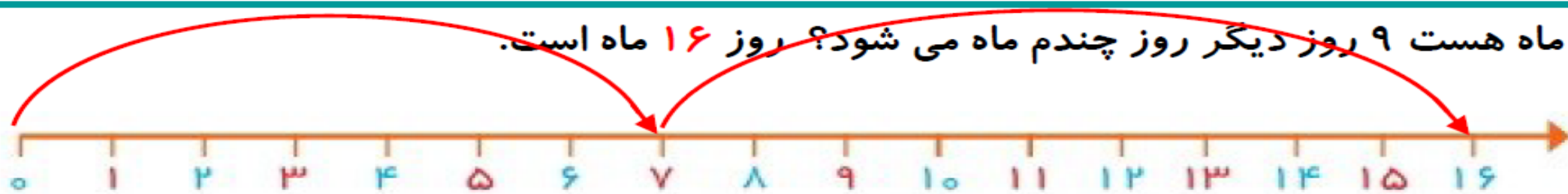
عدد های دو رقمی خواسته شده را به عدد و حروف بنویسید.

رقم یکان ۵ و رقم دهگان ۸ : ۸۵ - هشتاد و پنج

رقم یکان ۷ و رقم دهگان ۳ : ۳۷ - سی و هفت

رقم یکان ۴ و رقم دهگان ۶ : ۴۶ - چهل و شش

امروز روز هفتم ماه هست ۹ روز دیگر روز چندم ماه می شود؟ روز ۱۶ ماه است.



الگوهای شمارش به عقب را ادامه دهید.



حاصل جمع را با خط نشان و حاصل تفریق را با محور پیدا کنید.



$6 + 8 = \dots\dots$



$15 - 9 = \dots\dots$

9

الگوهای عددی زیر را ادامه دهید.

$25 - 30 - \dots\dots - \dots\dots - \dots\dots - \dots\dots$

$34 - 37 - \dots\dots - \dots\dots - \dots\dots - \dots\dots$

$41 - 48 - \dots\dots - \dots\dots - \dots\dots - \dots\dots$

$0 - 8 - 16 - \dots\dots - \dots\dots - \dots\dots - \dots\dots$

10

حاصل جمع های زیر را به دست آورید.

$20 + 5 + 5 + 60 = \dots\dots$

$9 + 9 + 9 = \dots\dots$

$30 + 10 + 5 + 40 = \dots\dots$

$10 + 10 + 20 + 30 = \dots\dots$

$7 + 7 + 7 = \dots\dots$

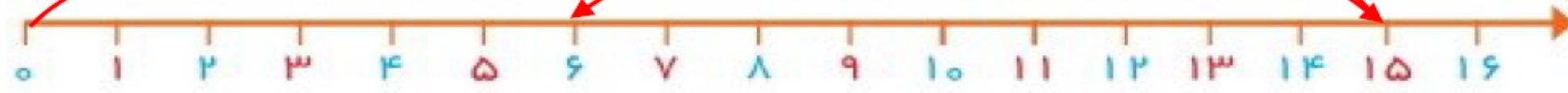
$50 + 10 + 5 + 30 = \dots\dots$

11

حاصل جمع را با خط نشان و حاصل تفریق را با محور پیدا کنید.



$$6 + 8 = 14$$



$$15 - 9 = 6$$

9

الگوهای عددی زیر را ادامه دهید.

$$25 - 30 - 35 - 40 - 45 - 50$$

$$34 - 37 - 40 - 43 - 46 - 49$$

$$41 - 48 - 55 - 60 - 65 - 70$$

$$0 - 8 - 16 - 24 - 32 - 40 - 48$$

10

حاصل جمع های زیر را به دست آورید.

$$20 + 5 + 5 + 60 = 90$$

$$9 + 9 + 9 = 27$$

$$30 + 10 + 5 + 40 = 85$$

$$10 + 10 + 20 + 30 = 70$$

$$7 + 7 + 7 = 21$$

$$50 + 10 + 5 + 30 = 95$$

11

حاصل جمع و تفریق های زیر را به صورت ذهنی محاسبه کنید.

$7 + 8 = \dots\dots$



$7 + 9 = \dots\dots$

$17 - 9 = \dots\dots$

$12 - 8 = \dots\dots$

۱۲

ابتدا تعداد هر کدام را بشمارید و بنویسید و سپس بین دو عدد علامت  $< = >$  بگذارید.



.....  .....

۱۳

جاهای خالی را با ترکیب مناسب اعداد پر کنید.

$\dots\dots + \dots\dots + \dots\dots = 10$

$\dots\dots + \dots\dots + \dots\dots = 10$

$\dots\dots + \dots\dots + \dots\dots = 10$

۱۴

دهگان	یکان

سارینا ۵ دسته ی ۱۰ تایی گل را در گلدانی گذاشته است. مادرش هم ۹ گل در همان گلدان گذاشت. حالا چند گل در گلدان است؟ جدول را کامل کرده و پاسخ را به دست آورید.

۱۵

۹ پرنده روی شاخه ی درختی نشسته بودند ۴ پرنده دیگر هم پیش آن ها آمدند و سپس ۶ تا از آن ها پرواز کردند و رفتند. حالا چند پرنده روی شاخه ی درخت هستند؟

۱۶

حاصل جمع و تفریق های زیر را به صورت ذهنی محاسبه کنید.

$7 + 8 = 15$



$7 + 9 = 16$

$17 - 9 = 8$

$12 - 8 = 4$

۱۲

ابتدا تعداد هر کدام را بشمارید و بنویسید و سپس بین دو عدد علامت  $< = >$  بگذارید.



$24 < 26$

۱۳

جاهای خالی را با ترکیب مناسب اعداد پر کنید.

$4 + 2 + 4 = 10$

$5 + 3 + 2 = 10$

$4 + 3 + 3 = 10$

۱۴

دهگان	یکان
۵	۹

سارینا ۵ دسته ی ۱۰ تایی گل را در گلدانی گذاشته است. مادرش هم ۹ گل در همان گلدان گذاشت. حالا چند گل در گلدان است؟ جدول را کامل کرده و پاسخ را به دست آورید.

۱۵

۹ پرنده روی شاخه ی درختی نشسته بودند ۴ پرنده دیگر هم پیش آن ها آمدند و سپس ۶ تا از آن ها پرواز کرده و رفتند. حالا چند پرنده روی شاخه ی درخت هستند؟

$9 + 4 = 13$

$13 - 6 = 7$

۱۶



قهرمان های کوچولو  
همیشه پیروز و موفق باشید.