

۴ نمودار زیر تعداد پاکت‌های شیر را که یک فروشگاه در روزهای هفته فروخته است، نشان می‌دهد. این فروشگاه در روز



شنبه و کل هفته به ترتیب چند پاکت شیر فروخته است؟

الف: تعداد پاکت‌های شیر در روز شنبه

.....

ب: تعداد پاکت‌های شیر در کل هفته

.....

۵ الگوهای عددی زیر را ادامه بده.

الف: ۶۴۵، ۶۴۰، ۶۳۵،

ب: ۸۰۲، ۸۰۴، ۸۰۶،

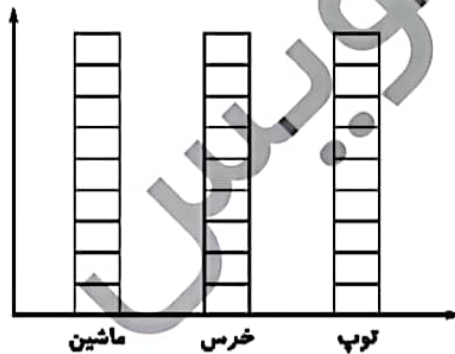
۶ در یک شهر بازی جایزه‌های مختلف روی صفحه‌ی چرخنده قرار گرفت. ۱۰ بچه با چرخاندن صفحه و ایستادن عقربه‌ی

آن، جایزه‌های زیر را برنده شدند. با توجه به راهنما، جایزه‌ها را روی شکل و نمودار نشان داده و به سؤالات پاسخ بده.

جایزه‌های بچه‌ها: توپ - عروسک خرس - توپ - ماشین - ماشین - ماشین - عروسک خرس - توپ - توپ - ماشین - توپ



راهنما: توپ: زرد عروسک خرس: نارنجی ماشین: قرمز



الف: چند قسمت از شکل قرمز است؟ قسمت از قسمت مساوی

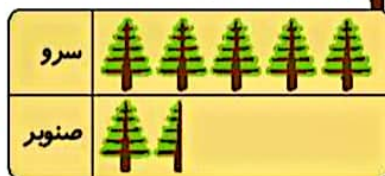
ب: بچه‌ها به احتمال بیش‌تر کدام جایزه را برنده می‌شوند؟

ریاضی دوم دبستان



علوی

۷ نمودار زیر ۵۰۰ درخت سرو و ۱۵۰ درخت صنوبر را نشان می‌دهد. هر نشان دهنده چند درخت است؟



۵۰ (۱)

۱۰۰ (۲)

۱۵۰ (۳)

۲۰ (۴)

فعالیت عملکردی



عزیزم با توجه به توضیحات که در هر کادر بیان شده، نمودار ستونی هر قسمت را بکش.

در کلاس دوم، بچه‌هایی که به رنگ زرد علاقه دارند بیش‌تر از کسانی هستند که به رنگ آبی علاقه دارند ولی از همه کمتر بچه‌هایی هستند که به رنگ قرمز علاقه دارند.

در کلاس سوم، تعداد کمی از بچه‌ها به رنگ سبز علاقه‌مندند و بیش‌تر به رنگ آبی علاقه دارند.

در کلاس چهارم، تعداد کمی از بچه‌ها به رنگ آبی علاقه دارند. تعداد علاقه‌مندان به رنگ قرمز بیش‌تر از کسانی هستند که به رنگ زرد علاقه دارند و بیش‌تر بچه‌ها به رنگ سبز علاقه‌مندند.



۴. الف) ۳۰ عدد

$$۳۰ + ۲۵ + ۳۵ + ۱۵ + ۳۵ = ۱۴۰ \text{ (ب)}$$

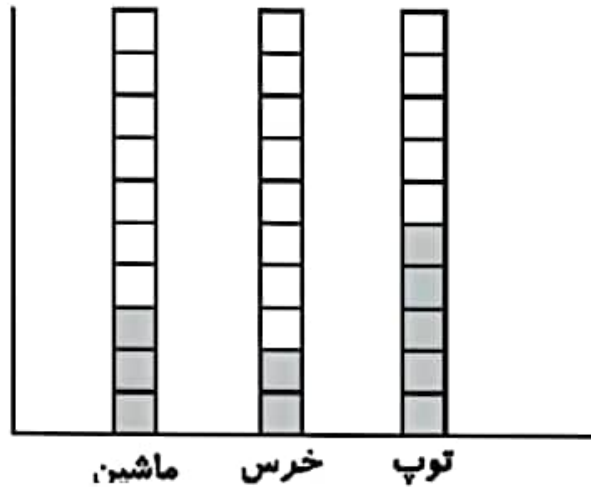
۵. الف) ۶۲۰، ۶۲۵، ۶۳۰، ۶۳۵، ۶۴۰، ۶۴۵

ب) ۸۱۲، ۸۱۰، ۸۰۸، ۸۰۶، ۸۰۴، ۸۰۲

۶. الف) ۳ قسمت از ۱۰ قسمت مساوی قرمز است.

| | | | | | | | | | |
|------|------|------|--------|--------|-----|-----|-----|-----|-----|
| قرمز | قرمز | قرمز | نارنجی | نارنجی | زرد | زرد | زرد | زرد | زرد |
|------|------|------|--------|--------|-----|-----|-----|-----|-----|

ب) توپ




۷. گزینه (۲)، ۱۰۰ درخت

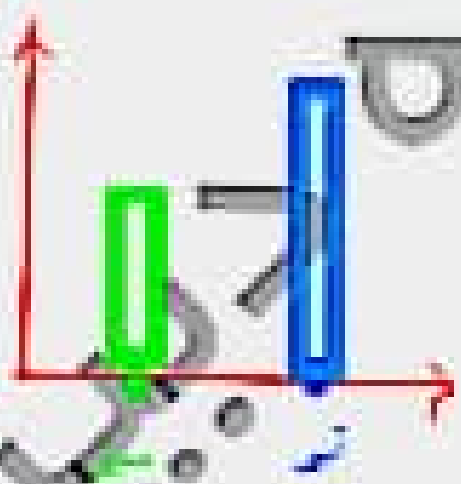
فعالیت عملکردی



هر روز با توجه به توضیحات که در هر کارت یافت شده، نمودار متعلق به آن فعالیت را بکش.



در کلاس دویم به خطی که به رنگ زرد علامت داده شد
بپردازیم. کلاس همیشه که به رنگ آبی علامت داده شد
بپردازیم. کلاس همیشه همیشه که به رنگ قرمز
علامت داده شد.



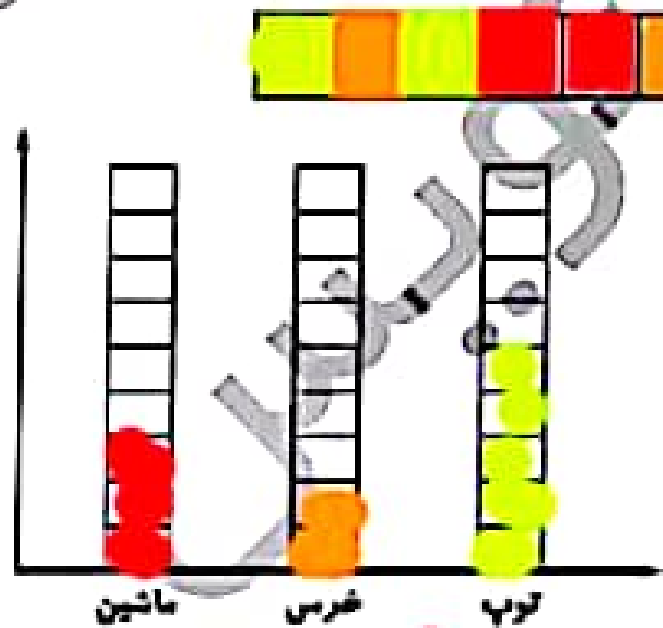
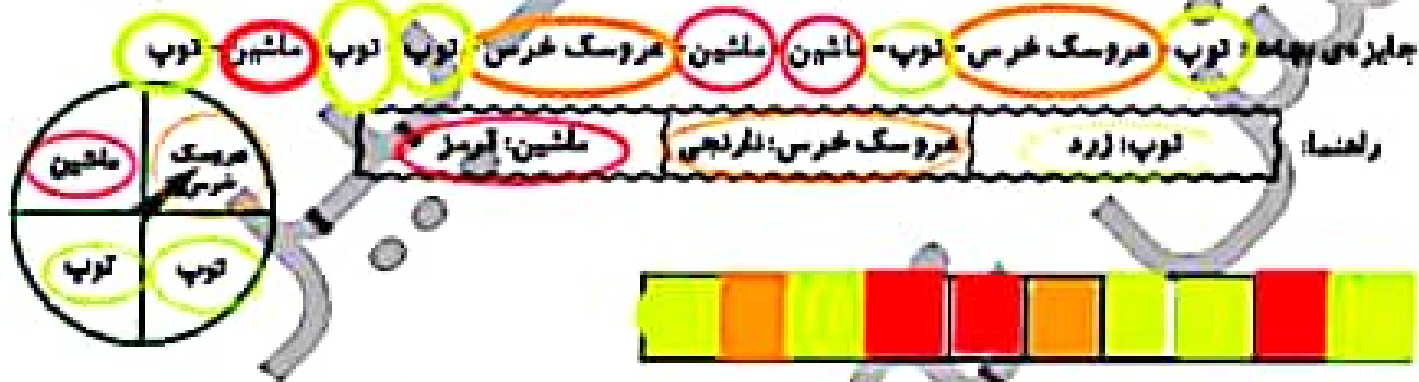
در کلاس سوم به خطی که از پهنای رنگ سبز
علامت شده و بیشتر که به رنگ آبی علامت داده شد.



در کلاس چهارم به خطی که از پهنای رنگ آبی
علامت داده شد و بیشتر که به رنگ قرمز
در کلاس همیشه که به رنگ زرد علامت داده شد و
بپردازیم به رنگ سبز علامت داده شد.



در یک شهر بازی جایزه‌های مختلف روی صلیبه‌ی چرخنده قرار گرفتند. آنچه با چرخاندن صلیبه و ایستادن عقربه‌ی آن، جایزه‌های زیر را برنده شدند با توجه به رنگها، جایزه‌ها را روی شکل و لیبل‌ها نشان داده و به سوالات پاسخ بده.



الف: چند قسمت از شکل قرمز است؟ 3 قسمت از 10 قسمت مساوی

ب: بچه‌ها به احتمال بیشتر کدام جایزه را برنده می‌شوند؟ توپ چون تعدادش بیشتر است

ریاضی دوم دبستان



۲

نمودار زیر تعداد پاکت‌های شیر را که یک فروشگاه در روزهای هفته فروخته است، نشان می‌دهد. این فروشگاه در روز

شنبه و کل هفته به ترتیب چند پاکت شیر فروخته است؟

الف: تعداد پاکت‌های شیر در روز شنبه

30

ب: تعداد پاکت‌های شیر در کل هفته

$$30 + 25 + 35 + 15 + 35 = 140$$



الگوهای عددی زیر را ادامه بده.

۵