

بہ نام خدا

مرور


ریاضی دوم دبستان

آموزگار: منیرہ صدیقی

فصل ٦

جمع و تفریق اعداد سه رقمی

عددی را که هر شکل نشان می دهد ابتدا در جدول قرار داده و پس از کامل شدن در جای داده شده بنویسید.



۱

عددهای داده شده را مقایسه ($< = >$) کنید. $۷۹۷ \bigcirc ۳۰۷$ $۵۹۳ \bigcirc ۵۶۷$

۲

$۷۷ \bigcirc ۸۰۷$ $۱۶۳ \bigcirc ۱۶۴$ $۹۹۳ \bigcirc ۶۶۵$


جمع و تفریق ها را انجام داده و حاصل را کنار هر کدام نوشته و پاسخ ها را مقایسه ($< = >$) کنید.

..... = $۸۰ + ۴۰ + ۷۰۰$ \bigcirc $۹۰۰ - ۷۰ =$

۳

..... = $۲۰ + ۹۰ + ۳۰۰$ \bigcirc $۴۰۰ + ۱۰۰ =$

عددی را که هر شکل نشان می دهد ابتدا در جدول قرار داده و پس از کامل شدن در جای داده شده بنویسید.



۲۲۳

صدگان	دهگان	یکان
۲	۲	۳

۱

عددهای داده شده را مقایسه (< = >) کنید. $۵۹۳ > ۵۶۷$ $۷۹۷ > ۳۰۷$

$۹۹۳ > ۶۶۵$

$۱۶۳ < ۱۶۴$

$۷۷ < ۸۰۷$

۲

جمع و تفریق ها را انجام داده و حاصل را کنار هر کدام نوشته و پاسخ ها را مقایسه (< = >) کنید.

$۸۲۰ = ۸۰ + ۴۰ + ۷۰۰ < ۹۰۰ - ۷۰ = ۸۳۰$

$۴۱۰ = ۲۰ + ۹۰ + ۳۰۰ < ۴۰۰ + ۱۰۰ = ۵۰۰$

۳

جمع و تفریق های داده شده را به صورت فرآیندی (بادکنکی) انجام دهید.

$$\begin{array}{r} 9 \quad 4 \quad 7 \\ - \quad 4 \quad 2 \quad 6 \\ \hline \\ \hline \\ \hline \\ \hline \\ \hline \\ \hline \end{array}$$

$$\begin{array}{r} 4 \quad 3 \quad 1 \\ + \quad 2 \quad 4 \quad 7 \\ \hline \\ \hline \\ \hline \\ \hline \\ \hline \\ \hline \end{array}$$

۴

$$620 + 340 = \dots\dots\dots$$

باسرعت بیش تر وزهنی پاسخ ها را پیدا کرده و بنویسید.

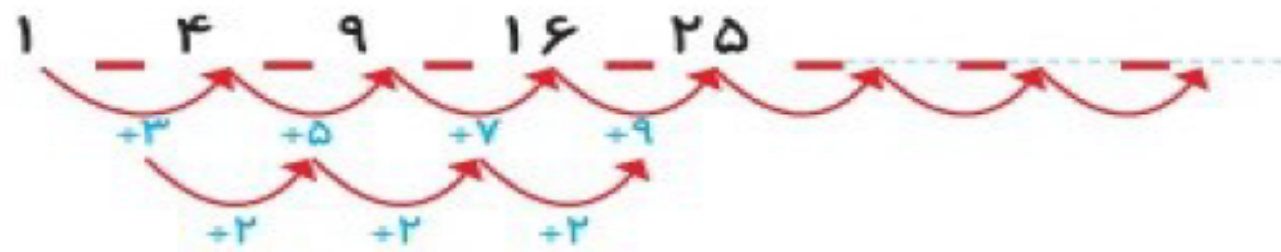
$$730 - 200 = \dots\dots\dots$$

$$170 + 500 = \dots\dots\dots$$

$$950 - 330 = \dots\dots\dots$$

۵

الگوهای عددی داده شده را ادامه دهید.



۶

جمع و تفریق های داده شده را به صورت فرآیندی (بادکنکی) انجام دهید.

$$\begin{array}{r}
 9 \quad 4 \quad 7 \\
 - \quad 4 \quad 2 \quad 6 \\
 \hline
 5 \quad 4 \quad 7 \\
 \hline
 2 \quad 6 \\
 \hline
 5 \quad 2 \quad 7 \\
 \hline
 6 \\
 \hline
 5 \quad 2 \quad 1
 \end{array}$$

$$\begin{array}{r}
 4 \quad 3 \quad 1 \\
 + \quad 2 \quad 4 \quad 7 \\
 \hline
 6 \quad 3 \quad 1 \\
 \hline
 4 \quad 7 \\
 \hline
 6 \quad 7 \quad 1 \\
 \hline
 7 \\
 \hline
 6 \quad 7 \quad 8
 \end{array}$$

۴

$$620 + 340 = \dots 960 \dots$$

باسرعت بیش تر وزهنی پاسخ ها را پیدا کرده و بنویسید.

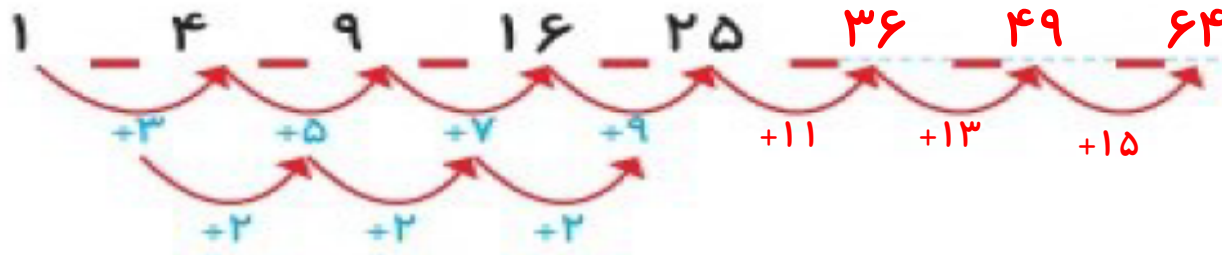
$$730 - 200 = \dots 530 \dots$$

$$170 + 500 = \dots 670 \dots$$

$$950 - 330 = \dots 620 \dots$$

۵

الگوهای عددی داده شده را ادامه دهید.



۶

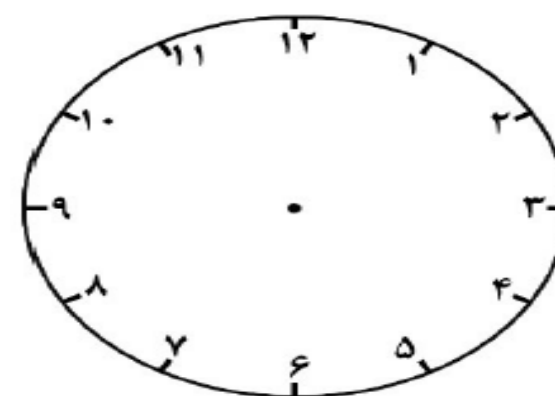
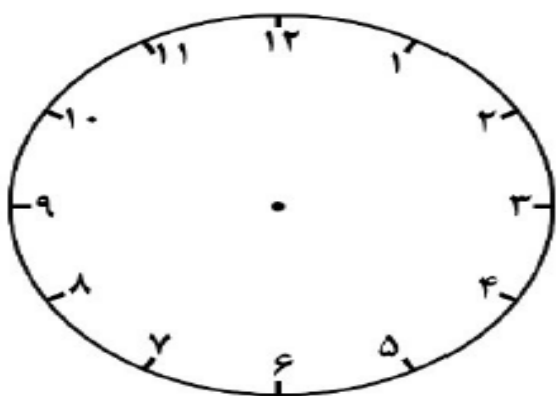
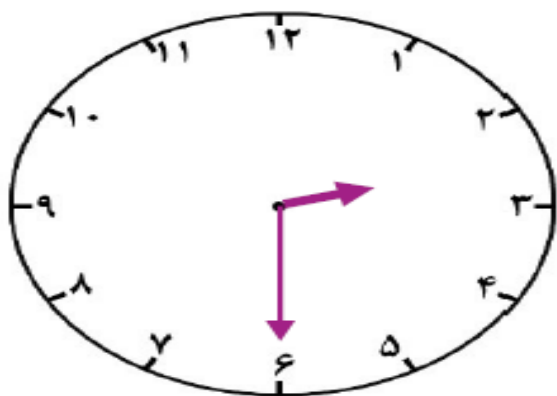
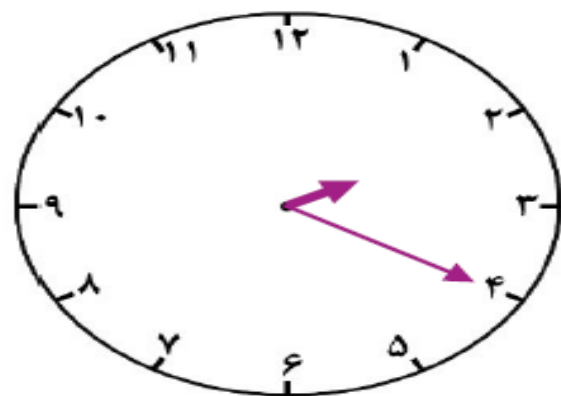
$۶۷۲ = \dots\dots\dots$

عدد های داده شده را به صورت باز و گسترده بنویسید.

$۳۵۴ = \dots\dots\dots$

$۸۹۷ = \dots\dots\dots$

با توجه به الگویابی که در ساعت وجود دارد عقربه های بعدی را خودتان رسم کنید.



۸

جمع و تفریق های با انتقال زیر را با روش تکنیکی (قدیمی) انجام دهید.

$$\begin{array}{r}
 ۶۰۱ \\
 - ۴۲۶ \\
 \hline
 \hline
 \end{array}$$

$$\begin{array}{r}
 ۱۷۹ \\
 + ۵۴۷ \\
 \hline
 \hline
 \end{array}$$

۹

$۳۰۰ + ۶۰ + ۲۰۰ + ۴۰۰ + ۷ = \dots\dots\dots$

طرف دیگر تساوی را بنویسید.

$۱۰۰ + ۵۰۰ + ۲۰۰ + ۴۰ + ۵ = \dots\dots\dots$

$۵۰۰ + ۲۰۰ + ۲۰۰ + ۱۰ + ۳ = \dots\dots\dots$

۱۰

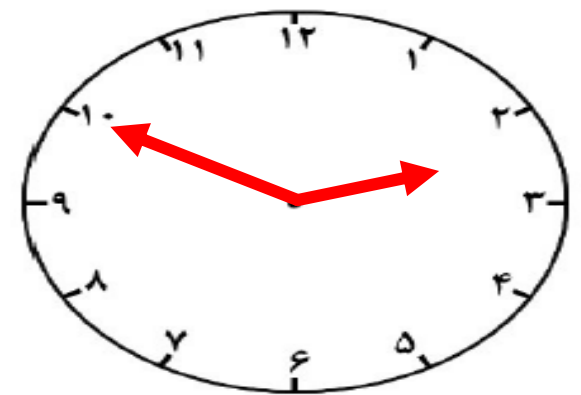
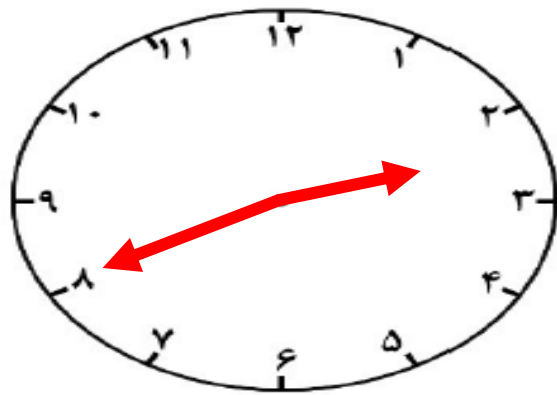
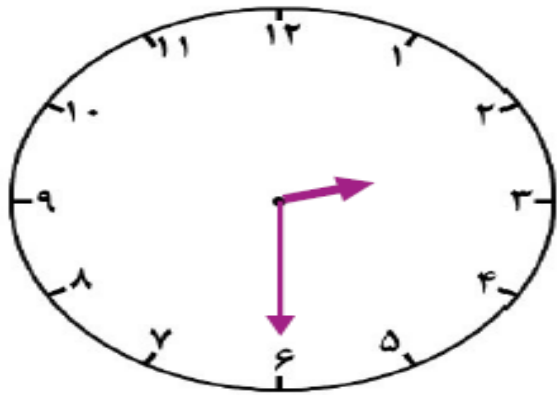
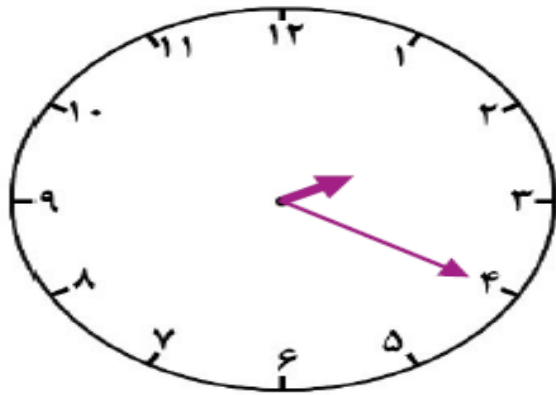
$$۶۷۲ = \dots\dots ۶۰۰ + ۷۰ + ۲ \dots\dots$$

عدد های داده شده را به صورت باز و گسترده بنویسید.

$$۳۵۴ = \dots\dots ۳۰۰ + ۵۰ + ۴ \dots\dots$$

$$۸۹۷ = \dots\dots ۸۰۰ + ۹۰ + ۷ \dots\dots$$

با توجه به الگویابی که در ساعت وجود دارد عقربه های بعدی را خودتان رسم کنید.



۸

جمع و تفریق های با انتقال زیر را با روش تکنیکی (قدیمی) انجام دهید.

$$\begin{array}{r} ۶۰۱ \\ - ۴۲۶ \\ \hline ۱۷۵ \end{array}$$

$$\begin{array}{r} ۱۷۹ \\ + ۵۴۷ \\ \hline ۷۲۶ \end{array}$$

۹

$$۳۰۰ + ۶۰ + ۲۰۰ + ۴۰۰ + ۷ = \dots\dots ۹۶۷ \dots\dots$$

طرف دیگر تساوی را بنویسید.

$$۱۰۰ + ۵۰۰ + ۲۰۰ + ۴۰ + ۵ = \dots\dots ۱۴۵ \dots\dots$$

$$۵۰۰ + ۲۰۰ + ۲۰۰ + ۱۰ + ۳ = \dots\dots ۹۱۳ \dots\dots$$

۱۰

یک کتاب داستان ۲۷۶ صفحه دارد. اکرم ۱۳۹ صفحه را تا شنبه خوانده بود. روز شنبه ۵۸ صفحه ی دیگر را خواند. چند صفحه از کتاب باقی مانده است؟ (با روش دلخواه)

۱۱

مریم ۶ سکه ی صدریالی ، ۳ سکه ی ۱۰ریالی و ۵ سکه ی ۱ریالی داشت. او ۳۲۵ ریال را در صندوق صدقات انداخت. حالا او چقدر پول دارد؟ (با روش دلخواه)

۱۲

یک کتاب داستان ۲۷۶ صفحه دارد. اگر ۱۳۹ صفحه را تا شنبه خوانده بود. روز شنبه ۵۸ صفحه ی دیگر را خواند. چند صفحه از کتاب باقی مانده است؟ (با روش دلخواه)

$$۱۳۹ + ۵۸ = ۱۹۷ \quad \text{خوانده است.}$$

$$۲۷۶ - ۱۹۷ = ۷۹ \quad \text{باقی مانده است.}$$

۱۱

مریم ۶ سکه ی صدریالی ، ۳ سکه ی ۱۰ریالی و ۵ سکه ی ۱ریالی داشت. او ۳۲۵ ریال را در صندوق صدقات انداخت. حالا او چقدر پول دارد؟ (با روش دلخواه)

$$۶۰۰ + ۳۰ + ۵ = ۶۳۵ \quad \text{۶۳۵ ریال دارد.}$$

$$۶۳۵ - ۳۵۲ = ۲۸۳ \quad \text{حالا مریم ۲۸۳ ریال دارد.}$$

۱۲



قهرمان های کوچولو
همیشه پیروز و موفق باشید.