



موضوع:

تاریخ:

نام و نام خانوادگی:

هدف:

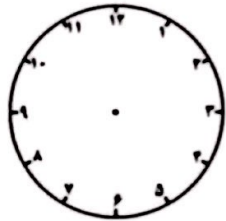
۱- نام شکل های زیر و تفاوت و شباهت های آن ها را بنویس.



شباهت: -----

تفاوت: -----


۲- ساعت چهار و نیم است. سه ساعت بعد ساعت چند است؟ - روی شکل نشان بده



۳- الگوی عددی زیر را ادامه بده.

۱، ۲، ۴، ۷، ۱۱، -----

۴- تعداد ضلع - گوشه شکل های زیر را بنویس.




گوشه -----

ضلع -----



گوشه -----

ضلع -----



گوشه -----

ضلع -----

بازخورد:

-----  
-----  
-----

