

بہ نام خدا

مرور

ریاضی دوم دبستان

آموزگار: منیرہ صدیقی


فصل ۵

اندازه گیری

جاهای خالی را به طور مناسب پر کنید.

طول ماژیک صورتی بین چینه و چینه است.

یعنی از چینه بیش تر و به چینه نمی رسد.



طول ماهی بین سنجاق قفلی و سنجاق قفلی است.

یعنی از سنجاق قفلی بیش تر است و سنجاق قفلی نمی رسد.



* طول قطار بین میخ و میخ است.

* یعنی از میخ بیش تر است و به میخ نمی رسد.



♣ اندازه ی هویج قسمت کوچک است.

♣ اندازه ی هویج بزرگ و کوچک است.



♣ اندازه ی بادمجان قسمت کوچک است.

♣ اندازه ی بادمجان بزرگ و کوچک است.



جاهای خالی را به طور مناسب پر کنید.

طول ماژیک صورتی بین ۸ چینه و ۹ چینه است.

یعنی از ۸ چینه بیش تر و به ۹ چینه نمی رسد.



طول ماهی بین ۲ سنجاق قفلی و ۳ سنجاق قفلی است.

یعنی از ۲ سنجاق قفلی بیش تر است و ۳ سنجاق قفلی نمی رسد.



طول قطار بین ۳ میخ و ۴ میخ است.

یعنی از ۳ میخ بیش تر است و به ۴ میخ نمی رسد.



اندازه ی هویج ۱۴ قسمت کوچک است.

اندازه ی هویج ۳ بزرگ و ۲ کوچک است.



اندازه ی بادمجان ۱۱ قسمت کوچک است.

اندازه ی بادمجان ۲ بزرگ و ۳ کوچک است.

به سوالات مربوط به ساعت پاسخ بدهید.



۲

ساعت ۸:۴۵ دقیقه است ۲۰

ساعت ۲:۴۰ دقیقه است ۳۰

ساعت ۸:۴۵ دقیقه است ۱۵

دقیقه بعد ساعت چند می شود؟

دقیقه بعد ساعت چند می شود؟

دقیقه بعد ساعت چند می شود؟

جاهای خالی را با پاسخ مناسب پر کنید. (حدس خودتان را تا پیدا کردن جواب ادامه دهید).

۳

$$\dots + ۲۲ = ۸۶$$

$$۲۵ + \dots = ۴۵$$

$$۵۰ - \dots = ۱۷$$

در یک منطقه ی جنگلی ۵ شیر و عقاب بودند. آن ها روی هم ۱۶ پا داشتند. اگر هر شیر ۴ پا و هر عقاب ۲ پا

داشته باشد. در این منطقه چند شیر و چند عقاب است ؟
حدس اول :

۴

حدس دوم :



به سوالات مربوط به ساعت پاسخ بدهید.



ساعت ۱۰:۱۵ است ۲۰



ساعت ۸:۳۰ است ۳۰



ساعت ۹:۴۵ است ۱۵

دقیقه بعد ساعت چند می شود؟ ۹:۰۵

دقیقه بعد ساعت چند می شود؟ ۳:۱۰

دقیقه بعد ساعت چند می شود؟ ۹

جاهای خالی را با پاسخ مناسب پر کنید. (حدس خودتان را تا پیدا کردن جواب ادامه دهید).

$$۶۴ + ۲۲ = ۸۶$$

$$۲۵ + ۲۰ = ۴۵$$

$$۵۰ - ۲۳ = ۱۷$$

در یک منطقه ی جنگلی ۵ شیر و عقاب بودند. آن ها روی هم ۱۶ پا داشتند. اگر هر شیر ۴ پا و هر عقاب ۲ پا داشته باشد. در این منطقه چند شیر و چند عقاب است؟

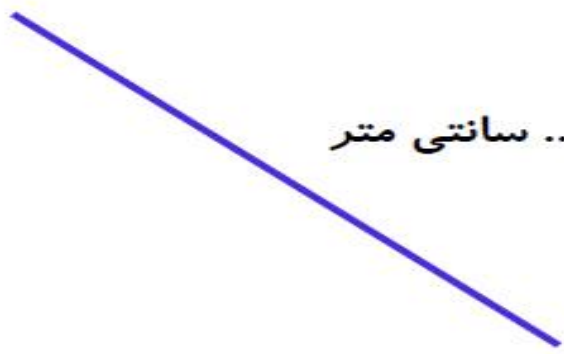
$$۲ + ۲ + ۲ + ۴ + ۴ = ۱۶$$

$$۴ + ۴ + ۴ + ۲ + ۲ = ۱۶$$



حدس اول: ۳ عقاب و ۲ شیر || حالت دوم: ۳ شیر و ۲ عقاب

خط های زیر را با خط کش اندازه بگیرید و بنویسید.



..... سانتی متر



..... سانتی متر



..... سانتی متر



..... سانتی متر

۵

جاهای خالی را پر کنید.



◀ اندازه ی خود نویس بین سانتی متر و سانتی متر است.

۶



◀ با خط کش اندازه بگیرید. اندازه ی مداد سانتی متر و قسمت کوچک است.

اندازه ی هر کدام از شکل های زیر را بنویسید.



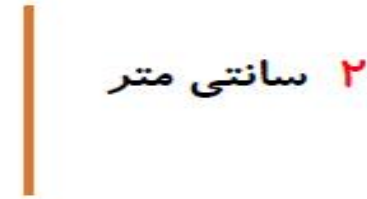
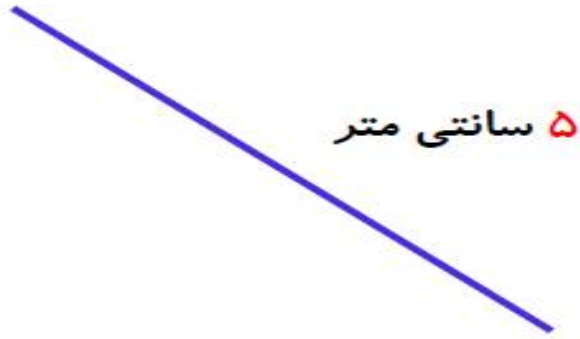
* اندازه ی مداد نوکی سانتی متر و میلی متر است.

۷



* اندازه ی خیار سبز سانتی متر و میلی متر است.

خط های زیر را با خط کش اندازه بگیرید و بنویسید.



۵

جاهای خالی را پر کنید.



اندازه ی خود نویس بین ۱۱ سانتی متر و ۱۲ سانتی متر است.

۶



با خط کش اندازه بگیرید. اندازه ی مداد ۴ سانتی متر و ۳ قسمت کوچک است.

اندازه ی هر کدام از شکل های زیر را بنویسید.



* اندازه ی مداد نوکی ۸ سانتی متر و ۵ میلی متر است.

۷



* اندازه ی خیار سبز ۵ سانتی متر و ۴ میلی متر است.

اندازه ی ضلع های شکل مقابل را به میلی متر

حدس زده و سپس با خط کش به صورت دقیق

اندازه گیری کرده و بنویسید.

۸

حدس : اندازه :

حدس :

اندازه :



حدس :

اندازه :

حدس : اندازه :

جاهای خالی را پر کنید.

۹

🔔 ۵۰ سانتی متر و ۷ میلی متر ؛ میلی متر است. 🔔 ۱۷۵ میلی متر سانتی متر و میلی متر است.

🔔 ۲۳۶ میلی متر سانتی متر و میلی متر است. 🔔 ۷۰ سانتی متر و ۴۵ میلی متر ؛ میلی متر است.

طول مداد سارینا ۸ سانتی متر و ۷ میلی متر است. طول مداد دنیز ۴ سانتی متر و ۹ میلی متر است. الف : طول مداد

۱۰

هر کدام به میلی متر چه قدر است ؟ ب : اختلاف اندازه ی مداد آن ها

چند میلی متر است ؟

اندازه ی ضلع های شکل مقابل را به میلی متر

حدس زده و سپس با خط کش به صورت دقیق

اندازه گیری کرده و بنویسید.

۸

حدس : 40 م م اندازه : 39 م م



حدس : 20 م م

اندازه : 22 م م


حدس : 30 م م


اندازه : 25 م م

حدس : 50 م م اندازه : 50 م م


جاهای خالی را پر کنید.

۹

۵۰ سانتی متر و ۷ میلی متر : 507 میلی متر است. 

۱۷۵ میلی متر ۱۷ سانتی متر و ۵ میلی متر است. 

۲۳۶ میلی متر ۲۳ سانتی متر و ۶ میلی متر است. 

۷۰ سانتی متر و ۴۵ میلی متر : 745 میلی متر است. 

طول مداد سارینا ۸ سانتی متر و ۷ میلی متر است. طول مداد دنیز ۴ سانتی متر و ۹ میلی متر است. الف : طول مداد

هر کدام به میلی متر چه قدر است ؟ **مداد سارینا ۸۷ م م** || **مداد دنیز ۴۹ م م** ب : اختلاف اندازه ی مداد آن ها

۱۰

چند میلی متر است ؟ **مداد سارینا ۳۸ میلی متر بلندتر است.** $87 - 49 = 38$ م م



قهرمان های کوچولو
همیشه پیروز و موفق باشید.