


فعالیت کلاسی



۱ در جدول زیر تعداد دفعاتی را که درنا از یک رنگ در نقاشی‌هایش استفاده کرده نشان داده شده است. آن‌ها را در نمودار ستونی زیر نشان بده و سپس دو پرسش بساز و خودت پاسخ بده.

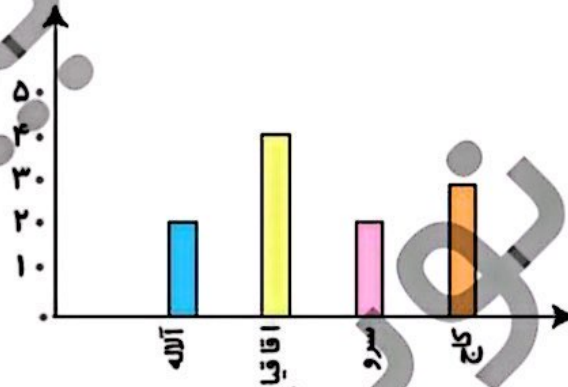
نام رنگ	سبز	آبی	قرمز	نارنجی	صورتی	زرد
تعداد دفعات استفاده شده	۴	۳	۲	۷	۵	۶



الف:

ب:

۲ به نمودار زیر توجه کن، سپس جاهای خالی را کامل کن.



شهر داری یک شهرستان یک سرشماری بر روی تعداد خانه‌های چند کوچه در یک محله انجام داده است. سپس نمودار آن را رسم کرده است. از این نمودار می‌توان فهمید که تعداد خانه‌های کوچه‌ی از همه کوچه‌های بیشتر است. تعداد خانه‌های کوچه‌ی و با هم برابر است. تعداد خانه‌های کوچه‌ی کاج از تعداد خانه‌های کوچه‌ی آله است.

۲ اعداد زوج را رنگ کن.

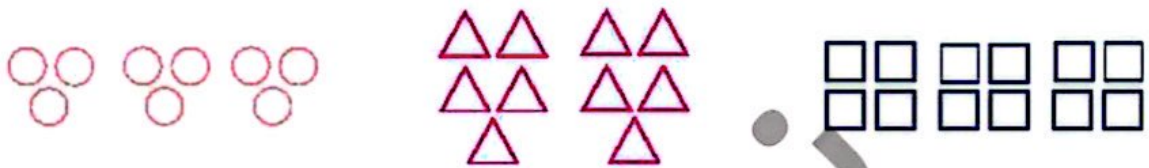
- ۲۵
 ۲۰
 ۳۴
 ۳۱۲
 ۷

ریاضی دوم دبستان





۱ با توجه به شکل‌ها، هر عبارت را به پاسخ صحیح آن وصل کن.



۳ دسته‌ی ۴ تایی می‌شود ۱۲ تا

۳ دسته‌ی ۳ تایی می‌شود ۹ تا

۲ دسته‌ی ۵ تایی می‌شود ۱۰ تا

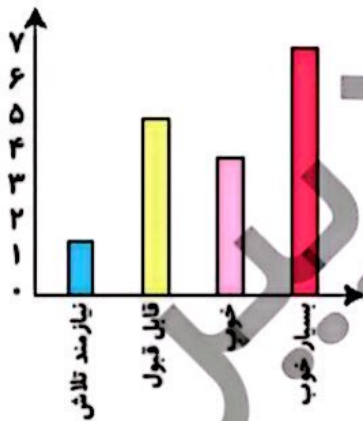
۲ با توجه به نمودار، درستی و نادرستی هر عبارت را مشخص کن.

الف: تمام دانش‌آموزان کلاس نمرات بدی کسب کرده‌اند.

ب: بیش‌تر دانش‌آموزان نمره‌ی بسیار خوب کسب کرده‌اند.

پ: تعداد دانش‌آموزانی که بسیار خوب دریافت کرده‌اند کم‌تر از تعداد


دانش‌آموزانی است که قابل قبول کسب کرده‌اند.



۳ با توجه به شکل‌ها، در جای خالی عدد مناسب بنویس.



الف: دسته‌ی ۳ تایی می‌شود تا.



ب: دسته‌ی ۵ تایی می‌شود تا.



پ: دسته‌ی تایی می‌شود ۱۶ تا.

۴ الف: تمام عددهای ۵۵، ۶۷، ۸۱، ۱۷ هستند، چون رقم یکان آن‌ها است.

ب: تمام عددهای ۴۶، ۲۴، ۹۲، ۸۰ هستند، چون رقم یکان آن‌ها است.

