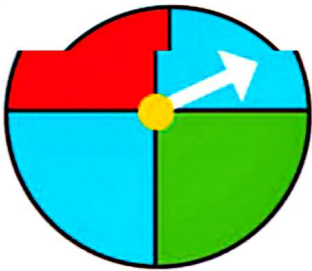


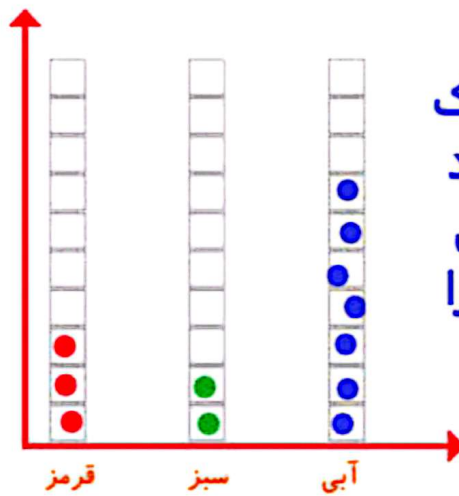




## کار در کلاس



آن را ۱۲ بار بچرخانید. هر بار پس از ایستادن صفحه، عقربه روی چه رنگی بوده است؟ یک قسمت از شکل زیر را با همان رنگ کامل کنید و در نمودار زیر هم یک خانه برای هر آزمایش رنگ کنید.



نمودار دایره ای (شکل) برای یک مقدار از کل استفاده می شود هر وقت بخواهیم تفاوت بیشترین مقدار و کمترین مقدار را به صورت دقیق ببینیم از نمودار ستونی استفاده می کنیم

چه زمانی از شکل و چه موقع از نمودار ستونی استفاده می کنید؟



## الگویابی کن

الگوهای عدد را ادامه دهید.

۱۲۴, ۱۲۶, ۱۲۸, 130, 132, 134, 136, 138, 140, 142, 144, 146

۱۲۱, ۱۲۳, ۱۲۵, 127, 129, 131, 133, 135, 137, 139, 141

تمام عددهای الگوی اول زوج هستند. عددهای زوج چه ویژگی‌هایی دارند؟  
یکان آنها 0/2/4/6/8 باشد.

تمام عددهای الگوی دوم فرد هستند. عددهای فرد چه ویژگی‌هایی دارند؟  
یکان آنها 1/3/5/7/9 باشد.



۱- در برنامه‌ی هفتگی یک مدرسه در یک هفته دانش‌آموزان ۵ ساعت ریاضی، ۳ ساعت علوم، ۳ ساعت قرآن و ۲ ساعت ورزش داشتند. شکل را با توجه به جدول رنگ، کامل کنید.



۲- نمودار کارهای روزانه‌ی فاطمه (دانش‌آموز دبستان) و نمودار کارهای روزانه‌ی علی (دانش‌آموز دبیرستان) به صورت زیر رسم شده است. با توجه به آن به سؤال‌ها جواب دهید.

علی کدام یک بیشتر درس می‌خواند؟

علی چه شخصی بیشتر در مدرسه است؟

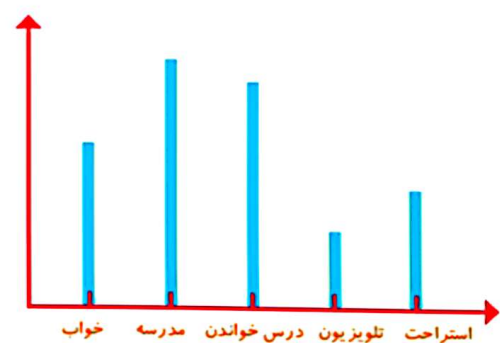
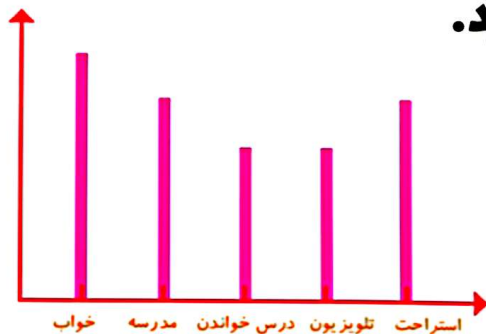
فاطمه چه شخصی بیشتر تلویزیون می‌بیند؟

مجموع مدرسه رفتن و درس خواندن چه کسی بیشتر است؟ دلیل آن را بنویسید.

**علی. چون علی در مقطع دبیرستان است**

**و تایم مطالعه زیادی باید برای درس‌ها**

**بگذارد.**



فاطمه

علی