


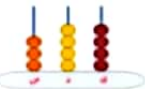
نام و نام خانوادگی

تاریخ

موضوع:

هدف:

۱\_ شاگرد خوبم! به شکل ها توجه کن سپس جدول های ارزش مکانی را کامل کن. هر جا لازم است شکل بکش.

	<table border="1" style="width: 100%;"> <tr><td>صدگان</td><td>دهگان</td><td>یکان</td></tr> <tr><td> </td><td> </td><td> </td></tr> </table>	صدگان	دهگان	یکان				<table border="1" style="width: 100%;"> <tr><td>صدگان</td><td>دهگان</td><td>یکان</td></tr> <tr><td>۵</td><td>۰</td><td>۲</td></tr> </table>	صدگان	دهگان	یکان	۵	۰	۲	<p>عدد:.....</p> <p>حروف:.....</p>
صدگان	دهگان	یکان													
صدگان	دهگان	یکان													
۵	۰	۲													
	<table border="1" style="width: 100%;"> <tr><td>صدگان</td><td>دهگان</td><td>یکان</td></tr> <tr><td> </td><td> </td><td> </td></tr> </table>	صدگان	دهگان	یکان				<table border="1" style="width: 100%;"> <tr><td>صدگان</td><td>دهگان</td><td>یکان</td></tr> <tr><td> </td><td> </td><td> </td></tr> </table>	صدگان	دهگان	یکان				<p>عدد:.....</p> <p>حروف:.....</p>
صدگان	دهگان	یکان													
صدگان	دهگان	یکان													









۲\_ الگوی زیر را ادامه بده.

 .....

$$\begin{array}{r} 1 \quad 3 \quad 5 \\ - \quad - \quad - \\ + 2 \quad + 2 \end{array}$$
 .....

۳\_ اگر من ۱۰۰ تا سکه ی اریالی به بانک بدهم، بانک چند سکه ی ۱۰ ریالی به من می دهد؟.....




۴\_ ارزش سکه های زیر را بنویس.

				عدد:..... حروف:.....
				عدد:..... حروف:.....

۵\_ باز شده ی عددهای زیر را بنویس. (گسترده نویسی)

۷۶۸ = .....      ۳۲۰ = .....      ۹۰۵ = .....

۶\_ با کارت های زیر عدد سه رقمی بنویس.

   .....

الف) کوچک ترین عدد: ..... ب) بزرگ ترین عدد: .....

پ) عددی که رقم دهگانش بیشتر از صدگانش است..... ت) عددی که جمع یکان و دهگانش برابر با صدگانش است.....

۷\_ تقریب عددهای زیر را با حذف رقم یکان و دهگان بنویس.

$$\begin{array}{r} + 655 \rightarrow \\ 312 \rightarrow \\ \hline \end{array}$$
      
$$\begin{array}{r} - 762 \rightarrow \\ 222 \rightarrow \\ \hline \end{array}$$

۸\_ سکه ی زیر را با چند سکه ی ۱۰۰ اریالی و چند سکه ی ۱۰ ریالی می توان عوض کرد؟



..... سکه ی ۱۰۰ ریالی و ..... سکه ی ۱۰ ریالی