

بہ نام خدا

مرور

ریاضی دوم دبستان

آموزگار: فاطمہ حبیب نژاد

فصل ۳

اشکال هندسی

با استفاده از شابلون " یا به صورت دستی و با خط کش " شکل های خواسته شده را رسم کنید.

نام شکل	مستطیل	مربع	لوزی	شش ضلعی	مثلث	دایره
محل رسم شکل						
تعداد ضلع
تعداد گوشه

گوشه ها را در هر یک شکل ها سبز رنگ کنید.

ضلع ها را در هر کدام از شکل های بالا قرمز رنگ کنید.

در شکل های هندسی تعداد ضلع ها با تعداد گوشه های داخل شکل است.

هر ساعت چه زمانی را نشان می دهد؟ به دو صورت بنویسید.



.....
.....



.....
.....



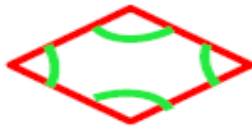
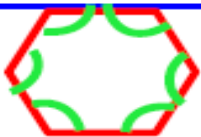

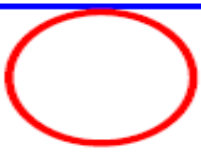


.....
.....



.....
.....

با استفاده از شابلون " یا به صورت دستی و با خط کش " شکل های خواسته شده را رسم کنید.

نام شکل	مستطیل	مربع	لوزی	شش ضلعی	مثلث	دایره
محل رسم شکل						
تعداد ضلع	۴	۴	۴	۶	۳	۰
تعداد ضلع	۴	۴	۴	۶	۳	۰

گوشه ها را در هر یک شکل ها سبز رنگ کنید.

ضلع ها را در هر کدام از شکل های بالا قرمز رنگ کنید.

در شکل های هندسی تعداد ضلع ها با تعداد گوشه های داخل شکل برابر است.

هر ساعت چه زمانی را نشان می دهد؟ به دو صورت بنویسید.



۴ : ۵۵

چهار و پنجاه و پنج دقیقه



۸ : ۱۰

هشت و ده دقیقه



۱۰ : ۲۵

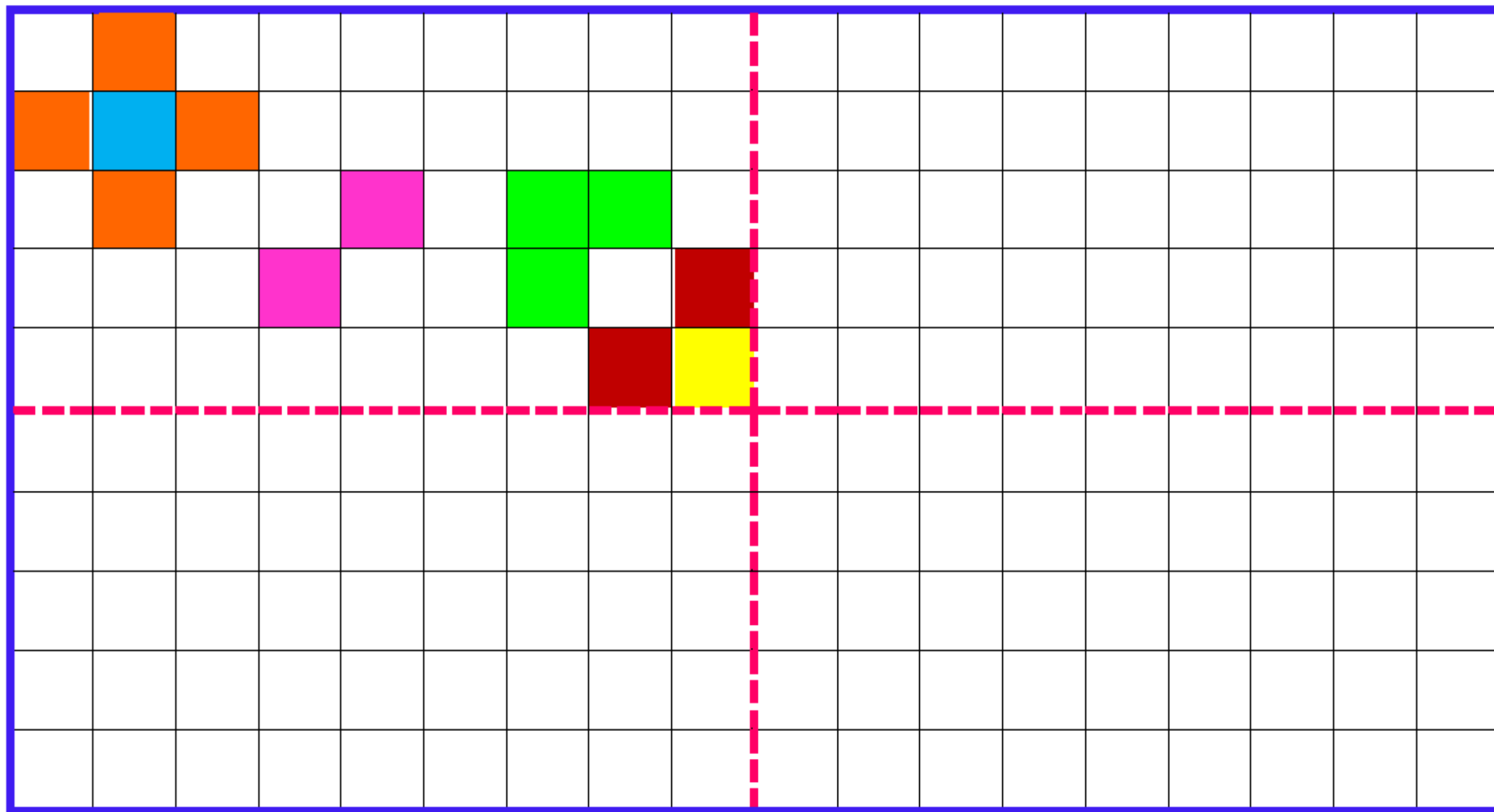
ده و بیست و پنج دقیقه



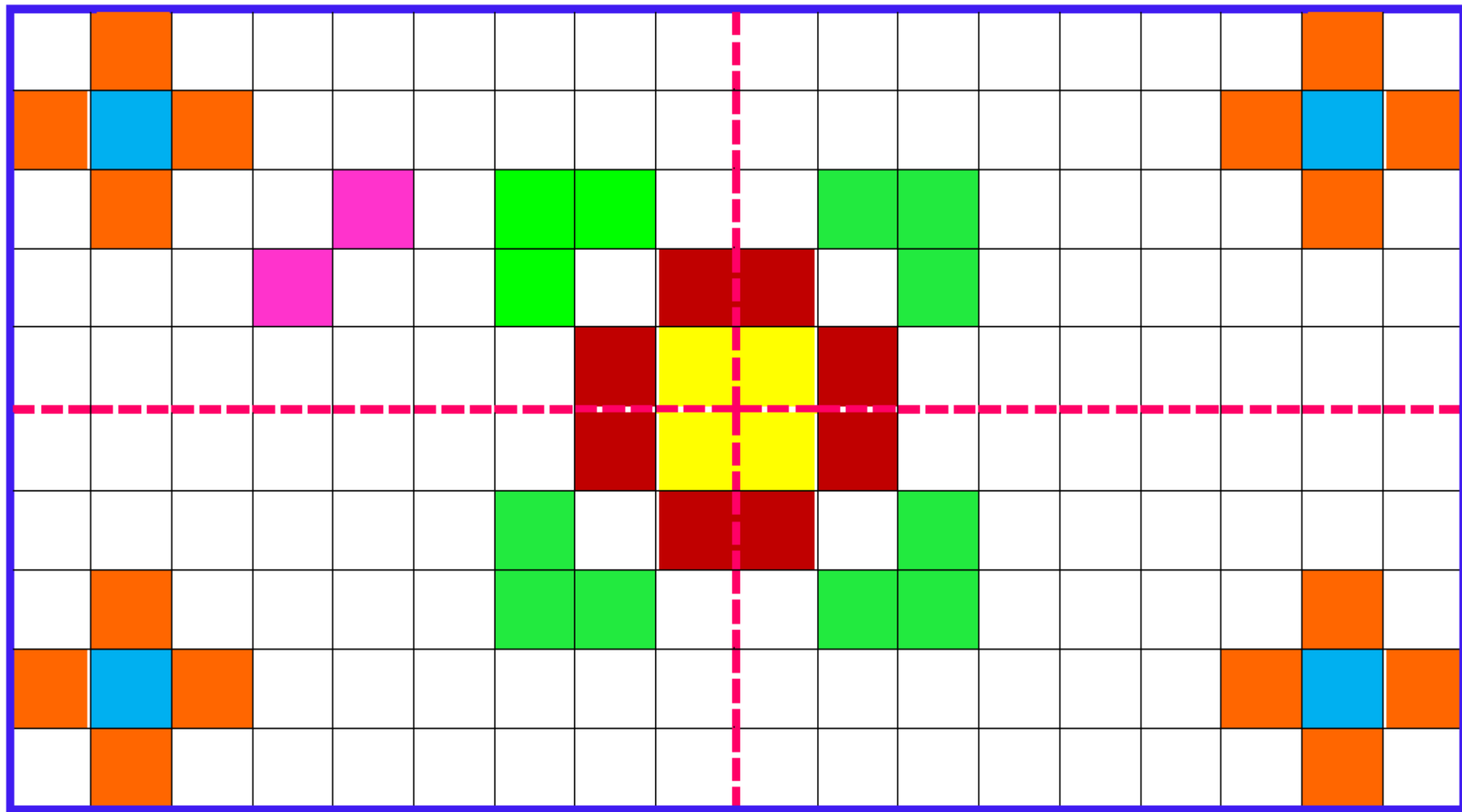
۹ : ۳۵

نه و سی و پنج دقیقه

با توجه به خط های تقارن کاشی کاری ها طوری تکمیل کنید که مثل هم و قرینه باشند.




با توجه به خط های تقارن کاشی کاری ها طوری تکمیل کنید که مثل هم و قرینه باشند.




نقطه ها را با خط کش به هم وصل کرده و شکلی را که خواسته شده ، بکشید.

" ۶ ضلع و ۶ گوشه دارد. "



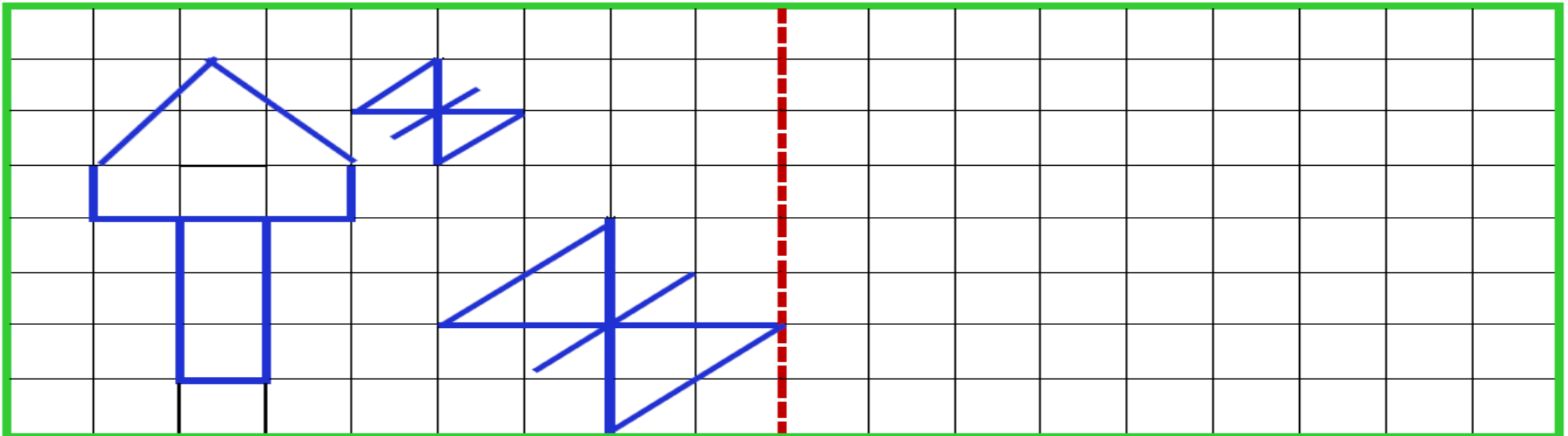
" ۴ ضلع و ۴ گوشه دارد. "

((دوتا از ضلع هایش مساوی است.))



۴

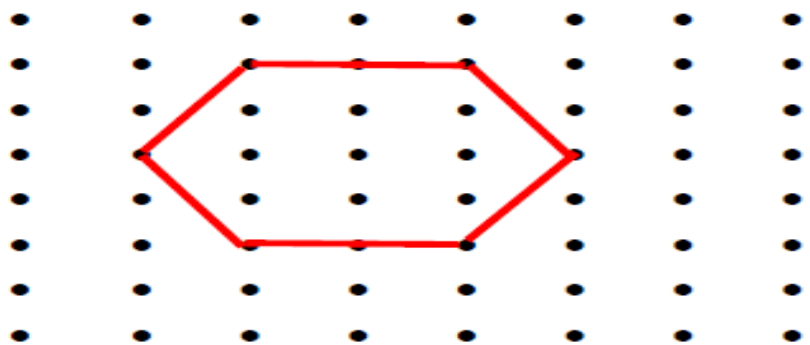
باتوجه به خط تقارن نیمه ی دیگر شکل ها را کامل کنید.



۵


نقطه ها را با خط کش به هم وصل کرده و شکلی را که خواسته شده ، بکشید.

" ۶ ضلع و ۶ گوشه دارد. "



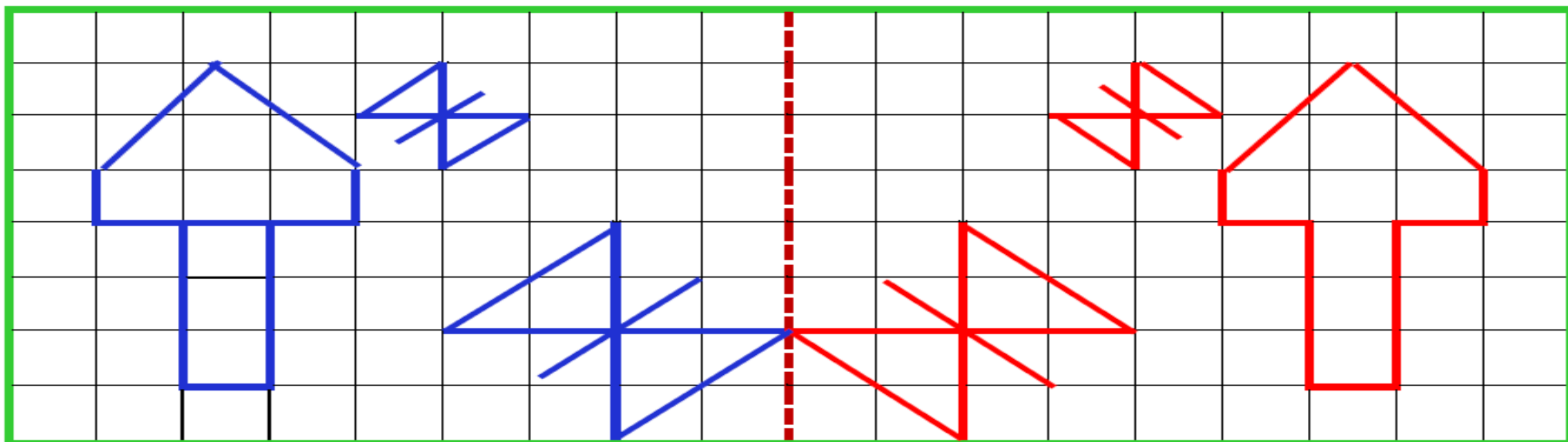
" ۴ ضلع و ۴ گوشه دارد. "

((فقط دوتا از ضلع هایش مساوی است.))




۴

باتوجه به خط تقارن نیمه ی دیگر شکل ها را کامل کنید.



۵

شباهت و تفاوت شکل های داده شده را بنویسید.



شباهت :

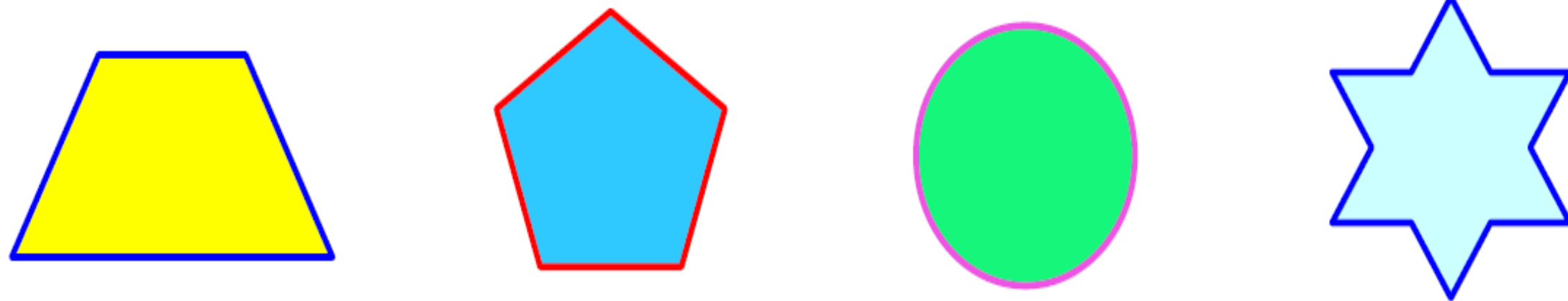
.....

تفاوت :

.....

۶

شکل های داده شده را به قسمت های مساوی تقسیم کنید.



۷


شباهت و تفاوت شکل های داده شده را بنویسید.

✧ شباهت : هر دو چند ضلعی هستند و شش ضلع و شش

گوشه دارند.

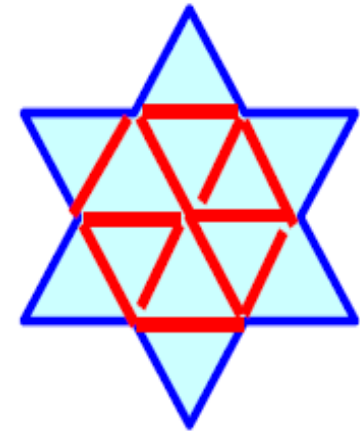

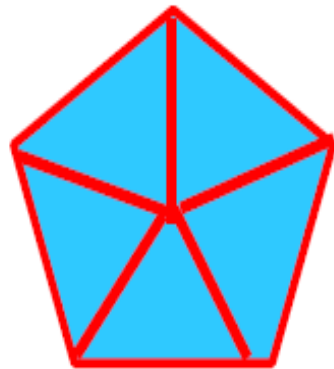
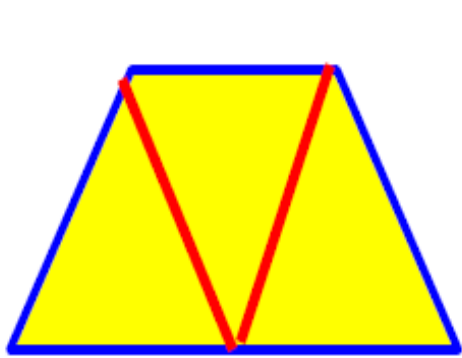
✧ تفاوت : ضلع های شکل سمت راست با هم برابر است

ولی ضلع های شکل سمت چپ با هم برابر نیست.



۶

شکل های داده شده را به قسمت های مساوی تقسیم کنید.



۷



قهرمان های کوچولو
همیشه پیروز و موفق باشید.