



موضوع:


تاریخ:

نام و نام خانوادگی:

هدف:

۱- کدام گزینه درست است، مربع آن را رنگ کن.

➤ یک ربع چند دقیقه است؟



- ۱۵ دقیقه ۳۰ دقیقه ۴۵ دقیقه

➤ عدد ۲۲۴ به کدام عدد نزدیکتر است؟

- ۲۳۰ ۲۰۰ ۲۲۰

➤ کدام شکل گوشه و ضلع ندارد؟

- مثلث دایره مربع

۲- جمع و تفریق زیر را به روش بادکنکی (فرایندی) حل کن.

$$\begin{array}{r} 988 \\ -575 \\ \hline \end{array}$$

$$\begin{array}{r} 343 \\ +446 \\ \hline \end{array}$$



۳- جمع و تفریق زیر را به روش تکنیکی حل کن.

$$\begin{array}{r} 908 \\ -575 \\ \hline \end{array}$$

$$\begin{array}{r} 376 \\ +446 \\ \hline \end{array}$$

۴- عدد های زیر را به صورت گسترده نویسی بنویس.

۷۰۲ =

۳۲۸ =

بازخورد:





موضوع:

تاریخ:


نام و نام خانوادگی:

هدف:

۵- خط های زیر را اندازه گیری کن و دقیق بنویس.



۶- کامل کن.



.....قسمت از.....رنگ شده است.


۷- ساعت چند است؟

- ۲۰ دقیقه بعد ساعت چند می شود؟



۸- طول یک پارچه ی آبی ۳۷۸ سانتی متر است. طول پارچه زرد رنگی ۲۸۴ سانتی متر است. طول پارچه ی زرد چند سانتی متر کم تر است؟

۹- در یک کیسه ای ۸ مهره قرمز و ۷ مهره سفید وجود دارد. اگر بدون نگاه کردن یک مهره بیرون بیاوریم شانس کدام رنگ بیشتر است؟ چرا؟



۱۰- در جای خالی عدد مناسب بگذار.



..... تا تایی می شود..... تا.....

بازخورد:

Blank space for writing feedback.

