


مرور فصل سوم




1. شباهت و تفاوت شکل های زیر را بنویسید.




شباهت:



تفاوت:



شباهت:




تفاوت:

1. شباهت و تفاوت شکل های زیر را بنویسید.

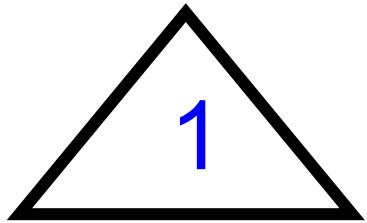


شباهت: هر دو 4 ضلع و 4 گوشه دارند.



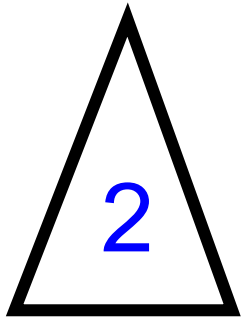
تفاوت: مربع همه ضلع هایش برابر است، 4 خط تقارن دارد.

مستطیل فقط ضلع های رو به رو برابر است، 2 خط تقارن دارد.



شباهت: هر دو 3 ضلع و 3 گوشه دارند.

تفاوت: شماره 1. همه ضلع هایش برابر است، 3 خط تقارن دارد.



شماره 2. فقط ضلع های رو به رو برابر است، 1 خط تقارن دارد.

2. درستی و نادرستی هر عبارت مشخص کنید.

الف) تعداد گوشه ها و ضلع های یک چند ضلعی با هم برابر است

ب) دایره یک چند ضلعی است که گوشه دارد.

پ) خط تقارن می تواند در شکل ها به صورت افقی و عمودی باشد

ت) هر ساعت 60 دقیقه و نیم ساعت 30 دقیقه است.

ث) تعداد خط تقارن شکل های مختلف با هم برابر است.

2. درستی و نادرستی هر عبارت مشخص کنید.

الف) تعداد گوشه ها و ضلع های یک چند ضلعی با هم برابر است

ب) دایره یک چند ضلعی است که گوشه دارد.

پ) خط تقارن می تواند در شکل ها به صورت افقی و عمودی باشد

ت) هر ساعت 60 دقیقه و نیم ساعت 30 دقیقه است.

ث) تعداد خط تقارن شکل های مختلف با هم برابر است.

3. جاهای خالی را با کلمات مناسب پر کنید.

الف) مربع خط تقارن

ب) مستطیل خط تقارن

پ) مثلث ضلع و گوشه دارد.

ت) پنج ضلعی خط تقارن دارد.

پ) شش ضلعی ضلع ، گوشه و خط تقارن دارد.

ث) دایره ضلع ، گوشه و خط تقارن دارد.

3. جاهای خالی را با کلمات مناسب پر کنید.

الف) مربع ۴ خط تقارن

ب) مستطیل ۲ خط تقارن دارد

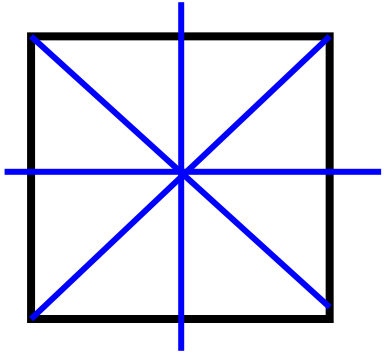
پ) مثلث ۳ ضلع و گوشه دارد.

ت) پنج ضلعی ۵ خط تقارن دارد.

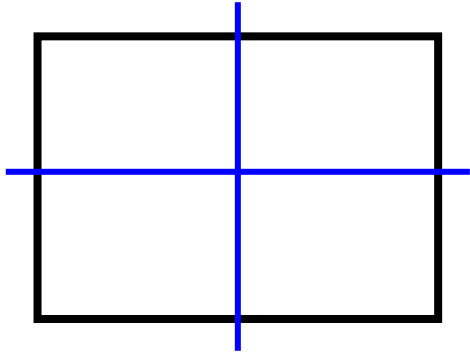
پ) شش ضلعی ۶ ضلع ، گوشه و ۶ خط تقارن دارد.

ث) دایره ۰ ضلع ، گوشه و بی نهایت خط تقارن دارد.

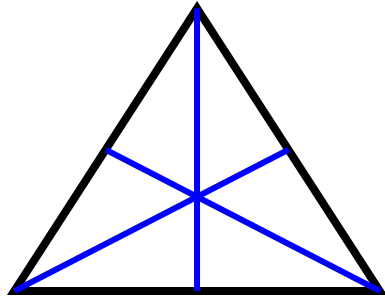
4. خط تقارن شکل های زیر را بکشید.



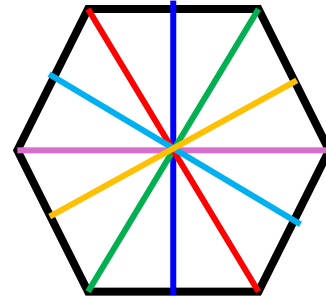
۴




۲



۳



۶



بی نهایت

5. الگوهای زیر را ادامه دهید.

