


۱. شباهت و تفاوت شکل های زیر را بنویسید.

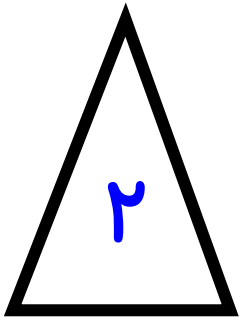
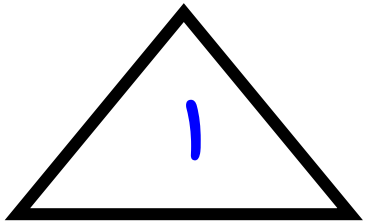


شباهت: هر دو ۴ ضلع و ۴ گوشه دارند.

تفاوت: مربع همه ضلع هایش برابر است، ۴ خط تقارن دارد.

مستطیل فقط ضلع های رو به رو برابر است، ۲ خط تقارن دارد.

شباهت: هر دو ۳ ضلع و ۳ گوشه دارند.



تفاوت: شماره ۱. همه ضلع هایش برابر است، ۳ خط تقارن دارد.

شماره ۲. فقط ضلع های رو به رو برابر است، ۱ خط تقارن دارد.

۲. درستی و نادرستی هر عبارت مشخص کنید.

الف) تعداد گوشه ها و ضلع های یک چند ضلعی با هم برابر است

ب) دایره یک چند ضلعی است که گوشه دارد.

پ) خط تقارن می تواند در شکل ها به صورت افقی و عمودی باشد.

ت) هر ساعت ۶۰ دقیقه و نیم ساعت ۳۰ دقیقه است.

ث) تعداد خط تقارن شکل های مختلف با هم برابر است.

۳. جاهای خالی را با کلمات مناسب پر کنید.

الف) مربع۴..... خط تقارن دارد.

ب) مستطیل۲..... خط تقارن دارد.

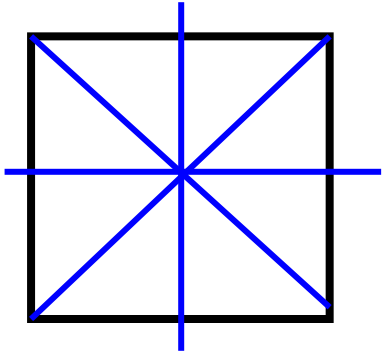
پ) مثلث۳..... ضلع و گوشه دارد.

ت) پنج ضلعی۵..... خط تقارن دارد.

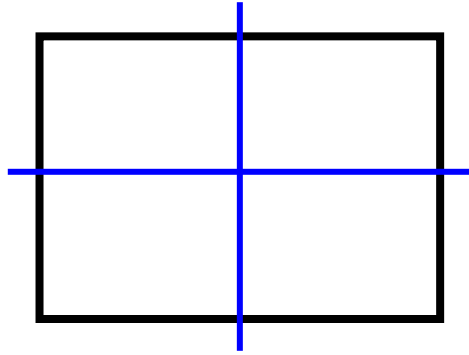
پ) شش ضلعی۶..... ضلع ، گوشه و۶..... خط تقارن دارد.

ث) دایره۰..... ضلع ، گوشه و بی نهایت خط تقارن دارد.

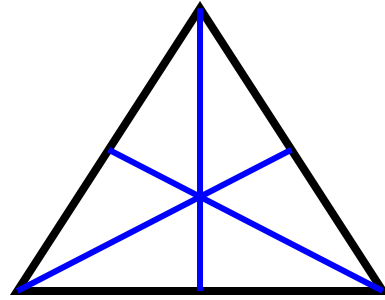
۴. خط تقارن شکل های زیر را بکشید.



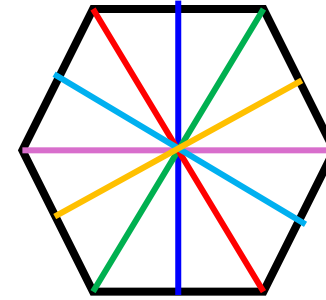
۴




۲



۳



۶



بی نهایت

۵. الگوهای زیر را ادامه دهید.

