

علوی

بنام خانواده جانور

پایه:

مرور ریاضی

موضوع:

تاریخ

نام و نام خانوادگی

فصل ۱

هدف:

۱- عزیزم با کارت های (۵-۴-۸) هرچه می توانی عدد دورقمی بنویس.



علوی

بنام خداوند جان و خرد

پایه:

مرور ریاضی

موضوع:

تاریخ

نام و نام خانوادگی

فصل ۱

هدف:

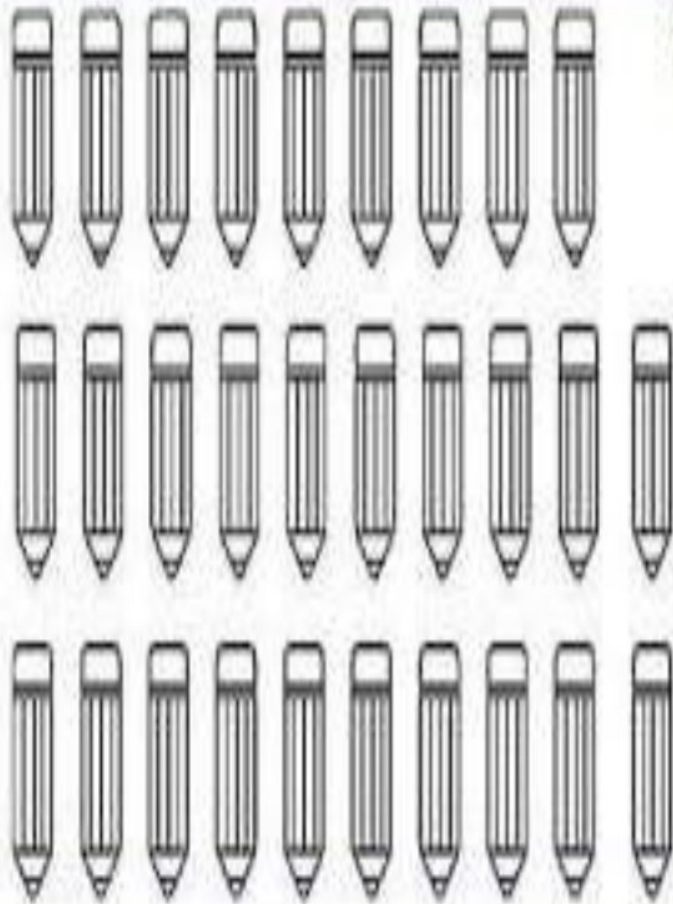
۱- عزیزم با کارت های (۵- ۴- ۸) هرچه می توانی عدد دورقمی بنویس.



۸۴ - ۸۵ - ۴۵ - ۴۸ - ۵۸ - ۵۴






۲- عزیزم ابتدا دسته های ده تایی جدا کن و سپس تعداد شکل را بنویس.



..... به عدد

..... به حروف

۲- عزیزم ابتدا دسته های ده تایی جدا کن و سپس تعداد شکل را بنویس.



۲۹
..... به عدد

..... به حروف بیست و نه

۳- حاصل هر عبارت را به روش خواسته شده به دست آورید.

$$۶ + ۷ + ۸ = \dots\dots\dots$$



* با رسم چوب خط.

$$۱۶ - ۷ = \dots\dots\dots$$



* با رسم شکل

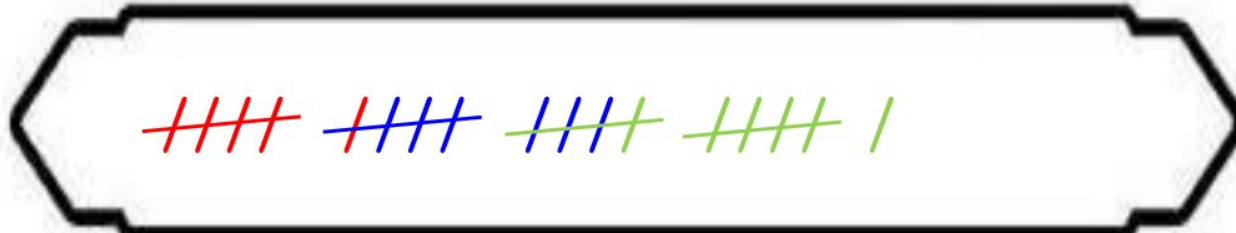
$$۱۳ - ۷ + ۴ = \dots\dots\dots$$

* با کمک محور



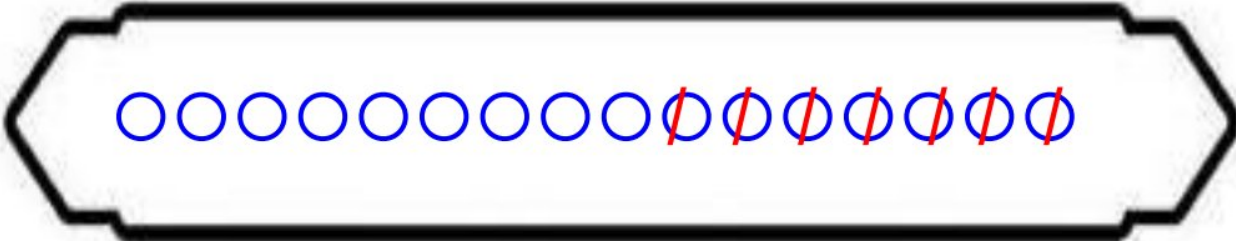
۳- حاصل هر عبارت را به روش خواسته شده به دست آورید.

$$۶ + ۷ + ۸ = \dots\dots\dots ۲۱$$



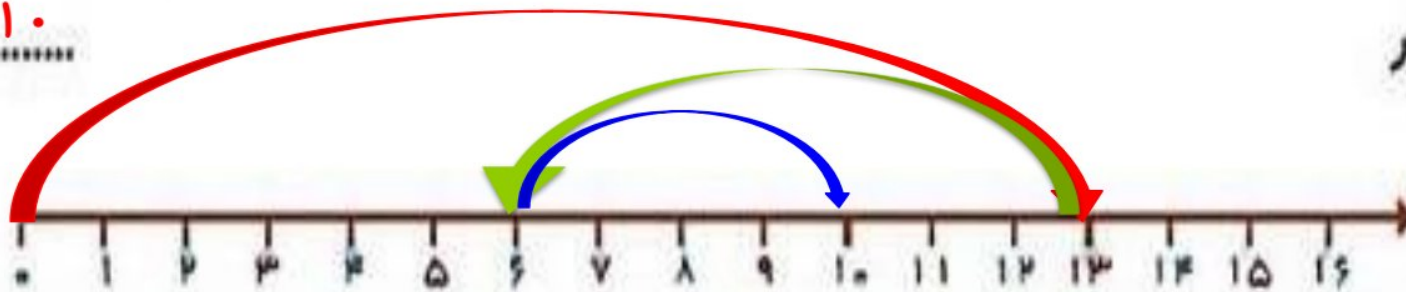
* با رسم چوب خط.

$$۱۶ - ۷ = \dots\dots\dots ۹$$



* با رسم شکل

$$۱۳ - ۷ + ۴ = \dots\dots\dots ۱۰$$



* با کمک محور



۴- دلبندم عددی دو رقمی بنویس که رقم یگانش ۶ و رقم دهگانش ۴ تا کمتر از یگان باشد.

۴- دلبندم عددی دو رقمی بنویس که رقم یگانش ۶ و رقم دهگانش ۴ تا کمتر از یگان باشد.



$$۶ - ۴ = ۲$$

۵- عزیزم الگوهای عددی زیر را با رسم شکل ادامه بده.

۳ و ۶ و ۹ و و و و

۶- در یک اتوبوس ۱۲ مسافر نشسته بودند، در ایستگاه اول ۵ نفر پیاده شدند و در ایستگاه دوم ۷ نفر سوار شدند حالا

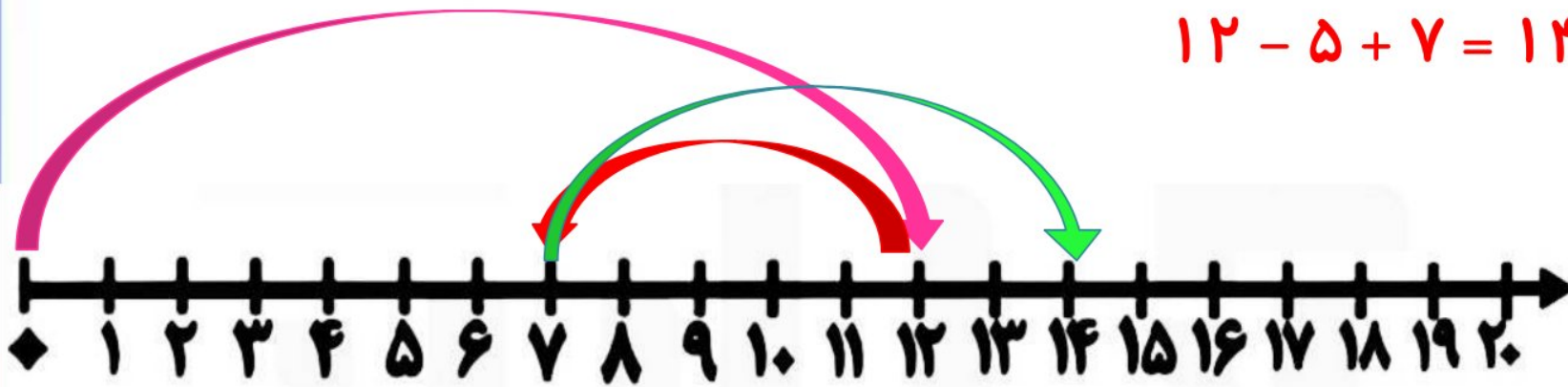
در این اتوبوس چند مسافر نشسته اند ؟ (با کمک محور).....



۶- در یک اتوبوس ۱۲ مسافر نشسته بودند، در ایستگاه اول ۵ نفر پیاده شدند و در ایستگاه دوم ۷ نفر سوار شدند حالا

در این اتوبوس چند مسافر نشسته اند ؟ (با کمک محور) **۱۴ مسافر نشسته اند .**

$$۱۲ - ۵ + ۷ = ۱۴$$



با آرزوی موفقیت برای گل های شاداب کلاس فضانوردان
آموزگار : احمدی

