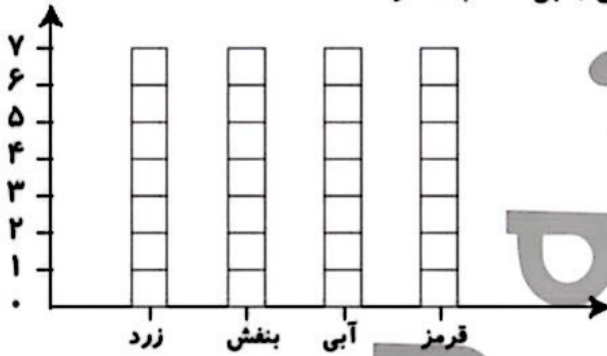


۵ رنگهای جدول روبه‌رو، رنگهای مورد علاقه‌ی دانش‌آموزان کلاس دوم هستند. نمودار ستونی مربوط به جدول را رنگ و کامل کن، سپس به سؤالات پاسخ بده.

رنگ	زرد	بنفش	آبی	قرمز
تعداد (نفر)	۵	۲	۷	۳
چوب‌خط				

الف: مجموع تعداد افرادی که رنگ مورد علاقه‌ی آنان بنفش و آبی است چند نفر هستند؟



ب: بیش‌ترین افراد، چه رنگی را دوست دارند؟

پ: کم‌ترین افراد، چه رنگی را دوست دارند؟

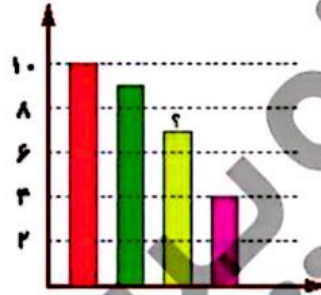
ت: تعداد کل دانش‌آموزان چند نفر است؟

۶ با توجه به سؤالات داده شده، گزینه‌ی صحیح را انتخاب کن.

الف: یک معلم از ۳۰ دانش‌آموز کلاس خود پرسید چه نوع بستنی را بیش‌تر دوست دارند. او پاسخ‌های دانش‌آموزان را در جدول زیر ثبت کرده است.

در نمودار میله‌ای زیر، میله‌ای که با؟ مشخص شده، نشان دهنده‌ی کدام نوع بستنی است؟

بستنی مورد علاقه	تعداد دانش‌آموزان
موزی	///
شکلاتی	//// //
توت‌فرنگی	//// //
زعفرانی	//// //



(۱) موزی

(۲) شکلاتی

(۳) توت‌فرنگی

(۴) زعفرانی

ب: در یک خیابان خانه‌های یک سمت با اعداد فرد متوالی ۱ تا ۳۹ شماره‌گذاری شده‌اند و خانه‌های سمت دیگر با اعداد

زوج متوالی ۲ تا ۳۴ شماره‌گذاری شده‌اند. چند خانه در این خیابان وجود دارد؟

۲۸ (۲)

۲۸ (۲)

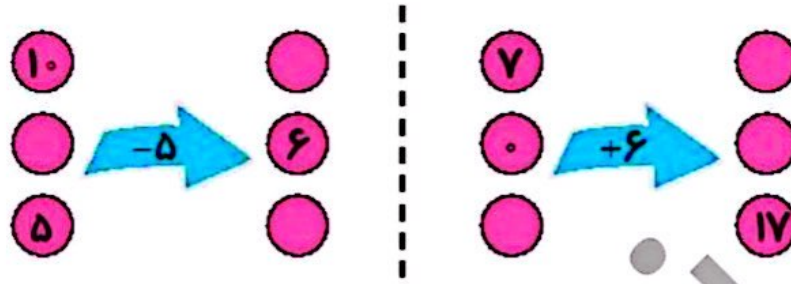
۳۷ (۱)

۷۳ (۵)

۳۶ (۴)



۷ جاهای خالی را پر کن.



۸ جدول سمت چپ نشان می‌دهد که دانش‌آموزان کلاس دوم مدرسه‌ی علوی به چه فصل‌هایی علاقه‌مند می‌باشند. جدول سمت راست را کامل کن.

فصل‌ها	تعداد دانش‌آموزان	فصل‌ها	تعداد دانش‌آموزان
بهار		بهار	
تابستان		تابستان	
پاییز		پاییز	
زمستان		زمستان	

دو دانش‌آموز یک دانش‌آموز

۹ با توجه به جدول بالا به سؤالات زیر پاسخ بده و گزینه‌ی صحیح را انتخاب کن.

الف: تعداد دانش‌آموزان در کدام فصل سال بیش‌تر است؟

- (۱) بهار (۲) تابستان (۳) پاییز (۴) زمستان

ب: در کدام فصل سال اختلاف تعداد دانش‌آموزان ۵ تا است؟

- (۱) بهار و تابستان (۲) تابستان و پاییز (۳) پاییز و زمستان (۴) بهار و زمستان

پ: مجموع تمام تعداد دانش‌آموزان کلاس دوم علوی چند نفر است؟

- (۱) ۲۲ (۲) ۲۱ (۳) ۲۳ (۴) ۲۵

