

علوی

بنام خداوند جان و خرد

پایه:

مرور ریاضی

موضوع:

تاریخ

نام و نام خانوادگی

فصل ۱

هدف:

۱- عزیزم با کارت های (۵-۴-۸) هرچه می توانی عدد دورقمی بنویس.



علوی

بنام خانم بانو دکتر

پایه:



نام و نام خانوادگی

تاریخ

موضوع:

مرور ریاضی

هدف:

فصل ۱

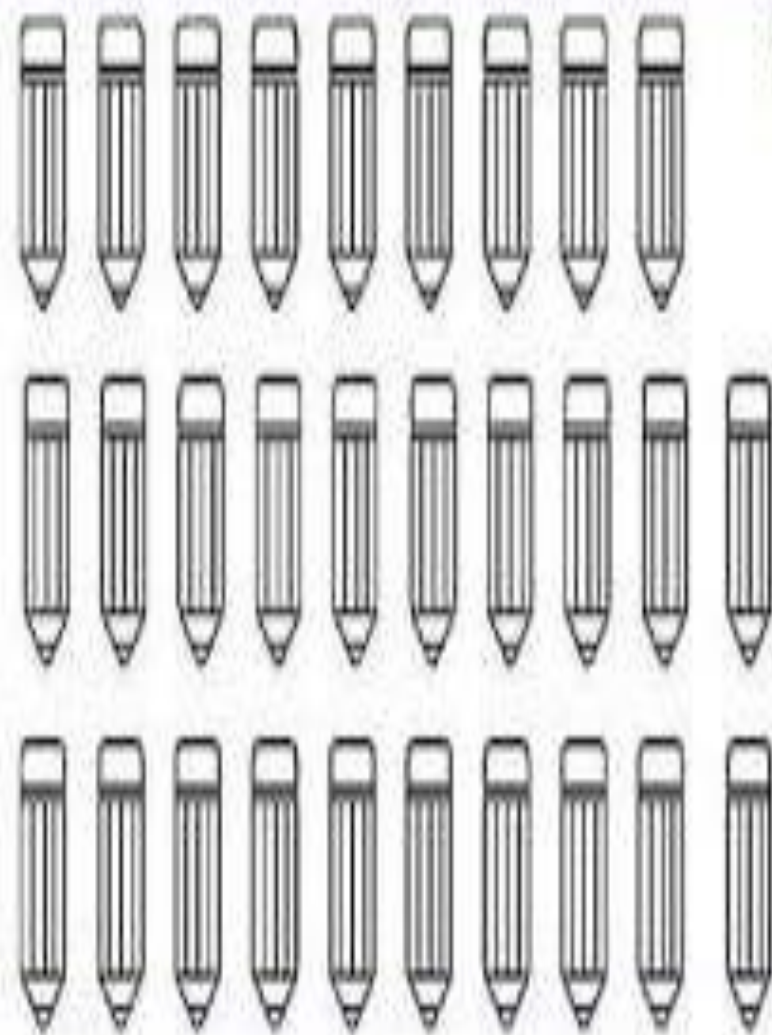
۱- عزیزم با کارت های (۵- ۴- ۸) هرچه می توانی عدد دورقمی بنویس.



۵۴ - ۵۸ - ۴۸ - ۴۵ - ۸۵ - ۸۴






۲- عزیزم ابتدا دسته های ده تایی جدا کن و سپس تعداد شکل را بنویس.



..... به عدد

..... به حروف

۲- عزیزم ابتدا دسته های ده تایی جدا کن و سپس تعداد شکل را بنویس.



۲۹
به عدد

به حروف بیست و نه

۳- حاصل هر عبارت را به روش خواسته شده به دست آورید.

$$۶ + ۷ + ۸ = \dots\dots\dots$$



* با رسم چوب خط.

$$۱۶ - ۷ = \dots\dots\dots$$



* با رسم شکل

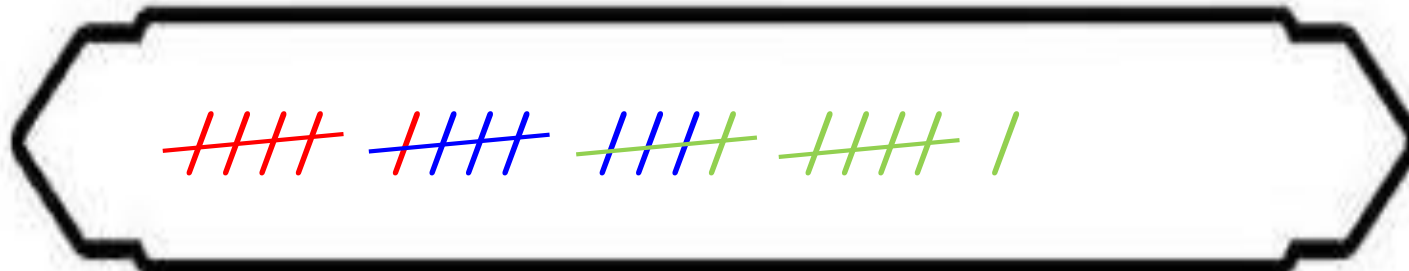
$$۱۳ - ۷ + ۴ = \dots\dots\dots$$

* با کمک محور



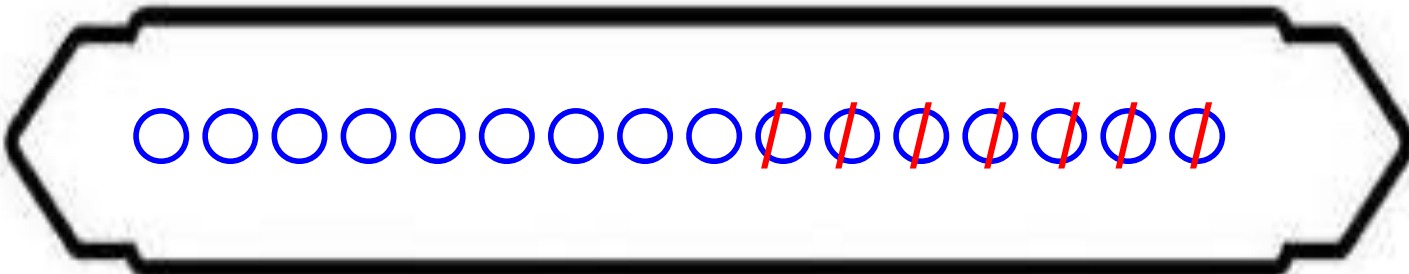
۳- حاصل هر عبارت را به روش خواسته شده به دست آورید.

$$6 + 7 + 8 = \dots\dots\dots 21$$



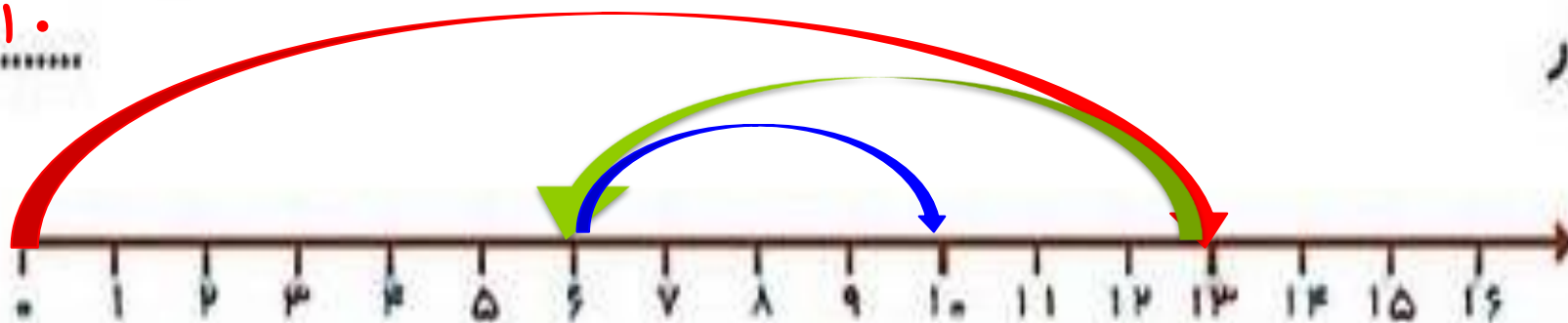
* با رسم چوب خط.

$$16 - 7 = \dots\dots\dots 9$$



* با رسم شکل

$$13 - 7 + 4 = \dots\dots\dots 10$$



* با کمک محور

۴- دلبندم عددی دو رقمی بنویس که رقم یگانش ۶ و رقم دهگانش ۴ تا کمتر از یگان باشد.



۴- دلبندم عددی دو رقمی بنویس که رقم یگانش ۶ و رقم دهگانش ۴ تا کمتر از یگان باشد.

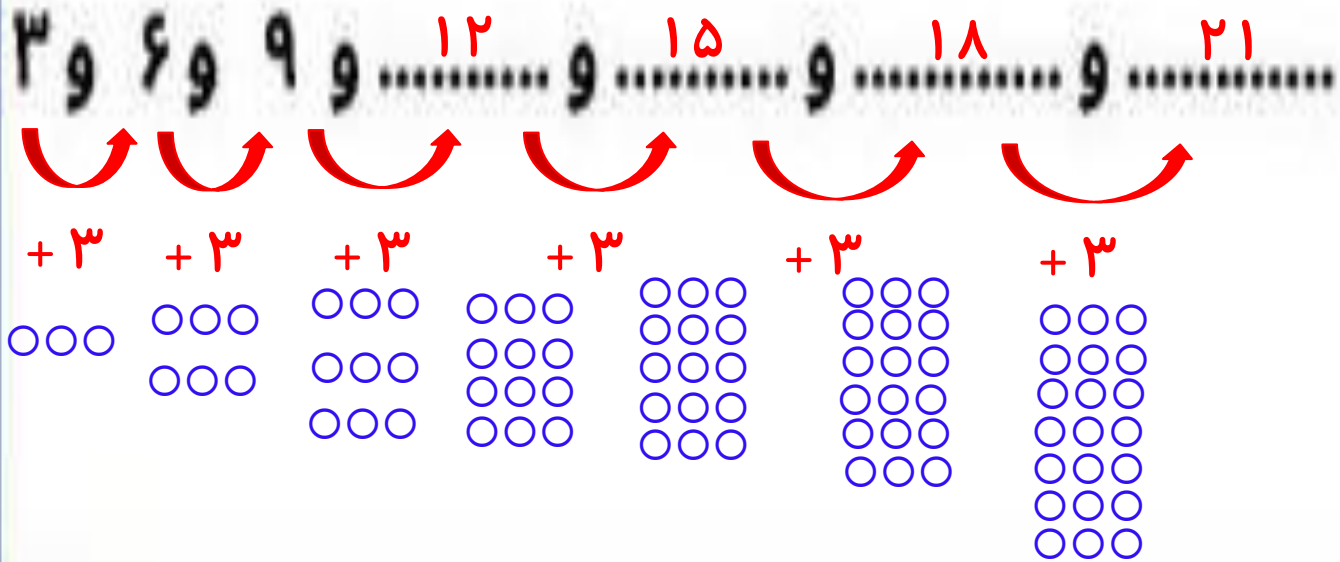


$$6 - 4 = 2$$

۵- عزیزم الگوهای عددی زیر را با رسم شکل ادامه بده.

..... و و و ۹ و ۶ و ۳

۵- عزیزم الگوهای عددی زیر را با رسم شکل ادامه بده.



۶- در یک اتوبوس ۱۲ مسافر نشسته بودند، در ایستگاه اول ۵ نفر پیاده شدند و در ایستگاه دوم ۷ نفر سوار شدند حالا

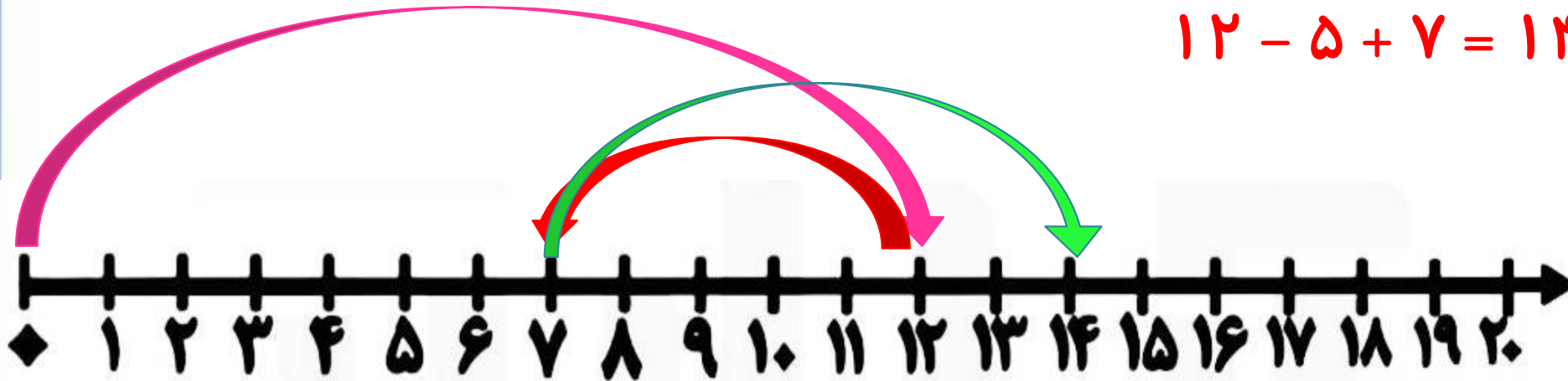
در این اتوبوس چند مسافر نشسته اند ؟ (با کمک محور).....




۶- در یک اتوبوس ۱۲ مسافر نشسته بودند، در ایستگاه اول ۵ نفر پیاده شدند و در ایستگاه دوم ۷ نفر سوار شدند حالا

در این اتوبوس چند مسافر نشسته اند ؟ (با کمک محور)..... **۱۴ مسافر نشسته اند .**

$$۱۲ - ۵ + ۷ = ۱۴$$



۷ - حاصل جمع های زیر را بنویسد.




$$۳۰ + ۲۰ + ۵ + ۵ + ۲۰ + ۶ = \dots\dots\dots$$

$$۲۰ + ۳ + ۳۰ + ۱۰ + ۱۰ + ۷ = \dots\dots\dots$$

۷- حاصل جمع های زیر را بنویسد.

$$\underline{۳۰} + \underline{۲۰} + \overset{۱۰}{\text{ح}} + \overset{۱۰}{\text{ح}} + \underline{۲۰} + ۶ = \dots\dots\dots$$

۸۶



$$\underline{۲۰} + ۳ + \underline{۳۰} + \underline{۱۰} + \underline{۱۰} + ۷ = \dots\dots\dots$$

۸۰

۸ - همه ی جمع های مربوط به عدد ۵ را بنویس. (جمع نظام دار ۵)

$$\dots + \dots = \dots ۵ \dots$$

$$\dots + \dots = \dots ۵ \dots$$

$$\dots + \dots = \dots ۵ \dots$$

$$\dots + \dots = \dots ۵ \dots$$

$$\dots + \dots = \dots ۵ \dots$$

$$\dots + \dots = \dots ۵ \dots$$

۸ - همه ی جمع های مربوط به عدد ۵ را بنویس. (جمع نظام دار ۵)

$$\overset{\cdot}{\dots\dots\dots} + \overset{۵}{\dots\dots\dots} = \dots ۵ \dots$$

$$\overset{۳}{\dots\dots\dots} + \overset{۲}{\dots\dots\dots} = \dots ۵ \dots$$

$$\overset{۱}{\dots\dots\dots} + \overset{۴}{\dots\dots\dots} = \dots ۵ \dots$$

$$\overset{۴}{\dots\dots\dots} + \overset{۱}{\dots\dots\dots} = \dots ۵ \dots$$

$$\overset{۲}{\dots\dots\dots} + \overset{۳}{\dots\dots\dots} = \dots ۵ \dots$$

$$\overset{۵}{\dots\dots\dots} + \overset{\cdot}{\dots\dots\dots} = \dots ۵ \dots$$

۹- عزیزم با توجه به هر ساعت جاهای خالی را کامل کن.



ساعت از گذشته است



ساعت است



ساعت به مانده است

۹- عزیزم با توجه به هر ساعت جاهای خالی را کامل کن.



ساعت از ۹ گذشته است



ساعت ۱۰ است

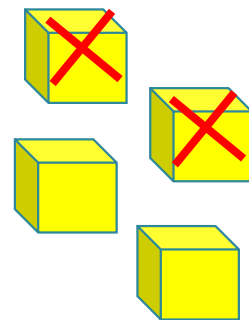
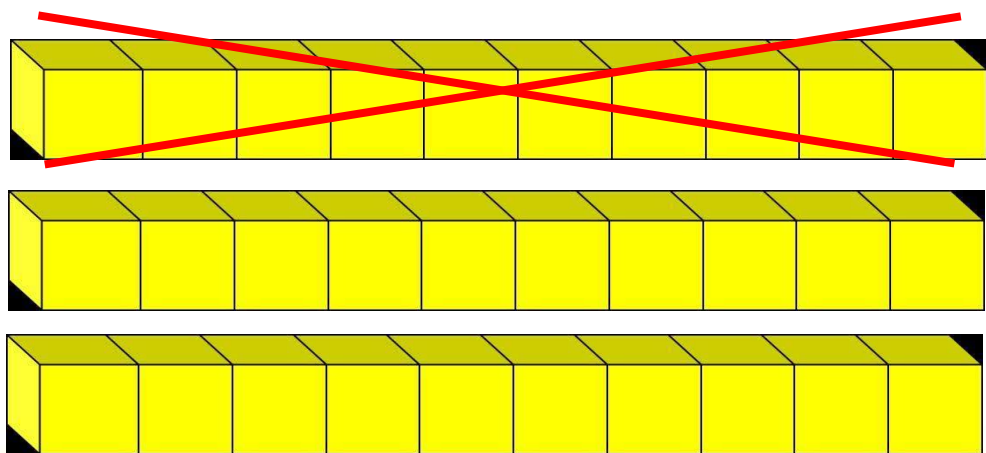


ساعت به ۷ مانده است

۱۰- داخل یک گلدان ۳۴ شاخه گل سرخ و سفید است اگر ۱۲ تا از گل ها سرخ و بقیه سفید باشند در این گلدان چند شاخه گل سفید است؟ با رسم چینه های ده تایی حل کن (.....)




۱۰- داخل یک گلدان ۳۴ شاخه گل سرخ و سفید است اگر ۱۲ تا از گل ها سرخ و بقیه سفید باشند در این گلدان چند شاخه گل سفید است؟ با رسم چینه های ده تایی حل کن (**۲۲ شاخه گل سفید است.**)




$$34 - 12 = 22$$



۱۱- عزیزدلم نوشتن عددها را ادامه بده ؟



۱۱- عزیزدلم نوشتن عددها را ادامه بده ؟



علوی

بنام خانوادگی

پایه:

مرور ریاضی

موضوع:


تاریخ

نام و نام خانوادگی


فصل ۲

هدف:

۱- با توجه به شکل حاصل جمع و تفریق ها را پیدا کنید .



..... + =



..... - =

علوی

بنام خانوادگی

پایه:

مرور ریاضی

موضوع:


تاریخ

نام و نام خانوادگی


فصل ۲

هدف:

۱- با توجه به شکل حاصل جمع و تفریق ها را پیدا کنید .





$$20 + 50 = 70$$



$$80 - 30 = 50$$

۲ - عزیزم با دقت جدول‌های جمع و تفریق زیر را کامل کن.

	۸	۶	۵	۹
۷				
۹				

	۸	۵	۶	۲
۱۸				
۱۶				



۲ - عزیزم با دقت جدول‌های جمع و تفریق زیر را کامل کن.

	۸	۶	۵	۹
۷	۱۵	۱۳	۱۲	۱۶
۹	۱۷	۱۵	۱۴	۱۸

	۸	۵	۶	۲
۱۸	۱۰	۱۳	۱۲	۱۶
۱۶	۸	۱۱	۱۰	۱۴



۳- حاصل جمع و تفریق های زیر را به روش فرآیندی به دست آورید . (گسترده نویسی)

۵۹

- ۴۳



۲۹

+ ۵۷

۳- حاصل جمع و تفریق های زیر را به روش فرآیندی به دست آورید . (گسترده نویسی)

$$\begin{array}{r} 59 \\ - 43 \\ \hline 19 \\ - 3 \\ \hline 16 \end{array}$$



$$\begin{array}{r} 29 \\ + 57 \\ \hline 79 \\ + 7 \\ \hline 86 \end{array}$$

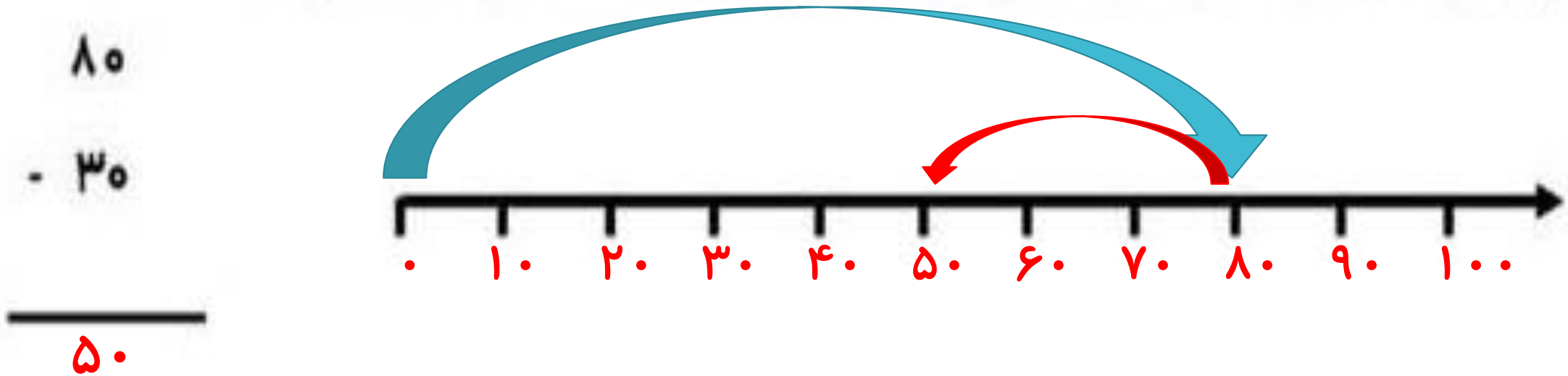
۴ - عزیزم ابتدا محور را عددگذاری کرده و سپس حاصل عبارت را با کمک محور به دست آورید .

۸۰

- ۳۰



۴ - عزیزم ابتدا محور را عددگذاری کرده و سپس حاصل عبارت را با کمک محور به دست آورید .



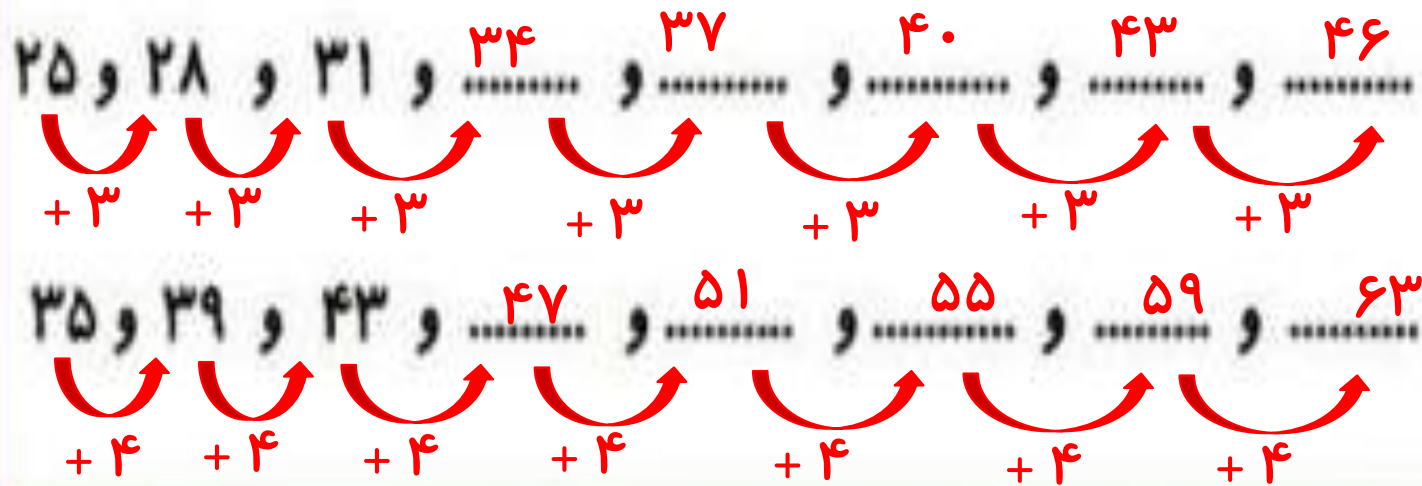
۵ - دلبندم الگوهای عددی زیر را با نوشتن رابطه الگویی مناسب ادامه بده .

..... و و و و و ۳۱ و ۲۸ و ۲۵

..... و و و و و ۴۳ و ۳۹ و ۳۵



۵- دلبندم الگوهای عددی زیر را با نوشتن رابطه الگویی مناسب ادامه بده.



۶ - در جاهای خالی عدد مناسب بنویسید .

* ۳ دسته ده تایی به اضافه ۴ دسته ده تایی می شود دسته ده تایی

یعنی = +

* ۸ دسته ده تایی منهای دسته ده تایی می شود دسته ده تایی

یعنی = - ۲۰

۶ - در جاهای خالی عدد مناسب بنویسید .

$$\dots + \dots = \dots$$

یعنی $۳۰ + ۴۰ = ۷۰$

* ۳ دسته ده تایی به اضافه ۴ دسته ده تایی می شود دسته ده تایی ۷

$$\dots - ۲۵ = \dots$$

یعنی $۸۰ - ۲۵ = ۶۰$

* ۸ دسته ده تایی منهای دسته ده تایی می شود دسته ده تایی ۶

۷ - حاصل جمع و تفریق های زیر را به صورت تقریبی به دست آورید.

$$67 \longrightarrow$$

$$- 34 \longrightarrow$$

$$45 \longrightarrow$$

$$+ 14 \longrightarrow$$

۷ - حاصل جمع و تفریق های زیر را به صورت تقریبی به دست آورید.

$$۶۷ \longrightarrow ۷۰$$

$$۴۵ \longrightarrow ۵۰$$

$$- ۳۴ \longrightarrow - ۳۰$$

$$+ ۱۴ \longrightarrow + ۱۰$$

۴۰

۶۰

۸ - ساعت چند است ؟



۸ - ساعت چند است ؟



۴ : ۱۰

..... :



۱۱ : ۳۵

..... :



۹_ عزیزم به صورت نظام دار همه عدد های دو رقمی را بنویس که رقم یکان آن (۳ و ۱ و ۹) و رقم دهگان آن (۲ و ۷) باشد . (با رسم جدول)



۹_ عزیزم به صورت نظام دار همه عدد های دو رقمی را بنویس که رقم یکان آن (۳ و ۱ و ۹) و رقم دهگان

آن (۲ و ۷) باشد . (با رسم جدول)

دهگان	یکان
۲	۹
۲	۱
۲	۳
۷	۹
۷	۱
۷	۳



۱۰- عدد دو رقمی بنویسید که رقم یکان آن بیشترین عدد یک رقمی و رقم دهگان آن دو تا کمتر از رقم یکانش

باشد.

۱۰- عدد دو رقمی بنویسید که رقم یکان آن بیشترین عدد یک رقمی و رقم دهگان آن دو تا کمتر از رقم یکانش

باشد.



$$9 - 2 = 7$$

۱۱- با رقم های (۴-۵-۸) هر چه می توانید عددهای دورقمی بیشتر از ۵۵ بنویسید.



۱۱- با رقم های (۸-۵-۴) هر چه می توانید عددهای دورقمی بیشتر از ۵۵ بنویسید.

۸۰ - ۸۴ - ۸۸



علوی

بنام خداوند جان و خرد

پایه:



مرور ریاضی

موضوع:

تاریخ

نام و نام خانوادگی

فصل ۲

هدف:

۱۲_ در یک گلدان ۶۸ شاخه گل نرگس و رز وجود دارد . اگر تعداد گل های رز ۳۷ شاخه باشد . چند شاخه گل نرگس در گلدان است ؟ (فرایندی)





مرور ریاضی

موضوع:

تاریخ

نام و نام خانوادگی

فصل ۲

هدف:

۱۲_ در یک گلدان ۶۸ شاخه گل نرگس و رز وجود دارد . اگر تعداد گل های رز ۳۷ شاخه باشد . چند شاخه گل نرگس در گلدان است ؟ (فرایندی) **۳۱ شاخه گل نرگس در گلدان است .**

$$\begin{array}{r}
 68 \\
 - 37 \\
 \hline
 31
 \end{array}$$



۱۳- گل دانای من حاصل جمع های زیر را بنویس .

$$۱۰ + ۲۰ + ۲۵ = \dots\dots\dots$$



$$۱۰ + ۲۰ + ۶ + ۵ = \dots\dots\dots$$

۱۳- گل دانای من حاصل جمع های زیر را بنویس .

$$10 + 20 + 25 = \dots\dots\dots$$

Handwritten red annotations: A bracket above 10 and 20 is labeled 30. A bracket above 20 and 25 is labeled 55. The number 55 is written in red at the end of the equation.



$$10 + 20 + 6 + 5 = \dots\dots\dots$$

Handwritten red annotations: A bracket above 10 and 20 is labeled 30. A bracket above 20 and 6 is labeled 36. A bracket above 6 and 5 is labeled 41. The number 41 is written in red at the end of the equation.

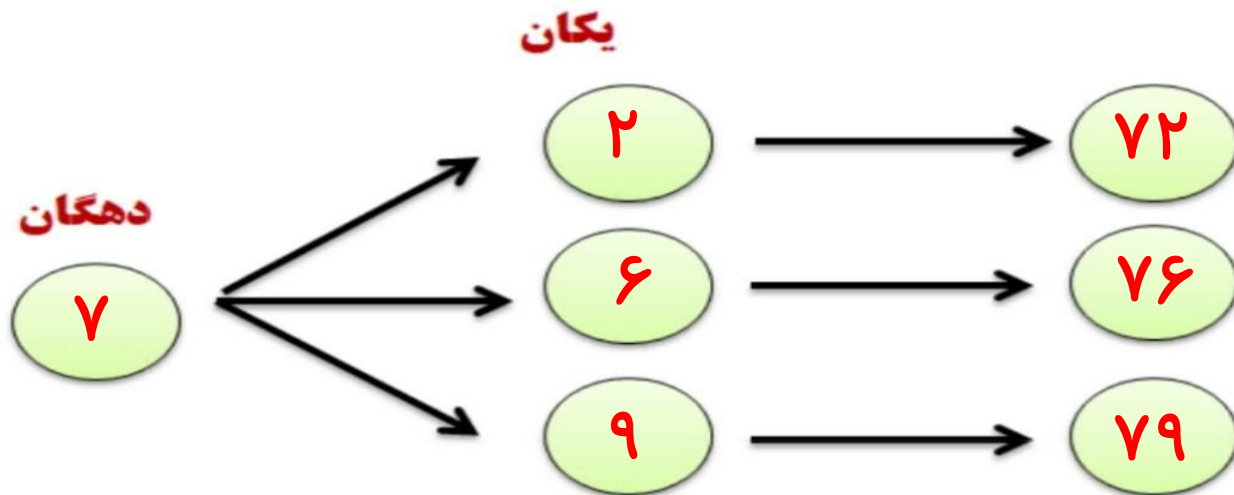
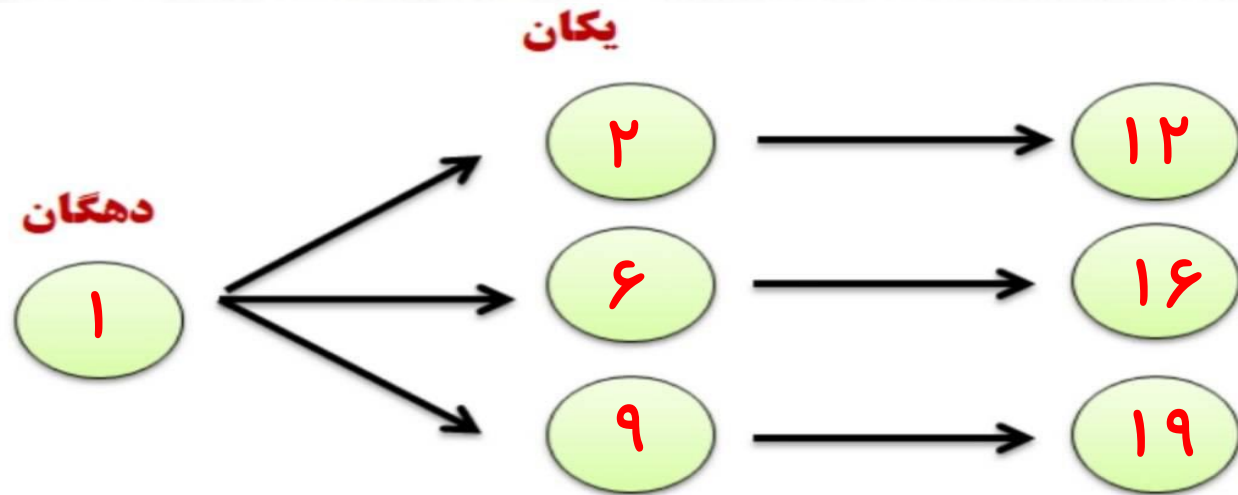
۱۴- رقم های (۹ و ۶ و ۲) در یکان و رقم های (۷ و ۱) در دهگان هر چه می توانی به صورت نظام دار

عدد دو رقمی بنویس. (با روش شاخه ای)

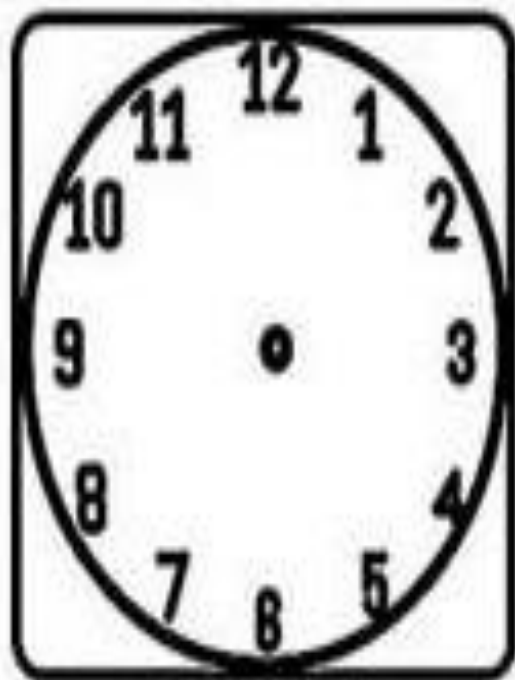


۱۴- رقم های (۲ و ۶ و ۹) در یکان و رقم های (۱ و ۷) در دهگان هر چه می توانی به صورت نظام دار

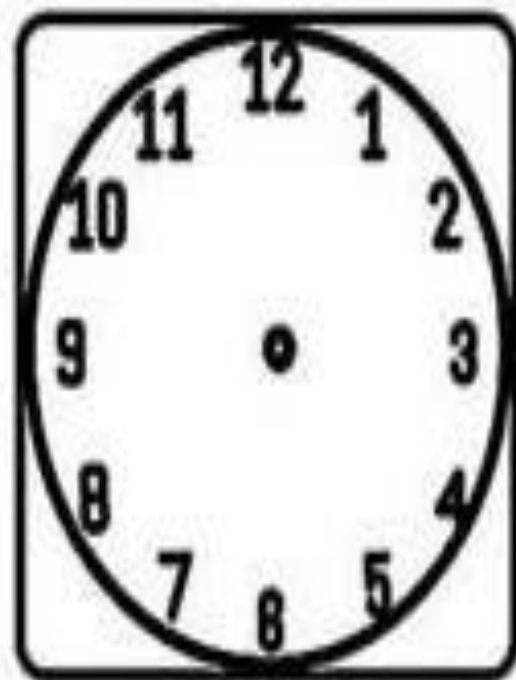
عدد دو رقمی بنویس. (با روش شاخه ای)



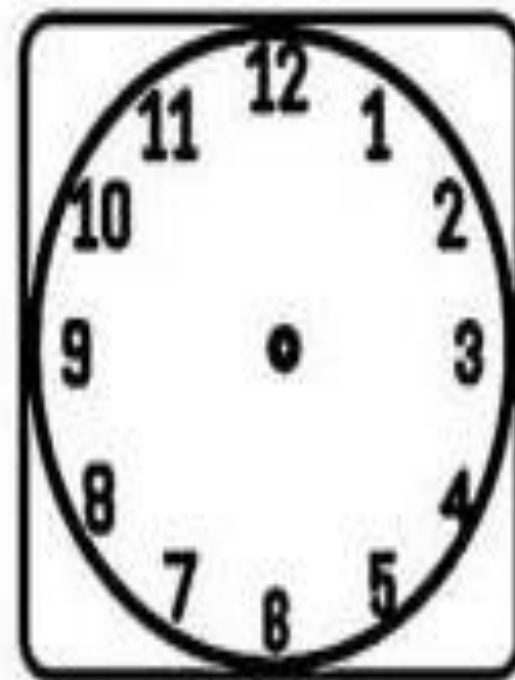
۱۵- دلبندم زمان های خواسته شده را با کشیدن عقربه ها نشان بده.



ساعت ۴ و ۵۵ دقیقه است.

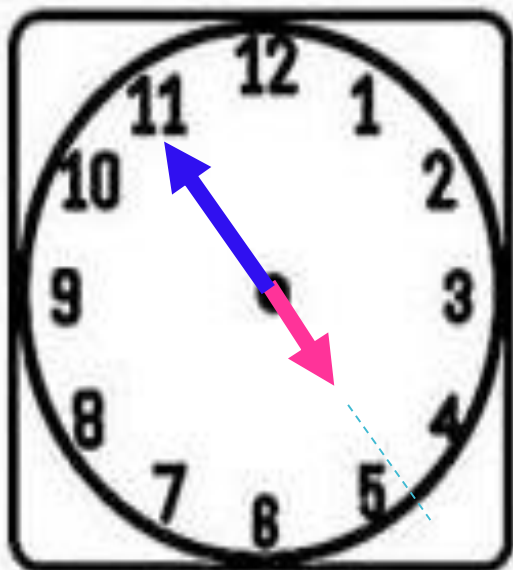


ساعت ۸ است.

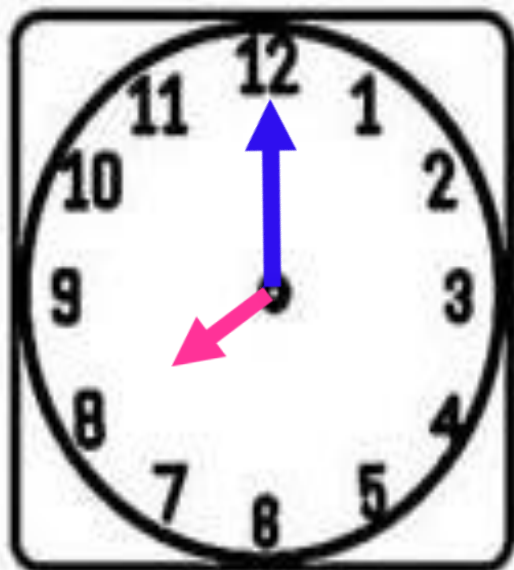


ساعت ۳ و ۲۰ دقیقه است.

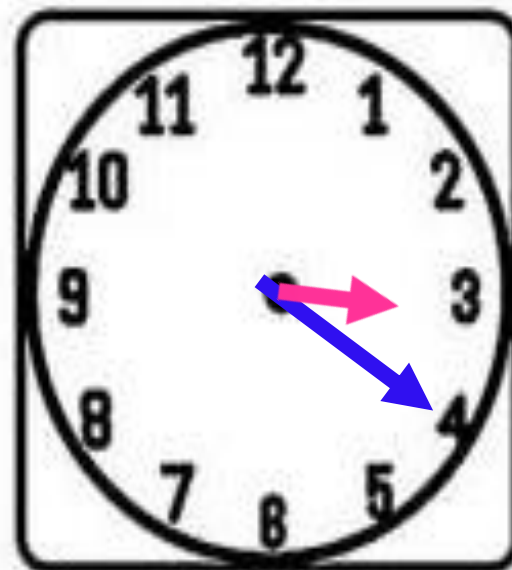
۱۵- دلبندم زمان های خواسته شده را با کشیدن عقربه ها نشان بده.



ساعت ۴ و ۵۵ دقیقه است.



ساعت ۸ است.



ساعت ۳ و ۲۰ دقیقه است.

۱۶- ریاضی دان کوچک حاصل جمع و تفریق ها را به صورت تقریبی بنویس.

$$\begin{array}{r} 78 \rightarrow \\ + 13 \rightarrow \\ \hline \end{array}$$

$$\begin{array}{r} 45 \rightarrow \\ + 24 \rightarrow \\ \hline \end{array}$$

$$\begin{array}{r} 76 \rightarrow \\ - 47 \rightarrow \\ \hline \end{array}$$

۱۶- ریاضی دان کوچک حاصل جمع و تفریق ها را به صورت تقریبی بنویس.

$$\begin{array}{r} 78 \\ + 13 \\ \hline \end{array} \rightarrow \begin{array}{r} 80 \\ + 10 \\ \hline 90 \end{array}$$

$$\begin{array}{r} 45 \\ + 24 \\ \hline \end{array} \rightarrow \begin{array}{r} 50 \\ + 20 \\ \hline 70 \end{array}$$

$$\begin{array}{r} 76 \\ - 47 \\ \hline \end{array} \rightarrow \begin{array}{r} 80 \\ - 50 \\ \hline 30 \end{array}$$



مرور ریاضی

موضوع:


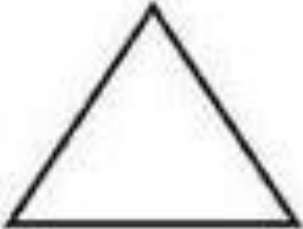



تاریخ

نام و نام خانوادگی

فصل ۳

هدف:

۱- عزیزم جدول زیر را کامل کن .

					شکل هندسی
					نام شکل
					تعداد ضلع
					تعداد گوشه

مرور ریاضی

موضوع:


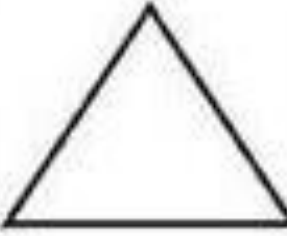



تاریخ

نام و نام خانوادگی



فصل ۳

هدف:




۱- عزیزم جدول زیر را کامل کن .

					شکل هندسی
شش ضلعی	مثلث	مربع	دایره	مستطیل	نام شکل
۶	۳	۴	۰	۴	تعداد ضلع
۶	۳	۴	۰	۴	تعداد گوشه

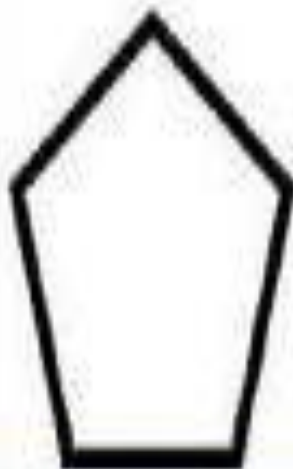

۲- برای هر یک از شکل های زیر در صورت داشتن تقارن یک خط تقارن رسم کنید .



۲- برای هر یک از شکل های زیر در صورت داشتن تقارن یک خط تقارن رسم کنید .



۳- شکل های زیر را نام گذاری کنید، سپس تفاوت و شباهت آن دو را بنویسید .



شباهت :

تفاوت :

۳- شکل های زیر را نام گذاری کنید، سپس تفاوت و شباهت آن دو را بنویسید .

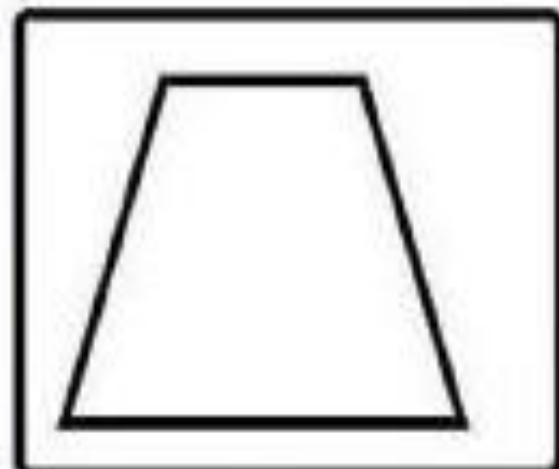
شباهت : هر دو شکل هندسی هستند.

تفاوت : شکل (۱) مثلث ، ۳ گوشه و ۳ ضلع دارد اما

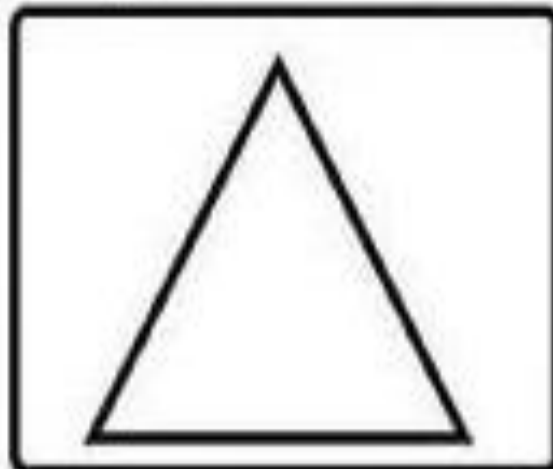
شکل (۲) پنج ضلعی ، ۵ گوشه و ۵ ضلع دارد.




۴- با رسم برش های لازم شکل های زیر به قسمت های مساوی خواسته شده تقسیم کنید .



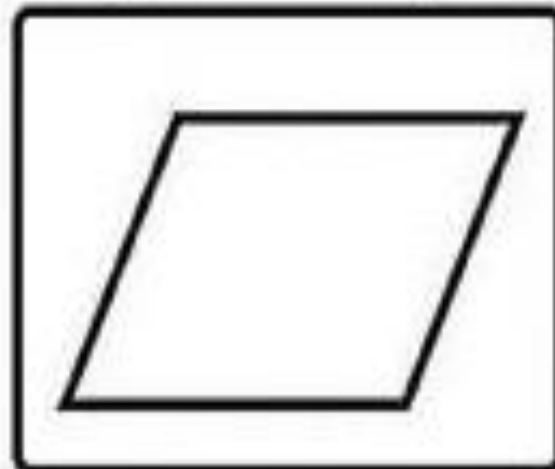
۳ قسمت مساوی



۴ قسمت مساوی

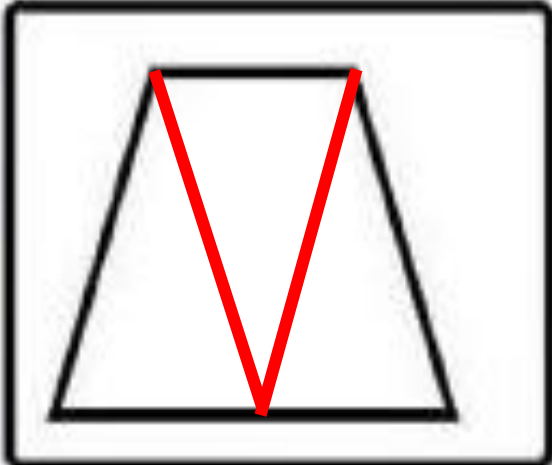


۱۰ قسمت مساوی

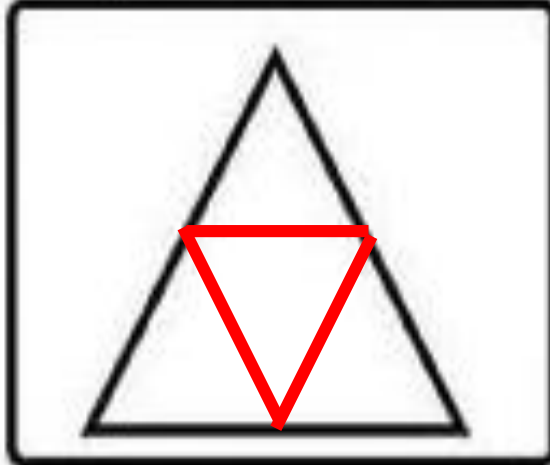


۲ قسمت مساوی

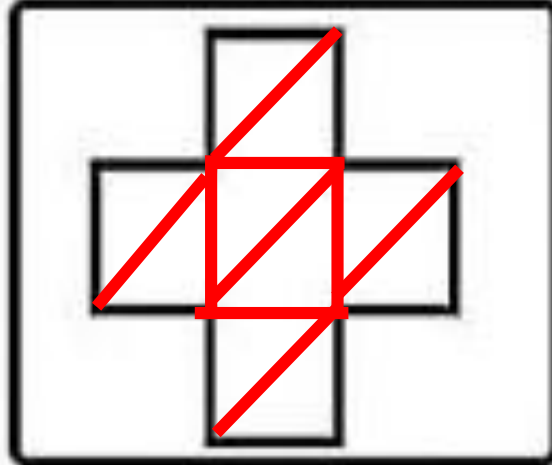
۴- با رسم برش های لازم شکل های زیر به قسمت های مساوی خواسته شده تقسیم کنید .



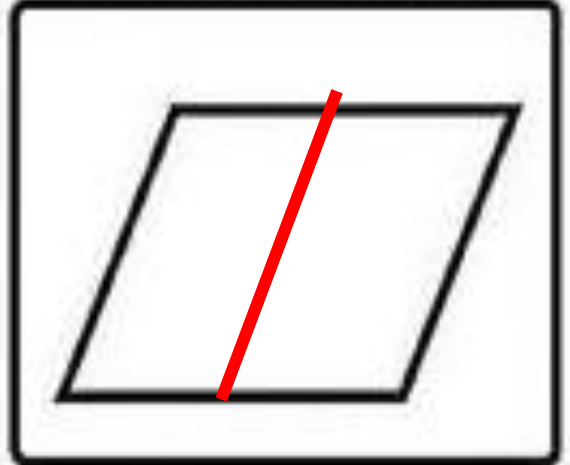
۳ قسمت مساوی



۴ قسمت مساوی



۱۰ قسمت مساوی



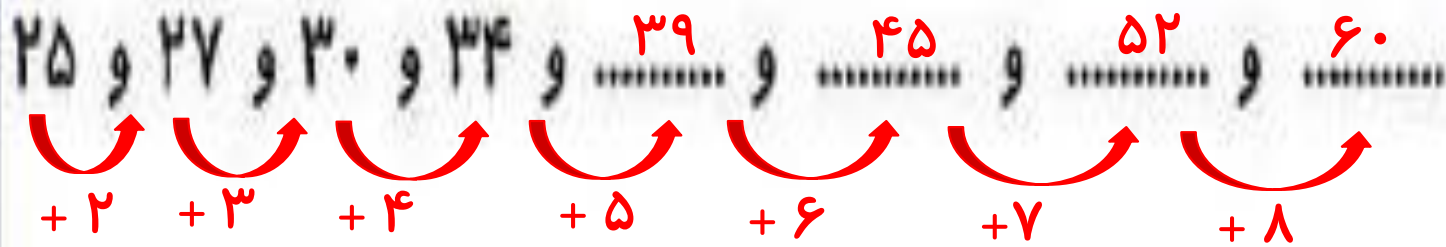
۲ قسمت مساوی

۵- عزیزم الگوی عددی زیر را ادامه بده .


..... و و و ۳۴ و ۳۰ و ۲۷ و ۲۵



۵- عزیزم الگوی عددی زیر را ادامه بده .



۶- نقطه ها را با خط کش به هم وصل کنید و شکلی که توضیح داده شده را رسم کنید . سپس نام شکل را بنویسید .

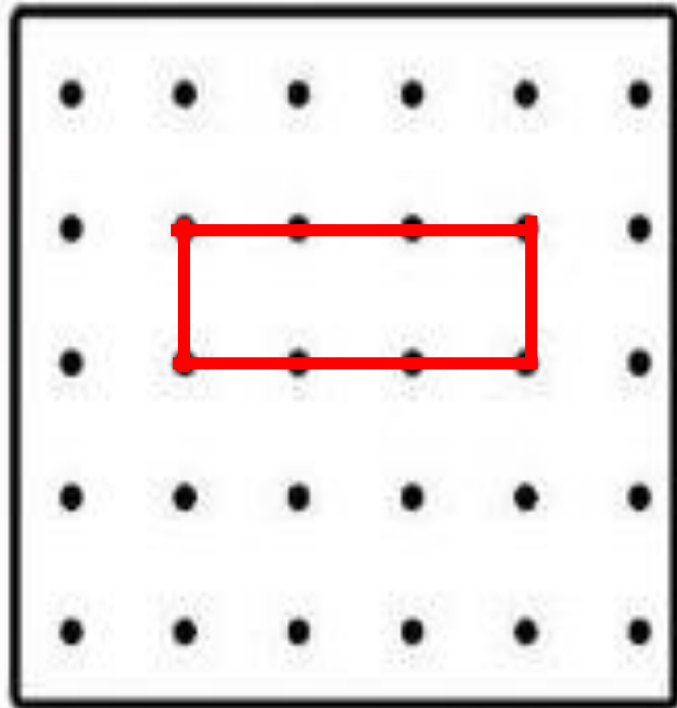


شکلی که چهار ضلع و چهار گوشه دارد و ضلع های رو به رو با هم برابر هستند .

نام شکل را بنویس



۶- نقطه ها را با خط کش به هم وصل کنید و شکلی که توضیح داده شده را رسم کنید . سپس نام شکل را بنویسید .



شکلی که چهار ضلع و چهار گوشه دارد و ضلع های رو به رو با هم برابر هستند .

مستطیل

نام شکل را بنویس




۷- زمان های زیر را با کشیدن عقربه نشان دهید. (عقربه کوچک قرمز و عقربه بزرگ آبی رسم شود.)



یک ربع بعد از ۸

..... :



یک ربع مانده به ۶

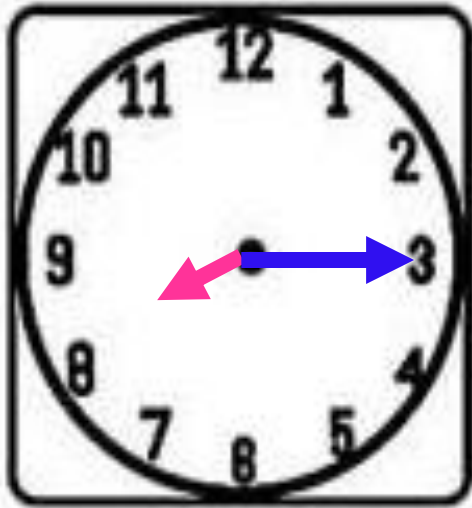
..... :



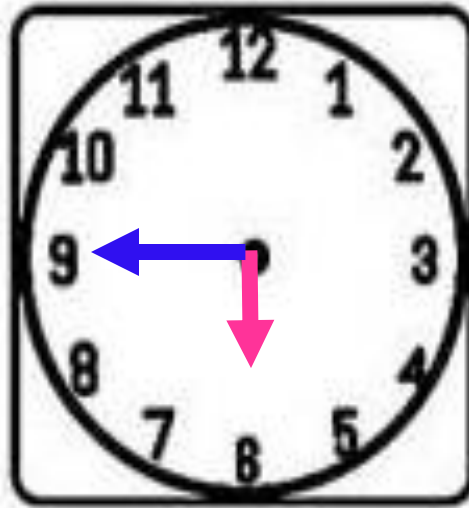
نیم ساعت گذشته از ۹

..... :

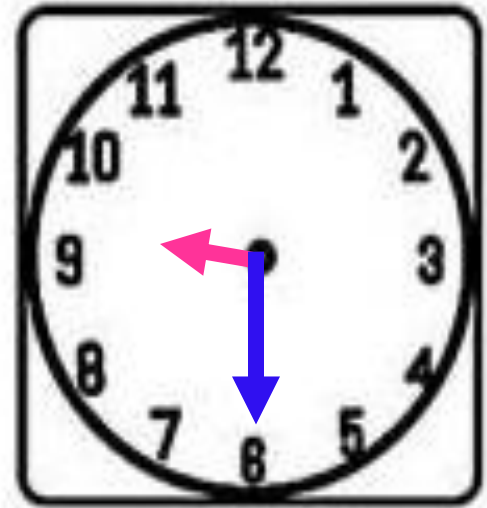
۷- زمان های زیر را با کشیدن عقربه نشان دهید. (عقربه کوچک قرمز و عقربه بزرگ آبی رسم شود.)



یک ربع بعد از ۸
..... :
۸ : ۱۵

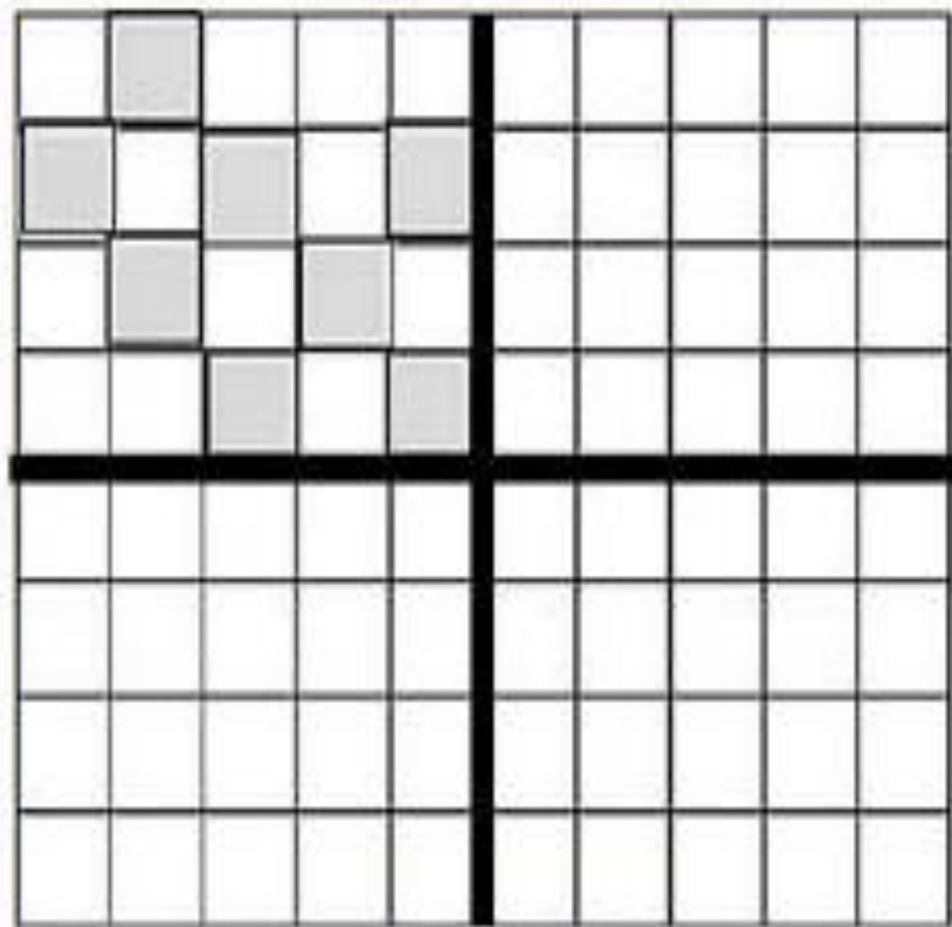


یک ربع مانده به ۶
..... :
۵ : ۴۵

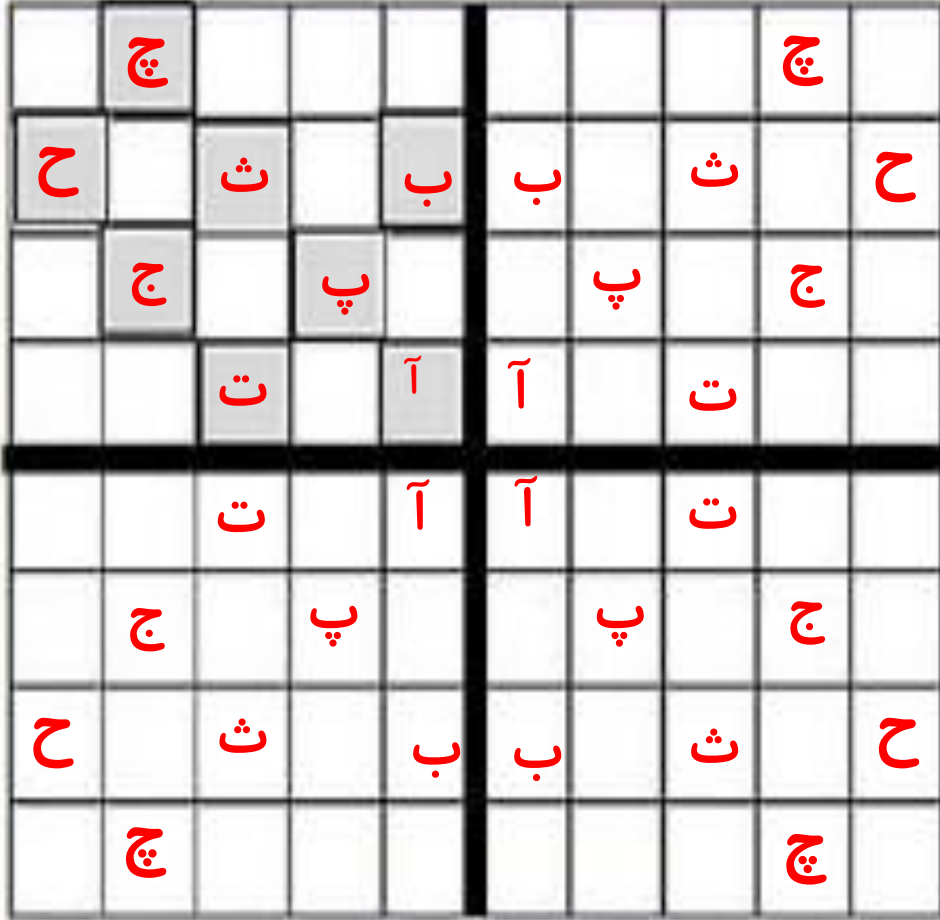


نیم ساعت گذشته از ۹
..... :
۹ : ۳۰

۸ - با توجه به خط های تقارن سه قسمت دیگر را کامل کنید .



۸ - با توجه به خط های تقارن سه قسمت دیگر را کامل کنید .




۹_ اگر کشیدن شکل ها را ادامه دهید، شکل پنجم از چند دایره تشکیل شده است؟




شکل ۱

۱



شکل ۲

۳



شکل ۳

۶

شکل ۴

.....

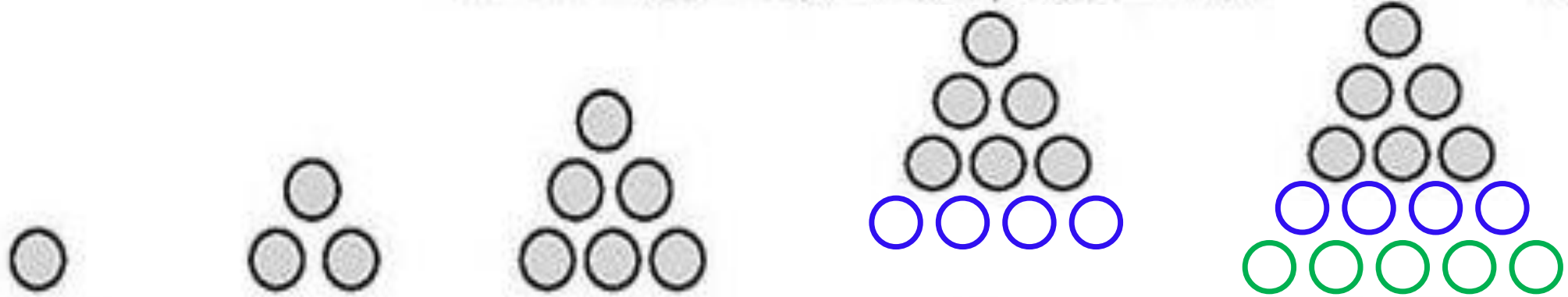
شکل ۵

.....

تعداد دایره ها



۹_ اگر کشیدن شکل ها را ادامه دهید، شکل پنجم از چند دایره تشکیل شده است؟



شکل ۱

شکل ۲

شکل ۳

شکل ۴

شکل ۵



تعداد دایره ها

علوی

بنام خداوند جان و خرد

پایه:



مرور ریاضی

موضوع:

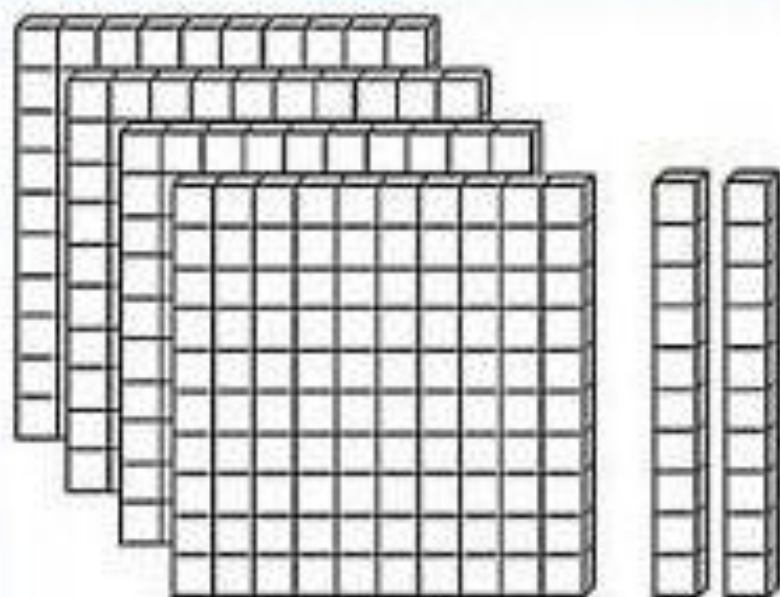
تاریخ

نام و نام خانوادگی

فصل ۴

هدف:

۱- با توجه به شکل جدول را کامل کن و عدد را بنویس.



صدگان	دهگان	یکان

به عدد :

به حروف :



مرور ریاضی

موضوع:

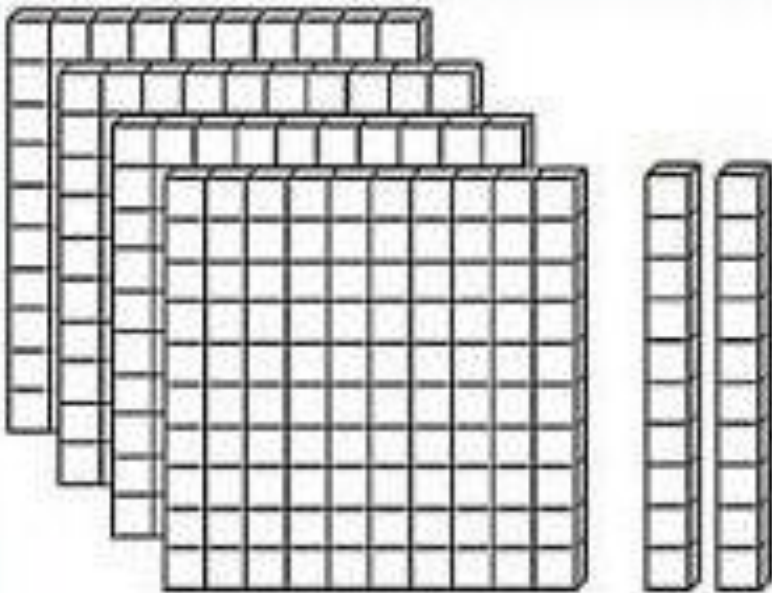
تاریخ

نام و نام خانوادگی

فصل ۴

هدف:

۱- با توجه به شکل جدول را کامل کن و عدد را بنویس.



صدگان	دهگان	یکان
۴	۲	۰

به عدد: ۴۲۰

به حروف: چهارصد و بیست

۲_ به نخودی کمک کنید و بگویید چند ریال دارد ؟



اگر نخودی ۶۰ سکه اریالی به بانک بدهد چند سکه ده ریالی می گیرد؟.....

اگر نخودی ۴۰ سکه ۱۰ ریالی به بانک بدهد چند سکه صد ریالی می گیرد؟.....

۲_ به نخودی کمک کنید و بگویید چند ریال دارد ؟



۲۳۴ ریال

اگر نخودی ۶۰ سکه اریالی به بانک بدهد چند سکه ده ریالی می گیرد؟ تا ۶

اگر نخودی ۴۰ سکه ۱۰ ریالی به بانک بدهد چند سکه صد ریالی می گیرد؟ تا ۴

۴۰۰

۳_ فاطمه ساعت ۲:۲۰ مشغول درس خواندن شد . بعد از یک ساعت و ربع درسش تمام شد با کمک ساعت های زیر و رسم عقربه ها نشان بده چه ساعتی درس فاطمه تمام شده است؟

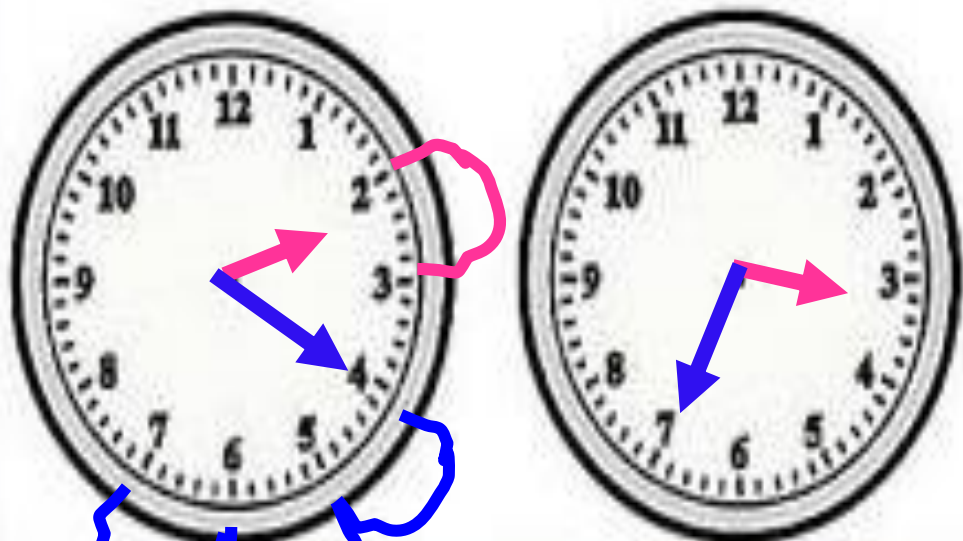


.....

۳_ فاطمه ساعت ۲:۲۰ مشغول درس خواندن شد . بعد از یک ساعت و ربع درسش تمام شد با کمک ساعت های

زیر و رسم عقربه ها نشان بده چه ساعتی درس فاطمه تمام شده است؟

۳ : ۳۵



۴_ جدول زیر را با توجه به عدد داده شده کامل کنید.

سیصد و چهار		هفتصد و هفده		چهارصد و چهل
	۲۸۷		۹۹۱	

۴_ جدول زیر را با توجه به عدد داده شده کامل کنید.

سیصد و چهار	نهصد و نود و یک	هفتصد و هفده	دویست و هشتاد و هفت	چهارصد و چهل
۳۱۴	۹۹۱	۷۱۷	۲۸۷	۴۴۰

۵- عدد های زیر را با حذف رقم خواسته شده به صورت تقریبی بنویس.


حذف رقم یکان ۴۵۶ → حذف رقم یکان و دهگان ۷۸۳ →

۵- عدد های زیر را با حذف رقم خواسته شده به صورت تقریبی بنویس.

حذف رقم ۶ یکان ^ی ۴۵۶ → ۴۵۰


حذف رقم یکان و دهگان ^{ی د} ۷۸۳ → ۷۰۰

۶- با کارت های ۹ و ۸ و ۴ عدد های سه رقمی بنویسید که رقم دهگان بیشتر از یکان و صدگان باشد ؟



۶- با کارت های ۹ و ۸ و ۴ عدد های سه رقمی بنویسید که رقم دهگان بیشتر از یکان و صدگان باشد ؟

$$۴۹۸ - ۸۹۴$$



۷- جاهای خالی را کامل کن . (با رسم جدول ارزش مکانی حل شود)

۵ دسته صدتایی و ۸ دسته ده تایی می شود

۴ دسته صدتایی و ۹ تا یکی می شود

۷- جاهای خالی را کامل کن . (با رسم جدول ارزش مکانی حل شود)

۵ دسته صدتایی و ۸ دسته ده تایی می شود
۵۸۰

صدگان	دهگان	یکان
۵	۸	۰

صدگان	دهگان	یکان
۴	۰	۹

۴ دسته صدتایی و ۹ تا یکی می شود
۴۰۹

۸- قبل و بعد عدد های زیر را بنویس.

..... ۷۶۴

..... ۳۰۷

..... ۹۸۷

..... ۴۹۹

..... دویست و نه

..... هشتصد



۸- قبل و بعد عدد های زیر را بنویس.

..... ۷۶۳ ۷۶۴ ۷۶۵

..... ۳۰۶ ۳۰۷ ۳۰۸

..... ۹۸۶ ۹۸۷ ۹۸۸


..... ۴۹۸ ۴۹۹ ۵۰۰



دویست و هشت دویست و نه دویست و ده

هفتصد و نود و نه هشتصد هشتصد و یک

۹- جدول را کامل کنید و عدد را به حروف و رقم بنویسید .



صدگان	دهگان	یکان

عدد :

حروف :

۹- جدول را کامل کنید و عدد را به حروف و رقم بنویسید .


۳۰۴

عدد :

سیصد و چهار

حروف :

صدگان	دهگان	یکان
۳	.	۴




۱۰- نوشتن عددها را طبق الگو ادامه دهید .

۱۲۵ و ۱۲۶ و ۱۲۷ و و و و و

۴۵۰ و ۴۵۵ و ۴۶۰ و و و و و

۷۸۸ و ۷۹۰ و ۷۹۲ و و و و و




۱۰- نوشتن عددها را طبق الگو ادامه دهید .

۱۲۵ و ۱۲۶ و ۱۲۷ و و و و و و
+۱ +۱ +۱ +۱ +۱ +۱ +۱

۴۵۰ و ۴۵۵ و ۴۶۰ و و و و و و
+۵ +۵ +۵ +۵ +۵ +۵ +۵

۷۸۸ و ۷۹۰ و ۷۹۲ و و و و و و
+۲ +۲ +۲ +۲ +۲ +۲ +۲





با آرزوی موفقیت برای گل های
شاداب کلاس فضانوردان
آموزگار : احمدی