

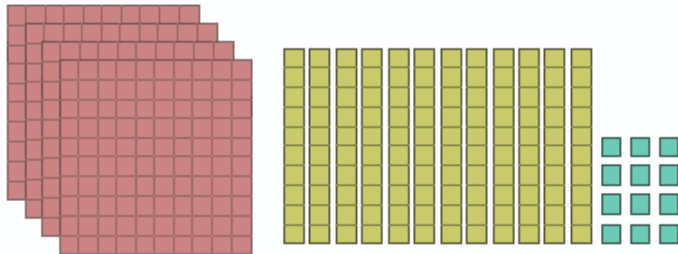
موضوع:

تاریخ:

نام و نام خانوادگی:

هدف:

۱ تا جایی که می توانید ابتدا دسته های ده تایی و صدتایی درست کنید و سپس جاهای خالی را کامل کنید:



یکان	دهگان	صدگان
—	—	—

به رقم: _____

به حروف: _____

۲ عددهای داده شده را مقایسه کنید

۷۴۰ ۴۷۰

۵۷۳ ۷۳۵

۲۰۰ + ۴۰ ۱۰۰ + ۵۰ + ۲۰

۲۰۰ + ۳۰۰ ۴۰۰ + ۲۰۰

۵۰۰ - ۳۰۰ ۴۰۰ + ۶۰

۴۱۰ ۴۰۰ - ۱۰۰



۳ جمع و تفریق های زیر را به صورت ذهنی حساب کنید و بنویسید:

۶۸۰ + ۱۲۰ =

۴۵۰ + ۱۳۰ =

۵۹۰ - ۲۹۰ =

۳۰۰ - ۱۰۰ =


۴۸۷ - ۷۶۳ - ۲۷۸ - ۴۹۷ - ۱۸۹ - ۹۷۳

۴ عددهای زیر را به ترتیب بنویسید:

..... < < < <

۵ حاصل جمع و تفریق های زیر را حساب کنید: (فرآیندی پاسخ دهید.)

$$\begin{array}{r} 531 \\ + 451 \\ \hline \end{array}$$



$$\begin{array}{r} 272 \\ - 130 \\ \hline \end{array}$$



$$\begin{array}{r} 606 \\ + 313 \\ \hline \end{array}$$

بازخورد:





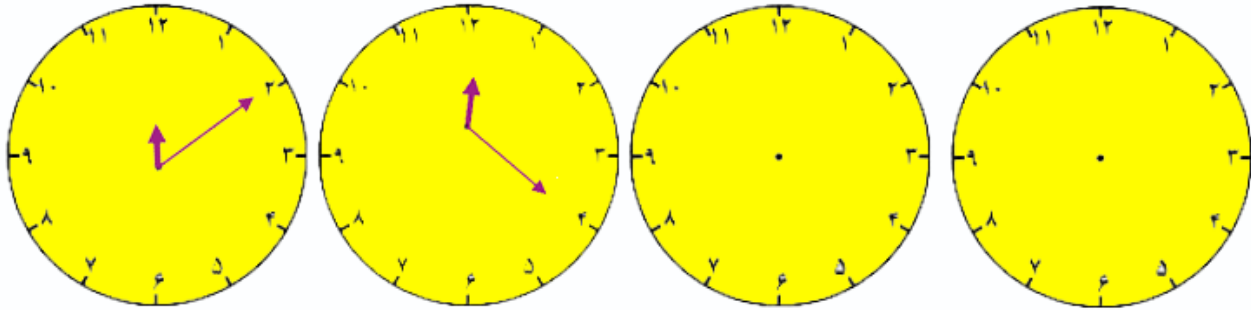
موضوع:

تاریخ

نام و نام خانوادگی

هدف:

۶ با توجه به الگویی که در ساعت‌های زیر وجود دارد، عقربه‌های بعدی را خودتان بکشید:



۷ علیرضا چند کتاب داستان از کتابخانه مدرسه امانت گرفت. او در هفته اول ۱۳۲ صفحه و در هفته دوم ۱۸۹ صفحه از این کتاب‌ها را خواند. علیرضا در این دو هفته چند صفحه کتاب خوانده است؟

۸ قد زهرا ۱۶۳ سانتی متر است. قد برادرش ۱۴ سانت از او کوتاه تر است. قد این دو هم چقدر است؟

۹ مجموع سه عدد ۸۰۰ است. اگر دو تا از عددها ۴۰۰ و ۳۰۰ باشند، عدد سوم چند است؟

بازخورد:

Four horizontal lines for writing feedback.

