




مرور فصل چهارم





۱. جاهای خالی را پر کنید.

الف) یک دسته ی ۱۰۰ تایی برابر است با یکی

ب) یک سکه ی ۱۰ ریالی برابر است با تا ۱ ریالی

پ) ۱۰۰ سکه ی ۱ ریالی برابر است با سکه ی ۱۰ ریالی

ت) ۷۰ سکه ی ۱ ریالی برابر است با سکه ی ۱۰ ریالی

ث) ۱۰۰ سکه ی ۱ ریالی برابر است با سکه ۱۰۰ ریالی

ج) ۱ سکه ی ۱۰۰ ریالی برابر با سکه ی ۵۰ ریالی

1. جاهای خالی را پر کنید.

الف) یک دسته ی ۱۰۰ تایی برابر است با $100 \dots$ یکی

ب) یک سکه ی ۱۰ ریالی برابر است با $10 \dots$ تا ۱ ریالی

پ) ۱۰۰ سکه ی ۱ ریالی برابر است با $100 \dots$ سکه ی ۱۰ ریالی

ت) ۷۰ سکه ی ۱ ریالی برابر است با $70 \dots$ سکه ی ۱۰ ریالی

ث) ۱۰۰ سکه ی ۱ ریالی برابر است با $100 \dots$ سکه ۱۰۰ ریالی

ج) ۱ سکه ی ۱۰۰ ریالی برابر با $2 \dots$ سکه ی ۵۰ ریالی

یک سکه ی ۲۵۰ ریالی برابر با ۱۰۰ ریالی و ریالی

یک سکه ی ۲۵۰ ریالی برابر با ۱۰۰ ریالی و ریالی



یک سکه ی ۲۵۰ ریالی برابر با۲..... ۱۰۰ ریالی و ۵ سکه ی ۱۰ ریالی

یک سکه ی ۲۵۰ ریالی برابر با۲..... ۱۰۰ ریالی و ۱ سکه ی ۵۰ ریالی

۱	۱۰
۲	۵



۱	۱۰
۲	۵۰

۱. جاهای خالی را پر کنید.

الف) ۳ دسته ی صدتایی ، ۵ دسته ی ۱۰ تایی و ۴ یکی می شود

الف) ۶ سکه ی صد ریالی ، ۰ سکه ی ۱۰ ریالی و ۸ سکه ی ۱ ریالی می شود

پ) اگر ۳ سکه ی ۱۰ ریالی و ۲ سکه ی ۱۰۰ ریالی به ۲۱۴ اضافه کنیم می شود

۲. گسترده اعداد را بنویسید.

$$۵۴۸ =$$

$$۶۱۰ =$$

$$۷۰۶ =$$

$$۳۹۲ =$$

۱. جاهای خالی را پر کنید.

الف) ۳ دسته ی صدتایی ، ۵ دسته ی ۱۰ تایی و ۴ یکی می شود **۳۵۴**

الف) ۶ سکه ی صد ریالی ، ۰ سکه ی ۱۰ ریالی و ۸ سکه ی ۱ ریالی می شود **۶۰۸**

پ) اگر ۳ سکه ی ۱۰ ریالی و ۲ سکه ی ۱۰۰ ریالی به ۲۱۴ اضافه کنیم می شود **۴۴۴**

۲. گسترده اعداد را بنویسید.

$$۵۴۸ = ۵۰۰ + ۴۰ + ۸$$

$$۶۱۰ = ۶۰۰ + ۱۰$$

$$۷۰۶ = ۷۰۰ + ۶$$

$$۳۹۲ = ۳۰۰ + ۹۰ + ۲$$