



موضوع: تمرینات دوره ای

تاریخ

نام و نام خانوادگی

هدف: مرور آموخته ها

۱- نازنینم جاهای خالی را پر کن.

۴۹ میلی متر می شود..... سانتی متر و ..... میلی متر

۷۸ میلی متر می شود ..... سانتی متر و ..... میلی متر

۱۶۹ میلی متر می شود..... سانتی متر و ..... میلی متر

۲۰۳ میلی متر می شود..... سانتی متر و ..... میلی متر

۶ سانتی متر و ۴ میلی متر می شود..... میلی متر

۹ سانتی متر و ۷ میلی متر می شود..... میلی متر

۲- عزیزم ساعت سه و چهل دقیقه را بکش و یک ربع بعد از این ساعت را مشخص کن.



موفق باشی نازنینم ❤️

نام و نام خانوادگی: ..... تاریخ: ..... نام آموزگار: .....

ریاضی &lt; فصل ۸ آمار و نمودار: سرشماری - نمودار ستونی

علوم &lt; درس ۱۴: از گذشته تا آینده (نان) (۱)

فارسی &lt; درس ۱۶: پرواز قطره (۲)

## ریاضی

۱ برنا در جدول زیر تعداد صفحات کتابی که در یک هفته خوانده را با چوب خط نمایش داده است. ابتدا جدول را کامل کنید و سپس تعداد صفحات کتاب را حساب کنید.

روز	چوب خطها	تعداد
شنبه		
یکشنبه		۵
دوشنبه		
سه‌شنبه		
چهارشنبه		۹
پنجشنبه		۸
جمعه		۳
مجموع		

۲ الف) دور اعداد زوج مربع و دور اعداد فرد مثلث بکشید.

ب) بزرگ‌ترین عدد سه رقمی فرد ..... است.

پ) کوچک‌ترین عدد سه رقمی فرد ..... است.

۶۳

۴۰

۹۴


۸۸

۶۸

۱۷

۳۵

۲۹



صاحب مغازه، تعداد فروش آب میوه‌ها را نوشته است. نمودار را کامل کنید.


۳



نوع آب میوه	تعداد
آب سیب	۸ لیوان
آب هویج	۶ لیوان
آب پرتقال	۵ لیوان
آب آلبالو	۹ لیوان

شکل‌ها را به دو صورت دسته‌بندی کرده و سپس در جاهای خالی اعداد مناسب بنویسید.

۴



(الف) ..... دسته‌ی ..... تایی می‌شود. .... دسته‌ی ..... تایی می‌شود.  
 (ب) ..... دسته‌ی ..... تایی می‌شود. .... دسته‌ی ..... تایی می‌شود.

### علوم

جدول را کامل کنید.

۱


(الف) به گندم آسیاب شده می‌گویند. ....  
 (ب) محل نگهداری نان باید در جای ..... و سرد باشد. ....  
 (پ) آخرین مرحله‌ی تهیه نان است. ....  
 (ت) مهم‌ترین ماده‌ی غذایی در کشور ما ..... می‌باشد. ....  
 (ث) آرد را به دو روش سنتی و ..... تهیه می‌کنند. ....

۲





۲ درستى و نادرستى  و نادرستى  هر عبارت را مشخص کنید.

- الف) همه‌ی نان‌ها از گندم درست می‌شوند.
- ب) نان‌ها در آسیاب تهیه و پخته می‌شوند.
- پ) به محل نگهداری آرد سیلو می‌گویند.
- ت) در قدیم از آسیاب‌های برقی استفاده می‌کردند.

۳ مراحل پخت نان را شماره گذاری کنید.

- آرد کردن گندم
- کاشتن گندم
- پختن نان
- درو کردن گندم
- خمیر کردن آرد

### فارسی

۱ جمله‌ها و کلمه‌های مربوط را به هم وصل کنید. (یک مورد اضافی است).

- |                                |  |
|--------------------------------|--|
| <input type="radio"/> مددکار   | <input type="radio"/> کسی که راضی نیست.            |
| <input type="radio"/> ناراضی   | <input type="radio"/> کسی که سلیقه ندارد.          |
| <input type="radio"/> ناتمام   | <input type="radio"/> کسی که به دیگران کمک می‌کند. |
| <input type="radio"/> بی‌سلیقه | <input type="radio"/> کاری که تمام نشده باشد.      |
| <input type="radio"/> بی‌کار   |  |

۲ کلمات و جملات مرتبط به یکدیگر را هم‌رنگ کنید.

قناری در طبیعت ..... می زند.	چه چه
برای سلامتی، بهتر است ..... غذا بخوریم.	تند تند
باران در فصل بهار ..... می‌بارد.	آرام آرام





مانند نمونه برای کلمه‌هایی که از لحاظ املايي مشابه هم هستند جمله‌هایی بنویسید که معنی کلمه‌ها در هر جمله با جمله‌ی بعدی متفاوت باشد.

۳

ماهی قرمز داخل تنگ آب بازی می‌کند.

ماهی

فروردین ماهی است که در آن درختان شکوفه می‌دهند.

ماهی

آبی

آبی

شیر

شیر

با توجه به متن درس، در جاهای خالی کلمه‌های مناسب بنویسید.

۴






الف) خورشید ..... آسمان بود.






ب) قطره‌های آب ..... گرم شدند.

پ) صورت ..... قشنگ خورشید را .....

از زبان یک قطره‌ی آب برای دوستانتان ۲ سطر بنویسید.

۵

	◀ پسوند «نا»
	◀ مخالف کلمات
	◀ کلمات هم آوا
	◀ داستان کوتاه
	◀ جمله و کلمات مرتبط

	◀ حل مسئله آمار
	◀ اعداد زوج و فرد
	◀ دسته بندی اشکال (ضرب)
	◀ نان (نگهداری)
	◀ مراحل پخت نان

شاخص‌ها

-  خیلی خوب
-  خوب
-  قابل قبول
-  نیاز به تلاش بیشتر

۱۴

