



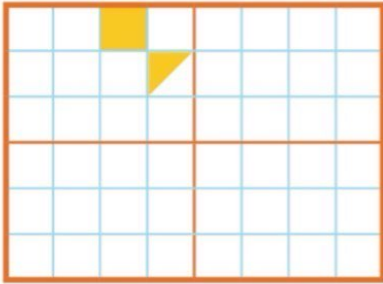
موضوع: ریاضی

تاریخ

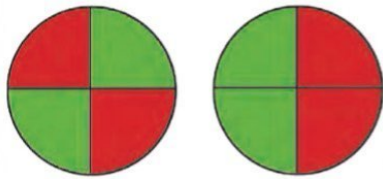
نام و نام خانوادگی

هدف: مرور آموخته ها

۱- تقارن شکل ها را رسم کنید.



۲- یک هدف تیراندازی مانند شکل های زیر درست شده است.



(الف).... قسمت از قسمت هدف سبز است.

(ب) در هر هدف، احتمال خوردن تیر به کدام رنگ بیشتر است؟ چرا؟


۳- آوا و هانا برای ساخت کاردستی خود یک نمد به طول ۳۸ سانتی متر بردند. آن ها

۱۶ سانتی متر از نمد خود را استفاده کردند. چند میلیمتر از نمد هانا و آوا باقی ماند؟

۴- اگر یک سکه ۲۵۰ ریالی به بانک بدهیم، بانک.... سکه ۵ ریالی به ما می دهد.


۵- عددهای دو رقمی بنویسید که یکان آن ۵ باشد و دهگان آن ۳ و ۲ باشد. (شاخه ای)

۶- جاهای خالی را کامل کنید.



(ب) تا تایی می شود

.... تا تایی می شود



(الف)

۷- (الف) ۴۲ سانتی متر و ۲ میلی متر می شود

(ب) ۸۳۲ میلی متر یعنی سانتی متر و میلی متر.

(پ) ۹۰ میلی متر می شود سانتی متر.



کارت عالی به دوست من