



نام و نام خانوادگی: _____ تاریخ: _____ موضوع: _____ هدف: _____

به نام خدا

نام و نام خانوادگی: ریاضی

$$24 + \square = 87$$


۱. در \square عدد مناسب قرار دهید. (حدس و آزمایش)

.....
.....

۲. در یک پارکینگ ۵ موتور و ماشین است. اگر تعداد چرخ های آن ها روی هم ۱۲ تا باشد در این پارکینگ چند موتور و چند ماشین است؟ (حدس و آزمایش)

.....

۳. به اندازه ای که در هر جمله نوشته شده از شکل ها رنگ کن.



۲ قسمت از ۴ قسمت مساوی آبی

۲ قسمت از ۴ قسمت مساوی قرمز

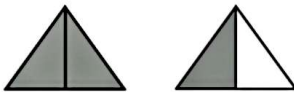


۴ قسمت از ۶ قسمت مساوی آبی


۲ قسمت از ۶ قسمت مساوی قرمز

.....

۴. قسمت رنگ شده را روی محور نشان دهید..

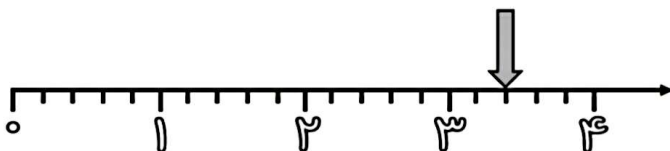


.....



.....

۵. با توجه به محور جای خالی را کامل کنید .



نقطه ی مشخص شده واحد و قسمت از قسمت مساوی را نشان می دهد.



موضوع:

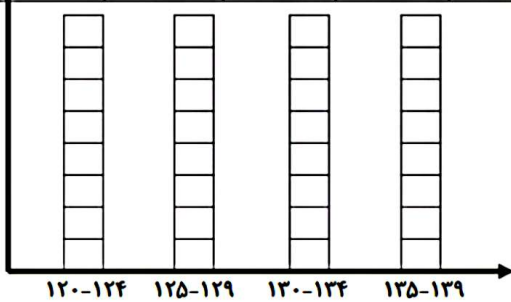
تاریخ:

نام و نام خانوادگی:

هدف:

۶. قد دانش آموزان کلاس دوم را اندازه گیری کرده ایم و در جدول زیر نوشته ایم . با توجه به جدول نمودار سونی زیر را کامل کنید .

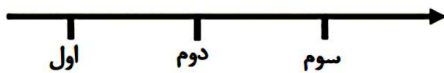
نام	محمد صادق	پرهام	طاها	هیراد	ابوالفضل	رادین	علی رضا	امیرارسلان	آرین
قد	۱۳۱	۱۳۲	۱۲۳	۱۳۰	۱۳۳	۱۲۷	۱۳۴	۱۲۶	۱۲۱



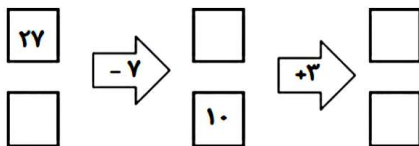
بیشتر دانش آموزان در چه محدوده ای قرار می گیرند؟

۷. تعداد دانش آموزان کلاس اول تا سوم مدرسه ی شهید ارمنده ای را در جدول زیر نوشته اند. جدول را کامل کن سپس نمودار تصویری تعداد دانش آموزان را بکش. (هر ۱۰ داش آموز را با \bigcirc نشان دهید .)

کلاس	اول	دوم	سوم
تعداد	۴۳	۴۵	۳۱
تعداد تقریبی			



۸. جاهای خالی را کامل کنید.




۹. اعداد زوج و فرد را دسته بندی کن. $۴۱۲ - ۸۵۵ - ۶۵۴ - ۱۸ - ۷۷ - ۴ - ۴۵ - ۳۰$

اعداد زوج = اعداد فرد =

۱۰. حمید ۲ دفتر و یک پاک کن خرید و ۷۴۵ تومان پول داد . قیمت دفتر ۳۰۰ تومان بود . قیمت پاک کن را پیدا کنید .

۱۱. جاهای خالی را کامل کن.



..... تا تایی می شود

..... تا تایی می شود

Handwritten signature in red ink.