



موضوع:

تاریخ


نام و نام خانوادگی

هدف:

من چه عددی هستم؟ یکانم ۴، دهگانم دوتا کمتر از یکان و صدگانم $۲ + ۶$ است.



با کمک ساعت زیر زمان‌های زیر را پیدا کن و بنویس.




نیم ساعت بعد از ساعت ۸:۵۰ چه ساعتی است؟


ربع ساعت بعد از ساعت ۳:۴۵ چه ساعتی است؟

ده دقیقه بعد از ساعت ۱۰:۲۵ چه ساعتی است؟


ارزش سکه‌های زیر را بنویس.



ریال



ریال



ریال

با کارت‌های ۷ و ۵ و ۲ چند عدد سه رقمی می‌توان نوشت؟ آن‌ها را بساز و بنویس.

.....

حالا از بین این عددهایی که ساختی بزرگ‌ترین عدد را بنویس.

در کدام عددها رقم یکان از دهگان بزرگتر است؟ آن‌ها را بنویس.

الگوهای زیر را کامل کن.

۳ - ۶ - ۱۱ - ۱۸ - - -

۵۴۰ - ۵۵۰ - ۵۶۰ - - -