



نام و نام خانوادگی: _____ تاریخ: _____ موضوع: _____

هدف: پرسش کلاسی، کسر و احتمال ۱۴۰۵/۰۲/۲۲

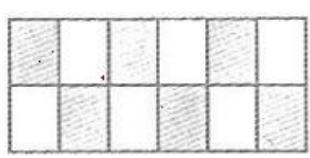
جمله‌ها را کامل کن.

یک سانتی‌متر به _____ قسمت مساوی تقسیم شده است.

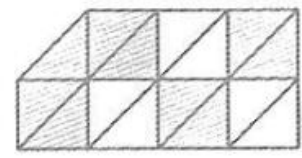
عدد ۳۹ را می‌توان به صورت _____ ده‌تایی و _____ قسمت از ۱۰ قسمت بیان کرد.

عدد ۷۵ را می‌توان به صورت _____ ده‌تایی و _____ قسمت از ۱۰ قسمت بیان کرد.

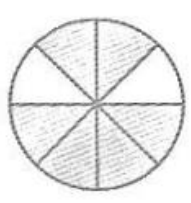
با توجه به قسمت‌های رنگ شده، کسر مربوط به هر شکل را بنویس.



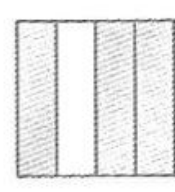
.....



.....

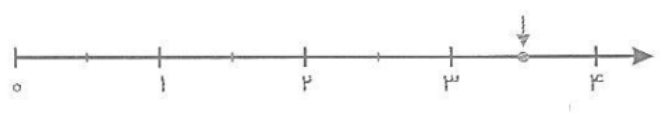


.....

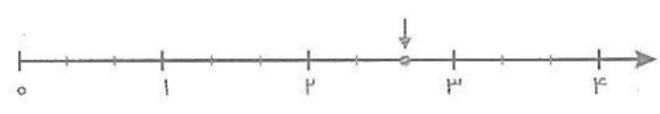


.....


با توجه به هر محور، جاهای خالی را پر کن.



نقطه‌ی مشخص شده _____ واحد و _____ قسمت از _____ قسمت مساوی است.



نقطه‌ی مشخص شده _____ واحد و _____ قسمت از _____ قسمت مساوی است.






ساعت چند است؟

اگر عقربه‌ی بزرگ ۱۵ دقیقه بچرخد، میزان حرکت را رنگ کنید و بگویید مقدار


چرخش چند قسمت از صفحه‌ی ساعت است؟



با توجه به شکل کامل کنید.

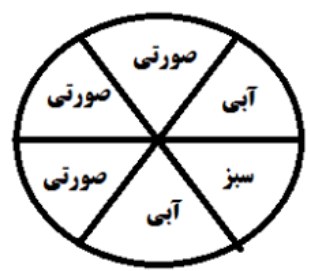


..... دسته‌ی تایی



..... دسته‌ی تایی

در یک کیسه ۹ عدد توپ است. ۴ تایی آن زرد و ۳ تایی آن نارنجی و ۲ تایی دیگر آبی است. اگر بدون نگاه کردن یک توپ از کیسه بیرون آوریم. شانس کدام توپ بیشتر است؟ چرا؟



- یک صفحه‌ی چرخنده مثل شکل زیر رنگ شده است.
- الف) قسمت از قسمت شکل صورتی است.
- ب) قسمت از قسمت شکل آبی است.
- پ) قسمت از قسمت شکل سبز است.
- ت) احتمال ایستادن عقربه روی کدام رنگ کمتر است؟ چرا؟

