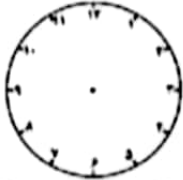
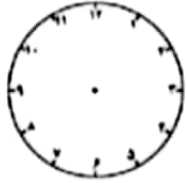


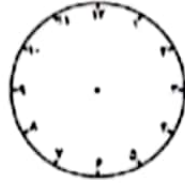
۶- با کشیدن عقربه، زمان ساعت‌های زیر را نشان بده.



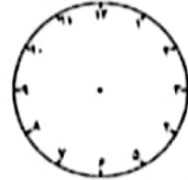
۱۰ دقیقه مانده به ۴



یک ربع مانده به ۳

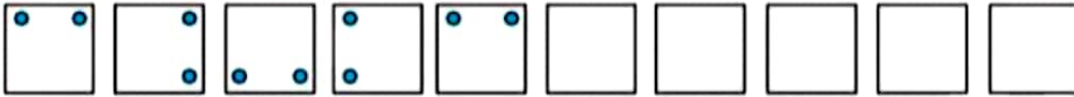


نیم ساعت بعد از ۱۰



یک ربع بعد از ۹

۷- الگوهای زیر را کامل کن.



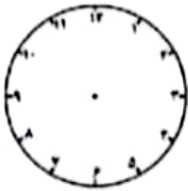
..... - - ۷۶ - ۸۱ - ۸۶ - ۹۱ - -

۷ - ۸ - ۱۰ - ۱۳ - ۱۷ - - -

۸- شکل‌های زیر را با رسم ۲ خط به ۴ قسمت مثل هم تقسیم کن.



۹- اگر ساعت ۲:۲۵ باشد، ربع ساعت بعد ساعت چند است؟.....



عقربه‌های ساعت را بکش و مقدار حرکت عقربه‌ی بزرگ را با رنگ کردن نشان بده.


۱۰- ساعت چند است؟.....



دو ساعت و ربع بعد ساعت چند می‌شود؟ به سه صورت نوشتاری، عددی و دیجیتالی بنویس.

.....

۱۱- با توجه به راهنمایی‌ها، شکل‌های زیر را رنگ کن.



شکل را طوری رنگ بزن که چهار طرف شکل مثل هم باشد.



شکل را طوری رنگ بزن که دو طرف شکل مثل هم باشد.