

# مرور فصل چهارم



۴. با کارت های ۹ ، ۳ ، ۴ عددی رو بنویسید که رقم صدگان آن از رقم یکان بیشتر باشد.

۵. با کارت های ۵ ، ۰ ، ۱ عدد سه رقمی رو بنویسید که رقم دهگان آن از رقم یکان کم تر باشد.

۶. با کارت های ۴ ، ۲ ، ۶ عددی رو بنویسید که جمع رقم یکان و صدگان برابر با رقم دهگان باشد.

۴. با کارت های ۹ ، ۳ ، ۴ عددی رو بنویسید که رقم صدگان آن از رقم یکان بیشتر باشد

۹۴۳ - ۹۳۴ - ۴۹۳ - ۴۳۹ - ۳۹۴ - ۳۴۹

۵. با کارت های ۵ ، ۰ ، ۱ عدد سه رقمی رو بنویسید که رقم دهگان آن از رقم یکان کم تر باشد.

۵۱۰ - ۵۰۱ - ۱۵۰ - ۱۰۵

۶. با کارت های ۴ ، ۲ ، ۶ عددی رو بنویسید که جمع رقم یکان و صدگان برابر با رقم دهگان باشد.

۶۴۲ - ۶۲۴ - ۴۶۲ - ۴۲۶ - ۲۶۴ - ۲۴۶

۲. جاهای خالی را پر کنید.

الف) ۸ سکه ی ۱۰۰ ریالی، ۵ سکه ی ۱۰ ریالی و ۰ سکه ی ۱ ریالی می شود .....

ب) ۹ سکه ی ۱۰ ریالی می شود و ۶ سکه ی ۱ ریالی می شود .....

پ) اگر ۴ سکه ی ۱۰ ریالی و ۵ سکه ی ۱۰۰ ریالی به ۲۶۳ اضافه کنیم می شود.....

ت) اگر ۵ سکه ی ۱۰۰ ریالی و ۳ سکه ی ۱۰ ریالی به ۴۱۸ اضافه کنیم می شود.....

ث) اگر ۱ سکه ی ۱۰ ریالی و ۶ سکه ی ۱ ریالی به ۷۵۲ اضافه کنیم می شود.....

۲. جاهای خالی را پر کنید.

الف) ۸ سکه ی ۱۰۰ ریالی، ۵ سکه ی ۱۰ ریالی و ۰ سکه ی ۱ ریالی می شود ..... **۸۵۰**

ب) ۹ سکه ی ۱۰ ریالی می شود و ۶ سکه ی ۱ ریالی می شود ..... **۹۶**

پ) اگر ۲ سکه ی ۱۰ ریالی و ۵ سکه ی ۱۰۰ ریالی به ۲۶۳ اضافه کنیم می شود ..... **۷۸۳**

ت) اگر ۵ سکه ی ۱۰۰ ریالی و ۳ سکه ی ۱۰ ریالی به ۴۱۸ اضافه کنیم می شود ..... **۹۴۸**

ث) اگر ۱ سکه ی ۱۰ ریالی و ۶ سکه ی ۱ ریالی به ۷۵۲ اضافه کنیم می شود ..... **۷۶۸**

۷. جمع و تفریق زیر را با حذف رقم یکان و دهگان تقریب بزنید.

$$\begin{array}{r} ۳۵۱ \longrightarrow \text{---} \\ + ۴۱۵ \longrightarrow \text{---} \\ \hline \text{---} \\ \text{---} \end{array}$$

$$\begin{array}{r} ۴۶۷ \longrightarrow \text{---} \\ + ۱۰۵ \longrightarrow \text{---} \\ \hline \text{---} \\ \text{---} \end{array}$$

$$\begin{array}{r} ۵۳۴ \longrightarrow \text{---} \\ - ۳۷۰ \longrightarrow \text{---} \\ \hline \text{---} \\ \text{---} \end{array}$$

۸. جمع و تفریق زیر را با حذف رقم یکان تقریب بزنید.

$$\begin{array}{r} ۴۲۸ \longrightarrow \text{---} \\ + ۲۶۰ \longrightarrow \text{---} \\ \hline \text{---} \\ \text{---} \end{array}$$

$$\begin{array}{r} ۳۲۵ \longrightarrow \text{---} \\ + ۱۰۸ \longrightarrow \text{---} \\ \hline \text{---} \\ \text{---} \end{array}$$

$$\begin{array}{r} ۸۰۴ \longrightarrow \text{---} \\ - ۵۰۱ \longrightarrow \text{---} \\ \hline \text{---} \\ \text{---} \end{array}$$

۷. جمع و تفریق زیر را با حذف رقم **یکان و دهگان** تقریب بزنید.

$$\begin{array}{r} ۳۵۸ \longrightarrow \underline{۳۰۰} \\ + ۴۱۵ \longrightarrow + \underline{۴۰۰} \\ \hline \underline{۷۰۰} \end{array}$$

$$\begin{array}{r} ۴۶۷ \longrightarrow \underline{۴۰۰} \\ + ۱۰۵ \longrightarrow + \underline{۱۰۰} \\ \hline \underline{۵۰۰} \end{array}$$

$$\begin{array}{r} ۵۳۴ \longrightarrow \underline{۵۰۰} \\ - ۳۷۰ \longrightarrow + \underline{۳۰۰} \\ \hline \underline{۲۰۰} \end{array}$$


۸. جمع و تفریق زیر را با حذف رقم **یکان** تقریب بزنید.

$$\begin{array}{r} ۴۲۸ \longrightarrow \underline{۴۲۰} \\ + ۲۶۰ \longrightarrow + \underline{۲۶۰} \\ \hline \underline{۶۸۰} \end{array}$$


$$\begin{array}{r} ۳۲۵ \longrightarrow \underline{۳۲۰} \\ + ۱۰۸ \longrightarrow + \underline{۱۰۰} \\ \hline \underline{۴۲۰} \end{array}$$

$$\begin{array}{r} ۸۰۴ \longrightarrow \underline{۸۰۰} \\ - ۵۰۱ \longrightarrow - \underline{۵۰۰} \\ \hline \underline{۳۰۰} \end{array}$$

۹. ساعت های زیر را با دقت حل کنید.




نیم ساعت بعد

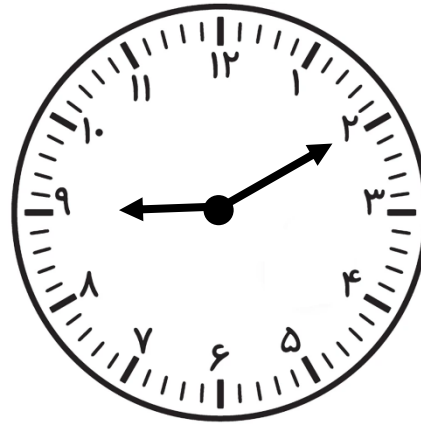


..... : .....

..... : .....




یک ربع بعد



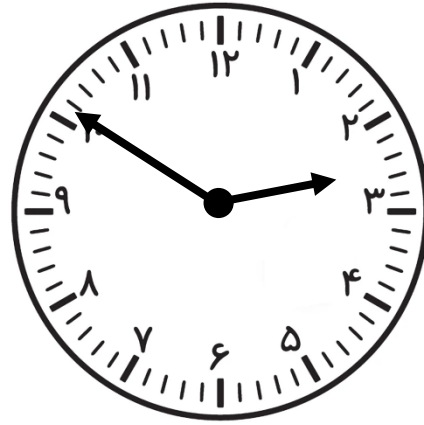
..... : .....

..... : .....

۹. ساعت های زیر را با دقت حل کنید.




نیم ساعت بعد

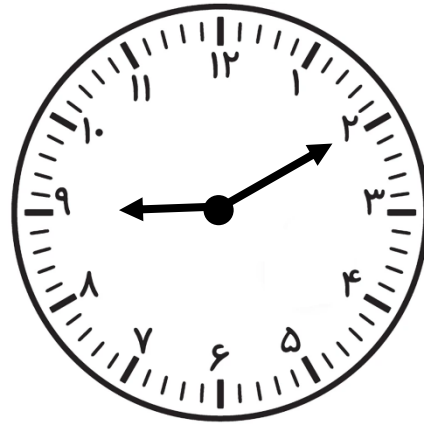


۲:۲۰

۲:۵۰




یک ربع بعد



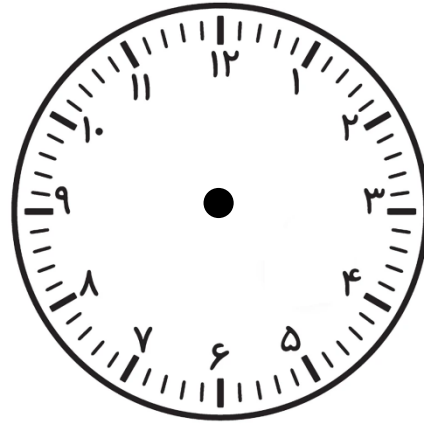
۸:۵۵

۹:۱۰

۹. ساعت های زیر را با دقت حل کنید.




۱۰ دقیقه قبل

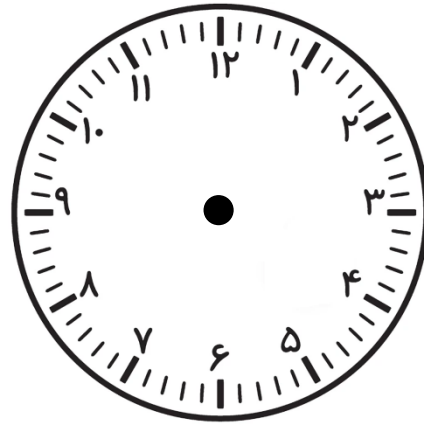


..... : .....

..... : .....




۲۰ دقیقه قبل



..... : .....

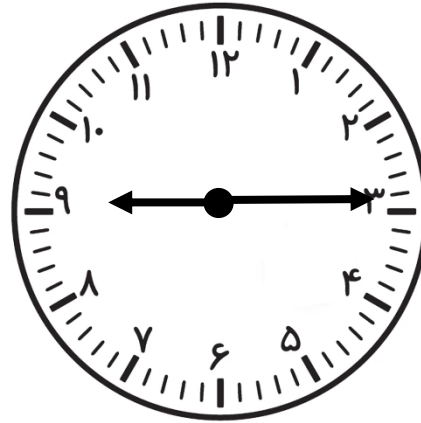
..... : .....

۹. ساعت های زیر را با دقت حل کنید.




۹ : ۲۵

۱۰ دقیقه قبل




۹ : ۱۵



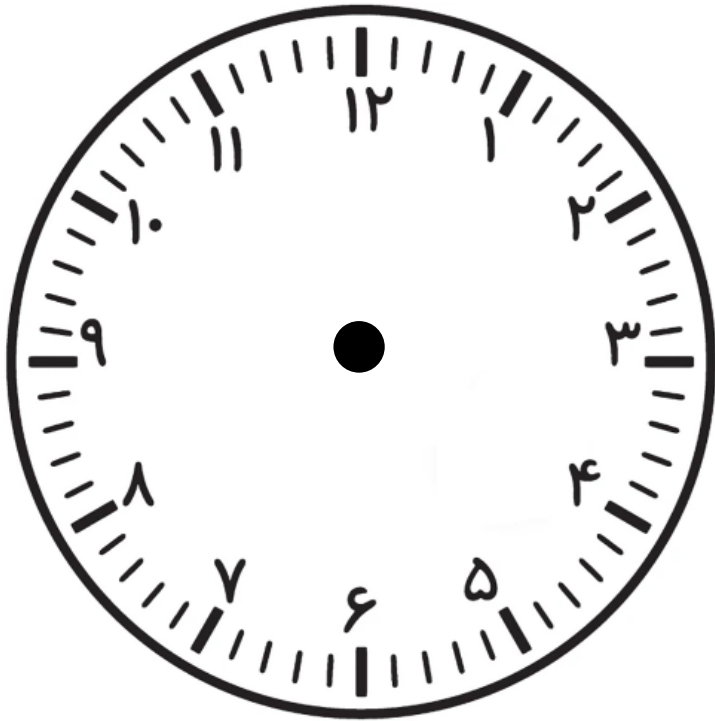
۷ : ۲۰

۲۰ دقیقه قبل



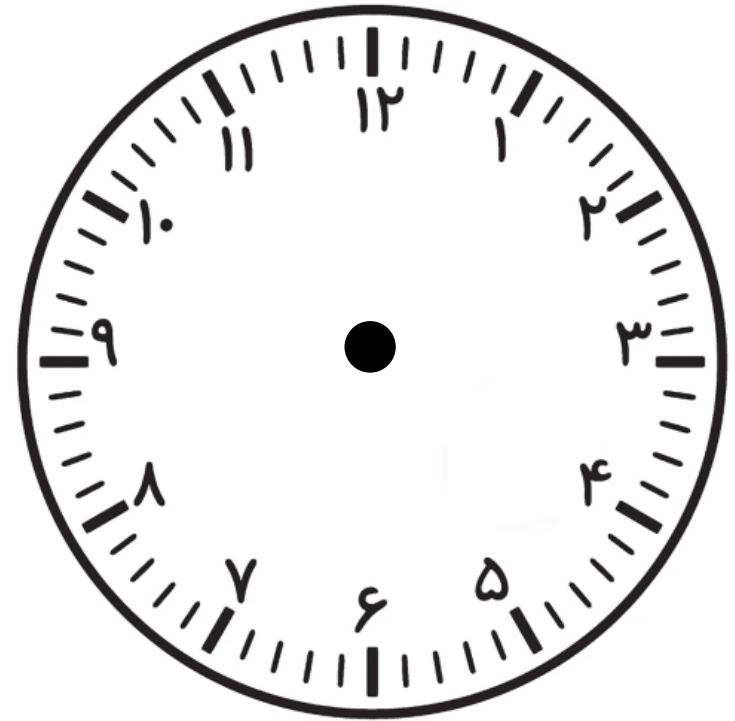
۷ :

۹. ساعت های زیر را با دقت حل کنید.



۲۰ دقیقه قبل ساعت ۲


..... : .....



۲۵ دقیقه قبل ساعت ۱۰

..... : .....

۹. ساعت های زیر را با دقت حل کنید.



۲۰ دقیقه قبل ساعت ۲

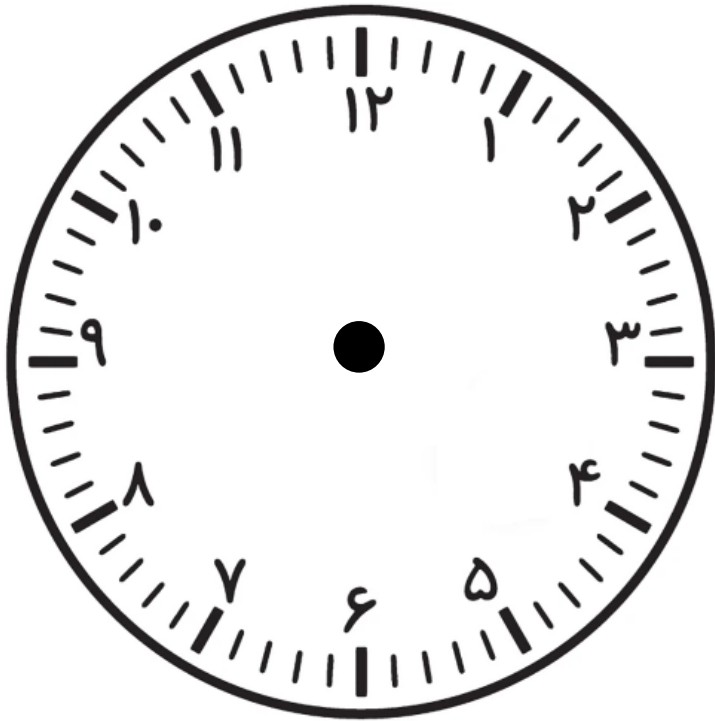
۰۱ : ۴۰



۲۵ دقیقه قبل ساعت ۱۰

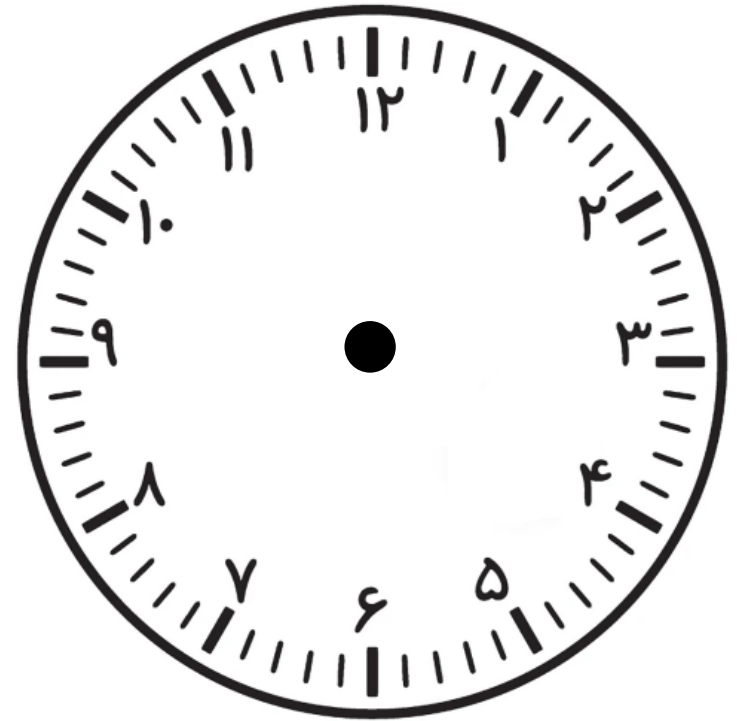
۰۹ : ۳۵

9. ساعت های زیر را با دقت حل کنید.



نیم ساعت بعد از 12

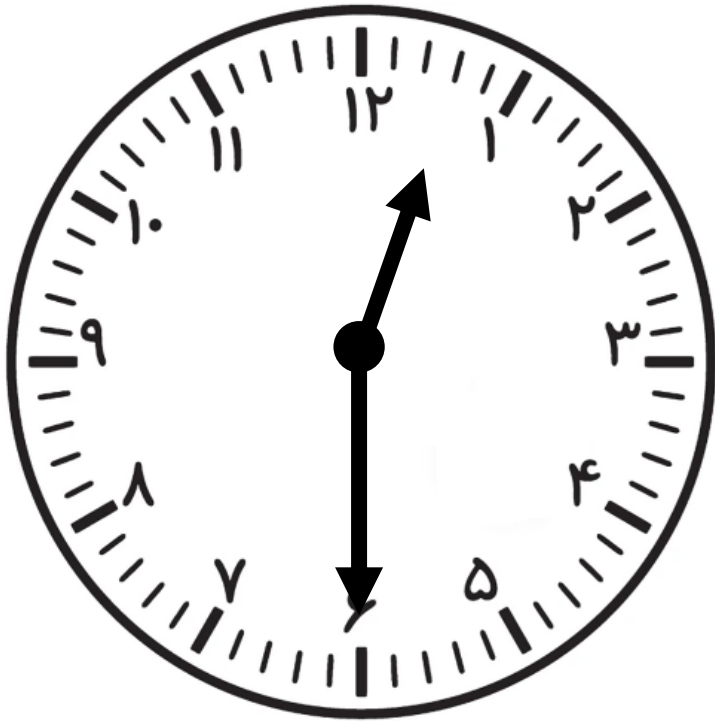
..... : .....



نیم ساعت قبل از 5

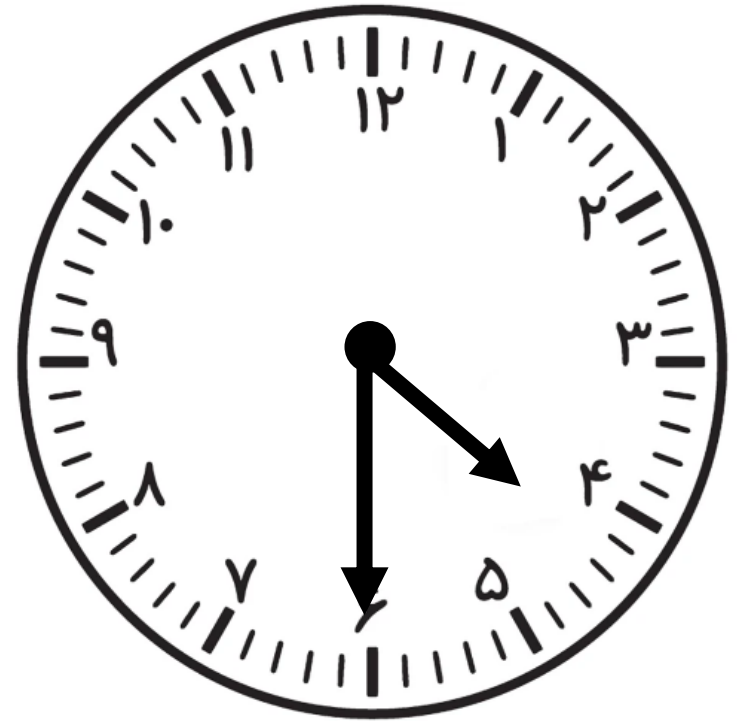
..... : .....

9. ساعت های زیر را با دقت حل کنید.



نیم ساعت بعد از 12

12 : 30



نیم ساعت قبل از 5

04 : 30