

مرور فصل چهارم



۲. جاهای خالی را پر کنید.

الف) ۸ سکه ی ۱۰۰ ریالی، ۵ سکه ی ۱۰ ریالی و ۰ سکه ی ۱ ریالی می شود**۸۵۰**.....

ب) ۹ سکه ی ۱۰ ریالی می شود و ۶ سکه ی ۱ ریالی می شود**۹۶**.....

پ) اگر ۲ سکه ی ۱۰ ریالی و ۵ سکه ی ۱۰۰ ریالی به ۲۶۳ اضافه کنیم می شود**۷۸۳**.....

ت) اگر ۵ سکه ی ۱۰۰ ریالی و ۳ سکه ی ۱۰ ریالی به ۴۱۸ اضافه کنیم می شود**۹۴۸**.....

ث) اگر ۱ سکه ی ۱۰ ریالی و ۶ سکه ی ۱ ریالی به ۷۵۲ اضافه کنیم می شود**۷۶۸**.....

۷. جمع و تفریق زیر را با حذف رقم یکان و دهگان تقریب بنویسید.

$$\begin{array}{r} ۳۵۸ \longrightarrow \underline{۳۰۰} \\ + ۴۱۵ \longrightarrow \underline{۴۰۰} \\ \hline ۷۰۰ \end{array}$$

$$\begin{array}{r} ۴۶۷ \longrightarrow \underline{۴۰۰} \\ + ۱۰۵ \longrightarrow \underline{۱۰۰} \\ \hline ۵۰۰ \end{array}$$

$$\begin{array}{r} ۵۳۴ \longrightarrow \underline{۵۰۰} \\ - ۳۷۰ \longrightarrow \underline{۳۰۰} \\ \hline ۲۰۰ \end{array}$$


۸. جمع و تفریق زیر را با حذف رقم یکان تقریب بنویسید.

$$\begin{array}{r} ۴۲۸ \longrightarrow \underline{۴۲۰} \\ + ۲۶۰ \longrightarrow \underline{۲۶۰} \\ \hline ۶۸۰ \end{array}$$

$$\begin{array}{r} ۳۲۵ \longrightarrow \underline{۳۲۰} \\ + ۱۰۸ \longrightarrow \underline{۱۰۰} \\ \hline ۴۲۰ \end{array}$$

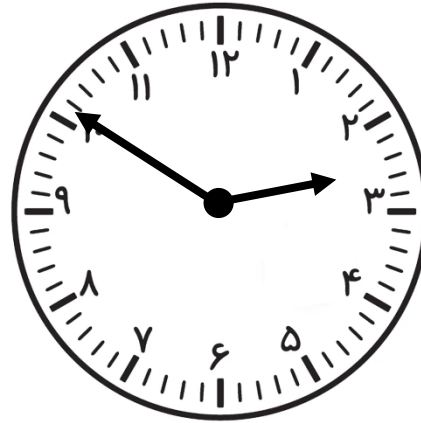
$$\begin{array}{r} ۸۰۴ \longrightarrow \underline{۸۰۰} \\ - ۵۰۱ \longrightarrow \underline{۵۰۰} \\ \hline ۳۰۰ \end{array}$$

۹. ساعت های زیر را با دقت حل کنید.




۰۲:۲۰

نیم ساعت بعد

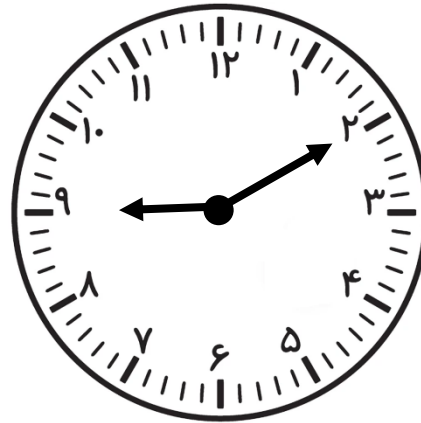


۰۲:۵۰




۰۸:۵۵

یک ربع بعد



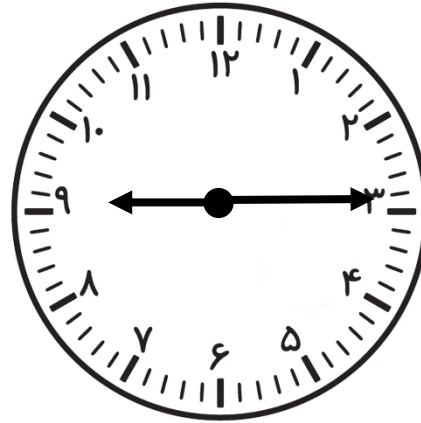
۰۹:۱۰

۹. ساعت های زیر را با دقت حل کنید.




• ۹ : ۲۵ •

۱۰ دقیقه قبل




• ۹ : ۱۵ •




• ۷ : ۲۰ •

۲۰ دقیقه قبل




• ۷ : • •

۹. ساعت های زیر را با دقت حل کنید.



۲۰ دقیقه قبل ساعت ۲

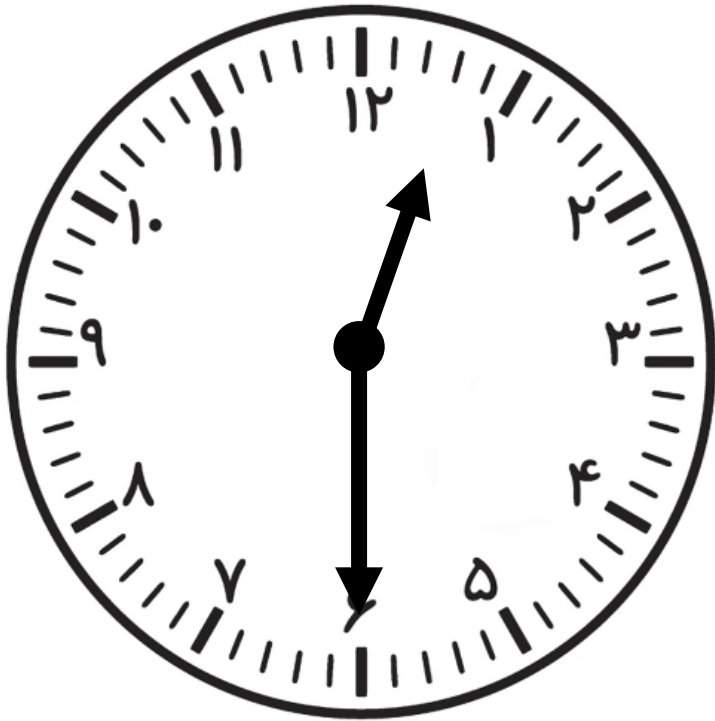
۰۱ : ۴۰



۲۵ دقیقه قبل ساعت ۱۰

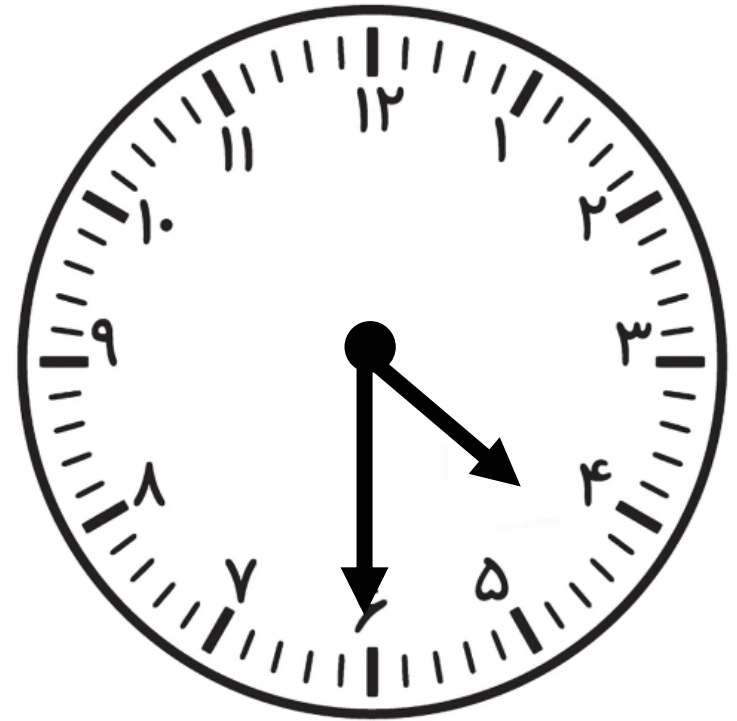
۰۹ : ۳۵

۹. ساعت های زیر را با دقت حل کنید.



نیم ساعت بعد از ۱۲

۱۲ : ۳۰



نیم ساعت قبل از ۵

۴ : ۳۰