



♥ به نام خدای مهربون ♥

♥ سلام به پسر های کوشای کلاس فضانوردان ♥

♥ دوره ریاضی ♥

♥ آموزگار : احمدی ♥

علوی

بنام خداوند جان و خرد

پایه:

مرور ریاضی

موضوع:

تاریخ

نام و نام خانوادگی

فصل ۱

هدف:

۱- عزیزم با کارت های (۵-۴-۸) هرچه می توانی عدد دورقمی بنویس.



علوی

بنام خداوند جان و خرد

پایه:



نام و نام خانوادگی

تاریخ

موضوع:

مرور ریاضی

هدف:

فصل ۱

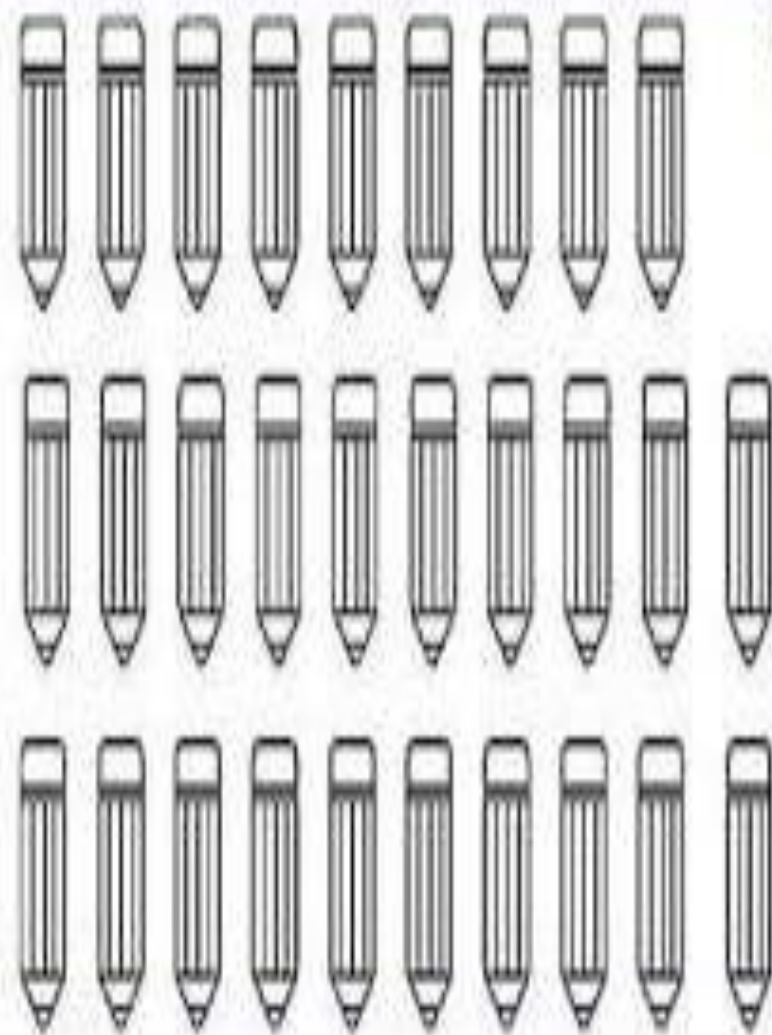
۱- عزیزم با کارت های (۵-۴-۸) هرچه می توانی عدد دورقمی بنویس.



۵۴ - ۵۸ - ۴۸ - ۴۵ - ۸۵ - ۸۴






۲- عزیزم ابتدا دسته های ده تایی جدا کن و سپس تعداد شکل را بنویس.



..... به عدد

..... به حروف

۲- عزیزم ابتدا دسته های ده تایی جدا کن و سپس تعداد شکل را بنویس.



به عدد ۲۹

به حروف بیست و نه

۳- حاصل هر عبارت را به روش خواسته شده به دست آورید.

$$۶ + ۷ + ۸ = \dots\dots\dots$$



* با رسم چوب خط.

$$۱۶ - ۷ = \dots\dots\dots$$



* با رسم شکل

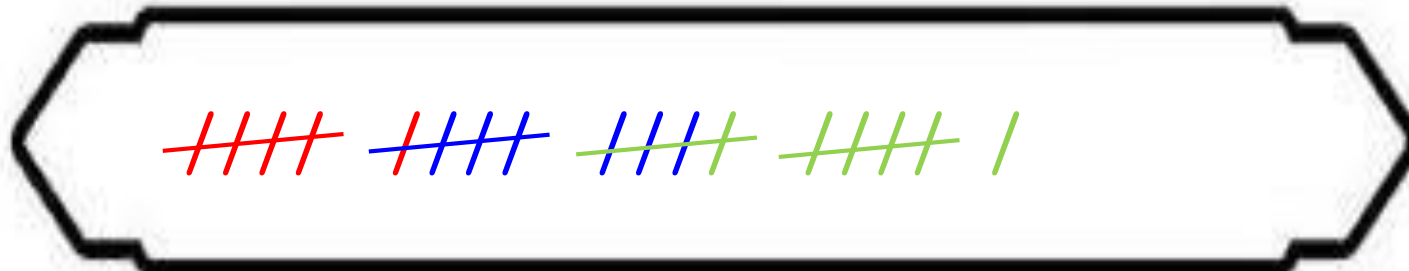
$$۱۳ - ۷ + ۴ = \dots\dots\dots$$

* با کمک محور



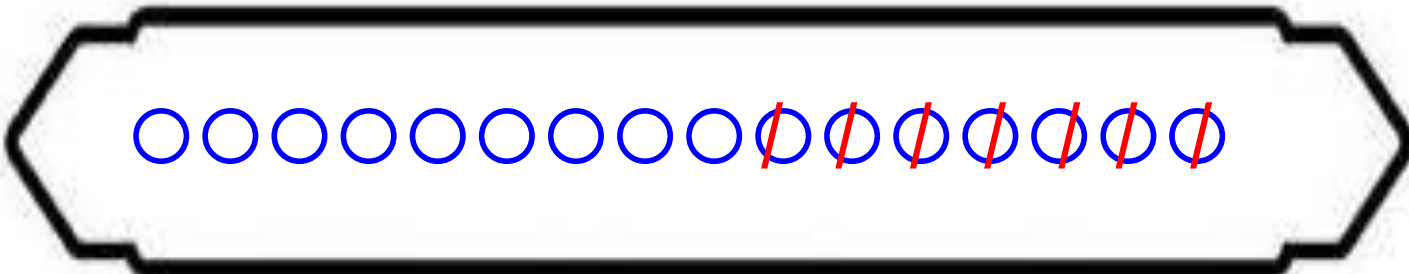
۳- حاصل هر عبارت را به روش خواسته شده به دست آورید.

$$۶ + ۷ + ۸ = \overset{۲۱}{\dots\dots\dots}$$



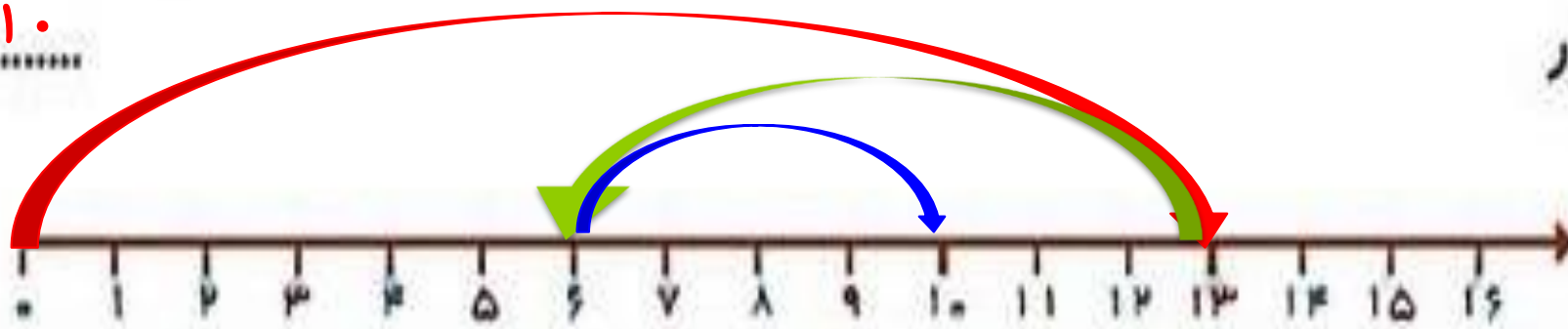
* با رسم چوب خط.

$$۱۶ - ۷ = \overset{۹}{\dots\dots\dots}$$



* با رسم شکل

$$۱۳ - ۷ + ۴ = \overset{۱۰}{\dots\dots\dots}$$



* با کمک محور

۴- دلبندم عددی دو رقمی بنویس که رقم یگانش ۶ و رقم دهگانش ۴ تا کمتر از یگان باشد.



۴- دلبندم عددی دو رقمی بنویس که رقم یگانش ۶ و رقم دهگانش ۴ تا کمتر از یگان باشد.

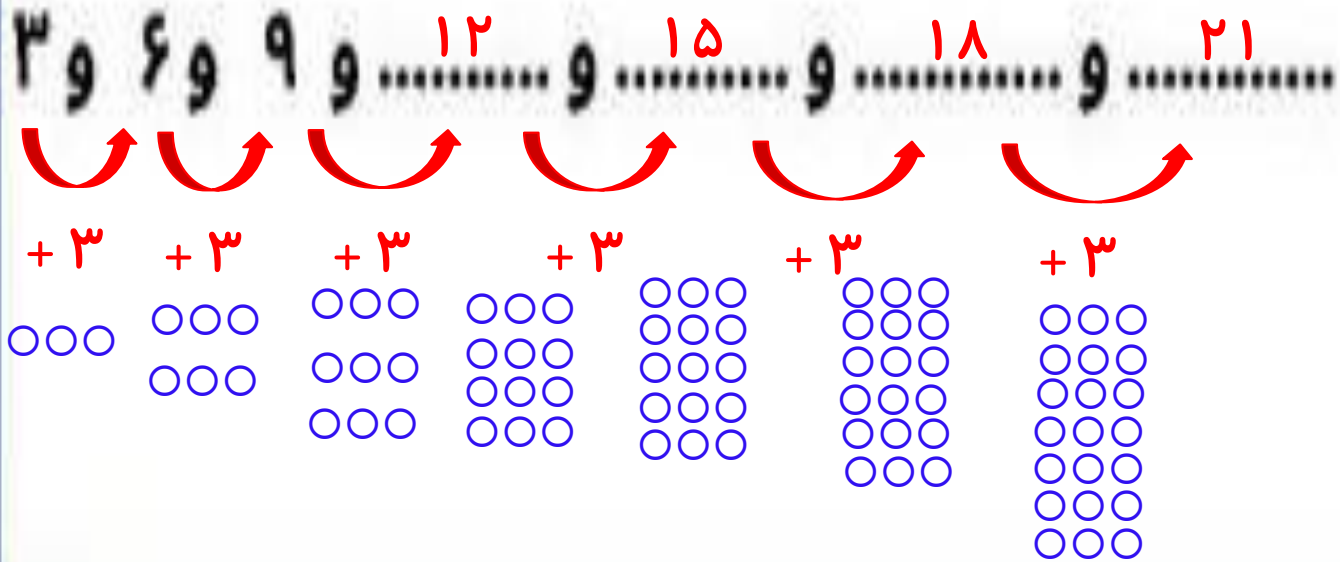


$$6 - 4 = 2$$

۵- عزیزم الگوهای عددی زیر را با رسم شکل ادامه بده.

..... و و و ۹ و ۶ و ۳

۵- عزیزم الگوهای عددی زیر را با رسم شکل ادامه بده.



۶- در یک اتوبوس ۱۲ مسافر نشسته بودند، در ایستگاه اول ۵ نفر پیاده شدند و در ایستگاه دوم ۷ نفر سوار شدند حالا

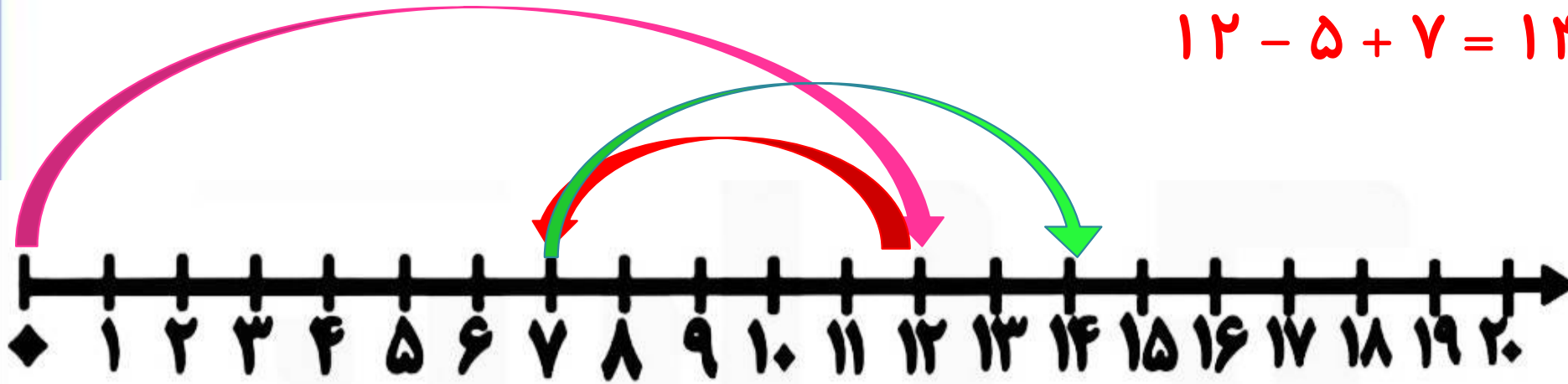
در این اتوبوس چند مسافر نشسته اند ؟ (با کمک محور).....




۶- در یک اتوبوس ۱۲ مسافر نشسته بودند، در ایستگاه اول ۵ نفر پیاده شدند و در ایستگاه دوم ۷ نفر سوار شدند حالا

در این اتوبوس چند مسافر نشسته اند ؟ (با کمک محور)..... **۱۴ مسافر نشسته اند .**

$$۱۲ - ۵ + ۷ = ۱۴$$



۷ - حاصل جمع های زیر را بنویسد.




$$۳۰ + ۲۰ + ۵ + ۵ + ۲۰ + ۶ = \dots\dots\dots$$

$$۲۰ + ۳ + ۳۰ + ۱۰ + ۱۰ + ۷ = \dots\dots\dots$$

۷- حاصل جمع های زیر را بنویسد.

$$\underline{۳۰} + \underline{۲۰} + \overset{۱۰}{\text{ح}} + \overset{۱۰}{\text{ح}} + \underline{۲۰} + ۶ = \dots\dots\dots$$

۱۶



$$\underline{۲۰} + ۳ + \underline{۳۰} + \underline{۱۰} + \underline{۱۰} + ۷ = \dots\dots\dots$$

۸۰

۸ - همه ی جمع های مربوط به عدد ۵ را بنویس. (جمع نظام دار ۵)

$$\dots + \dots = \dots ۵ \dots$$

$$\dots + \dots = \dots ۵ \dots$$

$$\dots + \dots = \dots ۵ \dots$$

$$\dots + \dots = \dots ۵ \dots$$

$$\dots + \dots = \dots ۵ \dots$$

$$\dots + \dots = \dots ۵ \dots$$

۸ - همه ی جمع های مربوط به عدد ۵ را بنویس. (جمع نظام دار ۵)

$$\overset{\cdot}{\dots\dots} + \overset{۵}{\dots\dots} = \dots ۵ \dots$$

$$\overset{۳}{\dots\dots} + \overset{۲}{\dots\dots} = \dots ۵ \dots$$

$$\overset{۱}{\dots\dots} + \overset{۴}{\dots\dots} = \dots ۵ \dots$$

$$\overset{۴}{\dots\dots} + \overset{۱}{\dots\dots} = \dots ۵ \dots$$

$$\overset{۲}{\dots\dots} + \overset{۳}{\dots\dots} = \dots ۵ \dots$$

$$\overset{۵}{\dots\dots} + \overset{\cdot}{\dots\dots} = \dots ۵ \dots$$

۹- عزیزم با توجه به هر ساعت جاهای خالی را کامل کن.



ساعت از گذشته است



ساعت است



ساعت به مانده است

۹- عزیزم با توجه به هر ساعت جاهای خالی را کامل کن.



ساعت از ۹ گذشته است



ساعت ۱۰ است

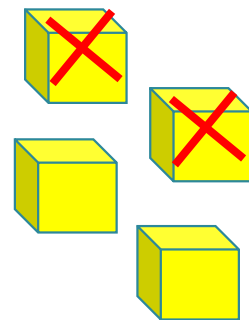
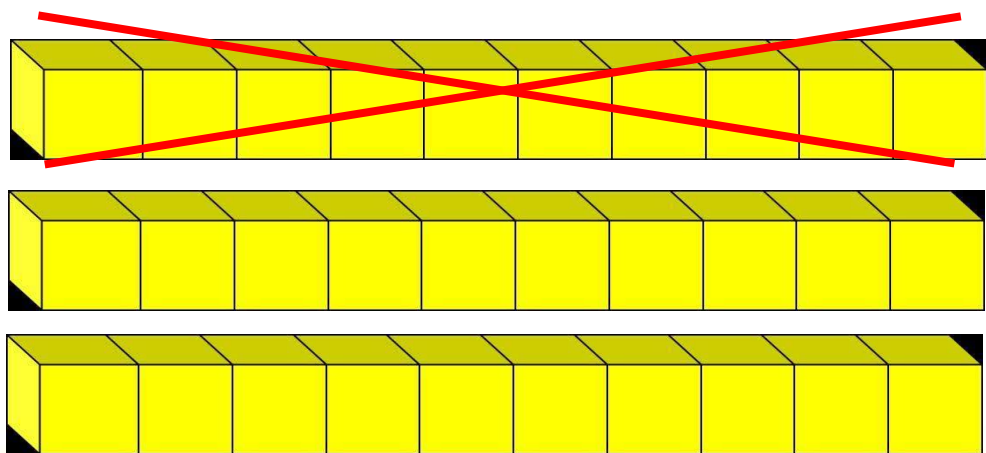


ساعت به ۷ مانده است

۱۰- داخل یک گلدان ۳۴ شاخه گل سرخ و سفید است اگر ۱۲ تا از گل ها سرخ و بقیه سفید باشند در این گلدان چند شاخه گل سفید است؟ با رسم چینه های ده تایی حل کن (.....)




۱۰- داخل یک گلدان ۳۴ شاخه گل سرخ و سفید است اگر ۱۲ تا از گل ها سرخ و بقیه سفید باشند در این گلدان چند شاخه گل سفید است؟ با رسم چینه های ده تایی حل کن (**۲۲ شاخه گل سفید است.**)




$$34 - 12 = 22$$



۱۱- عزیزدلم نوشتن عددها را ادامه بده ؟



۱۱- عزیزدلم نوشتن عددها را ادامه بده ؟



علوی

بنام خانوادہ جاننا

پایہ:

مرور ریاضی

موضوع:


تاریخ

نام و نام خانوادگی


فصل ۲

هدف:

۱- با توجہ بہ شکل حاصل جمع و تفریق ہا را پیدا کنید .



..... + =



..... - =

علوی

بنام خانوادگی

پایه:

مرور ریاضی

موضوع:


تاریخ

نام و نام خانوادگی


فصل ۲

هدف:

۱- با توجه به شکل حاصل جمع و تفریق ها را پیدا کنید .





$$20 + 50 = 70$$



$$80 - 30 = 50$$

۲ - عزیزم با دقت جدول‌های جمع و تفریق زیر را کامل کن.

	۸	۶	۵	۹
۷				
۹				

	۸	۵	۶	۲
۱۸				
۱۶				



۲- عزیزم با دقت جدول‌های جمع و تفریق زیر را کامل کن.

	۸	۶	۵	۹
۷	۱۵	۱۳	۱۲	۱۶
۹	۱۷	۱۵	۱۴	۱۸

	۸	۵	۶	۲
۱۸	۱۰	۱۳	۱۲	۱۶
۱۶	۸	۱۱	۱۰	۱۴



۳- حاصل جمع و تفریق های زیر را به روش فرآیندی به دست آورید . (گسترده نویسی)

۵۹

- ۴۳



۲۹

+ ۵۷

۳- حاصل جمع و تفریق های زیر را به روش فرآیندی به دست آورید . (گسترده نویسی)

$$\begin{array}{r} 59 \\ - 43 \\ \hline 19 \\ - 3 \\ \hline 16 \end{array}$$



$$\begin{array}{r} 29 \\ + 57 \\ \hline 79 \\ + 7 \\ \hline 86 \end{array}$$

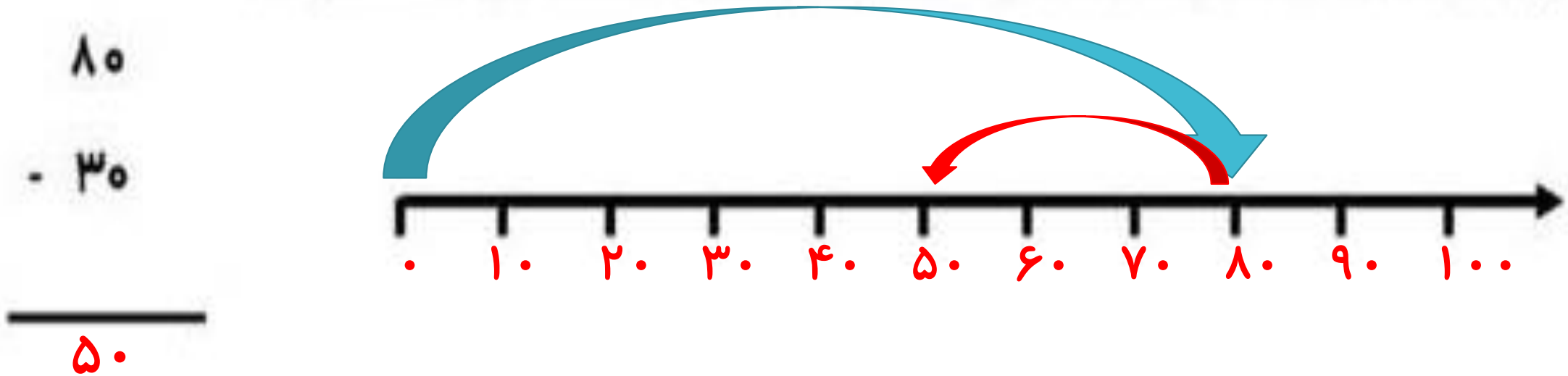
۴ - عزیزم ابتدا محور را عددگذاری کرده و سپس حاصل عبارت را با کمک محور به دست آورید .

۸۰

- ۳۰



۴ - عزیزم ابتدا محور را عددگذاری کرده و سپس حاصل عبارت را با کمک محور به دست آورید .



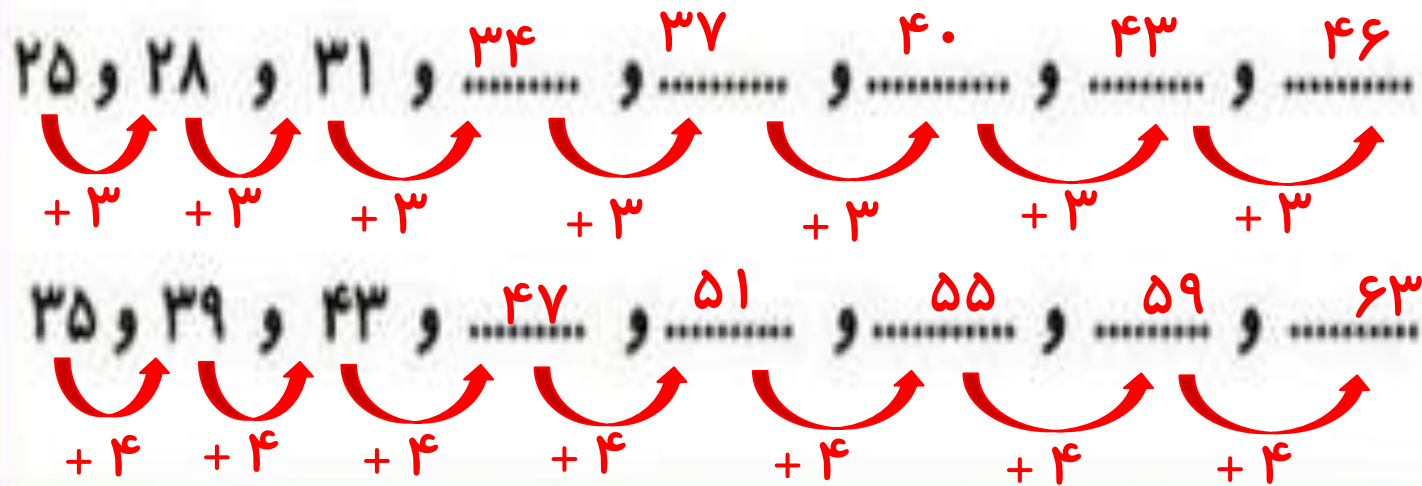
۵ - دلبندم الگوهای عددی زیر را با نوشتن رابطه الگویی مناسب ادامه بده .

..... و و و و و ۳۱ و ۲۸ و ۲۵

..... و و و و و ۴۳ و ۳۹ و ۳۵



۵ - دلبندم الگوهای عددی زیر را با نوشتن رابطه الگویی مناسب ادامه بده .



۶ - در جاهای خالی عدد مناسب بنویسید .

* ۳ دسته ده تایی به اضافه ۴ دسته ده تایی می شود دسته ده تایی

یعنی = +

* ۸ دسته ده تایی منهای دسته ده تایی می شود دسته ده تایی

یعنی = - ۲۰

۶ - در جاهای خالی عدد مناسب بنویسید .

$$\dots + \dots = \dots$$

یعنی $۳۰ + ۴۰ = ۷۰$

* ۳ دسته ده تایی به اضافه ۴ دسته ده تایی می شود دسته ده تایی ۷

$$\dots - ۲۵ = \dots$$

یعنی $۸۰ - ۲۵ = ۶۰$

* ۸ دسته ده تایی منهای دسته ده تایی می شود دسته ده تایی ۶

۷ - حاصل جمع و تفریق های زیر را به صورت تقریبی به دست آورید.

$$67 \longrightarrow$$

$$- 34 \longrightarrow$$

$$45 \longrightarrow$$

$$+ 14 \longrightarrow$$

۷ - حاصل جمع و تفریق های زیر را به صورت تقریبی به دست آورید.

$$۶۷ \longrightarrow ۷۰$$

$$۴۵ \longrightarrow ۵۰$$

$$- ۳۴ \longrightarrow - ۳۰$$

$$+ ۱۴ \longrightarrow + ۱۰$$

۴۰

۶۰

۸ - ساعت چند است ؟



..... |



..... |



۸ - ساعت چند است ؟



۴ : ۱۰

..... :



۱۱ : ۳۵

..... :



۹_ عزیزم به صورت نظام دار همه عدد های دو رقمی را بنویس که رقم یکان آن (۳ و ۱ و ۹) و رقم دهگان آن (۲ و ۷) باشد . (با رسم جدول)



۹_ عزیزم به صورت نظام دار همه عدد های دو رقمی را بنویس که رقم یکان آن (۳ و ۱ و ۹) و رقم دهگان

آن (۲ و ۷) باشد . (با رسم جدول)

دهگان	یکان
۲	۹
۲	۱
۲	۳
۷	۹
۷	۱
۷	۳



۱۰- عدد دو رقمی بنویسید که رقم یکان آن بیشترین عدد یک رقمی و رقم دهگان آن دو تا کمتر از رقم یکانش

باشد.

۱۰- عدد دو رقمی بنویسید که رقم یکان آن بیشترین عدد یک رقمی و رقم دهگان آن دو تا کمتر از رقم یکانش

باشد.



$$9 - 2 = 7$$

۱۱- با رقم های (۴-۵-۸) هر چه می توانید عددهای دورقمی بیشتر از ۵۵ بنویسید.



۱۱- با رقم های (۸-۵-۴) هر چه می توانید عددهای دورقمی بیشتر از ۵۵ بنویسید.

۸۰ - ۸۴ - ۸۸



علوی

بنام خداوند جان و خرد

پایه:



مرور ریاضی

موضوع:

تاریخ

نام و نام خانوادگی

فصل ۲

هدف:

۱۲_ در یک گلدان ۶۸ شاخه گل نرگس و رز وجود دارد . اگر تعداد گل های رز ۳۷ شاخه باشد . چند شاخه گل نرگس در گلدان است ؟ (فرایندی)





موضوع: مرور ریاضی

تاریخ:

نام و نام خانوادگی:

هدف: فصل ۲

هدف:

فصل ۲

۱۲_ در یک گلدان ۶۸ شاخه گل نرگس و رز وجود دارد . اگر تعداد گل های رز ۳۷ شاخه باشد . چند شاخه گل نرگس در گلدان است ؟ (فرایندی) **۳۱ شاخه گل نرگس در گلدان است .**

$$\begin{array}{r}
 68 \\
 - 37 \\
 \hline
 31
 \end{array}$$



۱۳- گل دانای من حاصل جمع های زیر را بنویس .

$$۱۰ + ۲۰ + ۲۵ = \dots\dots\dots$$



$$۱۰ + ۲۰ + ۶ + ۵ = \dots\dots\dots$$

۱۳- گل دانای من حاصل جمع های زیر را بنویس .

$$10 + 20 + 25 = \dots\dots\dots$$

Handwritten red annotations: A red arc above 10 and 20 is labeled "۳۰". A red arc above 20 and 25 is labeled "۵۵". A red underline is under the 25. The final result "۵۵" is written in red.



$$10 + 20 + 6 + 5 = \dots\dots\dots$$

Handwritten red annotations: A red arc above 10 and 20 is labeled "۳۰". A red arc above 20 and 6 is labeled "۳۶". A red arc above 6 and 5 is labeled "۴۱". The final result "۴۱" is written in red.

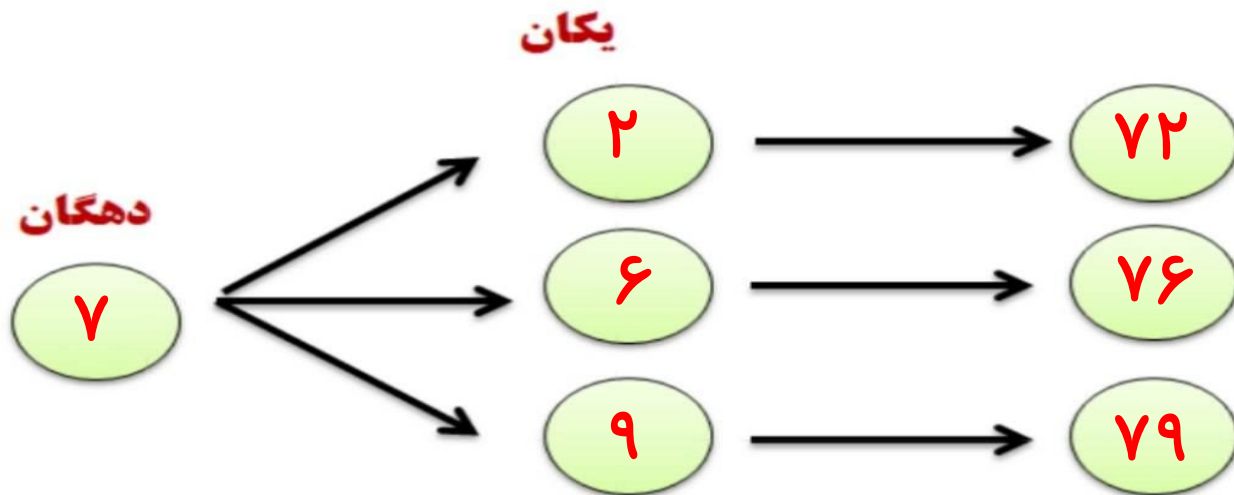
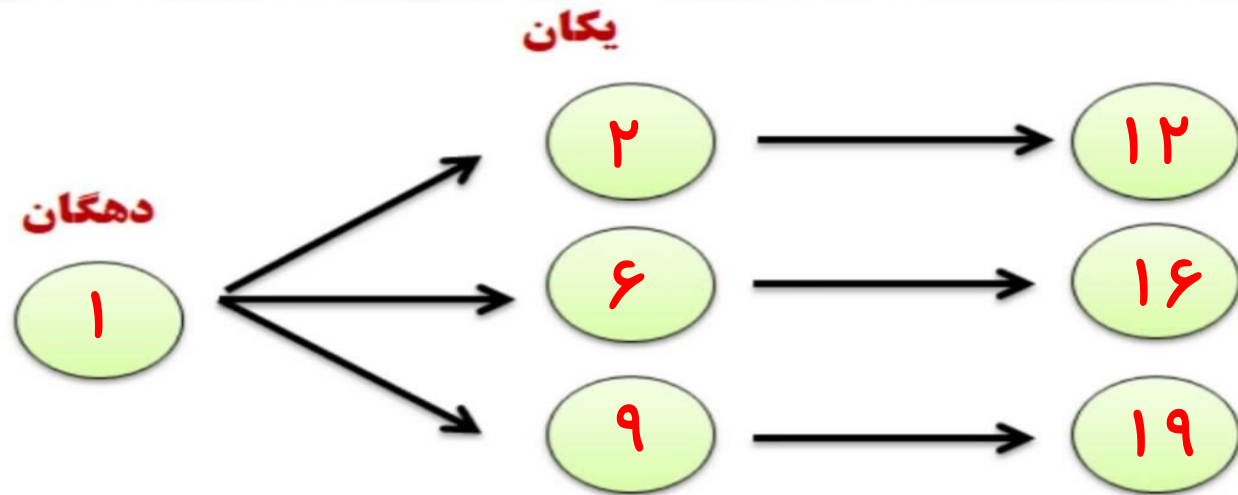
۱۴- رقم های (۹ و ۶ و ۲) در یکان و رقم های (۷ و ۱) در دهگان هر چه می توانی به صورت نظام دار

عدد دو رقمی بنویس. (با روش شاخه ای)

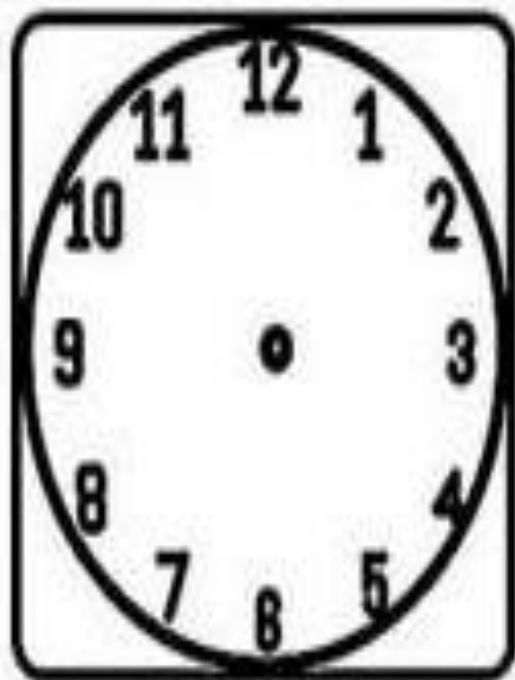


۱۴- رقم های (۲ و ۶ و ۹) در یکان و رقم های (۱ و ۷) در دهگان هر چه می توانی به صورت نظام دار

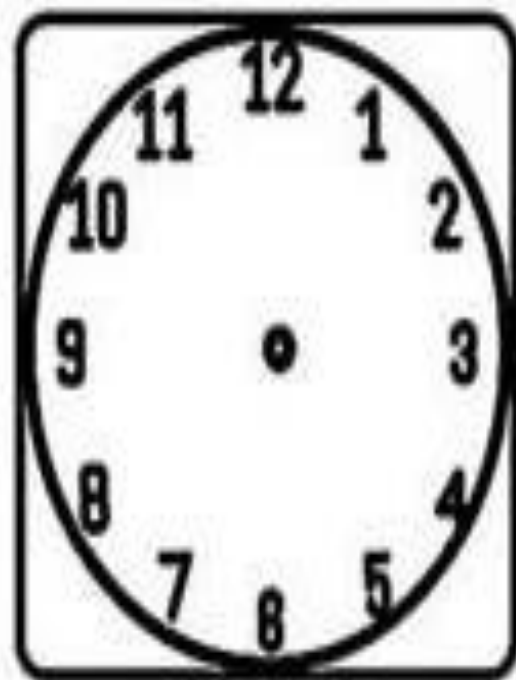
عدد دو رقمی بنویس. (با روش شاخه ای)



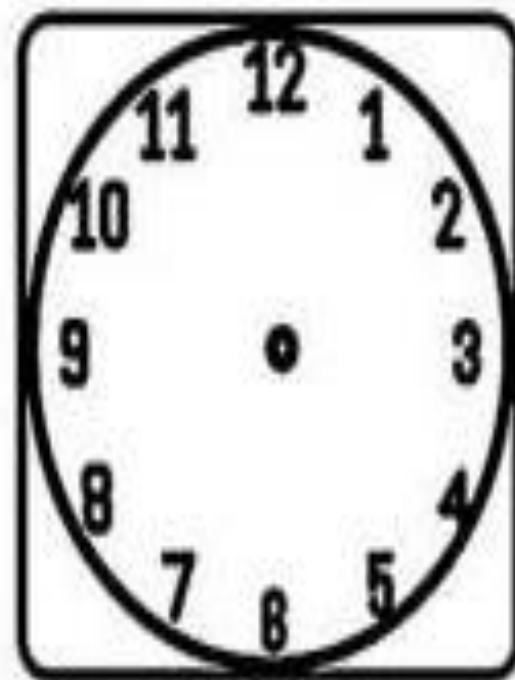
۱۵- دلبندم زمان های خواسته شده را با کشیدن عقربه ها نشان بده.



ساعت ۴ و ۵۵ دقیقه است.

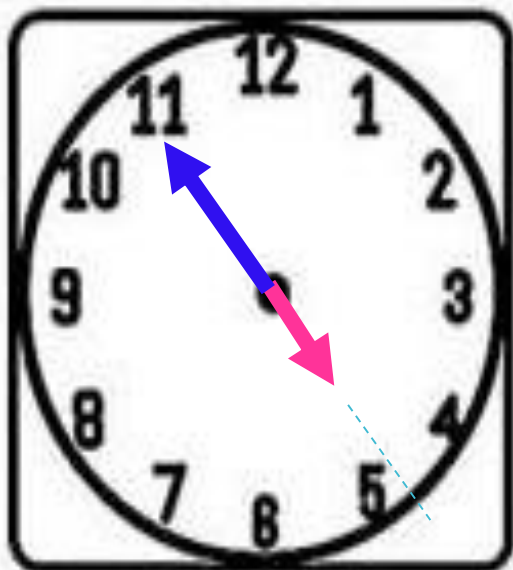


ساعت ۸ است.

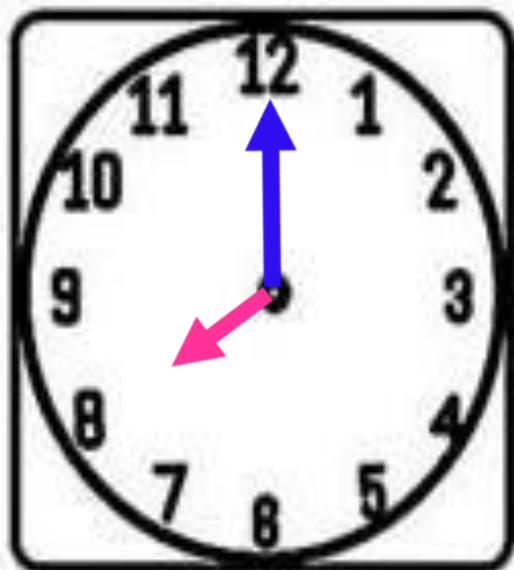


ساعت ۳ و ۲۰ دقیقه است.

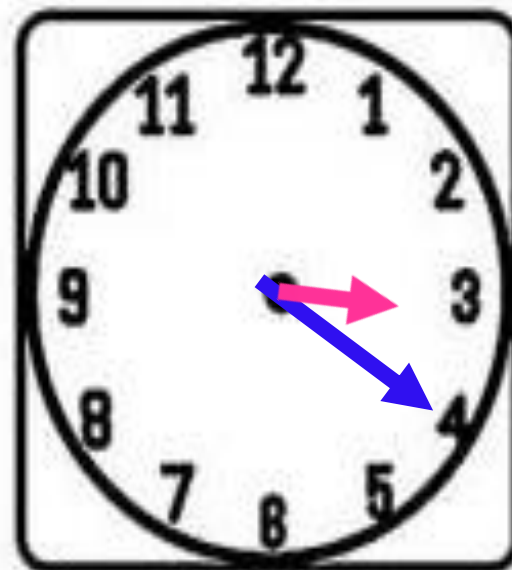
۱۵- دلبندم زمان های خواسته شده را با کشیدن عقربه ها نشان بده.



ساعت ۴ و ۵۵ دقیقه است.



ساعت ۸ است.



ساعت ۳ و ۲۰ دقیقه است.

۱۶- ریاضی دان کوچک حاصل جمع و تفریق ها را به صورت تقریبی بنویس.

$$\begin{array}{r} 78 \rightarrow \\ + 13 \rightarrow \\ \hline \end{array}$$

$$\begin{array}{r} 45 \rightarrow \\ + 24 \rightarrow \\ \hline \end{array}$$

$$\begin{array}{r} 76 \rightarrow \\ - 47 \rightarrow \\ \hline \end{array}$$

۱۶- ریاضی دان کوچک حاصل جمع و تفریق ها را به صورت تقریبی بنویس.

$$\begin{array}{r} 78 \\ + 13 \\ \hline \end{array} \rightarrow \begin{array}{r} 80 \\ + 10 \\ \hline 90 \end{array}$$

$$\begin{array}{r} 45 \\ + 24 \\ \hline \end{array} \rightarrow \begin{array}{r} 50 \\ + 20 \\ \hline 70 \end{array}$$

$$\begin{array}{r} 76 \\ - 47 \\ \hline \end{array} \rightarrow \begin{array}{r} 80 \\ - 50 \\ \hline 30 \end{array}$$



مرور ریاضی

موضوع:


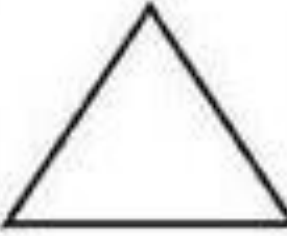



تاریخ

نام و نام خانوادگی

فصل ۳

هدف:

۱- عزیزم جدول زیر را کامل کن .

					شکل هندسی
					نام شکل
					تعداد ضلع
					تعداد گوشه

مرور ریاضی

موضوع:


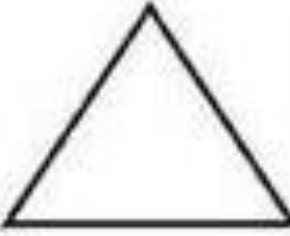



تاریخ

نام و نام خانوادگی



فصل ۳

هدف:




۱- عزیزم جدول زیر را کامل کن .

					شکل هندسی
شش ضلعی	مثلث	مربع	دایره	مستطیل	نام شکل
۶	۳	۴	۰	۴	تعداد ضلع
۶	۳	۴	۰	۴	تعداد گوشه

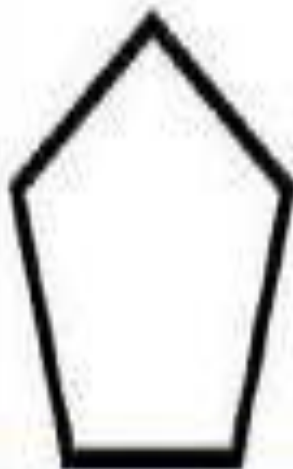

۲- برای هر یک از شکل های زیر در صورت داشتن تقارن یک خط تقارن رسم کنید .



۲- برای هر یک از شکل های زیر در صورت داشتن تقارن یک خط تقارن رسم کنید .



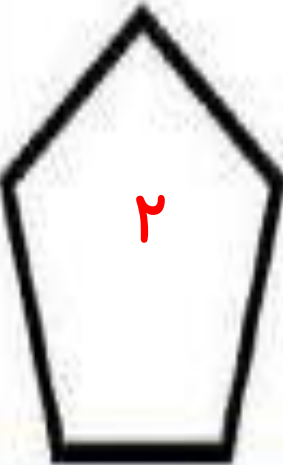
۳- شکل های زیر را نام گذاری کنید، سپس تفاوت و شباهت آن دو را بنویسید .



شباهت :

تفاوت :

۳- شکل های زیر را نام گذاری کنید، سپس تفاوت و شباهت آن دو را بنویسید .

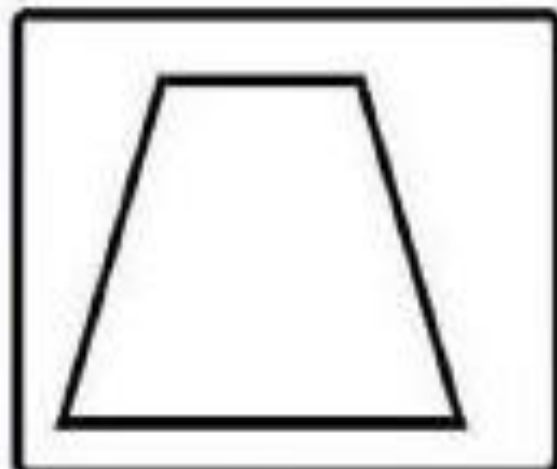


شباهت : هر دو شکل هندسی هستند.

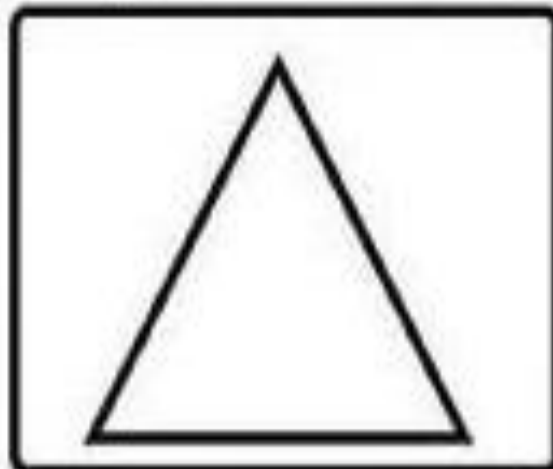
تفاوت : شکل (۱) مثلث ، ۳ گوشه و ۳ ضلع دارد اما

شکل (۲) پنج ضلعی ، ۵ گوشه و ۵ ضلع دارد.


۴- با رسم برش های لازم شکل های زیر به قسمت های مساوی خواسته شده تقسیم کنید .



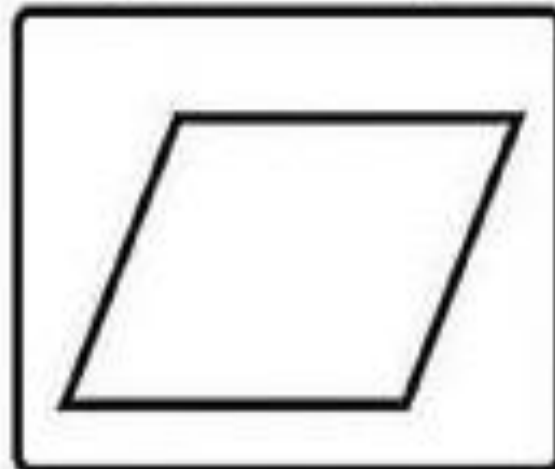
۳ قسمت مساوی



۴ قسمت مساوی

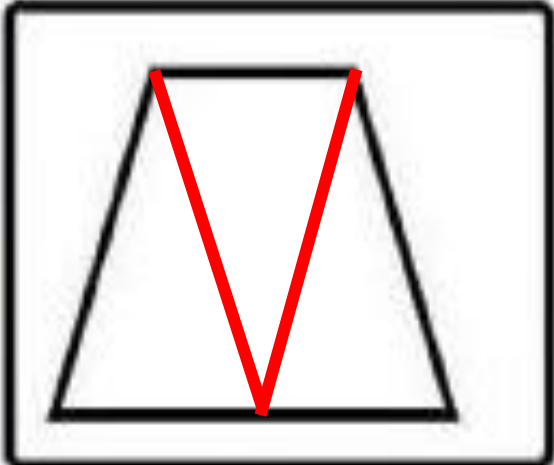


۱۰ قسمت مساوی

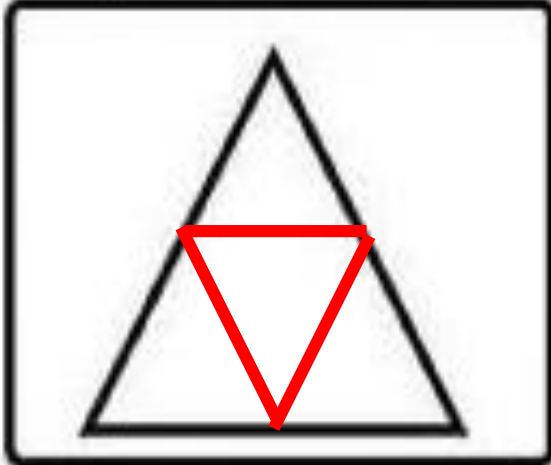


۲ قسمت مساوی

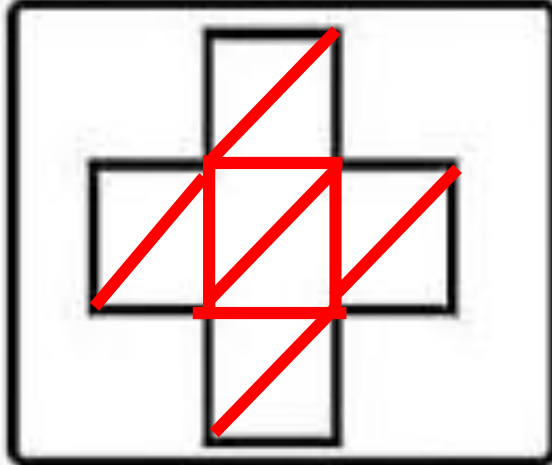
۴- با رسم برش های لازم شکل های زیر به قسمت های مساوی خواسته شده تقسیم کنید .



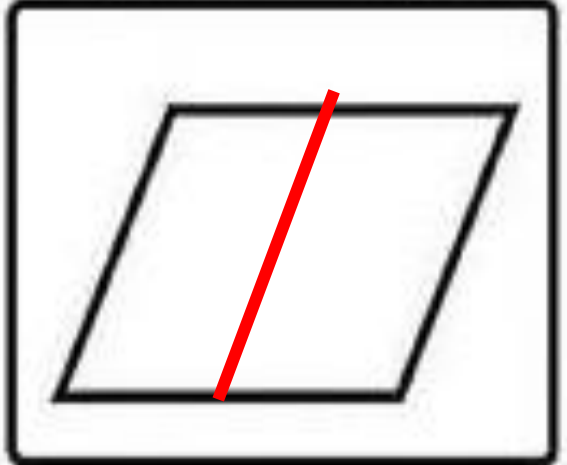
۳ قسمت مساوی



۴ قسمت مساوی



۱۰ قسمت مساوی



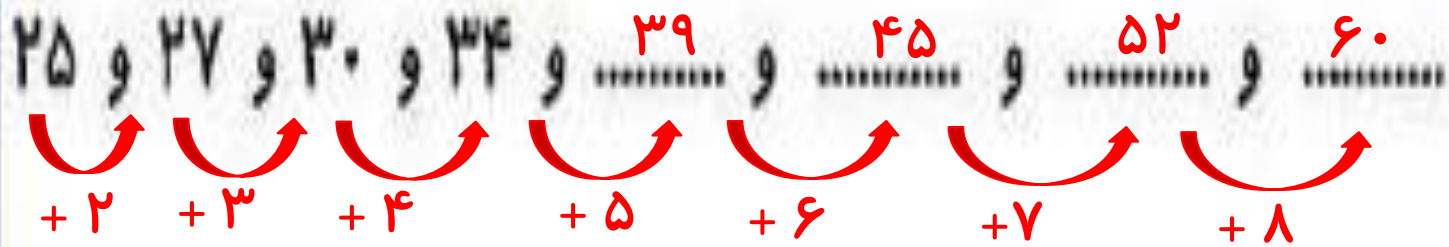
۲ قسمت مساوی

۵- عزیزم الگوی عددی زیر را ادامه بده .


۲۵ و ۲۷ و ۳۰ و ۳۴ و و و و



۵- عزیزم الگوی عددی زیر را ادامه بده .



۶- نقطه ها را با خط کش به هم وصل کنید و شکلی که توضیح داده شده را رسم کنید . سپس نام شکل را بنویسید .

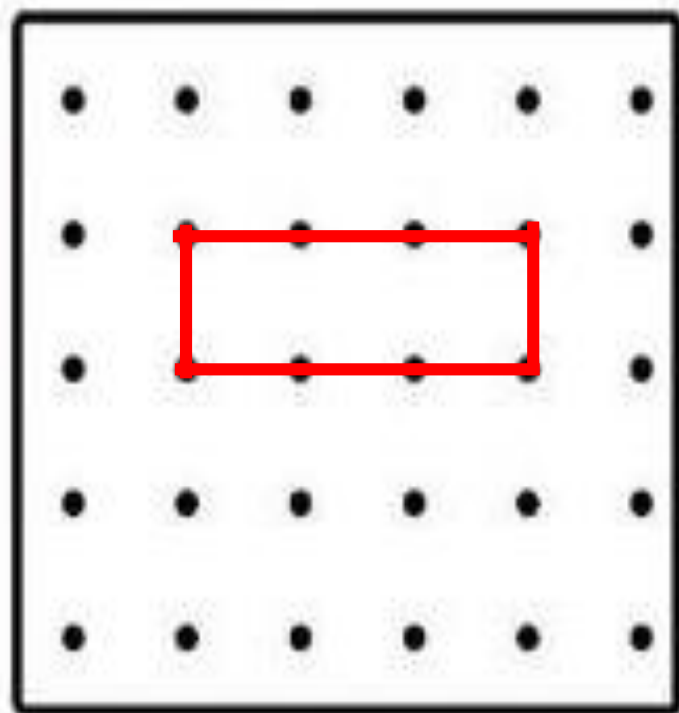


شکلی که چهار ضلع و چهار گوشه دارد و ضلع های رو به رو با هم برابر هستند .

نام شکل را بنویس



۶- نقطه ها را با خط کش به هم وصل کنید و شکلی که توضیح داده شده را رسم کنید . سپس نام شکل را بنویسید .



شکلی که چهار ضلع و چهار گوشه دارد و ضلع های رو به رو با هم برابر هستند .

مستطیل

نام شکل را بنویس




۷- زمان های زیر را با کشیدن عقربه نشان دهید. (عقربه کوچک قرمز و عقربه بزرگ آبی رسم شود.)




یک ربع بعد از ۸

..... :



یک ربع مانده به ۶

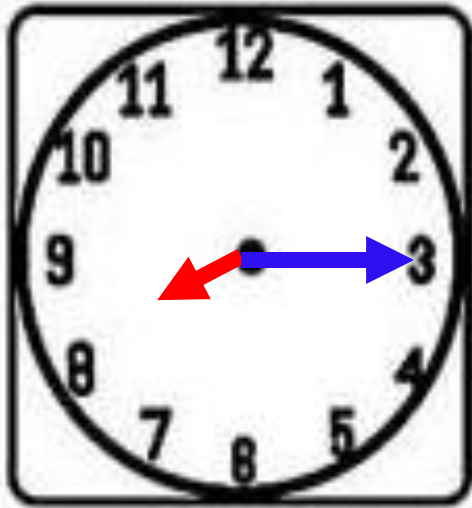
..... :



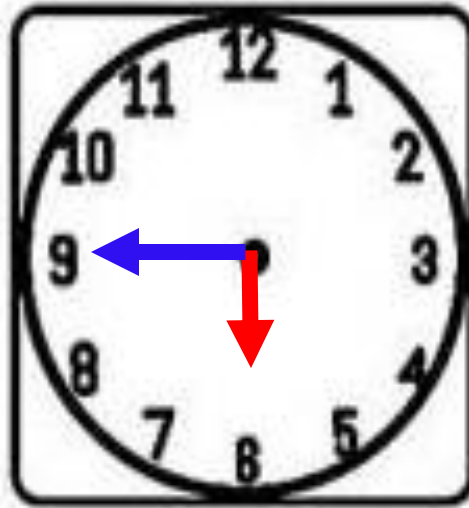
نیم ساعت گذشته از ۹

..... :

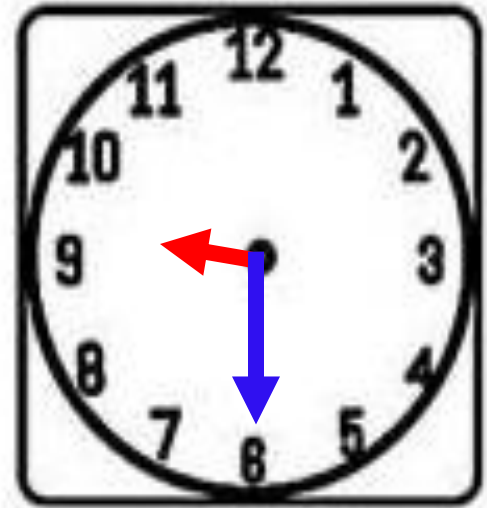
۷- زمان های زیر را با کشیدن عقربه نشان دهید. (عقربه کوچک قرمز و عقربه بزرگ آبی رسم شود.)



یک ربع بعد از ۸
..... :
۸ : ۱۵

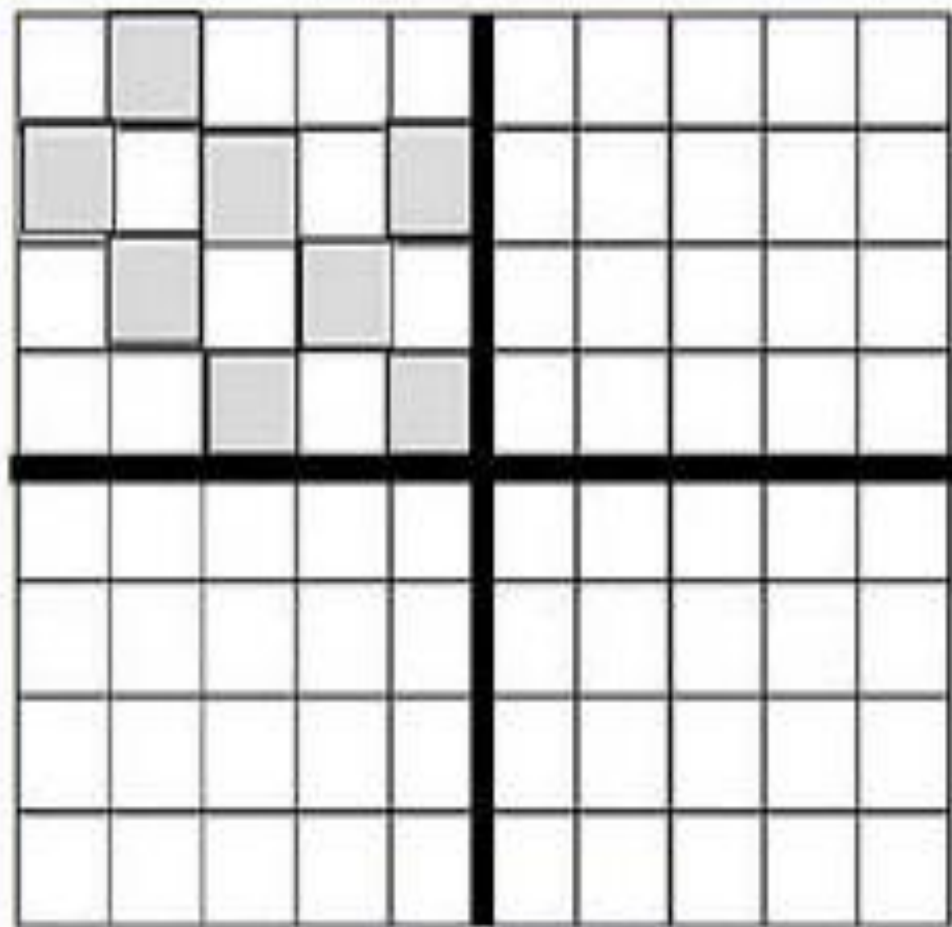


یک ربع مانده به ۶
..... :
۵ : ۴۵

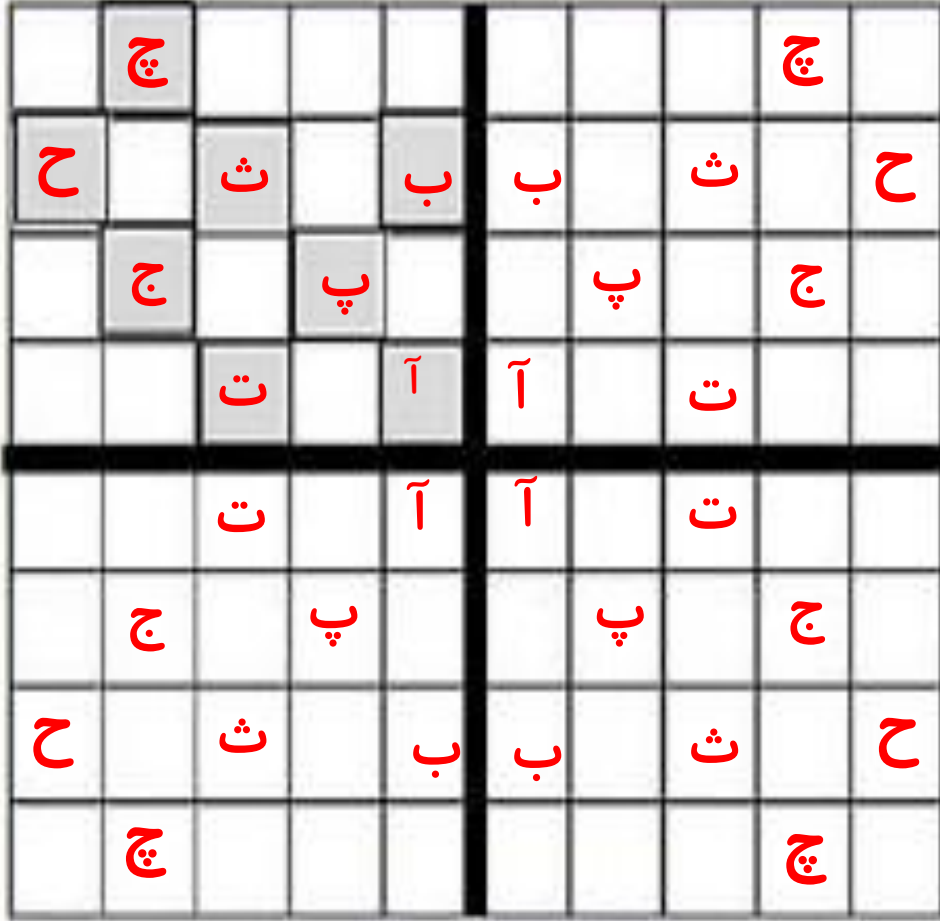


نیم ساعت گذشته از ۹
..... :
۹ : ۳۰

۸ - با توجه به خط های تقارن سه قسمت دیگر را کامل کنید .



۸ - با توجه به خط های تقارن سه قسمت دیگر را کامل کنید .




۹_ اگر کشیدن شکل ها را ادامه دهید، شکل پنجم از چند دایره تشکیل شده است؟




شکل ۱

۱



شکل ۲

۳



شکل ۳

۶

شکل ۴

.....

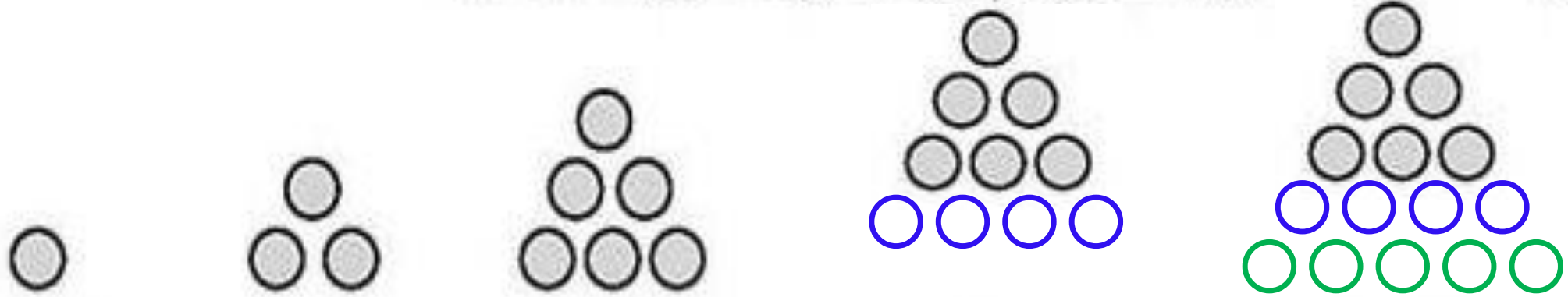
شکل ۵

.....

تعداد دایره ها



۹_ اگر کشیدن شکل ها را ادامه دهید، شکل پنجم از چند دایره تشکیل شده است؟



شکل ۱

شکل ۲

شکل ۳

شکل ۴

شکل ۵



تعداد دایره ها



مرور ریاضی

موضوع:

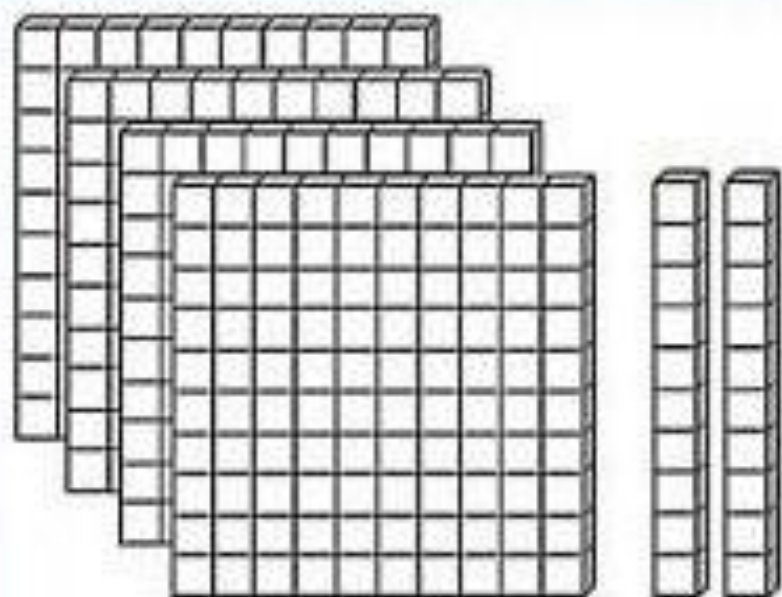
تاریخ

نام و نام خانوادگی

فصل ۴

هدف:

۱- با توجه به شکل جدول را کامل کن و عدد را بنویس.



صدگان	دهگان	یکان

به عدد:

به حروف:



مرور ریاضی

موضوع:

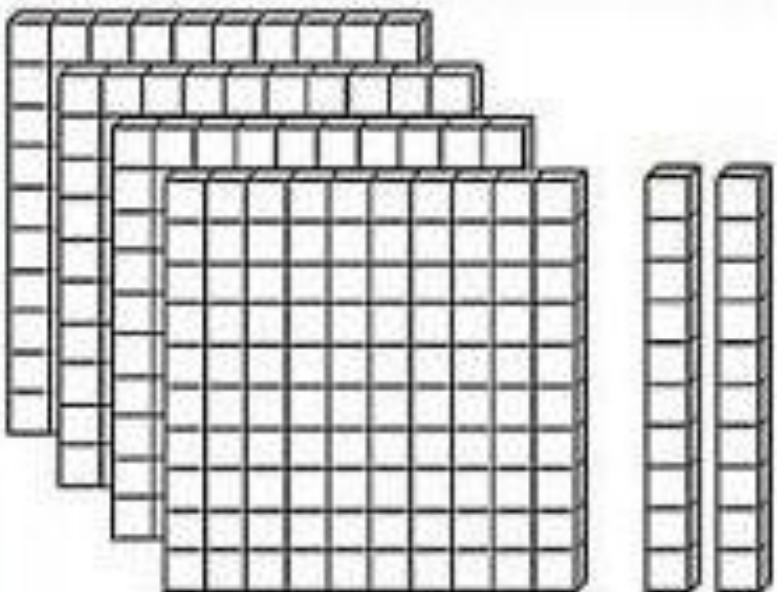
تاریخ

نام و نام خانوادگی

فصل ۴

هدف:

۱- با توجه به شکل جدول را کامل کن و عدد را بنویس.



صدگان	دهگان	یکان
۴	۲	۰

به عدد : ۴۲۰

به حروف : چهارصد و بیست

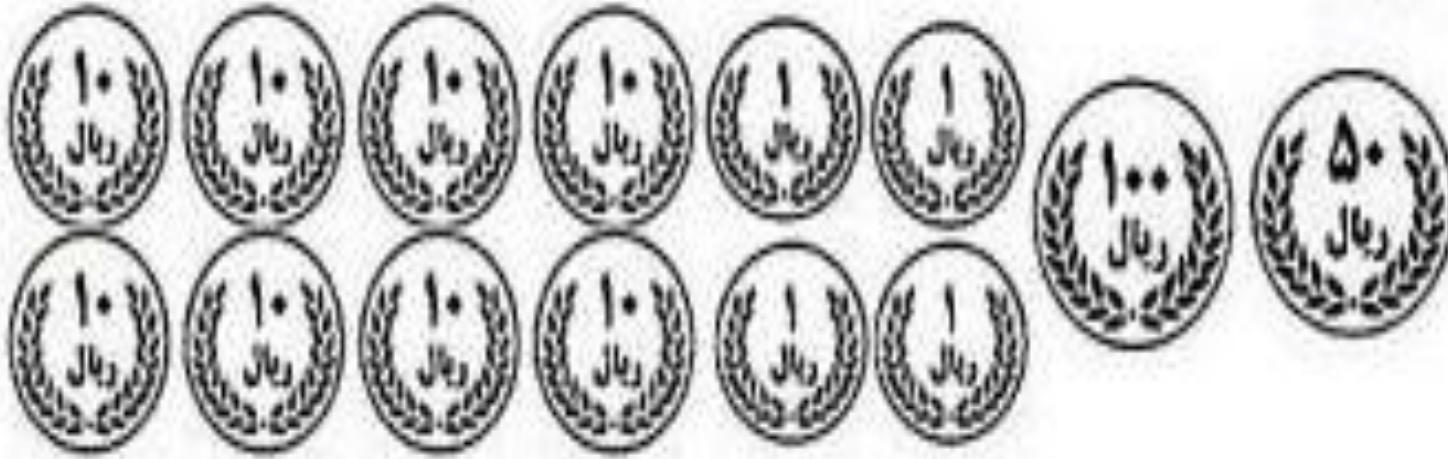
۲_ به نخودی کمک کنید و بگویید چند ریال دارد ؟



اگر نخودی ۶۰ سکه اریالی به بانک بدهد چند سکه ده ریالی می گیرد؟.....

اگر نخودی ۴۰ سکه ۱۰ ریالی به بانک بدهد چند سکه صد ریالی می گیرد؟.....

۲_ به نخودی کمک کنید و بگویید چند ریال دارد ؟



۲۳۴ ریال

اگر نخودی ۶۰ سکه اریالی به بانک بدهد چند سکه ده ریالی می گیرد؟ تا ۶

اگر نخودی ۴۰ سکه ۱۰ ریالی به بانک بدهد چند سکه صد ریالی می گیرد؟ تا ۴

۴۰۰

۳_ فاطمه ساعت ۲:۲۰ مشغول درس خواندن شد . بعد از یک ساعت و ربع درسش تمام شد با کمک ساعت های زیر و رسم عقربه ها نشان بده چه ساعتی درس فاطمه تمام شده است؟

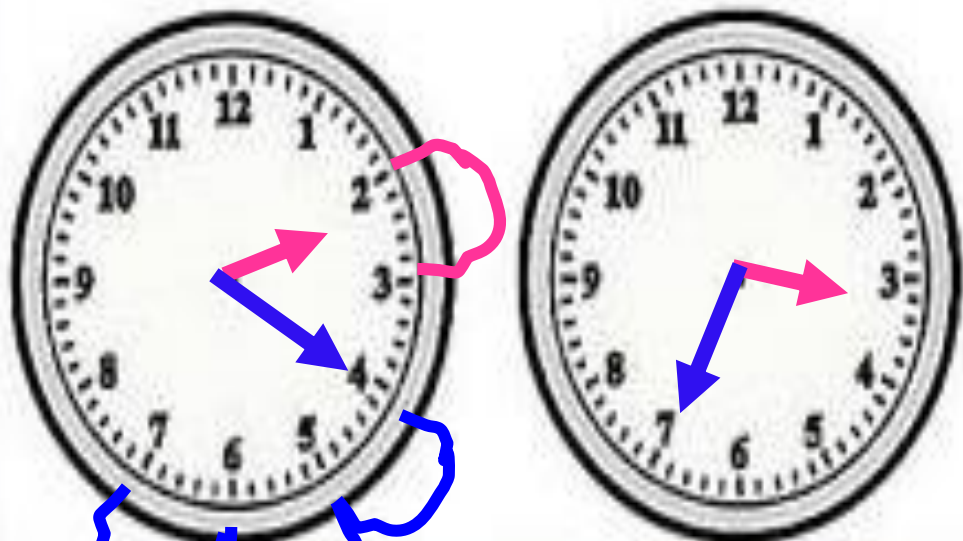


.....

۳_ فاطمه ساعت ۲:۲۰ مشغول درس خواندن شد . بعد از یک ساعت و ربع درسش تمام شد با کمک ساعت های

زیر و رسم عقربه ها نشان بده چه ساعتی درس فاطمه تمام شده است؟

۳ : ۳۵



۴_ جدول زیر را با توجه به عدد داده شده کامل کنید.

سیصد و چهار		هفتصد و هفده		چهارصد و چهل
	۲۸۷		۹۹۱	

۴_ جدول زیر را با توجه به عدد داده شده کامل کنید.

سیصد و چهار	نهصد و نود و یک	هفتصد و هفده	دویست و هشتاد و هفت	چهارصد و چهل
۳۰۴	۹۹۱	۷۱۷	۲۸۷	۴۴۰

۵- عدد های زیر را با حذف رقم خواسته شده به صورت تقریبی بنویس.


حذف رقم یکان ۴۵۶ → حذف رقم یکان و دهگان ۷۸۳ →

۵- عدد های زیر را با حذف رقم خواسته شده به صورت تقریبی بنویس.

حذف رقم یکان ^ی ۴۵۶ → ۴۵۰


حذف رقم یکان و دهگان ^{ی د} ۷۸۳ → ۷۰۰

۶- با کارت های ۹ و ۸ و ۴ عدد های سه رقمی بنویسید که رقم دهگان بیشتر از یکان و صدگان باشد ؟



۶- با کارت های ۹ و ۸ و ۴ عدد های سه رقمی بنویسید که رقم دهگان بیشتر از یکان و صدگان باشد ؟

$$۴۹۸ - ۸۹۴$$



۷- جاهای خالی را کامل کن . (با رسم جدول ارزش مکانی حل شود)

۵ دسته صدتایی و ۸ دسته ده تایی می شود

۴ دسته صدتایی و ۹ تا یکی می شود

۷- جاهای خالی را کامل کن . (با رسم جدول ارزش مکانی حل شود)

۵ دسته صدتایی و ۸ دسته ده تایی می شود
۵۸۰

صدگان	دهگان	یکان
۵	۸	۰

صدگان	دهگان	یکان
۴	۰	۹

۴ دسته صدتایی و ۹ تا یکی می شود
۴۰۹

۸- قبل و بعد عدد های زیر را بنویس.

..... ۷۶۴

..... ۳۰۷

..... ۹۸۷

..... ۴۹۹

..... دویست و نه ،

..... هشتصد ،



۸- قبل و بعد عدد های زیر را بنویس.

..... ۷۶۳ | ۷۶۴ | ۷۶۵

..... ۳۰۶ | ۳۰۷ | ۳۰۸

..... ۹۸۶ | ۹۸۷ | ۹۸۸


..... ۴۹۸ | ۴۹۹ | ۵۰۰



دویست و هشت | دویست و نه | دویست و ده

هفتصد و نود و نه | هشتصد | هشتصد و یک

۹- جدول را کامل کنید و عدد را به حروف و رقم بنویسید .



صدگان	دهگان	یکان

عدد :

حروف :

۹- جدول را کامل کنید و عدد را به حروف و رقم بنویسید .


۳۰۴

عدد :

سیصد و چهار

حروف :

صدگان	دهگان	یکان
۳	.	۴




۱۰- نوشتن عددها را طبق الگو ادامه دهید .

۱۲۵ و ۱۲۶ و ۱۲۷ و و و و و

۴۵۰ و ۴۵۵ و ۴۶۰ و و و و و

۷۸۸ و ۷۹۰ و ۷۹۲ و و و و و




۱۰- نوشتن عددها را طبق الگو ادامه دهید .

۱۲۵ و ۱۲۶ و ۱۲۷ و و و و و و
+۱ +۱ +۱ +۱ +۱ +۱ +۱

۴۵۰ و ۴۵۵ و ۴۶۰ و و و و و و
+۵ +۵ +۵ +۵ +۵ +۵ +۵

۷۸۸ و ۷۹۰ و ۷۹۲ و و و و و و
+۲ +۲ +۲ +۲ +۲ +۲ +۲



علوی

بنام خداوند جان و خرد

پایه:



مرور ریاضی

موضوع:

تاریخ

نام و نام خانوادگی

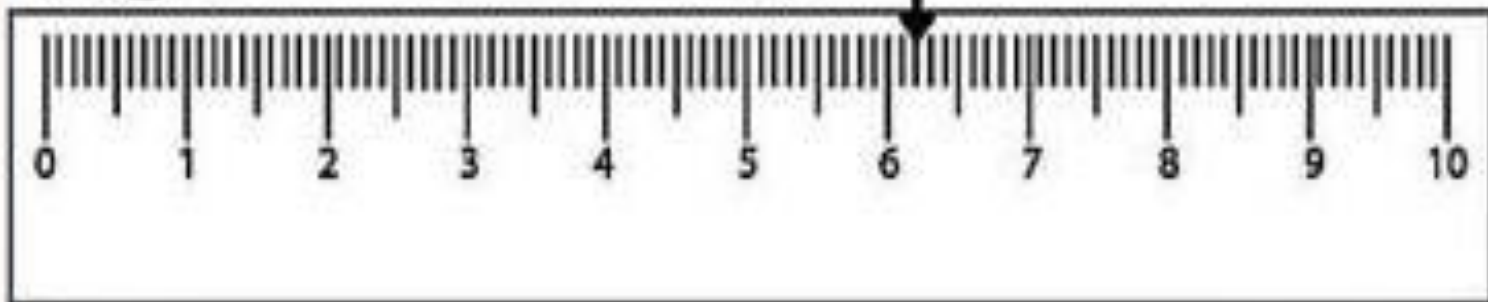

فصل ۵

هدف:

۱ - جاهای خالی را کامل کنید.

اندازه طول مداد..... سانتی متر و..... میلی متر است.

اندازه طول مداد..... میلی متر است.



علوی

بنام خداوند جان و خرد

پایه:



مرور ریاضی

موضوع:

تاریخ

نام و نام خانوادگی

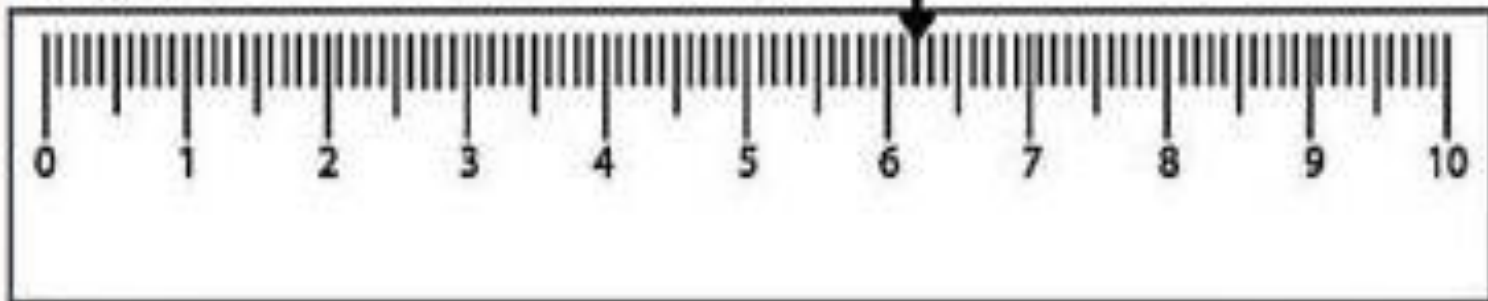

فصل ۵

هدف:

۱ - جاهای خالی را کامل کنید.

اندازه طول مداد..... سانتی متر و..... میلی متر است.

اندازه طول مداد..... میلی متر است.



۲ - ساعت چند است؟



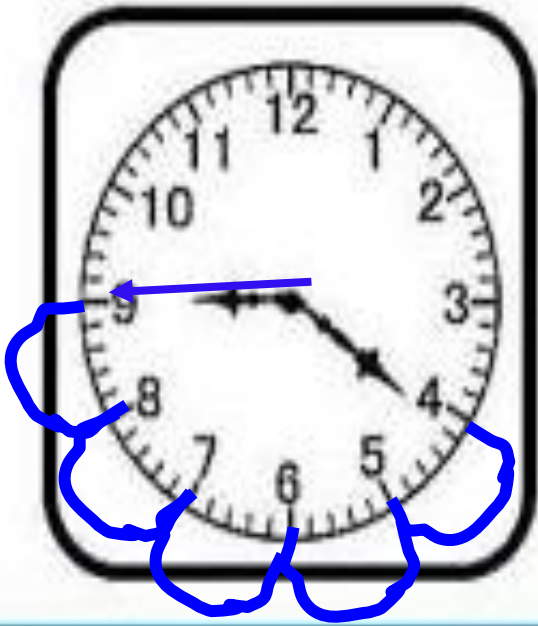
* عقربه بزرگ چند دقیقه حرکت کند تا ساعت ۹ : ۴۵ شود؟

* مقدار حرکت عقربه بزرگ را با رنگ کردن نشان دهید.

۲ - ساعت چند است؟ ۹ : ۲۰

* عقربه بزرگ چند دقیقه حرکت کند تا ساعت ۹ : ۴۵ شود؟ ۲۵ دقیقه

* مقدار حرکت عقربه بزرگ را با رنگ کردن نشان دهید.



۳- به جای مربع چه عددی می توان نوشت ؟ با روش حدس و آزمایش حل کنید.

$$\square + ۴۶ = ۸۷$$



۳- به جای مربع چه عددی می توان نوشت ؟ با روش حدس و آزمایش حل کنید.

$$\square + \underline{46} = \underline{87}$$

حدس اول : $\square 40 + 46 = 86$ ✗

حدس دوم : $\square 41 + 46 = 87$ ✓

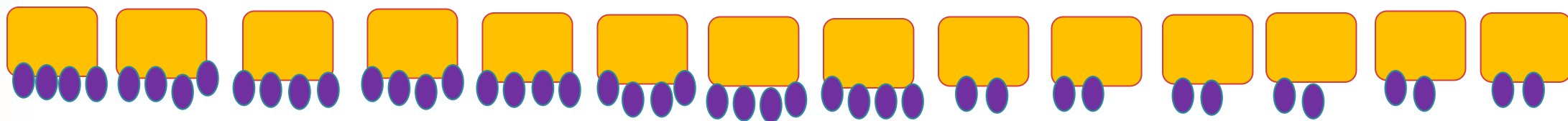
$$\begin{array}{r} 87 \\ - 46 \\ \hline 41 \end{array}$$



۴ - در یک پارکینگ روی هم ۱۴ پژو و موتور پارک شده است. اگر تعداد چرخ های آن ها روی هم ۴۴ چرخ باشد، در این پارکینگ چند پژو و چند موتور پارک شده است؟



۴- در یک پارکینگ روی هم ۱۴ پژو و موتور پارک شده است. اگر تعداد چرخ های آن ها روی هم ۴۴ چرخ باشد، در این پارکینگ چند پژو و چند موتور پارک شده است؟

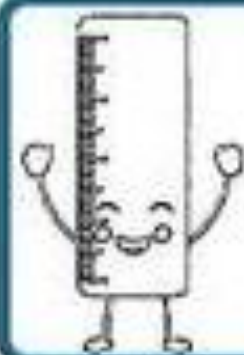


۶ موتور ۸ ماشین



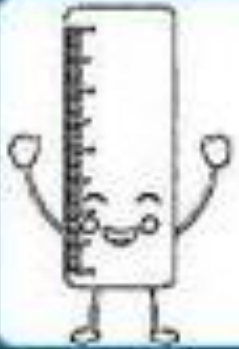
این مسئله با روش رسم شکل حل شده است.
میتوان با راهبرد حدس و آزمایش هم انجام داد.





۵ - با خط کش، خطی آبی به اندازه ۷ سانتی متر و ۳ میلی متر رسم کنید.
طول خطی که رسم کرده اید..... میلی متر است

۵ - با خط کش، خطی آبی به اندازه ۷ سانتی متر و ۳ میلی متر رسم کنید.
طول خطی که رسم کرده اید.....^{۷۳} میلی متر است



(کشیدن خط بر عهده ی دانش آموز)

۶ - نخودی ۹ سکه صدریالی، ۸ سکه ده ریالی و ۶ سکه یک ریالی دارد، حساب کنید او چند ریال دارد؟..... ریال
آیا نخودی می تواند یک مداد ۹۵۰ریالی بخرد؟



۶ - نخودی ۹ سکه صدریالی، ۸ سکه ده ریالی و ۶ سکه یک ریالی دارد، حساب کنید او چند ریال دارد؟..... ^{۹۸۶}ریال
آیا نخودی می تواند یک مداد ۹۵۰ ریالی بخرد؟ ^{بله}

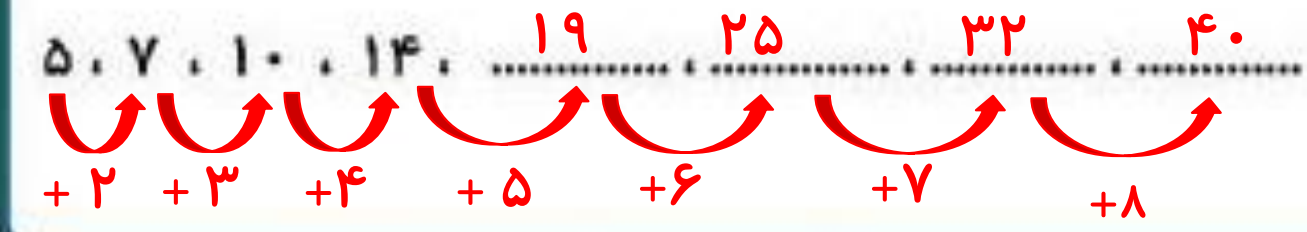
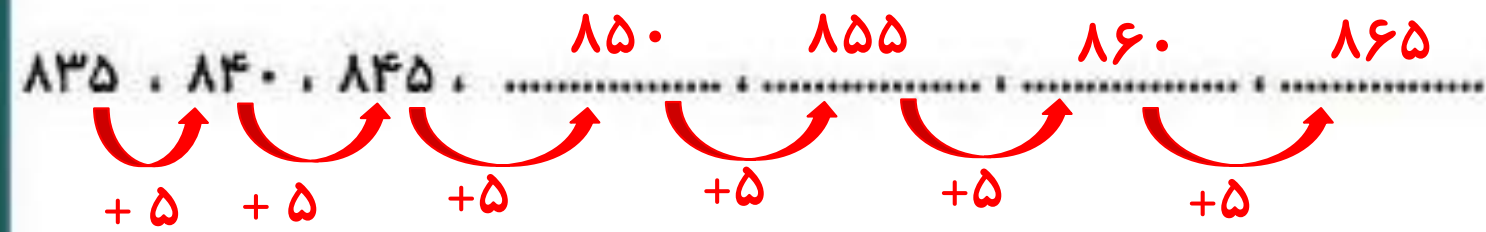


۷- الگوی عددی زیر را با نوشتن رابطه الگویی مناسب ادامه دهید.

۸۳۵ ، ۸۴۰ ، ۸۴۵ ، & & &

۵ ، ۷ ، ۱۰ ، ۱۴ ، & & &

۷- الگوی عددی زیر را با نوشتن رابطه الگویی مناسب ادامه دهید.



۸- مقایسه کنید و علامت مناسب بگذارید.

$$500 + 40 + 5 \quad \bigcirc \quad 100 + 200 + 10 + 9$$

$$7 \text{ ده تایی و } 8 \text{ یکی} \quad \bigcirc \quad 7 \text{ صد تایی و } 7 \text{ یکی}$$

$$8 \text{ سانتی متر} \quad \bigcirc \quad 8 \text{ میلی متر}$$

۸- مقایسه کنید و علامت مناسب بگذارید.

۸ سانتی متر \leftarrow ۸ میلی متر

545
 $500 + 40 + 5$ \leftarrow 319
 $100 + 200 + 10 + 9$

707
۷ صدتایی و ۷ یکی \leftarrow 78
۷ ده تایی و ۸ یکی

۹- به جای مربع چه عددی می توان نوشت ؟ با روش حدس و آزمایش حل کنید.

$$۸۲ - \square = ۲۴$$

?!?



۹- به جای مربع چه عددی می توان نوشت ؟ با روش حدس و آزمایش حل کنید.

$$\underline{۸۲} - \square = \underline{۲۴}$$

$$۸۲ + \boxed{۶۰} = ۲۲ \quad \times$$

حدس اول :

$$۸۲ + \boxed{۵۸} = ۲۴ \quad \checkmark$$

حدس اول :

$$\begin{array}{r} ۷۱۲ \\ - ۸۲ \\ \hline ۲۴ \\ ۵۸ \end{array}$$

?!



۱۰- با کارت های ۶ و ۷ و ۵ عددهای سه رقمی بنویسید به طوری که رقم دهگان بیشتر از رقم یکان و صدگان باشد.
این مسئله چند جواب دارد؟

۱۰- با کارت های ۶ و ۷ و ۵ عددهای سه رقمی بنویسید به طوری که رقم دهگان بیشتر از رقم یکان و صدگان باشد.

این مسئله چند جواب دارد؟

دو جواب

$$۶۷۵ - ۵۷۶$$



۱-سارا طول مداد قرمز و زرد خود را با خط کش اندازه گرفت.

طول مداد قرمز سارا ، ۵ سانتی متر و ۶ میلی متر است یعنی..... میلی متر

طول مداد زرد سارا ، ۸۹ میلی متر است یعنی..... سانتی متر و..... میلی متر.



۱- سارا طول مداد قرمز و زرد خود را با خط کش اندازه گرفت.

طول مداد قرمز سارا ، ۵ سانتی متر و ۶ میلی متر است یعنی.....^{۵۶} میلی متر

طول مداد زرد سارا ، ۸۹ میلی متر است یعنی.....^۸ سانتی متر و.....^۹ میلی متر.



مرور ریاضی

موضوع:


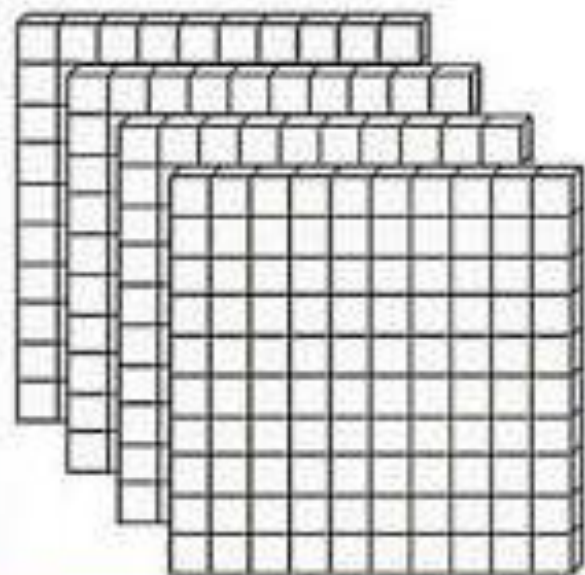
تاریخ

نام و نام خانوادگی

فصل ۶

هدف:

۱- ابتدا تا جایی که می توانید دسته های ده تایی یا صدتایی درست کنید، سپس عددی که شکل نشان می دهد را بنویسید.



صدگان	دهگان	یکان

به عدد

به حروف

مرور ریاضی

موضوع:

تاریخ


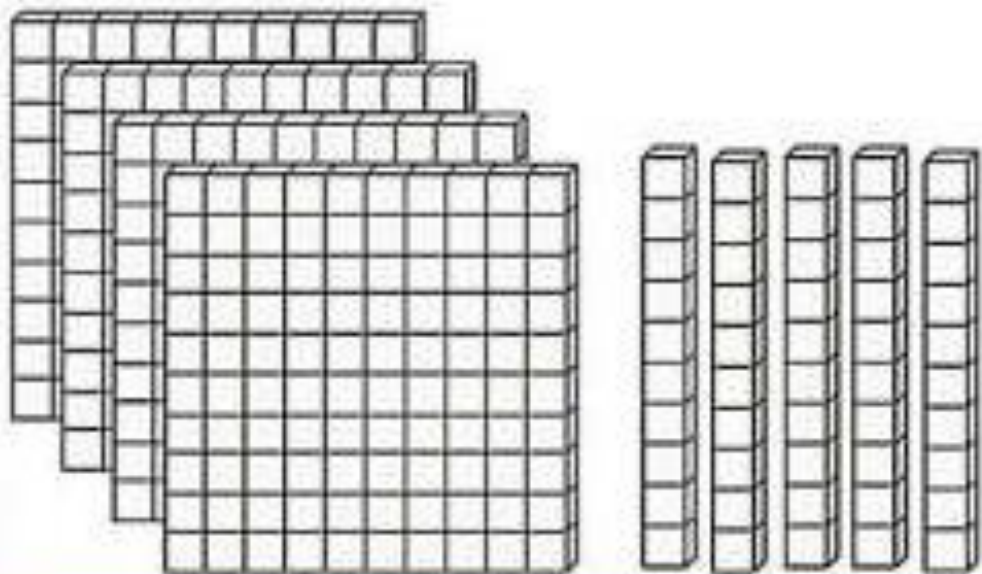
نام و نام خانوادگی

فصل ۶

هدف:

۱- ابتدا تا جایی که می توانید دسته های ده تایی یا صدتایی درست کنید، سپس عددی که شکل نشان می دهد را بنویسید.

صدگان	دهگان	یکان
۴	۶	۳



۴۶۳

به عدد


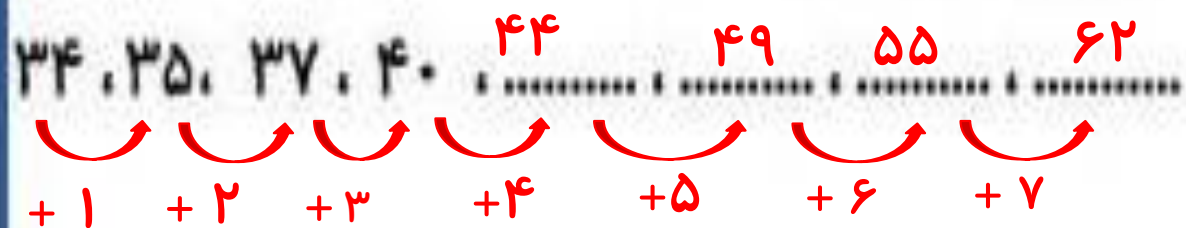
به حروف چهارصد و شصت و سه

۲- فرزندان الگوهای عددی زیر را ادامه بده، (نوشتن رابطه الگویی فراموش نشود)

۳۴، ۳۵، ۳۷، ۴۰

۲۸۷، ۲۹۷

۲- فرزندان الگوهای عددی زیر را ادامه بده. (نوشتن رابطه الگویی فراموش نشود)



۳- یگانه ۸ سکه صد ریالی و ۴ سکه ده ریالی و ۶ سکه یک ریالی دارد. اگر او یک دفترچه به قیمت ۴۹۸ ریال بخرد، چند ریال برایش باقی می ماند؟



۳- یگانه ۸ سکه صد ریالی و ۴ سکه ده ریالی و ۶ سکه یک ریالی دارد. اگر او یک دفترچه به قیمت ۴۹۸ ریال بخرد. چند ریال برایش باقی می ماند؟ **۳۴۸ ریال برایش باقی می ماند.**

$$\begin{array}{r} 716 \\ - 498 \\ \hline 218 \end{array}$$



۴- عزیز دلم قبل و بعد عدد های زیر را بنویس.

..... ۴۹۹

..... ۳۰۷

..... هشتصد

..... دویست و نه

۴- عزیز دلم قبل و بعد عدد های زیر را بنویس.

۳۰۸ ، ۳۰۷ ، ۳۰۶

..... ، ،

دویست و هشت ، دویست و نه ، دویست و ده

..... ، ،

۵۰۰ ، ۴۹۹ ، ۴۹۸

..... ، ،

هفتصد و نود و نه ، هشتصد ، هشتصد و یک

..... ، ،


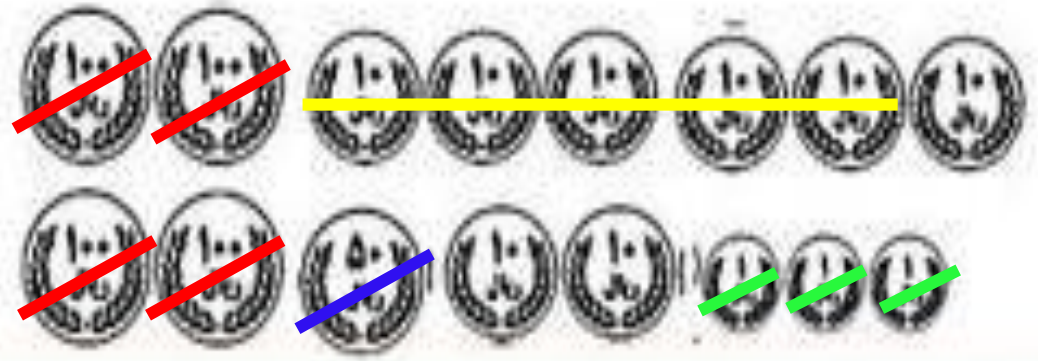
۵- دلبندم ابتدا قسمت های مساوی را حذف کن، سپس مقایسه کرده و علامت مناسب بگذار.

$$300 + 30 + 300 + 200 + 50 + 7 + 10 \quad \bigcirc \quad 300 + 20 + 30 + 8 + 40 + 200$$



۵- دلبندم ابتدا قسمت های مساوی را حذف کن، سپس مقایسه کرده و علامت مناسب بگذار.

$$300 + 30 + 300 + 200 + 50 + 7 + 10 \quad \left(\right. \quad 300 + 20 + 30 + 8 + 40 + 200$$



۶ - ستاره تابانم در هر ستون حاصل جمع و تفریق های زیر را به روش خواسته شده به دست آورید .

$$\begin{array}{r} 465 \\ + 237 \\ \hline \end{array}$$

فرایندی

$$\begin{array}{r} 800 \\ - 367 \\ \hline \end{array}$$

انتقالی

$$\begin{array}{r} 675 \\ - 243 \\ \hline \end{array}$$

فرایندی

$$\begin{array}{r} 579 \\ + 239 \\ \hline \end{array}$$

تکنیکی

۶ - ستاره تابانم در هر ستون حاصل جمع و تفریق های زیر را به روش خواسته شده به دست آورید .

$$\begin{array}{r} 11 \\ 465 \\ + 237 \\ \hline 702 \end{array}$$

فرایندی

$$\begin{array}{r} 9 \\ 71010 \\ \cancel{82} \\ - 367 \\ \hline 433 \end{array}$$

انتقالی

$$\begin{array}{r} 675 \\ - 243 \\ \hline 432 \end{array}$$

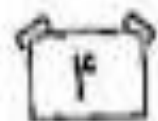
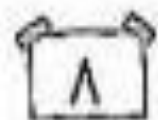
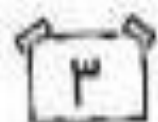
فرایندی

$$\begin{array}{r} 11 \\ 579 \\ + 239 \\ \hline 818 \end{array}$$

تکنیکی

۷- با کارت های (۳ و ۸ و ۴) همه ی عددهای سه رقمی که رقم یکان آن بیشتر از رقم صدگانش باشد را بنویسید .

این مسئله چند جواب دارد ؟



۷- با کارت های (۳ و ۸ و ۴) همه ی عددهای سه رقمی که رقم یکان آن بیشتر از رقم صدگانش باشد را بنویسید .

این مسئله چند جواب دارد ؟ **۳ جواب**

$$۳۸۴ - ۳۴۸ - ۴۳۸$$



۸ - عزیزم جاهای خالی را کامل کن .

مداد آبی مهدی ۳۴ میلی متر است یعنی سانتی متر و میلی متر .

مداد زرد او ۵ سانتی متر و ۶ میلی متر است یعنی میلی متر .

مداد سبز ۱۲ سانتی متر است یعنی میلی متر .



۸ - عزیزم جاهای خالی را کامل کن .

مداد آبی مهدی ۳۴ میلی متر است یعنی^۳ سانتی متر و^۴ میلی متر .

مداد زرد او ۵ سانتی متر و ۶ میلی متر است یعنی^{۵۶} میلی متر .


مداد سبز ۱۲ سانتی متر است یعنی^{۱۲۰} میلی متر .



۹- اگر اکنون ساعت ۲:۳۰ باشد .

یک ربع بعد ساعت چند است ؟

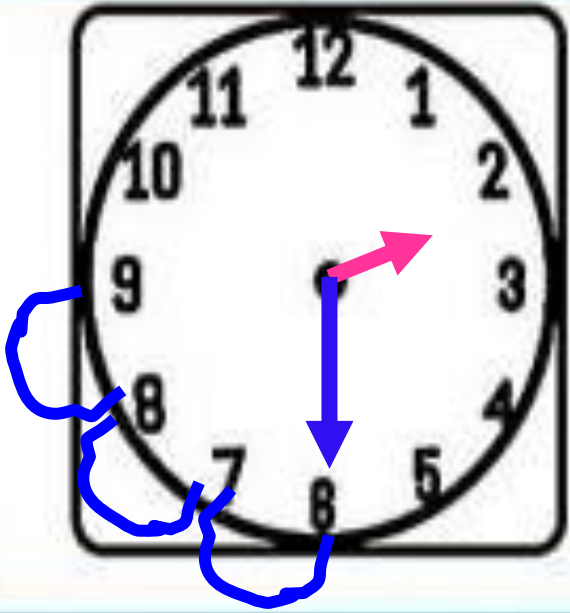
با رسم عقربه ها روی صفحه ساعت نشان بده .



۹- اگر اکنون ساعت ۲:۳۰ باشد .

یک ربع بعد ساعت چند است ؟ **۲:۴۵**

با رسم عقربه ها روی صفحه ساعت نشان بده .



۱۰- اگر تعداد دانش آموزان دبستان ادب ۲۳۴ نفر و دانش آموزان دبستان آزادی ۵۶۷ نفر باشد، این دو مدرسه

روی هم چند دانش آموز دارند؟.....

تعداد دانش آموزان دبستان آزادی چند نفر بیشتر از دانش آموزان دبستان ادب است؟.....



۱۰- اگر تعداد دانش آموزان دبستان ادب ۲۳۴ نفر و دانش آموزان دبستان آزادی ۵۶۷ نفر باشد، این دو مدرسه روی هم چند دانش آموز دارند؟..... **۸۰۱ نفر**

تعداد دانش آموزان دبستان آزادی چند نفر بیشتر از دانش آموزان دبستان ادب است؟..... **۳۳۳ نفر**



$$\begin{array}{r} \textcircled{1} \textcircled{1} \\ 567 \\ + 234 \\ \hline 801 \end{array}$$

$$\begin{array}{r} 567 \\ - 234 \\ \hline 333 \end{array}$$

با آرزوی موفقیت برای گل های شاداب کلاس فضانوردان
آموزگار : احمدی

