

۱

مرور درس ۱۳ تا ۱۵ فارسی

مرور فصل ۷ ریاضی

به نام خدای
بزرگ های رنگی

مرور درس

نام زیبای من :

تاریخ :

۱- با کلمه‌های زیر، جمله بنویس.

هرسال:

صلح:

نوروز:

۲- هم معنی کلمات زیر را بنویس.

.....	نسیم:	قدیمی:	بایمان:	فراوان:
.....	آماده:	نوروز:	کهنه:	جشن:

۳- مخالف کلمات زیر را بنویس

صلح ≠	سربلندی ≠
نخستین ≠	قشنگ ≠

۴- چهار کلمه بنویس که با «ان» یا «ها» جمع بسته شود.

مادران:

کوه‌ها:

۵- به کلمه‌های زیر «تر» و «ترین» اضافه کن و سپس یا یکی از کلمه‌هایی که ساختی، جمله بساز.

شیرین:

پایین:

۶- مانند نمونه به کلمه‌های زیر «گاه» اضافه کن سپس معنی آن را بنویس. ورزش + گاه: ورزشگاه

کار + :

آموزش + :

۷- کامل کن.

به کسی که اهل یزد است، می گوییم.

به لباسی که از جنس پشم باشد، می گوییم

خراسانی، یعنی

سنگی یعنی.....

۸- جاهای خالی را با یکی از کلمه های داخا کمانک کامل کن.

(الف) تو در مدرسه (هستم - هستی) (ب) او داستان (می خوانیم - می خواند)

(ج) آن ها به زیارت (رفتید - رفتند) (د) ما ورزش (کردیم - کردید)

۹- کلمه های زیر را مانند نمونه، با «ان» جمع ببند. تشنه + ان : تشنگان

خفته + ان:

گرسنه + «ان» :

بنده + «ان» :

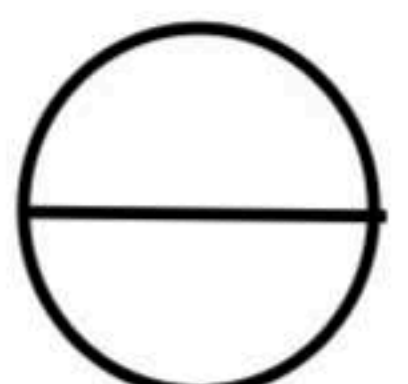

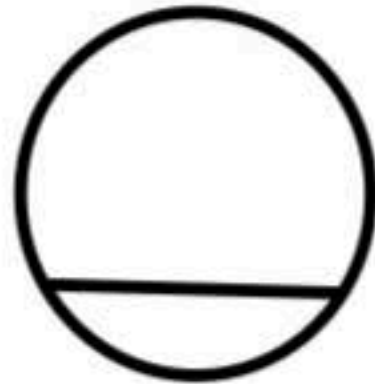
پرنده + «ان» :

۱۰- با واژه ی «کار» دو کلمه ی جدید بساز و بنویس. مثال درست کار

.....

.....

۱- کدام یک از شکل های زیر به قسمت های مساوی تقسیم نشده است: علامت بزن



۲- با توجه به پرچم جمهوری اسلامی ایران، جمله ها را کامل کن.

..... قسمت از قسمت مساوی پرچم، سبز است.

..... قسمت از قسمت مساوی پرچم، سفید است.

..... قسمت از قسمت مساوی پرچم، قرمز است.

۳- مهدی یک سیب را به ۶ قسمت مساوی تقسیم کرد و ۴ قسمت از آن را خورد. حالا جای خالی را

کامل کن.

..... قسمت از قسمت مساوی سیب خورده شده است.

۴- به اندازه‌ی کسر نوشته شده، از شکل‌ها رنگ کن.



۲ قسمت از ۴ قسمت مساوی



۴ قسمت از ۶ قسمت مساوی

۵- قد علی ۱۵۳ سانتی متر و خواهرش ۲۸ سانتی متر بلندتر است، قد آن‌ها روی هم چند سانتی متر است؟

۶- در یک کیسه ۵ مهره قرمز و ۳ مهره آبی و ۶ مهره سفید است.

(الف) _____ مهره از _____ مهره قرمز است.

(ب) _____ مهره از _____ مهره آبی است.

(پ) _____ مهره از _____ مهره سفید است.

۷- شکل‌های زیر را به دو روش دسته بندی کنید.



_____ تا دسته _____ تایی می شود _____



_____ تا دسته _____ تایی می شود _____



_____ تا دسته _____ تایی می شود _____



_____ تا دسته _____ تایی می شود _____



مرور درس

نام زیبای من :

تاریخ :

به نام فدای
برگ های رنگی

مرور درس ۱۶ و ۱۷ فارسی
مرور فصل ۸ ریاضی

۱- هم معنی کلمات زیر را بنویسید.

اطراف :	ناگهان :	وسط :
پراکنده :	مراقبت :	صبر :

۲- مخالف کلمه های زیر را بنویسید.

شدید ≠	نشسته ≠
تشنه ≠	آسیب ≠

۳- جاهای خالی را کامل کنید.

ناشنوا یعنی _____

نامناسب یعنی _____

چیزی که درست نباشد _____ است.

۴- جاهای خالی را با کلمه مناسب پر کنید.

هاپ هاپ - جیک جیک - شر شر - قارقار

از صدای _____ فهمیدم که به ابشار نزدیک شدم.

جوجه کوچولو مادرش را دید و _____ کرد.

یک دسته کلاغ _____ کنان رد شدند.

سگ به دور گله گوسفندان _____ کنان می دوید.

۱- گل های مورد علاقه دانش آموزان یک مدرسه در جدول مشخص شده ابتدا عدد هارا تقریبی بنویسید . (هر ۱۰ دانش آموز را با ■ نشان دهید)

نام گل	رز	نرگس	لاله	اُرکیده	شب بو
تعداد	۱۹	۳۴	۴۹	۶۷	۲۸
تعداد تقریبی					



۲- دور عدد های زوج خط بکشید.

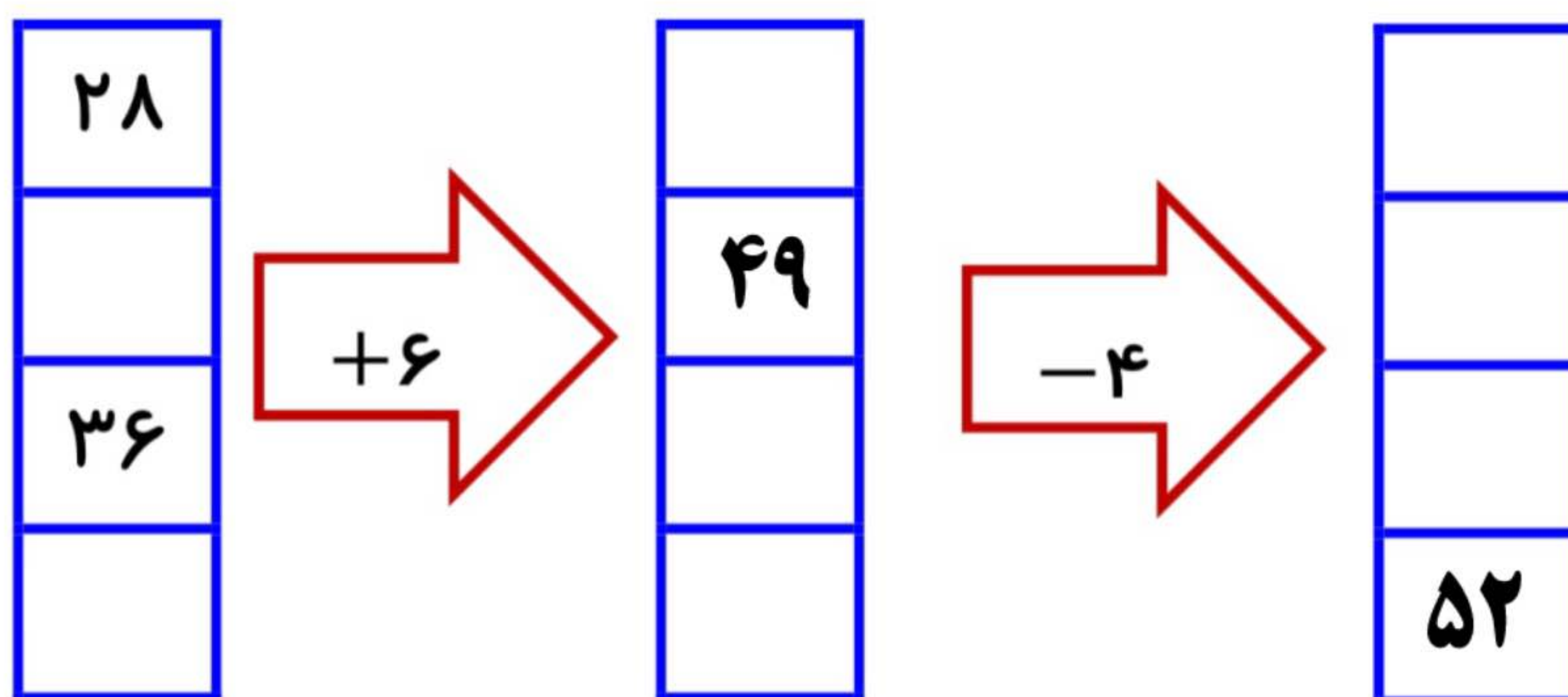
۴۵ - ۶۷۰ - ۲۱۴ - ۸۰۹ - ۱۵۶ - ۴۳ - ۴۶۸

۳- الگوها را ادامه دهید.

۴۹۳ ، ۴۹۵ ، ۴۹۷ ، _____ ، _____ ، _____ ، _____

۶۴۲ ، ۶۴۴ ، ۶۴۶ ، _____ ، _____ ، _____ ، _____

۴- ماشین ورودی و خروجی را کامل کنید.



مرور علوم

۱- جاهای خالی را کامل کنید.

الف) برای حفظ محیط زیست باید زباله ها را _____ کنیم.

ب) برای شستن ظرف چرب از _____ و _____ استفاده کنیم.

پ) گندم را در _____ آرد می کنند.

ت) برای پخت نان از تنور _____ و _____ استفاده می کنیم.

ج) _____ روی مواد اثر می گذارد.

۲- دو خوراکی نام ببرید که باید در جای سرد نگه داری شوند.

۳- مراحل پخت نان را بنویسید.

۴- انواع آسیاب را نام ببرید.

۵- چرا تنور مگانیزه از تنور سنتی بهتر است؟ (۲ مورد)